

Die  
**Elementar-Planimetrie.**

---

Ein methodisches Lehrbuch

für den

**Schul- und Selbstunterricht**

von

**S. Müller,**  
Kgl. Gymnasiallehrer.



Springer-Verlag Berlin Heidelberg GmbH 1891

== Preis M. 2.40. ==

Die  
**Elementar-Planimetrie.**

---

Ein methodisches Lehrbuch

für den

**Schul- und Selbstunterricht**

von

**S. Müller,**  
Kgl. Gymnasiallehrer.



Springer-Verlag Berlin Heidelberg GmbH 1891

ISBN 978-3-662-32426-4  
DOI 10.1007/978-3-662-33253-5

ISBN 978-3-662-33253-5 (eBook)

## **Vorbemerkung über die Einteilung des Buches.**

---

Der einleitende Abschnitt verfolgt den Zweck, die Anschauungsthätigkeit des Schülers anzuregen und ihn mit den Grundformen der geometrischen Gebilde bekannt zu machen. Weiter reicht sein Zusammenhang mit dem in Kapitel 4 beginnenden Unterrichtsstoff nicht, und daher kann er, wo es nötig zu sein scheint, übergangen werden. In dem für Quarta und Untertertia berechneten Teile sind die Beweise anfangs den Entwicklungen noch zum Teil hinzugefügt, damit der Anfänger auch mit der dogmatischen Beweisform bekannt wird. Nach jedem wichtigen neuen Gesichtspunkte stehen Übungen und Aufgaben zu seiner Bewertung. Diese Anordnung des Stoffes entspricht genau dem Verfahren, das naturgemäß in der Unterrichtsstunde eingeschlagen wird. Um aber die Wiederholung größerer Abschnitte im Zusammenhang zu erleichtern, ist sowohl für die Übungsbeispiele als auch für die Aufgaben ein kleinerer Druck gewählt worden.

Ein ausführliches Vorwort zu dem Buche ist abgefordert von demselben erschienen und wird auf Verlangen von der Verlags-handlung unentgeltlich übersandt werden.

Möge sich das Buch in der Hand der Schüler bewähren und sich dadurch recht viele Freunde erwerben.

Charlottenburg, im September 1890.  
(Kaiserin-Augusta-Gymnasium).

**Der Verfasser.**

---

# Inhalts-Übersicht.

## Abchnitt I.

### Einleitung. Die Entwicklung der Grundbegriffe.

	Seite
<b>Kapitel 1. Körper, Fläche, Linie, Punkt.</b> . . . . .	1
a) Ableitung derselben. . . . .	1
b) Entwicklung. . . . .	2
Nr. 1. Die Entstehung der Linie . . . . .	2
" 2. Die Entstehung der Fläche . . . . .	3
" 3. Die Entstehung des Körpers . . . . .	3
" 4. Weitere Grundgebilde sind nicht vorhanden . . . . .	3
<b>Kapitel 2. Die gerade Linie.</b> . . . . .	3
" 5. Drehung um einen Punkt. Kugel-Fläche . . . . .	4
" 6. Drehung um zwei feste Punkte. Kreislinie. . . . .	4
" 7. Drehung um zwei feste Punkte. Gerade Linie . . . . .	5
" 8. Erste Sätze über die gerade Linie . . . . .	5
" 9. Zwei sich schneidende Geraden . . . . .	6
" 10. Eine Drehung um drei beliebige Punkte ist unmöglich . . . . .	6
" 11. $n$ Punkte und $n$ Geraden . . . . .	6
" 12. Strahl und Strecke. . . . .	7
<b>Kapitel 3. Die Ebene</b> . . . . .	7
" 13. Die Entstehung des Kegels. . . . .	8
" 14. Die Entstehung der Ebene . . . . .	8
<b>Kapitel 4. Grundformen der ebenen Gebilde</b> . . . . .	10
" 15. Messung von Strecken. . . . .	10
" 16. Addition und Subtraktion von Strecken . . . . .	10
" 17. Der Kreis als ebenes Gebilde. . . . .	11
" 18. Aufgaben . . . . .	12
" 19. Kreismessung. . . . .	13
" 20. Entstehung des Winkels. Winkelmessung . . . . .	14
" 21. Besondere Winkelformen . . . . .	15
" 22. Addition und Subtraktion von Winkeln . . . . .	17
" 23. Aufgaben . . . . .	17

# Erster Teil. Von der Gleichheit der Größen.

## Abchnitt II. Die Lehre von den Winkeln.

	Seite
	<b>Kapitel 5. Allgemeine Winkelsätze.</b> . . . . . 19
Nr. 24.	Beweisformen und Grundsätze . . . . . 19
„ 25.	Neben- und Scheitelwinkel . . . . . 20
„ 26.	Übungsbeispiele zu Lehrsatz I und II . . . . . 22
„ 27.	Winkel zweier Geradenpaare . . . . . 23
„ 28.	Aufgaben . . . . . 25
	<b>Kapitel 6. Winkel bei Parallelen.</b> . . . . . 25
„ 29.	Bezeichnungen und Lehrsätze . . . . . 25
„ 30.	Übungsbeispiele und Aufgaben . . . . . 30
	<b>Kapitel 7. Winkel des Dreiecks und Vielecks.</b> . . . . . 32
„ 31.	Bezeichnungen . . . . . 32
„ 32.	Dreieckswinkel und Außenwinkel . . . . . 34
„ 33.	Aufgaben . . . . . 37
„ 34.	Winkel und Außenwinkel des $n$ -Ecks. . . . . 38

## Abchnitt III. Seiten und Winkel.

	<b>Kapitel 8. Die Kongruenz der Dreiecke. Kongruenz-</b> <b>satz I und II</b> . . . . . 40
„ 35.	Ableitung der Kongruenzsätze . . . . . 40
„ 36.	Beweis des Kz. I und Kz. II . . . . . 42
„ 37.	Übungsbeispiele zu Kz. I und Kz. II . . . . . 44
	<b>Kapitel 9. Das gleichschenklige Dreieck</b> . . . . . 47
„ 38.	Lehrsatz über das gleichschenklige Dreieck . . . . . 47
„ 39.	Übungsbeispiele zu Lehrsatz IX . . . . . 51
„ 40.	Zwei gleichschenklige Dreiecke (Drachensatz) . . . . . 53
„ 41.	Aufgaben . . . . . 54
	<b>Kapitel 10. Die Kongruenzsätze III und IV.</b> . . . . . 55
„ 42.	Beweis zu Kz. III und Kz. IV . . . . . 55
„ 43.	Übungsbeispiele zu Kz. III und Kz. IV . . . . . 56
„ 44.	Übungsbeispiele zu Kz. I bis Kz. IV . . . . . 60
„ 45.	Aufgaben . . . . . 61
	<b>Kapitel 11. Besondere Punkte im Dreieck und Viereck</b> 64
„ 46.	Der Schnittpunkt der Mittellote und Winkelhalbierungslinien . 64
„ 47.	Der Schnittpunkt der Mittellinien und Höhen . . . . . 68
	<b>Kapitel 12. Nicht-kongruente Dreiecke</b> . . . . . 69
„ 48.	Ableitung und Beweis der Sätze über nicht-kongruente Dreiecke 69
„ 49.	Besondere Fälle und Übungsbeispiele . . . . . 71
	<b>Kapitel 13. Das Parallelogramm und das Trapez</b> . 73
„ 50.	Sätze über Parallelogramme . . . . . 73
	a) Sätze über das allgemeine Parallelogramm . . . . . 73
	b) Sätze über besondere Parallelogrammformen . . . . . 74
„ 51.	Weitere Sätze und Übungsbeispiele . . . . . 75

## VI

	Seite
a) Der Mittelpunkt eines Parallelogramms . . . . .	75
b) Kongruente Parallelogramme . . . . .	75
c) Die Winkelhalbierungslinien eines Parallelogramms . . . . .	76
d) Die Mitten der Seiten in Dreiecken und Vierecken . . . . .	76
e) Sätze über das gleichschenklige und gleichseitige Dreieck . . . . .	77
Nr. 52. Aufgaben . . . . .	78
„ 53. Sätze und Aufgaben über das Trapez . . . . .	79
a) Die Mittellinie des Trapezes . . . . .	79
b) Die Verbindungslinie der Diagonalenmitten . . . . .	80
c) Das gleichschenklige Trapez . . . . .	81
d) Aufgaben . . . . .	81
<b>Kapitel 14. Der Kreis . . . . .</b>	<b>81</b>
„ 54. Bogen, Mittelpunktswinkel und Sehnen . . . . .	81
„ 55. Die Sehne und ihr Abstand vom Mittelpunkte . . . . .	83
„ 56. Mittelpunktswinkel und Umfangswinkel . . . . .	84
„ 57. Sekante und Tangente . . . . .	88
a) Sätze über die Tangente . . . . .	88
b) Der Sehnen-Tangentenwinkel . . . . .	89
c) Zwei von einem Punkte ausgehende Tangenten . . . . .	90
„ 58. Übungsbeispiele und Aufgaben . . . . .	91
„ 59. Das ein- und umgeschriebene Dreieck und Viereck . . . . .	92
„ 60. Übungsbeispiele und Aufgaben . . . . .	93
„ 61. Das regelmäßige Vieleck . . . . .	94
„ 62. Zwei Kreise . . . . .	98
a) Die Mittelpunktslinie . . . . .	98
b) Die gemeinschaftlichen Tangenten . . . . .	99
„ 63. Übungsbeispiele und Aufgaben . . . . .	101
a) Sätze über gemeinschaftliche Tangenten . . . . .	101
b) Sätze über Doppelsehnen . . . . .	101
c) Aufgaben . . . . .	102

### Abchnitt IV. Inhaltslehre.

<b>Kapitel 15. Der Inhalt der Figuren . . . . .</b>	<b>104</b>
„ 64. Begriff des Inhalts. Inhaltsmessung . . . . .	104
„ 65. Der Inhalt des Rechtecks und Quadrats . . . . .	105
„ 66. Vergleichung nicht-kongruenter Figuren. Bestimmung des Inhalts dieser Figuren . . . . .	107
a) Der Inhalt des Parallelogramms . . . . .	107
b) Der Inhalt des Dreiecks . . . . .	108
c) Der Inhalt des Trapezes . . . . .	109
„ 67. Vergleichung von Parallelogrammen, die weder gleiche Grundlinien noch gleiche Höhe besitzen . . . . .	110
a) Erster Fall. Satz über Ergänzungsparallelogramme . . . . .	110
b) Zweiter Fall. Projektionensatz . . . . .	110
„ 68. Übungsbeispiele . . . . .	112
„ 69. Aufgaben (Verwandlungs-Aufgaben) . . . . .	115
„ 70. Berechnungen . . . . .	117

		Seite
	<b>Kapitel 16. Der Pythagoreische Lehrsatz . . . . .</b>	117
Nr. 71.	Ableitung und Beweis desselben . . . . .	117
„ 72.	Übungsbeispiele . . . . .	121
„ 73.	Aufgaben . . . . .	122
„ 74.	Berechnungen . . . . .	124

## Zweiter Teil. Die Proportionalität der Größen.

### Abschnitt V. Die Proportionalität der Strecken.

	<b>Kapitel 17. Einleitende Sätze über Verhältnisse . . . . .</b>	127
„ 75.	Das Verhältnis zweier Strecken . . . . .	127
„ 76.	Proportionen zwischen und Teilung von Strecken . . . . .	128
	a) Proportionen . . . . .	128
	b) Teilung von Strecken . . . . .	129
	<b>Kapitel 18. Proportionale Strecken bei geradlinigen Figuren . . . . .</b>	130
„ 77.	Proportionale Abschnitte auf zwei Geraden . . . . .	130
„ 78.	Übungsbeispiele . . . . .	133
	a) Bei einem Dreieck . . . . .	133
	b) Bei einem Trapez . . . . .	134
	c) Aufgaben . . . . .	135
„ 79.	Proportionale Abschnitte auf mehreren Geraden . . . . .	136
	a) Ein beliebiges Strahlenbüschel . . . . .	136
	b) Ein harmonisches Strahlenbüschel . . . . .	137
	c) Drei sich gegenseitig schneidende Geraden . . . . .	139
„ 80.	Aufgaben . . . . .	141
	<b>Kapitel 19. Die Ähnlichkeit der Figuren . . . . .</b>	143
„ 81.	Die 4 Ähnlichkeitsätze . . . . .	143
„ 82.	Übungsbeispiele und Aufgaben . . . . .	146
	a) Sätze über ähnliche Dreiecke . . . . .	146
	b) Aufgaben . . . . .	147
„ 83.	Anwendungen auf das rechtwinklige Dreieck . . . . .	148
„ 84.	Anwendungen auf ähnliche Vielecke . . . . .	149
	<b>Kapitel 20. Proportionale Linien beim Kreise. . . . .</b>	151
„ 85.	Linien und Punkte bei einem Kreise . . . . .	151
„ 86.	Übungsbeispiele . . . . .	153
	a) Sehnenviereck und eingeschriebene Dreiecke. . . . .	153
	b) Drei Tangenten . . . . .	154
	c) Das regelmäßige 10-Eck . . . . .	155
	d) Harmonische Teilungen, Pol und Polare . . . . .	155
„ 87.	Linien und Punkte bei mehreren Kreisen. . . . .	158
	a) Die Potenzlinie zweier Kreise . . . . .	158
	b) Der Potenzmittelpunkt dreier Kreise . . . . .	159
	c) Die Ähnlichkeitspunkte zweier Kreise . . . . .	160
	d) Inverse Punkte. Berührung zweier Kreise . . . . .	161
	e) Die Ähnlichkeitsachsen dreier Kreise . . . . .	164
„ 88.	Die Apollonius'schen Berührungsaufgaben . . . . .	166



## VIII

### Abchnitt VI. Proportionale Flächen.

	Seite
Nr. 89. Proportionen zwischen Flächen und Strecken . . . . .	170
„ 90. Proportionale Flächen . . . . .	172
„ 91. Übungsbeispiele . . . . .	173
„ 92. Aufgaben . . . . .	174
a) Verwandlungsaufgaben . . . . .	174
b) Teilung von Strecken . . . . .	176
c) Teilung von Flächen . . . . .	177

### Abchnitt VII. Kreisberechnung.

„ 93. Berechnung eines Kreisbogens . . . . .	180
„ 94. Kreisabschnitt und Kreisabschnitt . . . . .	180
„ 95. Berechnung der Seiten der regelmäßigen Vielecke . . . . .	181
„ 96. Berechnung der Zahl $\pi$ . . . . .	184
Anhang I. Zusammenstellung der Winkel . . . . .	185
Anhang II. Anleitung zur Auflösung der Konstruktionsaufgaben . . . . .	186

---

# Einleitung.

## I. Abschnitt.

### Die Entwicklung der Grundbegriffe.

#### 1. Kapitel.

#### Körper, Fläche, Linie, Punkt.

##### a) Ableitung.

Bei der Betrachtung irgend eines Gegenstandes unterscheidet man zwischen dem Stoff, aus dem derselbe hergestellt ist, und seiner Form. Das erste Merkmal der Form besteht darin, daß sie einen gewissen Raum umschließt, der nicht gleichzeitig von einem zweiten Dinge ganz oder auch nur zum Teil eingenommen werden kann; es sind deshalb alle Gegenstände räumliche Gebilde. Wird nun die Wissenschaft, welche sich mit denselben beschäftigt, Geometrie genannt, so folgt hieraus die

Erklärung: Die Geometrie ist die Lehre von den räumlichen Gebilden; sie berücksichtigt den Stoff nicht, der die Gebilde erfüllt.

Soll aber der Raum von einem bestimmten Gegenstande (Körper) eingenommen werden, so darf er sich nach keiner Seite hin beliebig weit ausdehnen; der Körper erlangt vielmehr nur dadurch die ihm eigentümliche Gestalt, daß er von allen Seiten begrenzt ist. Dies führt zu der weiteren

Erklärung: Ein geometrischer Körper ist ein allseitig begrenzter Teil des Raumes.

Erklärung: Die Begrenzungen von Körpern werden Flächen genannt.

Ein Körper kann nun von einer einzigen Fläche (Gummiball!) begrenzt sein; es läßt sich dann nicht sagen, wo die Fläche anfängt, oder wo sie aufhört. Bei den meisten Körpern aber lassen sich mehrere Begrenzungsflächen unterscheiden, die sich gegenseitig hindern, sich beliebig weit auszudehnen. Wird die gemeinschaftliche Grenze je zweier dieser Flächen Linie genannt, so ergibt sich die

Erklärung: Die Begrenzungen von Flächen heißen Linien.

Wird eine Fläche durch eine einzige Linie begrenzt (kreisförmige Scheibe!), so läßt sich eine bestimmte Stelle nicht angeben, wo die Linie anfängt und wo sie aufhört; sind dagegen mehrere Begrenzungslinien vorhanden, so hindern dieselben einander, sich beliebig weit auszudehnen, und bestimmen für jede von ihnen zwei Orte, die ihrer Ausdehnung ein Ziel setzen. Diese Orte sollen Punkte genannt und eingeführt werden durch die

Erklärung: Die Begrenzungen von Linien heißen Punkte.

Anmerkung: Ein Punkt wird durch einen Buchstaben des großen lateinischen Alphabets bezeichnet.

Für den Punkt kann eine Begrenzung nicht mehr angegeben werden, weil er keine wahrnehmbare Größe, keine mit einer noch so kleinen Maßeinheit durch eine Maßzahl ausdrückbare Ausdehnung (Dimension) besitzt. Der Punkt ist daher ein Teil des Raumes von unendlich kleiner Größe.\*) Bei der Linie sieht das Auge eine gewisse Größe oder Ausdehnung, die Länge; ebenso zeigt die unmittelbare Anschauung, daß die Fläche zwei Ausdehnungen, Länge und Breite, und daß der geometrische Körper drei Ausdehnungen, Länge, Breite und Dicke (Höhe), besitzt. Es erweist sich also

der Körper als Gebilde von 3 Ausdehnungen,	
die Fläche " " " 2	
die Linie " " " 1 Ausdehnung,	
der Punkt " " " keiner angebbaren Ausdehnung.	

Ferner entsteht hiernach durch Verschwinden  
 der 3. Ausdehnung (Dicke) aus dem Körper die Fläche,  
 der 2. " (Breite) aus der Fläche die Linie,  
 der letzten " (Länge) aus der Linie der Punkt.

## b) Entwicklung.

Ein weiterer Einblick in den Zusammenhang der vier räumlichen Gebilde wird gewonnen, wenn man die einfachste Raumform, den Punkt, als das ursprünglich gegebene Element ansieht und aus demselben die anderen Formen entwickelt.

### I. Die Entstehung der Linie.

Wird ein Punkt in Bewegung versetzt und gelangt er auf irgend einem Wege von einem Orte A des Raumes zu einem anderen Orte B, so ist der Weg, den er bei dieser Wanderung zurücklegt, eine ununterbrochene (stetige) Folge von Punkten. Bezeichnet man diese stetige Folge von Punkten als Linie, so erhält man die

\*) Schindler bezeichnet deshalb die Punkte treffend als Raum-Atome. S. Einl. und Seite 4 seiner Elemente der Planimetrie, I. Stufe.

Erklärung: Durch Bewegung eines Punktes im Raume von einem Orte nach einem anderen entsteht eine Linie.

## 2. Die Entstehung der Fläche.

Wird weiter die entstandene Linie in Bewegung gesetzt, doch so, daß sie nicht in sich selbst (Schraubenlinie!) oder in einer anderen Linie läuft, so beschreibt sie von ihrer Anfangslage aus eine stetige Folge von Linien, und zu der vorhandenen Längen-Ausdehnung tritt eine zweite Ausdehnung in der Richtung der Bewegung hinzu. Das erzeugte Gebilde soll Fläche genannt und eingeführt werden durch die

Erklärung: Durch Bewegung einer Linie entsteht ein zweifach ausgedehntes Raumgebilde, die Fläche.

## 3. Die Entstehung des Körpers.

Wenn jetzt die Fläche in Bewegung versetzt wird, doch so, daß sie nicht in sich selbst (Drehung einer Scheibe!) oder in einer anderen Fläche (Schieben auf einer Platte!) verläuft, so wird eine stetige Aufeinanderfolge von Flächen hervorgebracht, und zu den beiden bereits vorhandenen Ausdehnungen kommt eine dritte Ausdehnung in der Richtung der Bewegung hinzu. Wird das beschriebene Gebilde als Körper bezeichnet, so ergibt sich die

Erklärung: Durch Bewegung einer Fläche entsteht ein dreifach ausgedehntes Raumgebilde, der geometrische Körper.

## 4. Weitere Grundgebilde sind nicht vorhanden.

Die Bewegung eines Körpers kann man sich nur in der Weise vorstellen, daß die ursprüngliche erzeugende Fläche aus ihrer Endlage noch weiter vorrückt und die von ihr bei der Entstehung des Körpers eingenommenen Lagen in unveränderter Reihe nachfolgen. Demnach wird durch die Bewegung eines Körpers nur die stetige Flächenreihe weiter fortgesetzt, also der Körper in der Richtung der Bewegung weiter ausgedehnt. Das entstehende Gebilde ist daher von derselben Art wie der erzeugende Körper (kanalförmig!), und daraus folgt, daß mit den vier Formen: Punkt, Linie, Fläche und Körper die Reihe der Grundformen räumlicher Gebilde abgeschlossen ist.

## 2. Kapitel.

### Die gerade Linie.

So lange sich ein Körper willkürlich bewegt, beschreibt ein beliebiger Punkt  $P$  desselben eine Linie, von der sich weiter nichts sagen

läßt, als daß sie mit allen ihren Teilen dem entstehenden kanal-förmigen Körper angehört; wird dagegen die Bewegung gewissen Bedingungen unterworfen, so nimmt diese Linie besondere, den Bedingungen entsprechende Formen an.

### 5. Drehung um einen Punkt. Entstehung der Kugelfläche.

Die Bewegung des Körpers wird in der Weise eingeschränkt, daß einer seiner Punkte  $A$  (oder ein starr mit ihm verbundener Punkt  $A$  des Raumes) seine Lage im Raume unverändert beibehält, daß also der Körper sich um einen seiner Punkte, den Drehungspunkt, beliebig dreht. Da wegen der Starrheit des Körpers bei der Bewegung die Entfernung des Punktes  $P$  von  $A$  unverändert bleibt, so hat die von  $P$  beschriebene Linie die Eigenschaft, daß ihre sämtlichen Punkte von  $A$  die nämliche Entfernung besitzen; sie liegt daher in ihrer ganzen Ausdehnung auf einer Fläche, deren sämtliche Punkte von  $A$  gleichweit entfernt sind. Nennt man dieselbe Kugelfläche und  $A$  ihren Mittelpunkt, so ergibt sich der Satz:

Dreht sich ein Körper um einen seiner Punkte (oder um einen starr mit ihm verbundenen Punkt), so liegt die von einem beliebigen Punkte des Körpers beschriebene Linie in ihrer ganzen Ausdehnung auf einer **Kugelfläche**, deren **Mittelpunkt** der Drehungspunkt ist.

### 6. Drehung um zwei Punkte. Entstehung des Kreises.

Wird außer dem Punkte  $A$  noch ein zweiter Punkt  $B$ , der gleichfalls starr mit dem Körper verbunden ist, in unveränderter Lage gehalten, so kann die Bewegung des Körpers nur noch in zweifachem Sinne erfolgen, und zwar (je nach der Stellung des Beobachters) als Drehung nach vorwärts oder rückwärts, bez. als Drehung nach rechts oder links. Ein bewegter Punkt  $P$  kehrt nach jeder ganzen Umdrehung wieder in seine ursprüngliche Lage zurück und beschreibt deshalb eine Linie, die in sich selber verläuft und unabhängig von dem Sinne der Drehung stets dieselben Punkte enthält, so oft auch der Körper gedreht werden mag. Da ferner wegen der Starrheit des Körpers die Entfernung des Punktes  $P$  sowohl von  $A$  als auch von  $B$  unverändert bleibt, so besitzt die Linie die Eigenschaft, daß alle ihre Punkte sowohl von  $A$  als auch von  $B$  gleichweit entfernt sind. Bezeichnet man diese Linie als **Kreis**, so erhält man den Satz:

Wird ein Körper um zwei starr mit ihm verbundene Punkte gedreht, so beschreibt ein bewegter Punkt desselben eine in sich selber verlaufende Linie, welche **Kreis** genannt wird.

### 7. Drehung um zwei Punkte. Entstehung der Geraden.

Aber nicht alle Punkte des Körpers (oder alle starr mit ihm verbundenen Punkte) werden bei der angegebenen Drehung mit bewegt; es behalten vielmehr außer  $A$  und  $B$  noch unzählig viele andere Punkte desselben ihre Lage im Raume unverändert bei. Diese Punkte folgen ohne Unterbrechung auf einander und bilden eine Linie, die von  $A$  nach  $B$  oder von  $B$  nach  $A$  verläuft. Ein Punkt  $P$ , der sich auf derselben von  $A$  nach  $B$  bewegt, ohne umzukehren, durchläuft jeden ihrer Punkte nur ein einziges Mal. Wird der Inbegriff aller dieser Punkte gerade Linie oder Gerade genannt, so kann die zweite Beobachtung an dem um zwei feste Punkte gedrehten Körper durch den Satz ausgedrückt werden:

Wird ein Körper um zwei fest mit ihm verbundene Punkte gedreht, so giebt es innerhalb des Körpers oder doch fest mit ihm verbunden unzählig viele Punkte, welche bei der Drehung ihre Lage im Raume unverändert beibehalten. Der Inbegriff aller dieser Punkte bildet eine Linie, welche **gerade Linie** oder **Gerade** (Drehungsachse) heißt.

Der Ableitung zufolge erstreckt sich die Gerade zunächst nur zwischen den Punkten  $A$  und  $B$ . Da aber zwei starr mit dem Körper verbundene Punkte beliebig weit auseinander liegen können, ohne daß dadurch die in dem Satze ausgesprochene Thatsache geändert wird, so kann die gerade Linie als beiderseits beliebig ausgedehnt (unbegrenzt) angesehen und eingeführt werden durch die

**Erklärung:** Die gerade Linie ist der Inbegriff aller derjenigen Punkte, die bei der Drehung eines festen Körpers um zwei starr mit ihm verbundene Punkte gleich diesen ihre Lage im Raume unverändert beibehalten.

### 8. Erste Sätze über die gerade Linie.

Wird ein zweiter Körper um die nämlichen starr mit ihm verbundenen Punkte  $A$  und  $B$  gedreht, so bleibt die Lage der unbewegten Punkte zwischen  $A$  und  $B$  unverändert (Beobachtungsergebnis!), und daraus folgt:

(Anschauungs-) **Satz 1.** Zwischen zwei festen Punkten ist stets eine und nur eine gerade Linie möglich.

**Folgerung:** Eine Gerade ist durch zwei ihrer Punkte vollständig bestimmt.

**Erklärung:** Die gerade Linie zwischen zwei Punkten  $A$  und  $B$  wird Verbindungslinie derselben genannt und durch die beiden Punkte  $A$  und  $B$  bezeichnet ( $AB$ ).

**Erklärung:** Eine Gerade geht durch einen Punkt  $P$  hindurch, wenn  $P$  einer ihrer Punkte ist.

**Erklärung:** Bewegt sich auf einer Geraden ein Punkt  $P$  von  $A$  nach  $B$ , ohne umzukehren, so beschreibt er die Gerade in der Richtung  $AB$ ; bewegt er sich aber von  $B$  nach  $A$ , so beschreibt er die Gerade in der Richtung  $BA$ . Auf einer Geraden  $AB$  sind also zwei Richtungen zu unterscheiden, welche einander entgegengesetzt heißen.

**Anmerkung.** Die gerade Linie wird mit Hilfe des Lineals gezeichnet.

### 9. Zwei sich schneidende Geraden.

**Erklärung:** Wenn zwei Geraden einen Punkt gemeinsam haben, so sagt man, daß sie sich in diesem Punkte schneiden.

Zwei verschiedene gerade Linien können nur einen Punkt gemeinsam haben; denn wären zwei gemeinschaftliche Punkte vorhanden, so müßten durch diese beiden Punkte zwei verschiedene Geraden gehen. Dies ist nach Satz 1 unmöglich, und daraus folgt:

**Satz 2.** Zwei verschiedene gerade Linien können sich nur in einem Punkte schneiden.

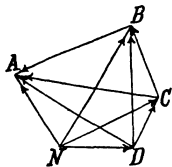
**Folgerung:** Ein Punkt ist durch zwei sich schneidende Geraden vollständig bestimmt.

Während zwei Punkte stets eine gerade Linie bestimmen, ist bei zwei Geraden keineswegs immer ein gemeinschaftlicher Punkt vorhanden; sie können z. B. im Raume an einander vorübergehen, ohne sich zu treffen.

**10.** Werden drei nicht in einer Geraden liegende Punkte eines Körpers festgehalten, so kann sich der Körper nicht mehr bewegen.

### II. $n$ Punkte und $n$ Geraden.

Eine erste Anwendung finden die Sätze 1 und 2 in den folgenden Übungen:



hinzü, der nicht auf  $AB$  liegt, so entstehen zwei neue Geraden  $CA$  und  $CB$ .

Daraus folgt:

**Satz 3a.** Durch drei Punkte, die nicht in einer Geraden liegen, sind drei Geraden bestimmt.

Zwischen zwei Punkten  $A$  und  $B$  ist stets eine einzige Gerade möglich. Kommt ein dritter Punkt  $C$

Zwischen zwei Geraden ist nur ein Schnittpunkt möglich. Kommt eine dritte Gerade hinzu, die nicht durch den Schnittpunkt der beiden ersten Geraden hindurchgeht, so können zwei neue Schnittpunkte entstehen.

**Satz 3a'.** Drei Geraden, die nicht durch einen Punkt gehen, können sich in drei Punkten schneiden.

Wird weiter ein 4. Punkt  $D$  hinzugenommen, der auf keiner der Geraden  $AB$ ,  $CA$  und  $CB$  liegt, so entstehen drei neue Geraden  $DA$ ,  $DB$  und  $DC$ . Tritt in entsprechender Weise ein 5., 6. Punkt u. s. w. hinzu, so werden dadurch vier, fünf u. s. w. neue Geraden bestimmt.

Ist also  $n$  eine beliebige ganze Zahl, so folgt hieraus:

Satz 3b. Durch  $n + 1$  Punkte, von denen nicht drei in einer Geraden liegen, sind

$$1 + 2 + 3 + \dots + n \left( = \frac{n(n+1)}{2} \right).$$

Geraden bestimmt.

Wird weiter eine 4. Gerade hinzugenommen, die durch keinen der bereits vorhandenen Schnittpunkte hindurchgeht, so können drei neue Schnittpunkte auftreten. Eine 5., 6. Gerade u. s. w., die in entsprechender Weise hinzugenommen wird, kann vier, fünf u. s. w. neue Schnittpunkte bilden.

Satz 3b'.  $n + 1$  Geraden, von denen nicht drei durch einen Punkt gehen, können sich in

Punkten schneiden.

## 12. Strahl und Strecke.

Die gerade Linie ist auf beiden Seiten unbegrenzt; jeder ihrer Punkte teilt sie in zwei Teile, welche Strahlen genannt werden sollen. Daraus folgt die

Erklärung: Ein Strahl ist eine einseitig begrenzte gerade Linie. Der Begrenzungspunkt heißt Ausgangspunkt des Strahles.

Wird auch der Strahl begrenzt, so entsteht ein Teil einer Geraden, dessen Ausdehnung oder Länge durch den Ausgangspunkt  $A$  und den Endpunkt  $B$  des Strahles vollständig bestimmt ist. Die Bezeichnung Strecke für diesen Teil führt zu der

Erklärung: Eine Strecke ist ein durch zwei Punkte begrenzter Teil einer Geraden. Die Größe der Strecke wird als ihre Länge oder als Abstand (Entfernung) des Endpunktes vom Anfangspunkte bezeichnet.

Anmerkung. Eine Strecke wird entweder durch ihre beiden Endpunkte oder durch einen Buchstaben des kleinen lateinischen Alphabets bezeichnet.

### 3. Kapitel.

## Die Ebene.

Die Beschaffenheit der Fläche, welche durch Bewegung einer Linie beschrieben wird, hängt sowohl von der Gestalt der erzeugenden Linie als auch von dem Gange der Bewegung ab. Die Fläche wird deshalb nur dann eine besondere Form annehmen, wenn über diese beiden Be-



stimmungsstücke besondere Annahmen gemacht werden. Von den bereits bekannten Linien soll der Strahl als erzeugende Linie gewählt und die Bewegung in der Weise bestimmt werden, daß sein Ausgangspunkt  $P$  seine Lage im Raume unverändert beibehält und der Strahl an einer bekannten Linie, der Leitlinie, entlang gleitet.

### 13. Die Entstehung des Kegels.

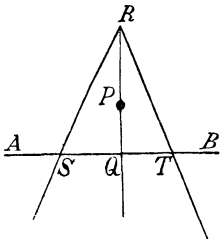
Wird zuerst der Kreis als Leitlinie genommen und gleitet der Strahl ohne Änderung seiner Bewegungsrichtung an der ganzen Leitlinie entlang, so entsteht eine vollständige, geschlossene Fläche, die in sich selber zurückkehrt, wenn der Strahl ein zweites Mal den gleichen Weg zurücklegt. Und wie der Kreis unabhängig davon bleibt, in welcher Bewegungsrichtung und von welcher Anfangslage aus der Körper gedreht wird (Nr. 6.), so wird auch die Fläche immer wieder dieselbe werden, einerlei in welcher Richtung und von welchem Punkte des Kreises aus der Strahl seine gleitende Bewegung beginnt. (Beweis nach Satz 1.) Bezeichnet man diese Fläche als Kegelfläche, so erhält man den Satz:

Gleitet ein Strahl an einem Kreise entlang, ohne seinen Ausgangspunkt zu ändern, so beschreibt er eine Kegelfläche.

### 14. Die Entstehung der Ebene.

Wenn die Gerade als Leitlinie gewählt wird und der Strahl von irgend einem Punkte derselben seine gleitende Bewegung beginnt, so kann er ohne Änderung der Bewegungsrichtung niemals aus dem einen Teile der Geraden in den anderen gelangen, und ebensowenig kann er den einen Teil, auf dem er entlang gleitet, vollständig durchlaufen, weil die Gerade auf beiden Seiten unbegrenzt ist. Das Bild der erzeugten Fläche bleibt daher unvollständig, wenn nicht dafür Sorge getragen wird, daß der Strahl die Leitlinie in allen ihren Punkten einmal trifft, und dies ist nur dadurch zu erzwingen, daß die Leitlinie aus Strecken zusammengesetzt wird, die mit einander eine geschlossene Figur bilden. Diese Bedingung erfüllt die Leitlinie, wenn sie auf folgende Weise hergestellt wird:

Der Ausgangspunkt  $P$  wird mit einem beliebigen Punkte  $Q$  der Geraden  $AB$  verbunden und die Gerade  $QP$  über  $P$  hinaus bis zu einem beliebigen Punkte  $R$  fortgesetzt; alsdann wird  $R$  mit zwei Punkten  $S$  und  $T$  der Geraden  $AB$  verbunden, die so gewählt werden, daß  $P$  zwischen den Verbindungslinien  $RS$  und  $RT$  (daß  $Q$  zwischen  $S$  und  $T$ ) liegt. Wird jetzt der Strahl so gedreht, daß er an der Leitlinie  $RST$  entlang gleitet; bewegt er sich zuerst von  $S$  nach  $T$ , dann weiter von  $T$  nach  $R$  und zuletzt von  $R$  nach  $S$ , oder in umgekehrter Richtung von  $S$  über  $R$  nach  $T$  und von hier nach  $S$  zurück, so beschreibt er eine Fläche, die immer wieder entfehlt, so oft auch der Strahl an der Leitlinie entlang gleitet, und



unabhängig davon bleibt, in welcher der beiden Richtungen und von welcher Anfangslage aus die Bewegung vor sich geht. (Satz 1.) Diese Fläche wird Ebene genannt und ihre Entstehung durch den Satz angegeben:

Gleitet ein Strahl an einer von drei Strecken  $RS$ ,  $ST$  und  $TR$  gebildeten geschlossenen Figur entlang und liegt sein Ausgangspunkt im Innern der Figur auf einer Geraden, welche  $R$  mit einem Punkte  $Q$  der Strecke  $ST$  verbindet, so entsteht eine Ebene.

Anmerkung 1. Das Bild einer Zimmerwand, einer Wandtafel, Tischplatte u. s. w. ist ein Teil einer Ebene.

Anmerkung 2. Stellt man die Entstehung der Ebene mit Benutzung von 5 recht dünnen, geraden Stäben dar, von denen drei mit gemeinschaftlichem Endpunkte auf dem vierten liegen, während der fünfte, der gleitende, auf dem mittleren der drei ersten befestigt ist, so lassen sich durch wiederholte Änderungen an der Lage der unbewegten Stäbe aus der Anschauung die Sätze gewinnen:

a) Die Ebene ist von der Wahl der Punkte  $R$ ,  $S$  und  $T$  unabhängig, falls nur  $RQ$  zwischen  $RS$  und  $RT$  liegt, und daraus ergibt sich:

b) Die Geraden  $RS$ ,  $RT$  und  $ST$  liegen mit allen ihren Punkten in der Ebene.

c) Die Leitlinie kann ohne Änderung der beschriebenen Ebene so gewählt werden, daß die Verbindungslinie zweier beliebigen Punkte der Ebene ein Teil der Leitlinie wird, und daraus folgt:

d) Verbindet eine Gerade irgend zwei Punkte der Ebene, so liegt sie mit allen ihren Punkten in der Ebene.

Die Wahl der Punkte  $R$ ,  $S$  und  $T$  bleibt ohne Einfluß auf die beschriebene Ebene. Da hiernach der Punkt  $P$  und die Gerade  $AB$  sich als vollständig ausreichend zur Bestimmung einer Ebene erweisen, so ist man berechtigt, den Satz aufzustellen:

Durch eine gegebene Gerade und einen gegebenen Punkt außerhalb derselben ist stets eine einzige Ebene bestimmt.

Statt des Punktes  $P$  kann auch eine zweite,  $AB$  schneidende Gerade gegeben sein und die Leitlinie dadurch hergestellt werden, daß man die beiden gegebenen Geraden durch eine beliebige dritte schneidet. Wird dann der Drehpunkt auf einer Geraden angenommen, welche den Schnittpunkt der gegebenen mit einem beliebigen Punkte der dritten Geraden verbindet, so sind die Bedingungen dafür erfüllt, daß die beschriebene Fläche eine Ebene ist, und daraus folgt:

Durch zwei gegebene sich schneidende Geraden ist stets eine einzige Ebene bestimmt.

Schließlich können drei nicht in einer Geraden liegende Punkte gegeben sein. Verbindet man zwei von ihnen durch eine Gerade, so gelangt man zu dem ersten Falle zurück und gewinnt dadurch den Satz:

Durch drei gegebene, nicht in einer Geraden liegende Punkte des Raumes ist stets eine einzige Ebene bestimmt.

Erklärung: Die Gebilde, welche ganz in einer Ebene liegen, heißen ebene Gebilde, und der Teil der Geometrie, welcher sich ausschließlich mit denselben beschäftigt, heißt Planimetrie. Der übrig bleibende Teil wird Stereometrie genannt.

#### 4. Kapitel.

### Grundformen der ebenen Gebilde.

Von den ebenen Gebilden sind der Punkt und die gerade Linie die einfachsten Formen. Strahlen sind einseitig und Strecken auf beiden Seiten begrenzte Teile von Geraden.

#### 15. Messung von Strecken.

Erklärung: Lassen sich zwei Gebilde so aufeinander legen, daß sowohl jeder Punkt des ersten ein Punkt des anderen, als auch jeder Punkt des zweiten ein Punkt des ersten wird, so sagt man: Die Gebilde lassen sich zur vollständigen Deckung bringen, oder sie sind kongruent ( $\cong$ ). Die Stücke, welche sich bei der Deckung gegenseitig bedecken, heißen entsprechende Stücke.

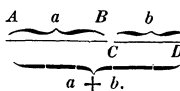
Mit Benutzung dieser Erklärung wird die Vergleichung zweier Strecken in folgender Weise ausgeführt: Man legt die beiden Strecken so aufeinander, daß ihre Anfangspunkte zusammenfallen; sind dann die Strecken kongruent (fallen auch ihre Endpunkte zusammen), so nennt man sie gleich, gleichlang oder gleichgroß ( $=$ ). Sind aber die Strecken nicht kongruent und bedeckt die erste die zweite vollständig, während sie von dieser nur unvollständig bedeckt wird (liegt ihr Endpunkt jenseits des Endpunktes der zweiten Strecke), so heißt die erste Strecke größer ( $>$ ) als die zweite und diese kleiner ( $<$ ) als die erste.

Anmerkung. Hiernach kann die Länge einer Linie mit dem Lineal gemessen werden. Als Maßeinheit dient das Meter und als Maßstab ein in Centimeter und Millimeter eingeteiltes Lineal.

#### 16. Addition und Subtraktion von Strecken.

Mit der Möglichkeit, Strecken auszumessen, ist auch die Möglichkeit gegeben, Strecken durch Addition und Subtraktion mit einander zu verbinden. Die Vorschrift für die Zeichnung ist enthalten in den Erklärungen:

Erklärung a): Legt man die Strecke  $CD$  so an die Strecke  $AB$ , daß ihr Anfangspunkt  $C$  mit dem Endpunkte  $B$  zusammenfällt und der Endpunkt  $D$  auf der in der Richtung  $AB$  verlängerten Geraden liegt, so sagt man, die Strecke  $CD$  sei an  $AB$  angetragen, oder



zu  $AB$  addiert, und nennt den Abstand  $AD$  die Summe  $AB + CD$  der beiden Strecken (Glieder)  $AB$  und  $CD$ .

Erklärung b): Legt man die Strecke  $CD$  so auf die Strecke  $AB$ , daß ihr Anfangspunkt  $C$  mit dem Endpunkte  $B$  zusammenfällt und ihr Endpunkt  $D$  auf der Strecke  $AB$  liegt (Bedingung:  $CD < AB$ ), so sagt man, die Strecke  $CD$  sei auf  $AB$  abgetragen oder von  $AB$  subtrahiert, und nennt den Abstand  $AD$  die Differenz  $AB - CD$  der beiden Strecken  $AB$  und  $CD$ .

Sollen mehr als zwei Strecken addiert werden, so bildet man zunächst die Summe der beiden ersten; hieran legt man die dritte Länge an und stellt dadurch die Summe der drei ersten Strecken her; alsdann legt man die vierte Strecke an diese Summe an u. s. w. Durch die Zeichnung kann hierbei der Satz veranschaulicht werden, daß eine Summe aus mehreren Strecken (Gliedern) ungeändert bleibt, wenn die Reihenfolge der Glieder beliebig vertauscht wird.

Anmerkung. Es empfiehlt sich, eine Reihe von Additionen und Subtraktionen vorzunehmen, um Sicherheit im Gebrauche des Maßstabes zu erreichen.

Erklärung: Entsteht eine Strecke durch Addition zweier gleichen Strecken, so wird der den letzteren gemeinsame Punkt Mittelpunkt der Strecke genannt.

### 17. Der Kreis als ebenes Gebilde.

Wird eine gerade Linie in der Ebene um einen ihrer Punkte gedreht, so bewegen sich ihre übrigen Punkte um diesen Punkt. Wegen der Starrheit der Geraden bleibt die Entfernung  $r$  eines bewegten Punktes  $P$  von dem Drehpunkte  $M$  unverändert, und daher beschreibt  $P$  eine in sich selber zurückkehrende Linie, deren sämtliche Punkte von  $M$  die Entfernung  $r$  besitzen. Diese Linie wird als Kreis und die Länge  $r$  als Halbmesser desselben bezeichnet.

Anmerkung. Die in Nr. 6 beschriebene Entstehungsweise des Kreises stimmt mit der hier angegebenen überein, wenn der gedrehte Körper als eine (unendlich) dünne Scheibe angenommen wird und die beiden festgehaltenen Punkte in dem Drehpunkte zusammenfallen.

Die Verbindungslinien irgend dreier beliebig nahe bei einander liegenden Punkte des Kreises verlaufen stets in verschiedenen Richtungen. Die Richtung des Kreises ändert sich also stetig. Wird nun eine Linie, deren Richtung sich stetig ändert, als krumm bezeichnet, so folgt hieraus die

Erklärung: Der Kreis ist eine krumme, in sich selber zurückkehrende Linie, deren sämtliche Punkte von einem Punkte der von ihr umschlossenen Fläche gleichweit entfernt sind.

Wird die Verbindungslinie des Drehpunktes  $M$  mit irgend einem Punkte des Kreises Radius genannt, so ergibt sich aus dieser Erklärung der

**Satz 4.** Zwei beliebige Radien eines Kreises sind gleichgroß.

Der Kreis schneidet eine jede durch  $M$  gehende Gerade in zwei Punkten  $P$  und  $Q$  und begrenzt dadurch eine Strecke  $PQ$ , welche Durchmesser genannt wird. Da die beiden Teile  $MP$  und  $MQ$  so groß sind, wie der Halbmesser, so ergeben sich die Folgerungen:

- a) Ein Durchmesser hat die doppelte Größe des Halbmessers.
- b) Alle Durchmesser eines Kreises sind gleichgroß.
- c) Der Punkt  $M$  ist der Mittelpunkt aller Durchmesser eines Kreises; in diesem Sinne wird er als der Mittelpunkt (Centrum) des Kreises bezeichnet.

Zusatz: Durch den Mittelpunkt  $M$  und den Halbmesser  $r$  ist ein Kreis vollständig bestimmt.

Folgerung: Kreise mit demselben Halbmesser sind kongruent.

Anmerkung. Der Kreis mit dem Mittelpunkte  $M$  und dem Halbmesser  $r$  wird mit Hilfe des Zirkels gezeichnet. Man öffnet den Zirkel so weit, daß seine Spitzen die Entfernung  $r$  haben, setzt die eine Spitze in  $M$  ein und bewegt ohne Änderung der Zirkelöffnung die andere (die zeichnende) Spitze um den Punkt  $M$  herum.

Hat ein Punkt  $P$  von  $M$  die Entfernung  $r$ , so muß er auf dem um  $M$  mit dem Halbmesser  $r$  beschriebenen Kreise (dem Kreise  $M, r$ ) liegen. Denn läge er innerhalb desselben, so würde die Strecke  $MP$  nicht bis zu dem Kreise hin reichen, folglich kleiner als  $r$  sein, und läge er außerhalb des Kreises, so würde die Strecke  $MP$  denselben schneiden, mithin größer als  $r$  sein müssen; es besteht also der

**Satz 5.** Der Kreis  $M, r$  enthält alle Punkte, die von  $M$  die Entfernung  $r$  haben.

Wird nun der Begriff des geometrischen Ortes eingeführt durch die

Erklärung: Enthält eine Linie die sämtlichen Punkte und nur solche Punkte, welche gemeinschaftlich dieselbe Eigenschaft besitzen, so wird sie geometrischer Ort für diese Punkte genannt.

so ergibt sich aus Satz 5 und der Erklärung des Kreises der Satz:

**Geometrischer Ort 1.** Der Kreis  $M, r$  (mit dem Mittelpunkte  $M$  und dem Halbmesser  $r$ ) ist der geometrische Ort für alle Punkte, welche von  $M$  die Entfernung  $r$  haben.

## 18. Aufgaben.

Die Anwendung dieses Satzes führt zur Lösung der folgenden Aufgaben:

**Aufgabe 1.** Alle Punkte zu zeichnen, welche von einem gegebenen Punkte  $A$  die Entfernung  $r = n$  cm (4 cm, 5 cm u. f. w.) haben.

**Aufgabe 2.** Einen Punkt zu zeichnen, der von den Endpunkten einer Strecke  $AB$  ( $= 6$  cm) um  $r$  ( $= 4$  cm, 5 cm u. f. w.) entfernt ist. Wieviel Punkte liefert die Zeichnung?

**Aufgabe 3.** Einen Punkt zu zeichnen, der von dem Endpunkte  $A$  der Strecke  $AB$  ( $= 5$  cm) die Entfernung  $r_1$  ( $= 6$  cm) und von  $B$  die Entfernung  $r_2$  ( $= 4$  cm) besitzt. Wieviel Punkte liefert die Zeichnung?

Weitere Beispiele:

$$AB = 8 \text{ cm}, \quad r_1 = 3 \text{ cm}, \quad r_2 = 10 \text{ cm.}$$

$$AB = 5 \text{ cm}, \quad r_1 = 4 \text{ cm}, \quad r_2 = 3 \text{ cm.}$$

Versuche, die Aufgaben auszuführen:

$$AB = 8 \text{ cm}, \quad r_1 = 3 \text{ cm}, \quad r_2 = 5 \text{ cm.}$$

$$AB = 12 \text{ cm}, \quad r_1 = 5 \text{ cm}, \quad r_2 = 6 \text{ cm (!).}$$

Welche Einschränkung (Determination) ergibt sich daraus für die Wahl der Strecken?

**Aufgabe 4.** Auf einer Geraden  $AB$  einen Punkt zu bestimmen, der von einem außerhalb  $AB$  gegebenen Punkte  $P$  die Entfernung  $r$  ( $= 7$  cm) hat. Wieviel Punkte liefert die Zeichnung im allgemeinen? Wann ist nur ein Punkt vorhanden und wann keiner?

## 19. Kreismessung.

**Erklärung:** Zwei beliebig gewählte Punkte eines Kreises teilen denselben in zwei Teile, welche Bogen genannt werden.

Zwei Bogen desselben Kreises oder zweier Kreise mit demselben Halbmesser können auf einander gelegt und deshalb ganz wie zwei Strecken (siehe Nr. 15) mit einander verglichen, sowie durch Addition und Subtraktion verbunden werden. Zwei Bogen zweier Kreise mit verschiedenen Halbmessern können dagegen nicht zur Deckung gebracht, also auch nicht mit einander verglichen werden. Es ist daher nicht möglich, einen Maßstab herzustellen, mit dem die Größe eines beliebigen Kreisbogens ausgemessen werden könnte.

Werden die Flächen zweier Kreise mit verschiedenen Halbmessern so auf einander gelegt, daß ihre Mittelpunkte zusammenfallen, so werden die Kreise durch verschiedene Punkte desselben Strahles beschrieben. Zwei verschiedene Lagen des erzeugenden Strahles begrenzen auf den Kreisen entsprechende Bogen, die durch dieselbe Drehung des Strahles hervorgebracht werden, also auch die gleichen Teile der verschiedenen Kreise sind, denen sie angehören. Demnach kann man von einem beliebigen Kreisbogen bestimmen, welcher Teil des zugehörigen Kreises er ist, sobald man die Einteilung irgend eines Kreises kennt.

**Erklärung:** Wird als Maßeinheit für die Bestimmung eines Bogens der 360. Teil des Kreises gewählt und Bogengrad genannt, so sagt man, der Bogen  $AB$  sei  $n$  Bogengrad groß, wenn  $\frac{1}{360}$  des Kreises  $n$  mal auf ihm abgetragen werden kann.

**Zusatz.** Die Bestimmung der Zahl  $n$  erfolgt mit Benutzung eines beliebigen, in 360 gleiche Teile eingeteilten Kreises auf folgendem Wege: Man läßt die Mittelpunkte der beiden Kreise zusammenfallen und legt den nach dem Teilpunkte 0 führenden Radius auf den ersten Begrenzungsradius des auszumessenden Bogens; der zweite Begrenzungsradius zeigt dann die Zahl  $n$  an.

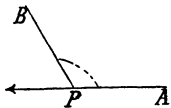
**Erklärung:** Werden die beiden Bogen, in welche ein Kreis durch zwei seiner Punkte eingeteilt wird, einander gleich, d. h. sind die beiden Punkte die Endpunkte eines Durchmessers, so heißt jeder der Bogen Halbkreis.

**Anmerkung.** Als Maßstab für die Kreismessung wird ein in 180 gleiche Teile eingeteilter Halbkreis benutzt, dessen Mittelpunkt auf dem begrenzenden Durchmesser besonders kenntlich gemacht ist. Derselbe heißt Gradmesser.

## 20. Entstehung des Winkels. Winkelmessung.

Durch die Drehung eines Strahles um seinen Ausgangspunkt entsteht noch ein zweites ebenes Gebilde. Ist  $PA$  die ursprüngliche Lage des Strahles und  $PB$  eine zweite, während der Bewegung eingenommene Lage, so wird durch die beiden Strahlen  $PA$  und  $PB$  die Ebene in zwei von einander getrennte Gebiete geteilt. Jeder dieser beiden Teile wird Winkel ( $\sphericalangle$ ) genannt.

Die Strahlen  $PA$  und  $PB$  heißen Schenkel des Winkels und ihr Ausgangspunkt  $P$  sein Scheitelpunkt oder seine Spitze. Man hat also die



**Erklärung:** Ein Winkel ( $\sphericalangle$ ) ist ein Teil der Ebene, der durch zwei von einem Punkte ausgehende Strahlen begrenzt wird.

**Anmerkung.** Als Bezeichnung für einen Winkel wird da, wo kein Mißverständnis zu befürchten ist, die Bezeichnung seines Scheitelpunktes gewählt; ist aber eine Zweideutigkeit möglich, so wird der Winkel entweder durch drei Buchstaben des großen lat. Alphabets benannt, von denen der mittlere den Scheitelpunkt bezeichnet, während die beiden anderen auf je einem Schenkel liegen, — oder durch einen Buchstaben des kleinen griech. Alphabets, welcher bei dem Scheitelpunkte in den Winkelraum gesetzt wird.

Da die Schenkel (die bestimmenden Strahlen) unbegrenzt sind, so ist jeder Winkel ein unbegrenzt großes Flächenstück; es ist deshalb nicht möglich, die wirkliche Größe eines Winkels auszumessen. Man kann jedoch das Größenverhältnis zweier Winkel bestimmen, indem man sie so auf einander legt, daß ihre Scheitelpunkte und zwei ihrer Schenkel zusammenfallen. Fällt dann das zweite Schenkelpaar gleichfalls auf einander, so sind die Winkel kongruent, also gleichgroß; liegt dagegen der zweite Schenkel des zweiten Winkels in dem Winkelraume des ersten, so ist der zweite kongruent zu einem Teile des

ersten Winkels, also kleiner als der erste und dieser größer als der zweite.

Man kann ferner, nachdem für den kleineren Winkel die Lage des zweiten Schenkels im Raume des ersten bestimmt ist, den kleineren Winkel in entsprechender Weise auf den Rest des größeren legen, die neue Grenzlinie sowie den neuen Rest ermitteln und durch Fortsetzung dieses Verfahrens feststellen, wievielfach der kleinere ganz in dem größeren enthalten ist. Wird zum Vergleich die ganze Ebene, d. h. der ganze Winkel um den Scheitelpunkt herum gewählt, so kann auf diesem Wege ausgemessen werden, welcher Teil der ganzen Ebene ein gegebener Winkel ist. Gelingt es umgekehrt, die Ebene in eine bestimmte Anzahl unter einander gleicher Teile zu teilen, so kann durch das angegebene Verfahren ermittelt werden, wieviele dieser Teile in einem Winkel enthalten sind. Beschreibt man aber um den Scheitelpunkt einen Kreis und zieht zu zwei gleichen Bogen desselben die Begrenzungsradien, so schließen dieselben zwei kongruente, also gleiche Winkel ein, und demnach wird die Ebene in 360 gleiche Winkel eingeteilt, wenn man die Begrenzungsradien der 360 gleichen Teile (Bogengrade) zieht. Jeder dieser Winkel wird, dem Bogengrad entsprechend, Winkelgrad oder kurz Grad (<sup>o</sup>) genannt. Der Maßstab für die Kreismessung dient also auch zur Winkelmessung. Daraus folgt:

Wenn auch die wirkliche Größe eines Winkels nicht bestimmt werden kann, so ist es doch möglich, auszumessen, welchen Teil der Ebene er beträgt.

Erklärung: Wird als Einheit für die Ausmessung eines Winkels der durch die Begrenzungsradien eines Bogengrades bestimmte 360. Teil der Ebene gewählt und Grad (<sup>o</sup>) genannt, so sagt man, ein Winkel  $\alpha$  sei  $n^o$  groß, wenn der zu  $\alpha$  gehörige Kreisbogen  $n$  Bogengrade beträgt. Die Zahl  $n$  heißt Maßzahl des Winkels.

Erklärung: Als Maßstab für die Winkelmessung dient ebenso wie bei der Kreismessung der Gradmesser (Transporteur).

Anmerkung 1. Um das Rechnen mit Brüchen zu vermeiden, wird der Grad in 60 Minuten (<sup>'</sup>) und die Minute in 60 Sekunden (<sup>"</sup>) eingeteilt. Ist eine noch größere Genauigkeit erforderlich, so wird dieselbe durch Dezimalteile einer Sekunde bewirkt. Der Gradmesser von gewöhnlicher Größe gestattet schon nicht mehr die Bestimmung der Minuten.

Anmerkung 2. Um die Maßzahl eines Winkels zu bestimmen, legt man den Gradmesser so auf den Winkel, daß sein Mittelpunkt mit dem Scheitelpunkte zusammenfällt und der Durchmesser auf einem der Schenkel liegt. Der zweite Schenkel zeigt dann auf dem Halbkreise in Graden die Größe des Winkels an.

## 21. Besondere Winkelformen.

Von den beiden Winkeln, welche durch zwei von einem Punkte ausgehende Strahlen gebildet werden, ist im allgemeinen der eine größer als der andere, und der größere wird dann konvex oder erhaben genannt, während der kleinere als konkav oder hohl bezeichnet wird. Wenn dagegen die Strahlen die beiden Teile einer



Geraden sind, so werden die beiden Winkel einander gleich, und jeder von ihnen heißt ein gestreckter oder flacher Winkel. Dies führt zu der

Erklärung: Bilden die Schenkel eines Winkels in entgegengesetzter Richtung eine gerade Linie, so heißt der Winkel flach oder gestreckt.

Folgerung: Alle flachen Winkel sind gleichgroß, weil man sie so auf einander legen kann, daß sie sich gegenseitig vollständig bedecken.

Ferner ergeben sich aus der Erklärung die Folgerungen:

Ein konvexer Winkel ist stets größer } als ein flacher Winkel.  
 Ein konkaver " " " kleiner }

Wird ein flacher Winkel durch einen von seinem Scheitelpunkte ausgehenden dritten Strahl in zwei Teile zerlegt, so entstehen zwei Winkel mit gemeinschaftlichem Scheitelpunkte und einem gemeinsamen Schenkel.

Erklärung: Haben zwei Winkel den Scheitelpunkt und einen Schenkel gemeinsam, während die beiden anderen Schenkel in entgegengesetzter Richtung eine gerade Linie bilden, so werden sie **Nebenwinkel** (Nw.) genannt.

Im allgemeinen sind Nebenwinkel von einander verschieden; der größere von ihnen heißt dann stumpf und der kleinere spitz. Dreht sich jedoch der gemeinsame Schenkel um den Scheitelpunkt so, daß der stumpfe Winkel stetig ab- und der spitze stetig zunimmt, so muß er einmal eine Lage einnehmen, bei welcher die beiden Winkel einander gleich werden, also jeder von ihnen halb so groß ist wie ein flacher Winkel; man bezeichnet dann die beiden als rechte (rectus!) Winkel und nennt den gemeinsamen Schenkel ein Lot oder eine Senkrechte zu der Geraden, welche von den nicht-gemeinsamen Schenkeln gebildet wird. Dies führt zu der

Erklärung: a) Ein rechter Winkel ist ein Winkel, der seinem Nebenwinkel gleich ist.

b) Bildet eine Gerade mit einer zweiten Geraden rechte Winkel, so steht sie senkrecht oder lotrecht ( $\perp$ ) auf derselben.

**Wink 1.** Um zu beweisen, daß eine Gerade senkrecht auf einer anderen steht, muß man zeigen, daß sie mit derselben rechte Winkel bildet, d. h. daß sie mit ihr zwei gleiche Nebenwinkel herstellt.

Aus der Herleitung der Erklärung folgt weiter:

Folgerung: a) Ein rechter Winkel ist gleich dem 4. Teile der Ebene.

- b) Alle rechten Winkel sind gleich groß.  
 c) Ein stumpfer Winkel ist größer  
 d) Ein spitzer " " kleiner } als ein rechter Winkel.

Erklärung: Die Größe des rechten Winkels wird durch den Buchstaben R bezeichnet; es ist also  $R = 90^\circ = 5400' = 324000''$ .

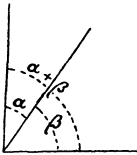
Da nur eine einzige Teilung eines flachen Winkels in zwei gleiche Teile möglich ist, so ergibt sich der

(Anschauungs-)Satz 6. In einem Punkte einer Geraden kann nur ein Lot auf derselben errichtet werden.

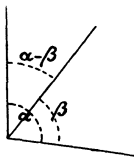
## 22. Addition und Subtraktion von Winkeln.

Da man Winkel ausmessen kann, so ist man auch imstande, Winkel durch Addition und Subtraktion mit einander zu verbinden. Die Vorschrift für die Ausführung der Zeichnung ist enthalten in den Erklärungen:

- a) Legt man einen Winkel  $\beta$  so an einen Winkel  $\alpha$ , daß sein Scheitelpunkt sich deckt mit dem Scheitelpunkte von  $\alpha$  und sein erster Schenkel auf den zweiten Schenkel von  $\alpha$  fällt, während sein zweiter Schenkel außerhalb des Winkels  $\alpha$  liegt, so sagt man, der Winkel  $\beta$  sei an  $\alpha$  angetragen oder zu  $\alpha$  addiert, und nennt den Winkel zwischen dem ersten Schenkel von  $\alpha$  und dem zweiten Schenkel von  $\beta$  die Summe  $\alpha + \beta$  von  $\alpha$  und  $\beta$ .



- b) Legt man einen Winkel  $\beta$ , der kleiner ist als  $\alpha$ , so auf  $\alpha$ , daß sein Scheitelpunkt sich deckt mit dem Scheitelpunkte von  $\alpha$  und sein erster Schenkel auf den zweiten Schenkel von  $\alpha$  fällt, während sein zweiter Schenkel innerhalb des Winkels  $\alpha$  liegt, so sagt man, der Winkel  $\beta$  sei von  $\alpha$  abgetragen oder von  $\alpha$  subtrahiert, und nennt den Winkel zwischen dem ersten Schenkel von  $\alpha$  und dem zweiten Schenkel von  $\beta$  die Differenz  $\alpha - \beta$  von  $\alpha$  und  $\beta$ .



## 23. Aufgaben.

Aufgabe 5. Einen gegebenen Winkel  $\alpha$  auszumessen.

Aufgabe 6. Einen Winkel von vorgegebener Größe ( $\alpha = 60^\circ, 80^\circ, 75^\circ, 112^\circ$ ) zu zeichnen.

Aufgabe 7. In einem Punkte  $P$  einer Geraden  $AB$  einen Winkel  $\alpha$  an dieselbe anzulegen (4 Lösungen!).

Aufgabe 8. Die Summe  $\alpha + \beta$  zweier gegebenen Winkel  $\alpha$  und  $\beta$  zu bilden. (Beispiele:  $\alpha = 73^\circ, \beta = 84^\circ; \alpha = 56^\circ, \beta = 34^\circ; \alpha = 62^\circ, \beta = 118^\circ$ .)

Aufgabe 9. Die Differenz  $\alpha - \beta$  zweier gegebenen Winkel  $\alpha + \beta$  zu bilden. ( $\alpha = 94^\circ$ ,  $\beta = 38^\circ$ ;  $\alpha = 144^\circ$ ,  $\beta = 54^\circ$ .)

Aufgabe 10. Durch die Zeichnung zu beweisen, daß

$$47^\circ + 83^\circ - 76^\circ + 34^\circ + 92^\circ = 180^\circ,$$

$$98^\circ - 43^\circ + 118^\circ - 49^\circ + 56^\circ = 180^\circ,$$

$$112^\circ + 143^\circ - 85^\circ + 104^\circ + 86^\circ = 360^\circ,$$

$$67^\circ - 24^\circ + 35^\circ - 51^\circ + 46^\circ - 73^\circ = 0.$$

Aufgabe 11. Einen gegebenen Winkel mit Hilfe des Gradmessers zu halbieren.

---

# Erster Teil. Von der Gleichheit der Größen.

## II. Abschnitt.

### Die Lehre von den Winkeln.

#### 5. Kapitel.

#### Allgemeine Winkelsätze.

#### 24. Beweisformen und Grundsätze.

Zwischen ebenen Gebilden lassen sich zwei verschiedene Arten von Beziehungen unterscheiden. Die eine von ihnen tritt ausnahmslos ein, ist also von keiner Annahme über die ausgeführte Zeichnung abhängig, wenn nur die Gebilde den Erklärungen entsprechend hergestellt werden. Die andere Art dagegen umfaßt diejenigen Beziehungen, welche nur infolge der Zeichnung auftreten, also an die Erfüllung gewisser Bedingungen geknüpft sind. Die Bedingungen, unter denen diese Beziehungen auftreten, werden Voraussetzungen (Vor.) genannt und die Beziehungen selber, die sich aus den Voraussetzungen ergeben, als die Behauptungen (Beh.) bezeichnet. Die Verbindung zwischen Voraussetzung und Behauptung wird durch einen Satz ausgedrückt, dessen Beweis (Bew.) die Richtigkeit der Verbindung begründet.

Man unterscheidet drei Beweisformen:

a) Bei der ersten Form wird die Richtigkeit der Behauptung lediglich mit Hilfe der Anschauung bewiesen. (Direkter Beweis durch Deckung.)

b) Das zweite Beweisverfahren stützt sich auf bereits bekannte Sätze und leitet aus ihnen sowie aus den Voraussetzungen durch einfache Schlüsse die Richtigkeit der Behauptung ab. (Direkter Beweis durch einfache Schlüsse.)

Die wichtigsten Schlußformen sind in den folgenden Grundsätzen (G.) enthalten:

G. I. Jede Größe ist sich selbst gleich.

G. II. Sind zwei Größen einander gleich, so kann jede für die andere gesetzt werden.

Beispiel:

$$\begin{array}{l} \text{Wenn} \quad a = b \\ \text{und} \quad b + c = d, \\ \text{so ist auch} \quad a + c = d. \end{array}$$

G. III. Sind zwei Größen einer dritten gleich, so sind sie unter einander gleich.

$$\begin{array}{l} \text{Beispiel: Wenn } a = c \\ \text{und } b = c, \\ \text{so ist auch } a = b. \end{array}$$

G. IV. Gleiches zu Gleichem addiert oder von Gleichem subtrahiert giebt Gleiches.

$$\begin{array}{l} \text{Beispiel: Wenn } a = b \\ \text{und } c = d, \\ \text{so ist auch } a + c = b + d \\ \text{und } a - c = b - d. \end{array}$$

G. V. Gleiches mit Gleichem multipliziert oder durch Gleiches dividiert giebt Gleiches.

$$\begin{array}{l} \text{Beispiel: Wenn } a = b \\ \text{und } c = d, \\ \text{so ist auch } a \cdot c = b \cdot d \\ \text{und } a : c = b : d. \end{array}$$

Da in diesen Grundsätzen nur von gleichen Dingen die Rede ist, so ist ihre Verwendung nur bei solchen Stücken möglich, die durch das Gleichheitszeichen mit einander verbunden sind.

c) Ist keine der beiden Beweisarten a) und b) anwendbar, so wird das dritte Beweisverfahren benutzt. Man sucht bei demselben die Möglichkeiten auf, die außer der in der Behauptung des Satzes ausgesprochenen Beziehung noch denkbar sind, und zeigt, daß die Annahme einer jeden dieser Möglichkeiten zu einer Folgerung führt, die im Widerspruch steht zu der ausgeführten Zeichnung oder zu einem bekannten Satze. Diese Beweisform wird indirekter Beweis genannt.

Es wird also bei der letzten Beweisart nur gezeigt, daß die Beziehung nicht anders sein kann, nicht aber, daß sie diejenige ist, die in der Behauptung ausgesprochen wird. Der indirekte Beweis entbehrt deshalb der sichereren Form, welche die beiden ersten Arten auszeichnet, und daher empfiehlt es sich, einen Satz nur dann indirekt zu beweisen, wenn ein direkter Beweis auf keine Weise hergestellt werden kann.

Erklärung: Als Lehrsätze im engeren Sinne werden diejenigen Sätze bezeichnet, welche vorzugsweise die Beweismittel für andere Sätze enthalten.

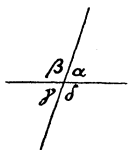
## 25. Neben- und Scheitelwinkel.

Da Nebenwinkel (Nw.) stets die beiden Teile eines flachen Winkels sind (Nr. 21), so bildet ihre Summe einen flachen Winkel, und da die Größe desselben 2 R beträgt, so ergibt sich der

**Lehrsatz I.** Die Summe zweier Nebenwinkel beträgt 2 R.  
Hieraus folgt weiter:

Folgerung: Die Summe der Winkel um einen Punkt herum beträgt 4 R.

Wird der gemeinsame Schenkel zweier Nw. über den Scheitelpunkt hinaus verlängert, d. h. schneiden sich zwei gerade Linien, so entstehen vier Winkel  $\alpha$ ,  $\beta$ ,  $\gamma$  und  $\delta$ . Aus diesen können zwei verschiedene Arten von Paaren hergestellt werden, je nachdem man einen Winkel mit einem der beiden neben ihm liegenden, oder mit demjenigen Winkel zusammennimmt, der nicht neben ihm (ihm gegenüber) liegt. Die ersten Paare sind die Nebenwinkel; für die beiden Paare der zweiten Art wird die Bezeichnung Scheitelwinkel (Schtw.) eingeführt durch die



Erklärung: Zwei Winkel, welche am Schnittpunkte zweier Geraden einander gegenüber liegen, heißen Scheitelwinkel.

Hiernach sind sowohl  $\alpha$  und  $\gamma$ , als auch  $\beta$  und  $\delta$  Scheitelwinkel.

Nun haben aber  $\alpha$  und  $\gamma$  gemeinschaftlich die Winkel  $\beta$  und  $\delta$  und diese wiederum die Winkel  $\alpha$  und  $\gamma$  gemeinschaftlich zu Nw.; daraus folgt zunächst, daß die gemeinschaftlichen Nw. zweier Schtw. wiederum Schtw. sind. Ferner bildet  $\alpha$  oder  $\gamma$  sowohl mit  $\beta$  als auch mit  $\delta$  einen flachen Winkel; die Schtw.  $\beta$  und  $\delta$  stehen also zu  $\alpha$  oder zu  $\gamma$  in derselben Größenbeziehung, und dies ist nur möglich, wenn sowohl  $\beta$  und  $\delta$  als auch  $\alpha$  und  $\gamma$  unter einander gleich sind.

Diese Betrachtung führt zu dem

### Satz II. Scheitelwinkel sind einander gleich.

Beweis 1. (Durch Deckung.) Nach G. III tritt die Gleichheit zweier Winkel ein, wenn dieselben gemeinschaftlich einem dritten Winkel gleich sind. Die Richtigkeit der Behauptung ist daher bewiesen, wenn es gelingt, einen Winkel aufzufinden, der sowohl gleich  $\alpha$  als auch gleich  $\gamma$  ist. Dies kann aber auf folgendem Wege erreicht werden. Man stellt durch zwei in einem Punkte mit einander verbundene dünne Stäbe zwei sich schneidende Geraden dar, legt den ersten Stab so auf einen der Schenkel von  $\alpha$ , daß der Befestigungspunkt mit dem Scheitelpunkte von  $\alpha$  zusammenfällt, und dreht den zweiten Stab, bis er ganz auf dem zweiten Schenkel von  $\alpha$  liegt. Es werden dann die Schenkel der Winkel  $\alpha$ ,  $\beta$ ,  $\gamma$  und  $\delta$  vollständig von den beiden Stäben bedeckt, und daraus folgt, daß jeder der 4 von den Stäben gebildeten Winkel gleich dem Winkel ist, auf dem er liegt. Werden jetzt die Stäbe aufgenommen und ohne Änderung ihrer gegenseitigen Lage nach einer halben Umdrehung wieder so auf die Figur gelegt, daß der Schnittpunkt auf den Scheitelpunkt fällt und der erste Stab dieselbe Gerade bedeckt, auf der er vorher lag, so fällt auch der zweite Stab wieder auf die zweite Gerade, und somit ist auch jetzt wieder jeder der von den Stäben gebildeten Winkel gleich dem Winkel, auf dem er liegt. Da aber jetzt  $\gamma$  von demselben Winkel bedeckt wird, der zuerst  $\alpha$  bedeckte, so folgt, daß  $\alpha$  und  $\gamma$  gemeinschaftlich gleich diesem Winkel, also nach G. III

unter einander gleich sind. In ganz entsprechender Weise ergibt sich die Gleichheit  $\beta = \delta$ .

**Beweis 2.** (Durch einfache Schlüsse.) Für jeden der Winkel  $\alpha$  und  $\gamma$  liefert der Lehrsatz I eine Beziehung zu  $\beta$  oder zu  $\delta$ , und zwar ist

$$\begin{array}{l} \alpha + \beta = 2 R \text{ (Nw.)}, \quad \alpha + \delta = 2 R \text{ (Nw.)}, \\ \gamma + \beta = 2 R \text{ (Nw.)}. \quad \gamma + \delta = 2 R \text{ (Nw.)}. \end{array}$$

Daraus folgt:  $\alpha + \beta = \gamma + \beta$  (G. III).  $\alpha + \delta = \gamma + \delta$  (G. III).

Der Winkel  $\beta$  ( $\delta$ ), der auf beiden Seiten dieser Gleichheit vorkommt, muß verschwinden, und da derselbe nur durch Subtraktion entfernt werden kann, so muß G. IV zur Anwendung kommen. Man stellt daher unter Benutzung des G. I die Gleichheiten

$$\begin{array}{l} \alpha + \beta = \gamma + \beta \quad \alpha + \delta = \gamma + \delta \\ \text{und} \quad \beta = \beta \quad \delta = \delta \end{array}$$

zusammen und erhält dann durch Subtraktion:

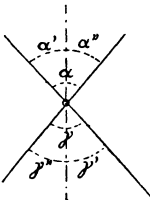
$$\alpha = \gamma \text{ (G. IV)}. \quad \alpha = \gamma \text{ (G. IV)}.$$

Ganz entsprechend wird mit Benutzung von  $\alpha$  oder  $\gamma$  die Gleichheit  $\beta = \delta$  bewiesen.

## 26. Übungsbeispiele zu Lehrsatz I und II.

1. Wird einer von zwei Schtv. mit Hilfe des Gradmessers in zwei gleiche Teile geteilt, so zeigt die Figur, daß auch der andere durch die Halbierungslinie in zwei gleiche Teile zerlegt wird, und leitet dadurch zu

**Satz 7.** Die Halbierungslinie eines Winkels halbiert auch seinen Scheitelwinkel.



Vor. Es sei  $\alpha' = \alpha''$ .

Beh. Es ist  $\gamma' = \gamma''$ .

Bew. Da  $\gamma' = \alpha'$  (Schtv.)

und  $\alpha' = \alpha''$  (Vor.),

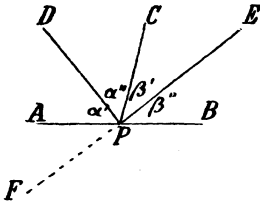
so ist auch  $\gamma' = \alpha''$  (G. II).

Da ferner  $\gamma'' = \alpha''$  (Schtv.),

so folgt  $\gamma' = \gamma''$  (G. III).

2. Halbirt man mit Benutzung des Gradmessers zwei Nw.  $\alpha$  und  $\beta$ , so leitet die Figur zu dem

**Satz 8.** Die Halbierungslinien zweier Nebenwinkel stehen senkrecht auf einander.



Vor. Es sei  $\alpha' = \alpha''$  und  $\beta' = \beta''$ .

Beh. Es ist  $PD \perp PE$ .

Entwicklung des Bew. Nach Winkl 1 muß gezeigt werden, daß die beiden Nw.  $DPE$  und  $DPF$  einander gleich sind. Da aber  $DPE = \alpha'' + \beta''$  und  $DPF = \alpha' + APF$  ist, so muß die Gleichheit dieser Summen aus der Vor. abgeleitet werden. Nun ist  $\alpha' = \alpha''$ , und demnach tritt nach

§. IV die Gleichheit  $\alpha'' + \beta'' = \alpha' + APF$  ein, wenn  $\beta' = APF$  ist. Der Beweis lautet also:

Da  $\beta' = \beta''$  (Vor.)  
 und  $\sphericalangle APF = \beta''$  (Schtw.),  
 so folgt  $\beta' = \sphericalangle APF$  (§. III).  
 Nimmt man hierzu  $\alpha'' = \alpha'$  (Vor.),  
 so ergibt sich  $\alpha'' + \beta'' = \alpha' + APF$  (§. IV), also  $PD \perp PE$ .

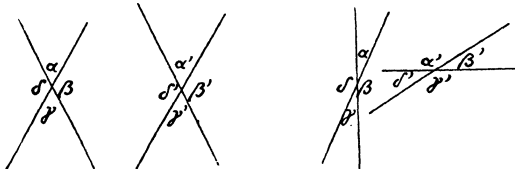
3. Wird in einem Punkte  $P$  einer Geraden  $AP$  mit Hilfe des Gradmessers (Winkel von  $90^\circ$ ) das Lot errichtet, so entstehen am Punkte  $P$  vier rechte Winkel  $\alpha, \beta, \gamma$  und  $\delta$ . Denn nach der Zeichnung (Erkl. des Lotes) ist  $\alpha = R$  und  $\beta = R$ ;  $\gamma$  aber ist Schtw. zu  $\alpha$  und  $\delta$  Schtw. zu  $\beta$ , und somit ist nach §. II auch  $\gamma = R$  und  $\delta = R$ . Es besteht also der

**Satz 9.** Ist einer von den vier Winkeln am Schnittpunkte zweier Geraden ein rechter, so sind es auch die drei anderen.

### 27. Winkel zweier Geradenpaare.

Erklärung: Zwei Winkel, deren Summe  $2 R$  beträgt, heißen supplementar und jeder von ihnen ist das Supplement des anderen.

Die Winkel  $\alpha', \beta', \gamma'$  und  $\delta'$  eines zweiten Geradenpaares stehen im allgemeinen in keiner angebbaren Beziehung zu den Winkeln  $\alpha, \beta, \gamma$  und  $\delta$  des ersten Geradenpaares. Wenn dagegen das zweite Geradenpaar mit Benutzung des Gradmessers so gezeichnet wird, daß  $\alpha'$  entweder gleich  $\alpha$  oder das Supplement zu  $\alpha$  ist, so treten zwischen den verschiedenen Winkeln der beiden Geradenpaare eine Reihe von Beziehungen auf, die zu den folgenden Doppelsätzen führen:



**Satz 10a.** Sind zwei Winkel einander gleich, so ist jeder von ihnen gleich dem Schtw. des anderen.

**Satz 10a'.** Sind zwei Winkel supplementar, so ist jeder von ihnen das Supplement zu den Schtw. des anderen.



Vor. Es sei  $\alpha' = \alpha$ .  
 Beh. Es ist 1.  $\alpha' = \gamma$ .  
           2.  $\alpha = \gamma'$ .  
 Bew. Da  $\alpha' = \alpha$  (Vor.)  
 und  $\gamma = \alpha$  (Schtw.),  
 so folgt 1.  $\alpha' = \gamma$  (G. III).  
 Da ferner  $\alpha' = \alpha$  (Vor.)  
 und  $\gamma' = \alpha'$  (Schtw.),  
 so folgt wiederum 2.  $\alpha = \gamma'$  (G. II).

**Satz 10b.** Sind zwei Winkel einander gleich, so sind auch ihre Schtw. einander gleich.

Vor. Es sei  $\alpha' = \alpha$ .  
 Beh. Es ist  $\gamma' = \gamma$ .  
 Bew. Da  $\alpha' = \alpha$  (Vor.)  
 und  $\gamma' = \alpha'$  (Schtw.),  
 so ist auch  $\gamma' = \alpha$  (G. II),  
 und da weiter  $\gamma = \alpha$  (Schtw.),  
 so ergibt sich  $\gamma' = \gamma$  (G. III).

**Satz 10c.** Sind zwei Winkel einander gleich, so sind auch ihre Nw. einander gleich.

Vor. Es sei  $\alpha' = \alpha$ .  
 Eine der vier Behauptungen lautet:

Beh. Es ist  $\beta' = \beta$ .  
 Bew. Da  $\alpha' = \alpha$  (Vor.)  
 und  $\beta' + \alpha' = 2 R$  (Nw.),  
 so folgt  $\beta' + \alpha = 2 R$  (G. II).  
 Da ferner  $\beta + \alpha = 2 R$  (Nw.),  
 also  $\beta' + \alpha = \beta + \alpha$  (G. III),  
 und  $\alpha = \alpha$  (G. I),  
 so ergibt sich  $\beta' = \beta$  (G. IV).

**Satz 10d.** Sind zwei Winkel einander gleich, so ist jeder von ihnen oder sein Schtw. das Supplement zu einem der Nw. des anderen.

Vor. Es sei  $\alpha' = \alpha$ .  
 Eine der acht Behauptungen lautet:

Beh. Es ist  $\gamma' + \beta = 2 R$ .  
 Bew. Da  $\alpha' = \alpha$  (Vor.)  
 und  $\gamma' = \alpha'$  (Schtw.),  
 so folgt  $\gamma' = \alpha$  (G. II).  
 Da ferner  $\alpha + \beta = 2 R$  (Nw.),  
 so ergibt sich  $\gamma' + \beta = 2 R$  (G. II).

Vor. Es sei  $\alpha' + \alpha = 2 R$ .  
 Beh. Es ist 1.  $\alpha' + \gamma = 2 R$ .  
           2.  $\alpha + \gamma' = 2 R$ .  
 Bew. Da  $\alpha' + \alpha = 2 R$  (Vor.)  
 und  $\gamma = \alpha$  (Schtw.),  
 so folgt 1.  $\alpha' + \gamma = 2 R$  (G. II).  
 Da ferner  $\alpha' + \alpha = 2 R$  (Vor.)  
 und  $\gamma' = \alpha'$  (Schtw.),  
 so folgt wiederum  $\alpha + \gamma' = 2 R$  (G. II).

**Satz 10b'.** Sind zwei Winkel supplementar, so sind auch ihre Schtw. supplementar.

Vor. Es sei  $\alpha' + \alpha = 2 R$ .  
 Beh. Es ist  $\gamma' + \gamma = 2 R$ .  
 Bew. Da  $\alpha' + \alpha = 2 R$  (Vor.)  
 und  $\gamma' = \alpha'$  (Schtw.),  
 so ist auch  $\gamma' + \alpha = 2 R$  (G. II),  
 und da weiter  $\gamma = \alpha$  (Schtw.),  
 so ergibt sich  $\gamma' + \gamma = 2 R$  (G. II).

**Satz 10c'.** Sind zwei Winkel supplementar, so sind auch ihre Nw. supplementar.

Vor. Es sei  $\alpha' + \alpha = 2 R$ .  
 Eine der vier Behauptungen lautet:

Beh. Es ist  $\beta' + \beta = 2 R$ .  
 Bew. Da  $\alpha' + \alpha = 2 R$  (Vor.)  
 und  $\beta' + \alpha' = 2 R$  (Nw.),  
 so folgt  $\alpha' + \alpha = \beta' + \alpha'$  (G. III).  
 Da ferner  $\alpha' = \alpha'$  (G. I),  
 also  $\alpha = \beta'$  (G. IV),  
 und  $\alpha + \beta = 2 R$  (Nw.),  
 so ergibt sich  $\beta' + \beta = 2 R$  (G. II).

**Satz 10d'.** Sind zwei Winkel supplementar, so ist jeder von ihnen oder sein Schtw. gleich einem der Nw. des anderen.

Vor. Es sei  $\alpha' + \alpha = 2 R$ .  
 Eine der acht Behauptungen lautet:

Beh. Es ist  $\gamma' = \beta$ .  
 Bew. Da  $\alpha' + \alpha = 2 R$  (Vor.)  
 und  $\gamma' = \alpha'$  (Schtw.),  
 so folgt  $\gamma' + \alpha = 2 R$  (G. II).  
 Da ferner  $\alpha + \beta = 2 R$  (Nw.),  
 also  $\gamma' + \alpha = \alpha + \beta$  (G. III),  
 und  $\alpha = \alpha$  (G. I),  
 so ergibt sich  $\gamma' = \beta$  (G. VI).

Anmerkung. Um Sicherheit in den Schlußfolgerungen zu erzielen, empfiehlt es sich, die übrigen Behauptungen der Sätze  $c$ ,  $c'$ ,  $d$  und  $d'$  der Reihe nach aufzustellen und zum Teil zu beweisen.

Ist der Winkel  $\alpha'$  supplementar zu  $\alpha$  und wird ein dritter Winkel  $\alpha''$  supplementar zu  $\alpha$  gezeichnet, so ist  $\alpha'' + \alpha = 2 R$  und  $\alpha' + \alpha = 2 R$ , also  $\alpha'' + \alpha = \alpha' + \alpha$ , und daraus ergibt sich  $\alpha'' = \alpha'$ . Es besteht also der

**Satz 11.** Haben zwei Winkel dasselbe Supplement (gleiche Supplemente), so sind sie gleichgroß.

Erklärung: Zwei Winkel, deren Summe  $1 R$  beträgt, heißen komplementar und jeder von ihnen ist das Komplement des anderen.

In gleicher Weise, wie Satz 11 gewonnen wird, läßt sich der Satz ableiten:

**Satz 12.** Haben zwei Winkel dasselbe Komplement (gleiche Komplemente), so sind sie gleichgroß.

Anmerkung. Die Gleichheit zweier Winkel kann bewiesen werden, indem man zu zeigen sucht, daß sie dasselbe  $\left\{ \begin{array}{l} \text{Supplement} \\ \text{Komplement} \end{array} \right\}$  besitzen.

## 28. Aufgaben.

Aufgabe 12. Berechne den  $Nw.$  zu  $\alpha = 83^\circ 17' 26''$ ;  $114^\circ 52' 32''$ .

Aufgabe 13. Berechne das Supplement zu  $\alpha = 143^\circ 45' 58''$ ;  $34^\circ 26' 15''$ .

Aufgabe 14. Berechne das Komplement und Supplement zu  $\alpha = 67^\circ 37' 38''$ ;  $26^\circ 45' 9''$ .

Aufgabe 15. Beweise, daß die beiden im Scheitelpunkte eines Winkels  $\alpha$  auf den Schenkeln errichteten Lote einen Winkel bilden, der entweder gleich  $\alpha$  oder das Supplement zu  $\alpha$  ist.

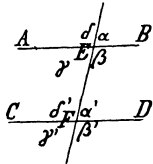
## 6. Kapitel.

### Winkel bei Parallelen.

#### 29. Bezeichnungen und Lehrsätze.

Die Sätze 10a—d lassen sich leicht auf den Fall übertragen, daß zwei Geraden von einer dritten geschnitten werden; denn verschiebt man das zweite Geradenpaar ohne Änderung seiner Winkel, bis eine seiner Geraden mit einer Geraden des ersten Paares zusammenfällt, ohne daß die Scheitelpunkte sich decken, so werden dadurch die Beziehungen zwischen den 8 Winkeln an den beiden Schnittpunkten in keiner Weise geändert. Der Wortlaut der Sätze wird jedoch ein anderer, weil je zwei an verschiedenen Schnittpunkten liegende Winkel

eine gemeinsame Bezeichnung erhalten, die eine bequeme Anwendung der Sätze gestattet.



Unterscheidet man bei der schneidenden Geraden  $EF$  eine rechte und linke Seite (oder zwischen oben und unten) und bei den geschnittenen Geraden  $AB$  und  $CD$  zwischen oben und unten (oder eine rechte und linke Seite), so sind die folgenden drei wesentlich von einander verschiedenen Arten von Winkelpaaren denkbar:

1. Beide Winkel liegen auf derselben Seite der schneidenden und auf gleichen Seiten der geschnittenen Geraden.
2. Beide Winkel liegen auf verschiedenen Seiten der schneidenden und auf verschiedenen Seiten der geschnittenen Geraden.
3. Beide Winkel liegen entweder auf derselben Seite der schneidenden, aber auf verschiedenen Seiten der geschnittenen, — oder auf verschiedenen Seiten der schneidenden und auf gleichen Seiten der geschnittenen Geraden.

Den ersten Paaren kommt die Bezeichnung gleichliegende Winkel (Gl. W.) zu und für die zweiten Paare paßt der Name Wechselwinkel (W. W.). Die Paare der dritten Abteilung sollen Ergänzungswinkel (Erg. W.) heißen. Aus der Lage der Winkel ist ein passender Name nicht ableitbar, und daher wird eine Bezeichnung gewählt, welche eine in vielen Fällen auftretende Eigenschaft dieser Winkelpaare zum Ausdruck bringt. Hieraus folgt:

Erklärung 1. Die Winkel, welche auf derselben Seite der schneidenden und auf gleichen Seiten der geschnittenen Geraden liegen, heißen gleichliegende Winkel. (Gl. W.)

Erklärung 2. Die Winkel, welche auf verschiedenen Seiten der schneidenden und auf verschiedenen Seiten der geschnittenen Geraden liegen, heißen Wechselwinkel. (W. W.)

Erklärung 3. Die Winkel, welche entweder auf derselben Seite der schneidenden und auf verschiedenen Seiten der geschnittenen, — oder auf verschiedenen Seiten der schneidenden und auf gleichen Seiten der geschnittenen Geraden liegen, heißen Ergänzungswinkel. (Erg. W.)

Aufgabe a) Stelle die Paare von Gl. W., W. W. und Erg. W. zusammen. Wieviel Paare jeder Art sind vorhanden?

Aufgabe b) Weite aus 2 Gl. W. ein Paar W. W. u. s. w. oder aus 2 Erg. W. ein Paar W. W. u. s. w. her.

Sind nun zunächst nur die sich schneidenden Geraden  $AB$  und  $EF$  gegeben und wird mit Hilfe des Gradmessers die Gerade  $CD$  so gezeichnet, daß  $\alpha' = \alpha$  ist, so lautet die Vor. der Sätze 10 a—d: „Sind zwei Gl. W. einander gleich“, und die Behauptungen in 10 a—c sprechen die Gleichheit der übrigen Paare von Gl. W. sowie

aller Paare von  $W. W.$  aus, während nach 10 d alle Paare von Erg.  $W.$  supplementar sind. Dasselbe ist der Fall, wenn die Gerade  $CD$  so gezeichnet wird, daß  $\gamma' = \alpha$  ist, daß also die Vor. der Sätze 10 a—d lautet: „Sind zwei  $W. W.$  einander gleich.“ Wenn schließlich  $CD$  so gezeichnet wird, daß  $\beta' + \alpha = 2 R$  ist, so lautet die Vor. der Sätze 10 a'—d': „Sind zwei Erg.  $W.$  supplementar“, und die Behauptungen sprechen wieder aus, daß dann alle  $Gl. W.$  und  $W. W.$  paarweis einander gleich und alle Paare von Erg.  $W.$  supplementar sind. Demnach können die 8 Sätze 10 a—d und 10 a'—d' vereinigt werden in dem

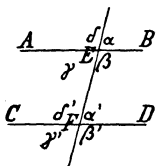
**Satz 13.** Sind irgend zwei  $Gl. W.$  oder  $W. W.$  einander gleich oder irgend zwei Erg.  $W.$  supplementar, so sind je zwei  $Gl. W.$  sowie je zwei  $W. W.$  einander gleich und je zwei Erg.  $W.$  supplementar.

Werden die Voraussetzungen dieses Satzes der Reihe nach in der Figur zur Darstellung gebracht, nachdem die Geraden  $AB$  und  $EF$  sowie der Scheitelpunkt  $F$  beliebig gewählt sind, so entsteht immer wieder dieselbe Gerade  $CD$ , und daraus folgt, daß  $CD$  durch jede der 16 Voraussetzungen bestimmt ist. Der Lage nach ist  $CD$  abhängig von  $AB$  und  $F$  und ändert die Richtung, so oft bei  $AB$  eine Richtungsänderung vorgenommen wird. Ein Schnittpunkt zwischen  $AB$  und  $CD$  ist in der Zeichnung nicht vorhanden und tritt auch nicht ein, wenn die beiden Geraden beliebig weit fortgesetzt werden. Die Beobachtung führt demnach bei Benutzung der

Erklärung: Haben zwei gerade Linien keinen Punkt mit einander gemein, so werden sie **parallel** ( $\parallel$ ) genannt. zu dem Schlusse, daß  $AB$  und  $CD$  parallel sein müssen, also zu

**Lehrsatz III.** Sind bei zwei von einer dritten geschnittenen Geraden zwei  $Gl. W.$  oder zwei  $W. W.$  einander gleich oder zwei Erg.  $W.$  supplementar, so sind die geschnittenen Geraden parallel.

Entwicklung des Bew. Der Erklärung zufolge muß bewiesen werden, daß die beiden Geraden  $AB$  und  $CD$  keinen Punkt gemeinsam haben, also sich nicht schneiden. Da es nicht möglich ist, direkt nachzuweisen, daß zwei Geraden sich überhaupt nicht schneiden, wenn sie in endlicher Ausdehnung keinen Punkt gemeinsam haben, so bleibt nur die Anwendung der indirekten Beweisform übrig. Außer der behaupteten Beziehung ist aber nur die eine Möglichkeit denkbar, daß die Geraden sich schneiden, und daher muß bewiesen werden, daß die Annahme eines Schnittpunktes zu einem Widerspruche mit einem bekannten Satze führt. Nach Satz 2 können sich aber zwei Geraden nur in einem Punkte schneiden, und demnach muß man, um zu einem Widerspruche zu gelangen, aus der



Annahme eines Schnittpunktes das Vorhandensein eines zweiten Schnittpunktes ableiten. Jede der beiden Geraden zerfällt nun in zwei Strahlen, von denen nur  $EA$  und  $FC$  oder  $EB$  und  $FD$  sich schneiden können, und demnach ist zu beweisen, daß einem gemeinschaftlichen Punkte der Strahlen  $EA$  und  $FC$  stets ein gemeinschaftlicher Punkt der Strahlen  $EB$  und  $FD$  entspricht und umgekehrt. Dies ist aber der Fall, wenn die beiden Streifen  $AEEFC$  und  $BEFD$  kongruent sind, und daher muß die Kongruenz dieser beiden Streifen aus der Vor. abgeleitet werden. Der Beweis nimmt also die folgende Gestalt an:

**Beweis.** Vor. Es sei  $\alpha' = \gamma$  und somit auch  $\delta' = \beta$ .

Beh. Es ist  $CD \parallel AB$ .

Man legt den Streifen  $AEEFC$  so auf den Streifen  $BEFD$ , daß der Strahl  $EA$  auf  $FD$  und sein Ausgangspunkt  $E$  auf  $F$  fällt. Wegen  $\alpha' = \gamma$  fällt dann auch die Begrenzungslinie  $EF$  des ersten Streifens auf die Begrenzungslinie  $FE$  des zweiten und wegen der Unveränderlichkeit der Strecke  $EF$  der Punkt  $F$  des Raumes  $AEEFC$  auf den Punkt  $E$  des anderen Raumes, also der Winkel  $\delta'$  auf  $\beta$ . Da aber  $\delta' = \beta$  ist, so decken sich auch die Strahlen  $FC$  und  $EB$ . Demnach bedeckt der Streifen  $AEEFC$  den Streifen  $BEFD$  vollständig, und da ganz entsprechend gezeigt werden kann, daß umgekehrt auch dieser den ersten vollständig bedeckt, so sind die beiden Streifen kongruent, und jedem Punkte des einen entspricht ein Punkt des anderen. Wenn also eins der beiden Strahlenpaare sich schneidet, so müßte auch das andere einen Schnittpunkt besitzen, der dem Schnittpunkte des ersten Paares entsprechend wäre, und folglich müßten sich die Geraden  $CD$  und  $AB$  in zwei Punkten schneiden. Das ist aber unmöglich, und deshalb darf keins der Strahlenpaare einen Schnittpunkt besitzen, d. h. es ist  $CD \parallel AB$ .

**Anmerkung 1.** Mit Hilfe eines Modells läßt sich der Gang des (Deckungs-) Beweises Schritt für Schritt verfolgen und die Richtigkeit der Schlüsse bequem zur Anschauung bringen.

**Anmerkung 2.** Um durch den Punkt  $F$  eine Parallele zu  $AB$  zu zeichnen, zieht man durch  $F$  eine  $AB$  schneidende Gerade  $FE$  und legt einen der entstandenen Winkel in  $F$  so an  $FE$  an, daß Gl. W. oder W. W. entstehen.

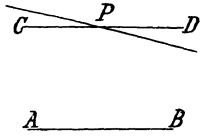
**Wink 2.** Um zu beweisen, daß zwei Geraden parallel sind, muß man zeigen, daß sie mit einer dritten Geraden gleiche Gl. W. oder W. W. oder supplementare Erg. W. bilden.

Die Gerade  $CD$  bleibt unverändert, wenn die Lage der Geraden  $AB$  und des Punktes  $F$  nicht geändert wird; dagegen ist es gleichgültig, wie die Linie  $FE$  verläuft, wenn sie nur durch  $AB$  geht. Daraus ergibt sich der

**Satz 14.** Durch einen Punkt außerhalb einer Geraden ist nur eine Parallele zu derselben möglich.

Die Richtigkeit dieses Satzes läßt sich in folgender Weise veranschaulichen: Es sei  $CD$  die durch  $P$  gehende Parallele zu  $AB$ . Jede andere durch  $P$

gehende Gerade zerfällt in zwei von  $P$  ausgehende Strahlen, von denen der eine außerhalb des von  $AB$  und  $CD$  begrenzten Streifens verläuft und sich um so mehr von  $AB$  und  $CD$  entfernt, je weiter er von  $P$  aus vorrückt. Der andere Strahl dagegen tritt bei  $P$  bereits in den Streifen ein und entfernt sich nur von  $CD$ , während er sich  $AB$  um so mehr nähert, je weiter er sich von  $P$  aus erstreckt; in seinem weiteren Verlaufe wird er daher  $AB$  erreichen und schneiden. Demnach ist außer  $CD$  eine weitere Parallele zu  $AB$  durch den Punkt  $P$  nicht möglich.



Der Lehrsatz III ist umkehrbar. Die Voraussetzung und Behauptung desselben sind derart mit einander verbunden, daß die Verneinung der ersteren stets die Verneinung der letzteren zur Folge hat, und können deshalb mit einander vertauscht werden. Es besteht also auch der

**Lehrsatz IV.** Werden zwei parallele Geraden von einer dritten geschnitten, so entstehen gleiche Gl. W. und gleiche W. W. sowie supplementare Erg. W.

Entw. des Bew. Da der Inhalt der Behauptung zur Herstellung der Figur benutzt wird (Anmerkung 2 zu Lehrs. III) und die vorausgegangenen Sätze einen anderen Weg für die Zeichnung nicht angeben, so ist ein direkter Beweis des Lehrsatzes nicht möglich; es muß also die indirekte Beweisform angewandt werden. Außer der z. B. für die Gl. W.  $\alpha'$  und  $\alpha$  behaupteten Beziehung  $\alpha' = \alpha$  sind nun noch die beiden Möglichkeiten  $\alpha' > \alpha$  und  $\alpha' < \alpha$  denkbar, und demnach ist zu zeigen, daß die Annahme einer jeden dieser Möglichkeiten zu einem Widerspruche mit einem bekannten Satze führt.

Beweis.

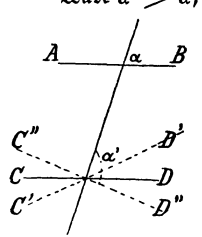
Vor. Es sei  $CD \parallel AB$ .

Beh. Es ist z. B.  $\alpha' = \alpha$ .

Wäre  $\alpha' > \alpha$ , so könnte (mit Benutzung des Gradmessers) von  $\alpha'$  durch die Gerade  $C'D'$  ein Stück weggenommen werden, so daß ein Rest von der Größe des Winkels  $\alpha$  bliebe; wäre dagegen  $\alpha' < \alpha$ , so könnte durch die Gerade  $C''D''$  ein Stück addiert werden, so daß die Summe gleich  $\alpha$  würde. Nach Lehrsatz III müßte dann  $C'D'$  oder  $C''D''$  zu  $AB$  parallel sein, und da nach der Vor.  $CD$  parallel zu  $AB$  ist, so hätte man in jedem der beiden Fälle zwei verschiedene durch  $F$  gehende Parallelen zu  $AB$ . Das steht aber im Widerspruche mit Satz 14, und deshalb darf  $\alpha'$  weder größer noch kleiner als  $\alpha$ , muß also gleich  $\alpha$  sein.

Die übrigen Behauptungen folgen nach Satz 13 aus der Gleichheit  $\alpha' = \alpha$ .

**Wink 3.** Um zu beweisen, daß zwei Winkel  $\left. \begin{array}{l} \text{gleich groß} \\ \text{supplementar} \end{array} \right\}$  sind, kann man zu zeigen suchen, daß sie als  $\left\{ \begin{array}{l} \text{Gl. W. oder W. W.} \\ \text{Erg. W.} \end{array} \right.$  an parallelen Geraden liegen.



30. Übungsbeispiele und Aufgaben.

Werden die beiden Geraden  $CD$  und  $EF$  parallel zu  $AB$  gezeichnet, so lehrt die Anschauung, daß  $EF$  parallel zu  $CD$  ist, und leitet somit zu

**Satz 15.** Sind zwei Geraden zu einer dritten parallel, so sind sie zu einander parallel.

Entw. des Bew. Um zu beweisen, daß die Geraden  $EF$  und  $CF$  parallel sind, hat man nach Wink 2 zu zeigen, daß sie mit einer dritten Geraden z. B. gleiche Gl. W. bilden. Man hat also eine  $CD$  und  $EF$  schneidende Gerade zu ziehen und aus der Vor. abzuleiten, daß irgend zwei an ihnen liegende Gl. W. einander gleich sind.

Beweis. Vor. Es sei  $CD \parallel AB$  und  $EF \parallel AB$ .

Beh. Es ist  $EF \parallel CD$ .

Aus  $CD \parallel AB$  folgt nach Lehrf. IV:  $\alpha' = \alpha$ ,  
 "  $EF \parallel AB$  " " " "  $\alpha'' = \alpha$ ,  
 und somit ist nach G. III:  $\frac{\alpha'' = \alpha}{\alpha'' = \alpha'}$ ,  
 also nach Lehrf. III:  $EF \parallel CD$ .

2. In zwei beliebig gewählten Punkten  $P$  und  $Q$  einer Geraden  $AB$  werden mit Benutzung des Gradmessers ( $90^\circ$ ) die Lote  $PR$  und  $QS$  errichtet. Die Anschauung lehrt dann, daß  $QS \parallel PR$  ist, und führt damit zu

**Satz 16.** Stehen zwei Geraden senkrecht auf einer dritten, so sind sie zu einander parallel.

Entw. des Bew.  $PR$  und  $QS$  sind nach Lehrsatz III parallel, wenn die Gl. W.  $\alpha'$  und  $\alpha$ , die sie mit  $AB$  bilden, einander gleich sind. Bei der Lage dieser Winkel verlangt der Beweis für ihre Gleichheit die Anwendung des G. III, dessen Bedingungen aus der Vor. abzuleiten sind.

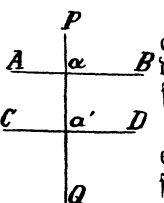
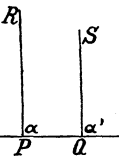
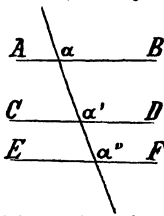
3. Wird das zweite Lot nicht auf  $AB$ , sondern in  $R$  auf  $PR$  errichtet, so läßt sich aus der Figur der Satz ablesen:

Zusatz zu Satz 16. Steht eine Gerade senkrecht auf einer zweiten und diese wiederum senkrecht auf einer dritten, so ist die erste Gerade parallel zu der dritten.

Beim Beweise desselben wiederholen sich die Schlüsse des vorhergehenden Beweises in unveränderter Reihenfolge.

4. Sind zwei Parallelen  $AB$  und  $CD$  gegeben und wird auf  $AB$  an beliebiger Stelle ein Lot  $PQ$  errichtet, so zeigt die Figur, daß  $PQ$  auch senkrecht auf  $CD$  steht. Daraus folgt der

**Satz 17.** Steht eine Gerade senkrecht auf einer von zwei Parallelen, so steht sie auch senkrecht auf der anderen.



Entw. des Bew.  $PQ$  steht nur dann senkrecht auf  $CD$ , wenn einer der von  $PQ$  und  $CD$  gebildeten Winkel ein rechter, wenn also  $\alpha' = R$  ist. Anwendbar ist nur G. II, dessen Bedingungen aus der Vor. abzuleiten sind.

**Beweis.** Vor. Es sei  $CD \parallel AB$  und  $PQ \perp AB$ .

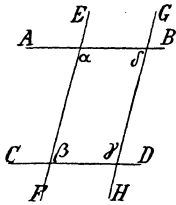
Beh. Es ist  $PQ \perp CD$ .

Aus  $CD \parallel AB$  folgt nach Lehrf. IV:  $\alpha' = \alpha$

und aus  $PQ \perp AB$  nach Erkl. des Vot.:  $\alpha = R$ .

Demnach ist nach G. II  $\alpha' = R$ , d. h.  $PR \perp CD$ .

5. Zu einer Geraden  $EF$ , welche die beiden Parallelen  $AB$  und  $CD$  schneidet, wird eine Parallele  $GH$  hergestellt, welche  $AB$  und  $CD$  gleichfalls schneidet. Innerhalb des von den vier Geraden begrenzten Raumes entstehen dann vier Winkel  $\alpha, \beta, \gamma$  und  $\delta$ , und die Figur läßt erkennen, daß die einander gegenüber liegenden Winkel  $\alpha$  und  $\gamma$  sowie  $\beta$  und  $\delta$  gleich groß sind. Dies führt zu



**Satz 18.** Werden zwei Parallelen durch ein zweites Paar von Parallelen geschnitten, so sind innerhalb des geschlossenen Raumes je zwei gegenüber liegende Winkel gleich groß.

Entw. des Bew. Die Lage der Winkel schließt das Verfahren nach Wink 3 aus. Man muß daher zusehen, ob die Vor. nicht die Verwendung eines Grundsatzes ermöglicht oder auf die Anwendung des Satzes 11 hinweist.

**Beweis:** Vor. Es sei  $CD \parallel AB$  und  $GH \parallel EF$ .

Beh. Es ist  $\alpha = \gamma$  und  $\beta = \delta$ .

Aus  $AB \parallel CD$  folgt nach Lehrsatz IV:  $\alpha + \beta = 2 R$  (Erg. W.)

und aus  $EF \parallel GH$  nach Lehrsatz IV:  $\gamma + \beta = 2 R$  (Erg. W.),

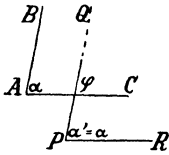
und somit ist nach Satz 11  $\alpha = \gamma$ .

Ferner folgt aus  $AB \parallel CD$  nach Lehrsatz IV:  $\delta + \gamma = 2 R$  (Erg. W.)

sowie aus  $EF \parallel GH$  nach Lehrsatz IV:  $\beta + \gamma = 2 R$  (Erg. W.),

und somit ist nach Satz 11 auch  $\beta = \delta$ .

6. Gegeben sei der Winkel  $BAC = \alpha$ . Durch einen beliebigen



Punkt  $P$ , der jedoch weder auf  $AB$  noch auf  $AC$  liegen soll, wird die Parallele zu  $AB$  gezogen und in  $P$  an dieselbe der Winkel  $\alpha$  so angetragen (Gradmesser!), daß der zu  $AB$  parallele Schenkel  $PQ$  in derselben Richtung mit  $AB$  und der andere Schenkel  $PR$  mit  $AC$  in derselben Richtung verläuft. Die Figur läßt dann erkennen, daß  $PR$  parallel zu  $AC$  ist, und leitet somit zu

**Satz 19.** Sind die Schenkel zweier gleichen Winkel gleichgerichtet und ist das eine Paar derselben parallel, so ist es auch das andere.



Entw. des Bew. Nach Wink 2 hat man zu zeigen, daß die  $AC$  und  $PR$  schneidende Gerade  $PQ$  mit denselben z. B. gleiche Gl. W. bildet. Zum Beweise der Gleichheit  $\alpha' = \gamma$  ist nur Gl. III anwendbar, dessen Bedingungen aus der Vor. abzuleiten sind.

Anmerkung. Der Winkel  $\alpha$  kann in  $P$  an die Parallele zu  $AB$  auch so angelegt werden, daß  $PQ$  zu  $AB$  und  $PR$  zu  $AC$  entgegengesetzt gerichtet ist; es wird auch dann  $PR \parallel AC$ . Dasselbe tritt ein, wenn das Supplement zu  $\alpha$  in  $P$  so angelegt wird, daß ein Schenkel des angelegten Winkels mit dem entsprechenden Schenkel von  $\alpha$  dieselbe Richtung besitzt, während die beiden anderen Schenkel entgegengesetzt gerichtet sind.

7. Statt den Winkel  $\alpha$  oder sein Supplement in  $P$  an  $PQ$  anzulegen, kann man durch  $P$  die Parallele zu  $AC$  ziehen; es zeigt sich dann, daß von den vier Winkeln der Geraden  $PQ$  und  $PR$  zwei gleich  $\alpha$  und zwei supplementär zu  $\alpha$  sind. Demnach besteht der

**Satz 20.** Sind die Schenkel zweier Winkel parallel und paarweis gleich oder paarweis entgegengesetzt gerichtet, so sind die Winkel einander gleich; ist aber nur das eine Paar gleich und das andere entgegengesetzt gerichtet, so sind die Winkel supplementär.

Die Behauptungen dieses Satzes werden übereinstimmend aus den Beziehungen des von  $PQ$  und  $AC$  gebildeten Winkels  $\gamma$  zu den Winkeln  $\alpha'$  und  $\alpha$  bewiesen.

Mit Benutzung der Lehrsätze III und IV können ferner die folgenden Aufgaben gelöst werden:

Aufgabe 16. Beweise, daß die Halbierungslinien zweier Gl. W. oder W. W. parallel sind.

Aufgabe 17. Beweise, daß die Halbierungslinien zweier Erg. W. sich schneiden.

Aufgabe 18. Beweise, daß zwei Geraden sich schneiden, welche senkrecht auf den Schenkeln eines nicht-flachen Winkels stehen.

Aufgabe 19. Beweise, daß der Winkel zweier Geraden, die senkrecht auf den Schenkeln eines Winkels  $\alpha$  stehen, entweder gleich  $\alpha$  oder supplementär zu  $\alpha$  ist. (Benutze Aufgabe 15.)

## 7. Kapitel.

### Winkel des Dreiecks und Vielecks.

#### 31. Bezeichnungen.

Wenn die beiden von  $EF$  geschnittenen Geraden  $AB$  und  $CD$  nicht parallel sind, wenn also die drei Geraden  $AB$ ,  $CD$  und  $EF$  sich gegenseitig schneiden, so entstehen an den Schnittpunkten 12 Winkel, die sich in drei Gruppen zerlegen lassen. Die erste Gruppe umfaßt die drei Winkel im Innern des vollständig begrenzten Raumes, während

die zweite die drei Schtv. und die dritte die sechs Nw. der ersten Gruppe enthält. Die Bezeichnungen für die Teile der entstandenen Figur werden eingeführt durch die folgenden Erklärungen:

Erklärung 1. Ein von drei Geraden vollständig begrenzter Teil der Ebene wird Dreieck ( $\triangle$ ) genannt und durch seine drei Ecken bezeichnet.

Erklärung 2. Die Strecken zwischen den Schnittpunkten der Begrenzungslinien (den Ecken) werden Seiten des Dreiecks genannt.

Erklärung 3. Die drei Winkel im Innern des Dreiecks heißen Dreieckswinkel oder Winkel des Dreiecks.

Erklärung 4. Die Nebenwinkel der Dreieckswinkel heißen Außenwinkel des Dreiecks.

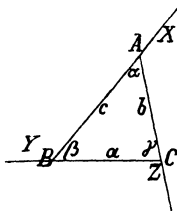
Erklärung 5. Zwei  $\left\{ \begin{array}{l} \text{Seiten} \\ \text{Ecken} \end{array} \right\}$  des Dreiecks heißen benachbart, wenn sie  $\left\{ \begin{array}{l} \text{durch eine Ecke gehen.} \\ \text{auf einer Seite liegen.} \end{array} \right.$

Erklärung 6. Zwei Seiten schließen einen Winkel ein, wenn sie die Schenkel desselben sind.

Erklärung 7. Eine Seite liegt einem Winkel an und ein Winkel liegt an einer Seite, wenn dieselbe ein Schenkel des Winkels ist.

Erklärung 8. In einem Dreieck liegt eine Seite einem Winkel (einer Ecke) gegenüber, wenn sie nicht ein Schenkel desselben ist (durch dieselbe geht).

Erklärung 9. Ein Außenwinkel liegt den beiden Dreieckswinkeln gegenüber, welche nicht mit ihm an derselben Ecke liegen.



Der Winkel an der Ecke A möge mit  $\alpha$  und der zugehörige Außenwinkel mit X bezeichnet werden; entsprechend sollen die Winkel an den anderen Ecken  $\beta$  und Y,  $\gamma$  und Z heißen. Die Seite AB wird mit c, AC mit b und BC mit a benannt.

Aufgabe. Die gegenüberliegenden Stücke eines Dreiecks zusammenzustellen.

Schneiden sich mehr denn drei ( $n$ ) Geraden, so entstehen im allgemeinen mehrere vollständig begrenzte Räume; aber nur einer von ihnen wird von sämtlichen Geraden gebildet. Die Bezeichnungen für diesen Raum und seine Teile werden wiederum eingeführt durch die Erklärungen:

Erklärung 1a. Ein von  $n$  Geraden vollständig begrenzter Teil der Ebene wird  $n$ -Eck genannt und durch seine  $n$  Ecken bezeichnet.

Erklärung 2a. Die Strecken zwischen je zwei auf einander

folgenden Ecken des  $n$ -Ecks heißen Seiten, und die Strecken zwischen zwei nicht auf einander folgenden Ecken heißen Diagonalen.

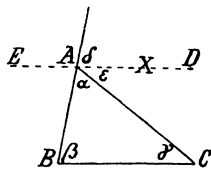
Erklärung 3a. Die Winkel im Innern des  $n$ -Ecks heißen  $n$ -Eckswinkel.

Erklärung 4a. Die Nebenwinkel der  $n$ -Eckswinkel heißen Außenwinkel.

Zusatz zu Erkl. 4 und 4a. Zu jedem im Innern liegenden Winkel gehören zwei Außenwinkel, die einander gleich sind (Schtw.). So lange es sich also nur um die Größe und nicht auch um die Lage des Winkels handelt, kann man von dem Außenwinkel sprechen, der zu einem Dreiecks- oder Vieleckswinkel gehört.

### 32. Dreieckswinkel und Außenwinkel.

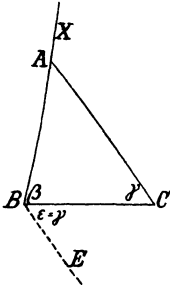
Der Außenwinkel  $X$  ist der Nw. des Winkels  $\alpha$  und deshalb nach Lehrsatz I mit  $\alpha$  durch die Gleichheit  $X + \alpha = 2R$  verbunden.



Zu  $\beta$  steht  $X$  im allgemeinen in keiner angebbaren Beziehung. Der Lage nach sind zwar  $X$  und  $\beta$  Gl. W. an den von  $AB$  geschnittenen Geraden  $AC$  und  $BC$ ; da jedoch  $AC$  und  $BC$  sich schneiden, so kann  $X$  nicht gleich  $\beta$  sein. Wird aber die Gerade  $AC$  um den Punkt  $A$  bis zu der Lage  $AD$  gedreht, in der sie parallel zu  $BC$  ist, so begrenzt sie mit  $AB$  einen Teil  $\delta$  des Winkels  $X$ , der nach Lehrsatz IV gleich  $\beta$  ist. Auch dem Winkel  $\gamma$  kann  $X$  nicht gleich sein, weil  $X$  und  $\gamma$  als W. W. an den von  $AC$  geschnittenen nicht-parallelen Geraden  $AB$  und  $BC$  liegen. Wird aber wiederum die Gerade  $AB$  um den Punkt  $A$  gedreht, bis sie zu  $BC$  parallel verläuft, so bestimmt sie mit  $AC$  einen Teil  $\epsilon$  des Winkels  $X$ , der nach Lehrsatz IV gleich  $\gamma$  ist. Da nun durch den Punkt  $A$  nur eine Parallele zu  $BC$  möglich ist, also die zweite Parallele  $AE$  mit  $AD$  zusammenfallen muß, so sind  $\delta$  und  $\epsilon$  die beiden Teile von  $X$ . Ersetzt man aber  $\delta$  durch  $\beta$  und  $\epsilon$  durch  $\gamma$  (G. II), so ergibt sich  $X = \beta + \gamma$ . Ganz entsprechend lassen sich die Gleichheiten  $Y = \alpha + \gamma$  und  $Z = \alpha + \beta$  ableiten und damit der Satz gewinnen:

**Lehrsatz V.** Jeder Außenwinkel eines Dreiecks ist gleich der Summe der beiden ihm gegenüber liegenden Dreieckswinkel.

Entw. des Bew. für  $X = \beta + \gamma$ . Der Winkel  $X$  soll gleich der Summe von  $\beta$  und  $\gamma$  sein; es muß daher zunächst die Summe von  $\beta$  und  $\gamma$  hergestellt werden. Zu dem Zwecke legt man an  $BC$  in  $B$  einen Winkel  $\epsilon$  von der Größe des Winkels  $\gamma$  an und stellt dadurch eine Gerade  $BE$  her, welche mit  $AB$  einen Winkel  $ABE$  von der Größe  $\beta + \gamma$  bildet. Der Lage nach sind nun  $ABE$  und  $X$  Gl. W., und demnach muß (Wink 3!) bewiesen werden, daß  $BE$  und  $AC$



parallel sind. Eine Vor. ist nicht vorhanden; der Beweisgrund (Wink 2!) muß daher aus der ausgeführten Zeichnung abgeleitet werden.

**Beweis.** Stellt man die Summe  $\beta + \gamma$  her, indem man  $\gamma$  in  $B$  an  $BC$  so anträgt, daß der angelegte Winkel  $\epsilon$  W. W. zu  $\gamma$  ist, so entsteht dadurch eine Gerade  $BE$ , die nach Lehrsatz III zu  $AC$  parallel ist. Da aber  $X$  und  $\beta + \gamma$  ( $ABE$ ) G. W. an  $BE$  und  $AC$  sind, so folgt jetzt nach Lehrsatz IV:  $X = \beta + \gamma$ .

2. Entw. des Bew. Soll  $X = \beta + \gamma$  sein, so muß sich  $X$  in zwei Teile zerlegen lassen, von denen der eine gleich  $\beta$  und der andere gleich  $\gamma$  ist. Mißt man also auf  $X$  das Stück  $\delta = \beta$  ab (Gradmesser!), so muß aus der vorgenommenen Zeichnung bewiesen werden, daß der andere Teil gleich  $\gamma$  ist. Zur Anwendung kommt wieder Lehrs. IV. (S. Fig. in der Ableitung des Satzes.)

**Folgerung 1.** Aus den Gleichheiten  $X = \beta + \gamma$ ,  $Y = \alpha + \gamma$  und  $Z = \alpha + \beta$  folgen die Beziehungen:

$$\alpha = \begin{cases} Y - \gamma \\ Z - \beta \end{cases}, \quad \beta = \begin{cases} X - \gamma \\ Z - \alpha \end{cases}, \quad \gamma = \begin{cases} X - \beta \\ Y - \alpha \end{cases}.$$

Die Beweise derselben können entsprechend wie der Beweis zu Lehrsatz V entwickelt werden.

**Folgerung 2.** Jeder Außenwinkel ist größer als einer der ihm gegenüber liegenden Dreieckswinkel.

**Wink 4.** Um zu beweisen, daß ein Winkel  $\alpha$  größer ist als ein zweiter Winkel  $\beta$ , kann man zu zeigen suchen, daß  $\alpha$  oder ein ihm gleicher Winkel Außenwinkel und  $\beta$  einer der ihm gegenüber liegenden Winkel eines Dreiecks ist.

**Folgerung 3.** Da jeder Außenwinkel kleiner als  $2R$  ist, so kann ein Dreieck niemals zwei rechte oder zwei stumpfe oder einen rechten und einen stumpfen Winkel besitzen.

Die Beziehungen des Außenwinkels zu den sämtlichen Dreieckswinkeln, die für  $X$  die Form besitzen:

$$X + \alpha = 2R \\ \text{und } X = \beta + \gamma,$$

führen durch Anwendung des G. II zu der Gleichheit

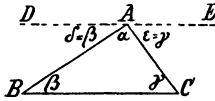
$$\alpha + \beta + \gamma = 2R,$$

und damit zu

**Lehrsatz VI.** Die Summe der drei Winkel eines Dreiecks beträgt stets  $2R$ .

Der Beweis dieses Lehrsatzes kann auch ohne Benutzung des Außenwinkels geführt und aus der Behauptung in folgender Weise entwickelt werden:

Entw. des Bew. Die Form der Behauptung verlangt, daß die Summe  $\alpha + \beta + \gamma$  hergestellt und dann gezeigt wird, daß durch ein flacher Winkel entsteht. Zu dem Zwecke



$AD$  und  $AE$  eine gerade Linie bilden.

**Beweis.** Legt man  $\beta$  in  $A$  an  $AB$  so an, daß der entstehende Winkel  $\delta$  W. W. zu  $\beta$  wird, so ist der zweite Schenkel  $AD$  parallel zu  $BC$ . Ebenso wird  $AE \parallel BC$ , wenn der von  $AE$  und  $AC$  gebildete Winkel  $\epsilon$  gleich  $\gamma$  gezeichnet wird. (Lehrs. IV.) Da aber durch  $A$  nur eine Parallele zu  $BC$  möglich ist (Satz 14), so sind  $AD$  und  $AE$  die beiden Teile einer Geraden. Demnach bildet die Summe  $\delta + \alpha + \epsilon$  einen flachen Winkel, und da  $\delta$  durch  $\beta$  sowie  $\epsilon$  durch  $\gamma$  ersetzt werden kann, so folgt:  $\alpha + \beta + \gamma = 2R$ .

Abbiert man die drei Gleichheiten für die Außenwinkel

$$X = \beta + \gamma, \quad Y = \alpha + \gamma, \quad Z = \alpha + \beta$$

zu einander, so erhält man nach §. IV:

$$X + Y + Z = \underbrace{\alpha + \beta + \gamma}_{2R} + \underbrace{\alpha + \beta + \gamma}_{2R} = 4R$$

und somit die

**Folgerung 1.** Die Summe der Außenwinkel eines Dreiecks beträgt  $4R$ .

Weiterhin ergibt sich aus Lehrs. IV:

**Folgerung 2.** Ist in einem Dreieck ein Winkel ein stumpfer, so sind die beiden anderen spitz, und ihre Summe ist kleiner als  $1R$ .

**Erklärung:** Ein Dreieck mit einem stumpfen Winkel heißt stumpfwinklig.

**Folgerung 3.** Ist in einem Dreieck ein Winkel ein rechter, so sind die beiden anderen spitz, und ihre Summe beträgt  $1R$ .

**Erklärung:** Ein Dreieck mit einem rechten Winkel heißt rechtwinklig. Die Seiten, welche den rechten Winkel einschließen, werden Katheten, und die gegenüber liegende Seite wird Hypotenuse genannt.

**Folgerung 4.** Es dürfen nur zwei Winkel eines Dreiecks beliebig gewählt werden, doch so, daß ihre Summe kleiner als  $2R$  bleibt. Der dritte Winkel ist durch die beiden gegebenen Winkel mitbestimmt.

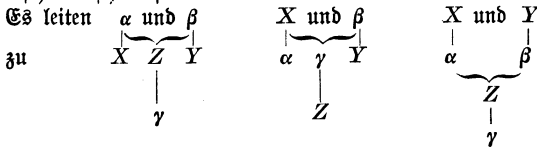
Die Lehrsätze V und VI gestatten die Berechnung der fehlenden Winkelstücke eines Dreiecks, wenn gegeben sind

1. zwei Dreieckswinkel,

2. ein Dreieckswinkel und ein nicht zugehöriger Außenwinkel,

3. zwei Außenwinkel.

Die Ausführung (durch Addition oder Subtraktion) läßt sich in folgender Weise schematisch darstellen:



Folgerung 5. Stimmen zwei Dreiecke in der Größe zweier Winkel oder deren Summen überein, so stimmen sie auch in der Größe der dritten Winkel überein.

Denn nach der Vor. ist  $\alpha + \beta = \alpha' + \beta'$ ,  
 und da nach Lehrsatz VI stets  $\alpha + \beta + \gamma = \alpha' + \beta' + \gamma'$ ,  
 so ergibt die Anwendung des G. IV:  $\gamma = \gamma'$ .

**Wink 5.** Um die Gleichheit zweier Winkel zu beweisen, kann man zu zeigen suchen, daß sie zwei Dreiecken angehören, in denen die Summen aus den beiden anderen Winkeln gleich groß sind.

### 33. Aufgaben.

Aufgabe 20. In einem Dreieck sei  $\alpha = 93^\circ 42' 13''$  und  $\beta = 46^\circ 4' 52''$ ; wie groß sind die übrigen Winkel?

Aufgabe 21. Berechne die übrigen Winkel, wenn  $X = 143^\circ 19' 24''$  und  $\beta = 79^\circ 46' 28''$  ist.

Aufgabe 22. Berechne die Dreieckswinkel, wenn  $X = 122^\circ 34' 16''$  und  $Y = 157^\circ 48' 12''$  ist.

Aufgabe 23. In einem rechtwinkligen Dreieck sei einer der spitzen Winkel  $\alpha = 46^\circ 37' 24''$ ; wie groß ist  $\beta$ , und wie groß sind die Außenwinkel?

Aufgabe 24. In einem Dreieck mit zwei gleichen Winkeln  $\beta$  und  $\gamma$  sei

1.  $\alpha = 76^\circ 37' 48''$ ,
2.  $\beta = 68^\circ 19' 37''$ ;

wie groß sind die fehlenden Winkel?

Aufgabe 25. Beweise, daß die Halbierungslinien zweier Erg. W. bei Parallelen senkrecht auf einander stehen.

Aufgabe 26. Beweise den Satz: Wird in einem Dreieck mit zwei gleichen Winkeln der dritte Winkel halbiert (Gradmesser!), so steht die Halbierungslinie senkrecht auf der Seite, die dem dritten Winkel gegenüber liegt. (Wink 1!).

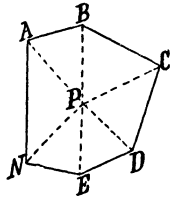
Aufgabe 27. Beweise den Satz: Wird in einem Dreieck mit zwei gleichen Winkeln von der Spitze des dritten Winkels das Lot auf die gegenüber liegende Seite gefällt (Winkel von  $90^\circ$ !), so wird dadurch der dritte Winkel halbiert. (Benutze Folgerung 5 zu Lehrsatz VI.)

Aufgabe 28. Beweise den Satz: Wird in einem rechtwinkligen Dreieck vom Scheitelpunkte des rechten Winkels das Lot auf die Hypotenuse gefällt, so wird das Dreieck in zwei Dreiecke zerlegt, welche unter einander und mit dem ursprünglichen Dreieck in der Größe aller Winkel übereinstimmen.

**Aufgabe 29.** Beweise den Satz: Die Verbindungslinien eines im Innern eines Dreiecks  $ABC$  gelegenen Punktes  $P$  mit  $B$  und  $C$  schließen einen Winkel  $BPC$  ein, welcher größer ist als der Winkel  $BAC$ . (Benutze Folgerung 2 zu Lehrsatz V.)

### 34. Winkel und Außenwinkel des $n$ -Ecks.

Die Winkel von Vielecken können sämtlich konkav oder zum Teil konvex sein. Im letzteren Falle nennt man die Ecken, an denen die konvexen Winkel liegen, einspringende, und diejenigen, an denen die konkaven Winkel liegen, ausspringende Ecken. Wird das Gegenteil nicht besonders hervorgehoben, so werden alle Ecken als ausspringende angenommen.

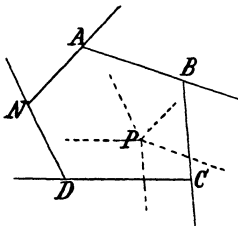


Die Summe der Winkel eines  $n$ -Ecks kann mit Benutzung des Lehrsatzes VI berechnet werden. Verbindet man nämlich einen Punkt  $P$  im Innern des  $n$ -Ecks mit sämtlichen Ecken, so entstehen  $n$  Dreiecke, und die Summe der Winkel in denselben beträgt  $2 R \cdot n = 2 n R$ . Nun sind aber in dieser Summe nicht nur die  $n$ -Eckswinkel, sondern auch die Winkel um den Punkt  $P$  enthalten, und da die letzteren zusammen  $4 R$  betragen, so bleiben für die  $n$ -Eckswinkel  $(2 n - 4) R$  übrig. Zu demselben Schlusse gelangt man, wenn man von einer Ecke aus die sämtlichen Diagonalen zieht. Weil dadurch die Winkel des  $n$ -Ecks auf  $n - 2$  Dreiecke verteilt werden, so betragen sie zusammen  $(n - 2) \cdot 2 R = (2 n - 4) R$ . Man gelangt durch diese Betrachtung zu

**Satz 21.** Die Summe der Winkel eines  $n$ -Ecks beträgt  $(2 n - 4) R$ .

Da jeder Außenwinkel mit dem zugehörigen Winkel des  $n$ -Ecks einen flachen Winkel bildet, so ist die Summe aller Außen- und  $n$ -Eckswinkel gleich  $2 n R$ . Da aber die letzteren allein schon  $(2 n - 4) R$  zusammen betragen, so kann die Summe aller Außenwinkel des  $n$ -Ecks nur gleich  $4 R$  sein. Daraus folgt:

**Satz 22.** Die Summe der Außenwinkel eines Vielecks ist unabhängig von der Seitenzahl und beträgt immer  $4 R$ .



diese legt man in  $P$  den von  $BC$  und  $CD$  gebildeten Außenwinkel wiederum

Will man diesen Satz nicht durch Rechnung aus Satz 21 herleiten, so kann man ihn auch auf folgendem Wege gewinnen: Durch einen Punkt  $P$  (innerhalb oder außerhalb des Vielecks) zieht man die Parallele zu der Seite  $AB$  des Vielecks, legt dann in  $P$  an diese Parallele den Außenwinkel zwischen  $AB$  und  $AC$  so an, daß die Schenkel des entstehenden Winkels mit den Schenkeln des Außenwinkels gleich gerichtet sind, und erhält dadurch die durch  $P$  gehende Parallele zu  $BC$  (Satz 19). An

so an, daß der zweite Schenkel die gleiche Richtung hat wie  $CD$  und nach Satz 19 zu  $CD$  parallel wird. In dieser Weise legt man der Reihe nach die Außenwinkel an einander, bis der vorletzte angetragen und dadurch eine zu  $NA$  parallele Gerade entstanden ist. Mit der zu  $AB$  parallel gezogenen Geraden bildet dieselbe einen Winkel, dessen Schenkel in gleicher Richtung paarweis parallel sind zu den Schenkeln des von  $NA$  und  $AB$  begrenzten Außenwinkels. Nach Satz 20 sind auch diese Winkel einander gleich, und somit wird die Summe aller Außenwinkel durch die Winkel um den Punkt  $P$  herum dargestellt. Die letzteren betragen aber zusammen  $4 R$ , und folglich beträgt die Summe der Außenwinkel eines Vielecks stets  $4 R$ .

### Aufgaben.

Aufgabe 30. Wie groß ist die Summe der Winkel im 5-Eck, 6-Eck, 8-Eck, 24-Eck?

Aufgabe 31. Wie groß ist jeder Winkel in diesen Vielecken, wenn alle Winkel unter einander gleich sind?

Aufgabe 32. Wie groß ist in diesem Falle bei den angegebenen Vielecken jeder Außenwinkel?



### III. Abschnitt.

## Seiten und Winkel.

#### 8. Kapitel.

### Die Kongruenz der Dreiecke. Kongruenzsatz I und II.

Zwei Vielecke werden kongruent ( $\cong$ ) genannt (s. Nr. 15, Erkl.), wenn sie sich zur vollständigen Deckung bringen lassen, und diejenigen Stücke heißen entsprechend, welche bei der Deckung sich gegenseitig bedecken. Daraus folgt:

Folgerung 1. In kongruenten Vielecken sind die entsprechenden Seiten sowie die entsprechenden Winkel gleichgroß.

Nun lassen sich zwei Vielecke zur vollständigen Deckung bringen, wenn die Seiten und Winkel des einen in derselben Reihenfolge gleich den Seiten und Winkeln des anderen sind, und demnach unterscheiden sich zwei kongruente Vielecke nur durch ihre Lage.

In kongruenten Dreiecken sind zwei Seiten entsprechend, welche entsprechenden Winkeln gegenüber liegen, und umgekehrt; da aber die entsprechenden Stücke zweier kongruenten Gebilde gleichgroß sind, so folgt:

Folgerung 2. In kongruenten Dreiecken liegen gleichen Seiten gleiche Winkel und gleichen Winkeln gleiche Seiten gegenüber.

**Wink 6.** Um die Gleichheit zweier Winkel zu beweisen, kann man zu zeigen suchen, daß sie in kongruenten Dreiecken gleichen Seiten gegenüber liegen.

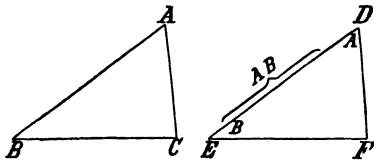
**Wink 7.** Um die Gleichheit zweier Seiten zu beweisen, kann man zu zeigen suchen, daß sie in kongruenten Dreiecken gleichen Winkeln gegenüber liegen.

#### 35. Ableitung der Kongruenzsätze.

Sollen zwei Dreiecke  $ABC$  und  $DEF$  kongruent sein, so müssen sie der Erklärung der Kongruenz gemäß in der Größe aller entsprechenden Seiten und Winkel übereinstimmen. Die Aufgabe, zu dem Dreieck  $ABC$  ein kongruentes Dreieck  $DEF$  zu zeichnen, enthält also drei Bestimmungen über die drei Seiten und drei Be-

stimmungen über die drei Winkel. Nach Folgerung 5 zu Lehrsatz VI sind jedoch zur Erfüllung der drei letzten Bestimmungen bereits zwei von ihnen ausreichend, und demnach bleiben fünf von einander unabhängige Bedingungen, die bei der Ausführung der Aufgabe befriedigt werden müssen. Es fragt sich nun, ob es möglich ist, dieser Anforderung zu genügen.

1. Zunächst kann man den Winkel  $A$  noch einmal zeichnen (Gradmesser!) und ihn  $D$  nennen, auf einem der Schenkel des Winkels  $D$

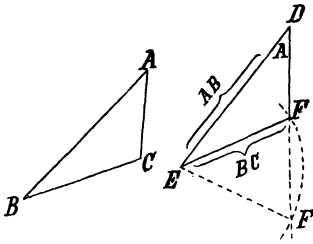


die Seite  $DE = AB$  abmessen (Zirkel!) und schließlich in  $E$  an  $ED$  den Winkel  $B$  anlegen. Es schneiden sich dann die beiden nicht-gemeinsamen Schenkel der Winkel  $D$  und  $E$  in einem Punkte  $F$  und bestimmen dadurch das

Dreieck  $DEF$  vollständig. Bei der Zeichnung werden zwar nur drei Forderungen, nämlich die Übereinstimmung der beiden Dreiecke in der Größe zweier entsprechenden Winkel und der ihnen zugleich anliegenden Seite, erfüllt; allein die Figur läßt erkennen, daß auch den beiden übrig gebliebenen Bedingungen genügt wird. Die Anschauung leitet damit zur Erkenntnis des Satzes, daß die Gleichheit aller entsprechenden Stücke (die Kongruenz) zweier Dreiecke durch die Gleichheit zweier entsprechenden Winkel und der ihnen zugleich anliegenden Seite bestimmt ist.

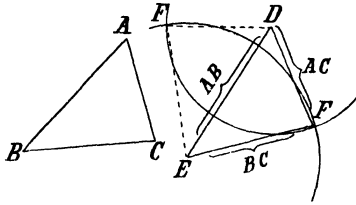
2. Zeichnet man wiederum den Winkel  $D = A$  und mißt auf seinen Schenkeln die Strecken  $DE = AB$  und  $DF = AC$  ab, so ist das Dreieck gleichfalls bestimmt, weil zwischen  $E$  und  $F$  nur eine Gerade möglich ist. Auch jetzt werden durch die Zeichnung nur drei Forderungen, nämlich die Übereinstimmung der Dreiecke in der Größe eines Winkels und der beiden anliegenden Seiten, erfüllt; allein die Figur läßt erkennen, daß auch den übrig gebliebenen Bedingungen genügt wird. Die Anschauung führt damit zu dem Satze, daß die Gleichheit aller entsprechenden Stücke (die Kongruenz) zweier Dreiecke aus der Gleichheit eines Winkels und der beiden einschließenden Seiten folgt.

3. Wird ferner noch einmal der Winkel  $D = A$  und die Seite  $DE = AB$  gezeichnet, so kann man den dritten Punkt  $F$  mit Benutzung der Bestimmungen ermitteln, daß er auf dem zweiten Schenkel des Winkels  $D$  liegen und von  $E$  die Entfernung  $BC$  haben soll. Beides erreicht man, wenn man um  $E$  mit dem Halbmesser  $BC$  einen Kreis beschreibt und von den beiden Schnittpunkten  $F$  desselben mit dem zweiten Schenkel von  $D$  einen als dritte Ecke des neuen Dreiecks annimmt. Wählt man denjenigen, dessen Verbindungslinie mit  $E$  bei  $F$  einen Dreieckswinkel bestimmt, der mit dem Winkel



$C$  gleichzeitig spitz oder stumpf<sup>1)</sup> ist, so zeigt sich von neuem, daß die beiden Dreiecke in der Größe aller entsprechenden Stücke übereinstimmen, obwohl nur die Gleichheit zweier entsprechenden Seiten und eines der nicht eingeschlossenen Winkel erzwungen worden ist.

4. Eine weitere Möglichkeit, die Übereinstimmung in den Winkeln für die Zeichnung zu benutzen, ist nicht mehr vorhanden, da eine Vertauschung der Ecken unter einander einen neuen Weg für die Ausföhrung der Aufgabe nicht liefern kann. Demnach bleibt nur noch der Fall übrig, daß die Übereinstimmung in der Größe der drei Seiten erzwungen wird.



Zu dem Zwecke zeichnet man die Seite  $DE = AB$  und ermittelt den Punkt  $F$  aus den Forderungen, daß  $FD = CA$  und  $FE = CB$  sein soll, indem man um  $D$  mit dem Halbmesser  $AC$  und um  $E$  mit dem Halbmesser  $BC$  Kreise schlägt. Jeder Schnittpunkt derselben kann als

dritter Punkt des Dreiecks  $DEF$  dienen. Die Anschauung lehrt auch bei dieser Zeichnung, daß die beiden Dreiecke  $ABC$  und  $DEF$  in allen entsprechenden Stücken übereinstimmen, daß also die Gleichheit aller entsprechenden Stücke (die Kongruenz) zweier Dreiecke sich ergibt, wenn der Reihe nach die Gleichheit der drei Seiten erzwungen wird.

Von den fünf Forderungen der gestellten Aufgabe können also nicht mehr als drei für die Zeichnung verwandt werden; allein die Anschauung lehrt, daß auf jedem der 4 Wege, auf denen die Zeichnung möglich ist, ein Dreieck entsteht, das mit  $ABC$  in allen entsprechenden Stücken übereinstimmt. Die Anschauung leitet damit zu 4 Sätzen, welche die Kongruenz zweier Dreiecke als eine Folge ihrer Übereinstimmung in drei entsprechenden, von einander unabhängigen Stücken darstellen. Diese Sätze sollen Kongruenzsätze (Kz.) genannt werden.

### 36. Beweis des Kz. I und des Kz. II.

**Lehrsatz VII. Kz. I.** Stimmen zwei Dreiecke überein in der Größe zweier entsprechenden Winkel und der ihnen zugleich anliegenden Seite, so sind sie kongruent.

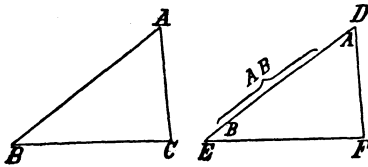
<sup>1)</sup> Ist  $C$  ein rechter Winkel, so entsteht nur ein Punkt  $F$ .

Entw. des Bew. Zwei Dreiecke sind kongruent, wenn sie so auf einander gelegt werden können, daß die drei entsprechenden Ecken auf einander fallen, weil dann nach Satz 1 auch die entsprechenden Seiten sich gegenseitig vollständig bedecken. Nun kann man aber die Dreiecke so auf einander legen, daß zwei entsprechende Paare von Ecken zusammenfallen, und hat daher aus der Vor. abzuleiten, daß auch die dritten Ecken auf einander fallen.

Beweis. Vor. Es sei  $\sphericalangle D = \sphericalangle A$ ,  $DE = AB$ ,  $\sphericalangle E = \sphericalangle C$ .\*)

Beh. Es ist  $\triangle DEF \cong \triangle ABC$ .

Legt man das Dreieck  $DEF$  so auf  $ABC$ , daß der Punkt  $D$  auf  $A$ , die Seite  $DE$  auf  $AB$  und wegen der vorausgesetzten Gleichheit der Seiten



vorangesehten Gleichheit der Seiten  $DE$  und  $AB$  auch der Punkt  $E$  auf  $B$  fällt, so wird der Winkel  $A$  von  $D$  und der Winkel  $B$  von  $E$  bedeckt. Da nun  $\sphericalangle D = \sphericalangle A$  ist, so fällt die Seite  $DF$  auf  $AC$ ; ebenso fällt die Seite  $EF$  auf  $BC$ , weil  $\sphericalangle E = \sphericalangle C$  ist, und demnach

wird auch der Schnittpunkt  $C$  der Seiten  $AC$  und  $BC$  von dem Schnittpunkte  $F$  der Geraden  $DF$  und  $EF$  bedeckt (Satz 2). Es fallen also die entsprechenden Ecken auf einander, und da dieselben Schlussfolgerungen eintreten, wenn  $\triangle ABC$  auf  $\triangle DEF$  gelegt wird, so folgt:  $\triangle DEF \cong \triangle ABC$ .

Zusatz. Stimmen zwei Dreiecke überein in der Größe zweier entsprechenden Winkel und einer entsprechend liegenden Seite, so sind sie kongruent.

Der Satz wird mit Benutzung der Folgerung 5 zu Lehrsatz VI auf Rz. I zurückgeführt.

Anmerkung. Der Rz. I kann nicht benutzt werden, um die Gleichheit zweier Winkel nachzuweisen.

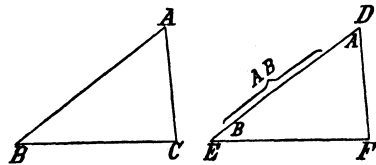
Lehrsatz VIII. Rz. II. Stimmen zwei Dreiecke überein in der Größe zweier entsprechenden Seiten und des von diesen eingeschlossenen Winkels, so sind sie kongruent.

Die Entw. des Bew. stimmt mit der Entwicklung zum Beweise des Rz. I überein und führt zu dem

Beweis. Vor. Es sei  $\sphericalangle D = \sphericalangle A$ ,  $DE = AB$ ,  $DF = AC$ .

Beh. Es ist  $\triangle DEF \cong \triangle ABC$ .

Legt man das Dreieck  $DEF$  so auf  $ABC$ , daß der Punkt  $D$  auf  $A$ , die Seite  $DE$  auf  $AB$ , und weil



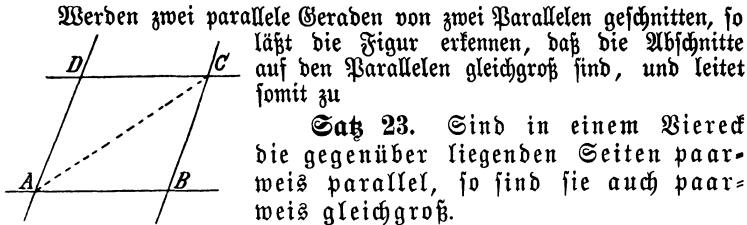
$DE = AB$  ist, auch der Punkt  $E$  auf  $B$  fällt, so wird der Winkel  $A$  von  $D$  bedeckt. Da nun  $\sphericalangle D = \sphericalangle A$  ist, so fällt die Seite  $DF$  auf  $AC$ ; da ferner  $DF = AC$  ist, so fällt auch die dritte Ecke  $F$  auf  $C$ . Die-

\*) Die Voraussetzungen sind in der durch die Zeichnung gegebenen Reihenfolge aufgestellt.

selben Folgerungen treten ein, wenn  $\triangle ABC$  entsprechend auf  $\triangle DEF$  gelegt wird, und demnach ist  $\triangle DEF \cong \triangle ABC$ .

Man kann die beiden Beweise auch so gestalten, daß man aus der Vor. das Zusammenfallen der drei Seiten ableitet, weil dann nach Satz 2 die drei Ecken sich gleichfalls bedecken.

### 37. Übungsbeispiele zu Kz. I und Kz. II.



Werden zwei parallele Geraden von zwei Parallelen geschnitten, so läßt die Figur erkennen, daß die Abschnitte auf den Parallelen gleichgroß sind, und leitet somit zu

**Satz 23.** Sind in einem Viereck die gegenüber liegenden Seiten paarweis parallel, so sind sie auch paarweis gleichgroß.

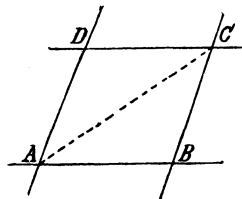
Entw. des Bew. Da die Gleichheit zweier Seitenpaare nachgewiesen werden soll, so verlangt das Verfahren nach Wink 7 die Anwendung des Kz. I. Dreiecke, in denen die Seiten vorkommen, sind noch nicht vorhanden, können aber durch eine der beiden Diagonalen des Vierecks leicht hergestellt werden. Die Diagonale gehört dann beiden Dreiecken an, und die zur Kongruenz noch erforderliche Gleichheit der an derselben liegenden Winkel kann nach Wink 3 bewiesen werden.

Stehen die beiden Geraden  $AD$  und  $BC$  senkrecht auf den Geraden  $AB$  und  $CD$ , so sind sie nach Satz 16 parallel; es folgt daher aus Satz 16 und 23 ver

Zusatz zu Satz 23. Lote zwischen Parallelen sind gleichgroß.

2. Werden auf dem ersten Parallelenpaare die gleichen Stücke  $AB$  und  $DC$  abgemessen und die Verbindungslinien  $AD$  und  $BC$  gezogen, so lehrt die Anschauung, daß  $AD$  parallel und gleich  $BC$  ist, und führt damit zu

**Satz 24.** Ist in einem Viereck ein Paar gegenüber liegender Seiten parallel und gleich, so ist es auch das andere.



Entw. des Bew. Es soll zunächst bewiesen werden, daß  $AD$  parallel zu  $BC$  ist. Nach Wink 2 hat man zu dem Zwecke zu zeigen, daß die durch die Diagonale  $AC$  hergestellten W. W.  $CAD$  und  $ACB$  einander gleich sind, und hierzu nach Wink 6 die Kongruenz der beiden Dreiecke  $ABC$  und  $CDA$  nachzuweisen. Da dann auch  $AD = BC$  ist, so genügt dieser Nachweis für beide Behauptungen. Kz. I ist nicht anwendbar (s. Anmerk. zu Lehrf. VII), und demnach sind aus der Vor. mit Benutzung der Diagonale  $AC$  die Bedingungen des Kz. II abzuleiten.

Steht das Parallelenpaar  $AB$  und  $CD$  gemeinschaftlich senkrecht

auf  $AD$ , so steht es nach Satz 24 und Satz 17 auch senkrecht auf  $BC$ . Daraus folgt:

**Zusatz zu Satz 24.** Sind zwei auf einer Geraden nach derselben Seite errichtete Lote gleichlang, so liegen ihre Endpunkte auf einer Parallelen zu der Geraden.

**Erklärung:** Fällt man von einem Punkte  $P$  das Lot  $PQ$  auf eine Gerade  $AB$ , so begrenzen  $P$  und der Fußpunkt  $Q$  ein Stück des Lotes, das Entfernung oder Abstand des Punktes  $P$  von der Geraden  $AB$  genannt wird.

Mit Benutzung dieser Erklärung können die beiden Zusätze zu Satz 23 und 24 in der Form vereinigt werden:

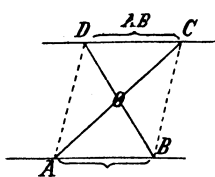
**Satz 25.** Errichtet man auf einer Geraden  $AB$  ein Lot von vorgeschriebener Länge  $l$  und zieht durch seinen Endpunkt die Parallele zu  $AB$ , so enthält diese Parallele alle auf derselben Seite von  $AB$  liegenden Punkte, welche von  $AB$  die Entfernung  $l$  haben.

oder unter Anwendung der in Nr. 17 gegebenen Erklärung des geometrischen Ortes:

**Geometrischer Ort 2.** Die im Abstände  $l$  zu  $AB$  gezogene Parallele ist der geometrische Ort für alle auf derselben Seite von  $AB$  liegenden Punkte, welche von  $AB$  die Entfernung  $l$  haben.

**Anmerkung 1.** Soll also ein Punkt gesucht werden, der von einer gegebenen Geraden die Entfernung  $l$  besitzt, so weiß man, daß derselbe auf der im Abstände  $l$  zu der Geraden gezogenen Parallelen liegt.

**Anmerkung 2.** Der Satz 24 kann zur Zeichnung einer Parallelen ausgenutzt werden. Man errichtet auf der Geraden zwei gleiche Lote und verbindet ihre Endpunkte durch eine gerade Linie.



3. Werden auf zwei Parallelen die gleichen Stücke  $AB$  und  $DC$  abgemessen und die Verbindungslinien  $AC$  und  $BD$  gezogen, so läßt die Figur erkennen, daß diese Linien sich gegenseitig halbieren. Daraus folgt der

**Satz 26.** Sind in einem Viereck zwei gegenüber liegende Seiten gleich und parallel, so halbieren sich die Diagonalen gegenseitig.

**Entw. des Bew.** Da bewiesen werden soll, daß  $AO = CO$  und  $BO = DO$  ist, so hat man nach Anleitung des Wink 7 die Kongruenz der beiden Dreiecke  $AOB$  und  $COD$  aus der Vor. abzuleiten. Kz. II ist nicht anwendbar, weil die Gleichheit zweier Seitenpaare nachgewiesen werden soll. Die Bedingungen des Kz. I ergeben sich aber aus der Vor. durch Anwendung des Lehrsatzes IV.

4. Vertauscht man in dem vorhergehenden Satze die Voraussetzung und Behauptung mit einander, so ergibt sich der

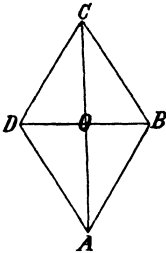
**Satz 27.** Halbieren sich die Diagonalen eines Vierecks

gegenseitig, so sind die gegenüber liegenden Seiten desselben paarweis parallel und nach Satz 23 auch paarweis gleichgroß.

Entw. des Bew. Figur des vorhergehenden Satzes.  $AB$  ist nur dann parallel zu  $CD$ , wenn die durch  $AC$  hergestellten W. W.  $BAO$  und  $DCO$  oder die durch  $BD$  hergestellten W. W.  $ABO$  und  $CDO$  einander gleich sind. Nach Wink 6 ist zum Beweise dieser Gleichheit zu zeigen, daß  $\triangle ABO \cong \triangle CDO$  ist. Ferner ist  $AD$  nur dann parallel zu  $BC$ , wenn  $\sphericalangle DAO = \sphericalangle BCO$  oder  $\sphericalangle ADO = \sphericalangle CBO$  ist, und zum Beweise dieser Gleichheit muß wiederum die Kongruenz der beiden Dreiecke  $ADO$  und  $BDO$  aus der Vor. abgeleitet werden. Kz. I ist nicht anwendbar; die Bedingungen des Kz. II ergeben sich aber aus der Vor., wenn der Lehrsatz II benutzt wird.

Anmerkung. Dieser Satz kann zur Zeichnung von Parallelen benutzt werden.

5. Schneidet man auf jeder von zwei auf einander senkrecht stehenden Geraden von dem Schnittpunkte aus gleiche Stücke ab und verbindet die Endpunkte mit einander, so läßt die Figur erkennen, daß je zwei auf einander folgende Seiten des Vierecks gleichgroß sind, und leitet dadurch zu



**Satz 28.** Halbieren sich die Diagonalen eines Vierecks gegenseitig und stehen sie senkrecht auf einander, so sind alle Seiten des Vierecks gleichgroß.

Entw. des Bew. Zum Beweise der Gleichheit  $AB = BC$  muß nach Wink 7 die Kongruenz der Dreiecke  $AOB$  und  $BOC$  nachgewiesen werden; ebenso ist für den Beweis der Gleichheit  $BC = CD$  die Kongruenz der Dreiecke  $BOC$  und  $COD$  und schließlich für den Beweis der Gleichheiten  $CD = DA$ , bez.  $DA = AB$  die Kongruenz der Dreiecke  $COD$  und  $DOA$ , bez.  $DOA$  und  $AOB$  erforderlich. Da man nur die bei  $O$  liegenden Winkel kennt, so ist Kz. I nicht anwendbar.

Beweis. Vor. Es sei  $AO = CO$ ,  $BO = DO$  und  $BD \perp AC$ .

Beh. Es ist  $AB = BC = CD = DA$ .

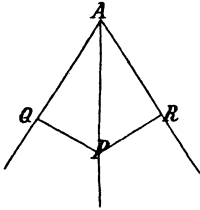
Da die Diagonalen senkrecht auf einander stehen, so sind die Winkel bei  $O$  rechte, also unter einander gleich. Demnach ist nach der Vor.:

$$\begin{array}{l} AO = CO, \text{ bez. } BO = DO \quad \text{u. s. w.} \\ BO = BO \quad CO = CO \\ \sphericalangle AOB = \sphericalangle COB \quad \sphericalangle BOC = \sphericalangle DOC, \text{ und somit} \\ \triangle AOB \cong \triangle COB \quad \triangle BOC \cong \triangle DOC \quad (\text{Kz. II}) \quad \text{u. s. w.} \end{array}$$

Daraus folgt aber  $AB = BC$ ,  $BC = CD$  u. s. w., also  $AB = BC = CD = DA$ .

Anmerkung. Dieser Satz kann benutzt werden zur Zeichnung eines Vierecks mit parallelen Gegenseiten, dessen Seiten unter einander gleich sind.

6. Halbirt man einen Winkel  $A$  (Gradmesser!) und fällt von irgend einem Punkte  $P$  der Halbierungslinie die Lote  $PQ$  und  $PR$  auf die Schenkel, so zeigt die Figur, daß die Lote gleichlang sind, und leitet damit zu

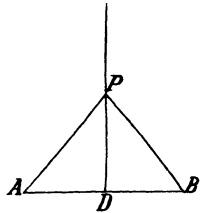


**Satz 29.** Jeder Punkt der Halbierungslinie eines Winkels ist von den Schenkeln desselben gleichweit entfernt.

Entw. des Bew. Zum Beweise der Gleichheit  $PQ = PR$  muß nach Wink 7 die Kongruenz der Dreiecke  $APQ$  und  $APR$  nachgewiesen werden. Da man eine Beziehung zwischen  $AQ$  und  $AR$  nicht kennt, so ist nur

**Kz. I** anwendbar. Die Bedingungen desselben können aus der Vor. nach **G. III** und Folgerung 5 zu **Lehrsatz VI** abgeleitet werden.

Erklärung. Das im Mittelpunkte einer Strecke errichtete Lot heißt **Mittellot** der Strecke.



7. Errichtet man das Mittellot einer Strecke und verbindet einen beliebigen Punkt desselben mit den Endpunkten der Strecke, so läßt die Figur erkennen, daß die beiden Verbindungslinien gleichlang sind, und liefert somit den

**Satz 30.** Jeder Punkt des Mittellotes einer Strecke ist von den Endpunkten derselben gleichweit entfernt.

Entw. des Bew. Die behauptete Gleichheit der Strecken  $PA$  und  $PB$  tritt ein, wenn  $\triangle PAD \cong \triangle PBD$  ist. Da die Vor. nur über die Winkel bei  $D$  Aufschluß giebt, so muß **Kz. II** angewandt werden.

**Beweis:** Vor. Es sei  $AD = BD$  und  $PD \perp AB$ .

Beh. Es ist  $PA = PB$ .

Da  $PD \perp AB$ , also  $\sphericalangle PDA = \sphericalangle PDB$  (beide =  $R$ ),

und weiter nach Vor.  $AD = BD$ ,

sowie nach **G. I**

$$PD = PD,$$

so ist nach **Kz. II**

$$\triangle PAD \cong \triangle PBD,$$

und folglich

$$PA = PB \text{ (entsprechende Stücke).}$$

## 9. Kapitel.

### Das gleichschenklige Dreieck.

#### 38. Lehrsatz über das gleichschenklige Dreieck.

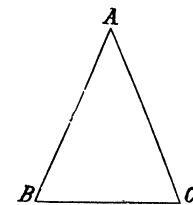
Erklärung 1. Sind in einem Dreieck zwei Seiten gleichgroß, so heißt dasselbe gleichschenklige. Die beiden unter einander gleichen Seiten werden Schenkel, und die dritte Seite wird Grundlinie genannt. Die von den beiden Schenkeln gebildete Ecke heißt Spitze des gleichschenkligen Dreiecks.



**Erklärung 2.** Sind in einem Dreieck alle Seiten gleichgroß, so heißt dasselbe gleichseitig.

**Anmerkung.** Die beiden Aufgaben, 1. ein gleichseitiges Dreieck von gegebener Seitenlänge und 2. ein gleichschenkeliges Dreieck, dessen Grundlinie und Schenkel gegeben sind, zu zeichnen, sind besondere Formen der Aufgabe 2 in Nr. 18.

Die Winkel und Seiten des bei N. I und N. II benutzten Dreiecks  $ABC$  sind im allgemeinen von einander verschieden. Werden jedoch bei der Zeichnung zwei gleiche Winkel, etwa  $B$  und  $C$ , hergestellt, so läßt die Figur erkennen, daß auch die diesen Winkeln gegenüber liegenden Seiten  $AC$  und  $AB$  einander gleich sind. Ebenso lehrt die Anschauung, daß die Winkel  $B$  und  $C$  einander gleich sind, wenn die Seite  $AC$  gleich der Seite  $AB$  gezeichnet worden ist. Diese beiden Beobachtungen leiten zu dem

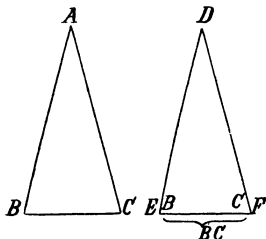


**Satz IX.** Gleichen Winkeln eines Dreiecks liegen gleiche Seiten, und gleichen Seiten eines Dreiecks liegen gleiche Winkel gegenüber.

Der Satz zerfällt in zwei Teile:

a) Gleichen Winkeln eines Dreiecks liegen gleiche Seiten gegenüber.

**Entw. des Bew.** Da die Seiten  $AB$  und  $AC$  demselben Dreieck angehören, so kann zunächst nicht nach Wink 7 verfahren werden. Nach §. III sind aber  $AB$  und  $AC$  auch dann einander gleich, wenn beide einer dritten Strecke gleich sind. Nun ist nach N. I die Seite  $DE$  eines Dreiecks  $DEF$ , das den Forderungen  $EF = BC$ ,  $\sphericalangle E = \sphericalangle B$  und  $\sphericalangle F = \sphericalangle C$  gemäß gezeichnet worden ist, gleich der entsprechenden Seite  $AB$ , und demnach muß aus der Vor. abgeleitet werden, daß  $DE$  auch gleich  $AC$  ist. Die Vor. gestattet aber eine Vertauschung der Winkel  $B$  und  $C$  und damit eine Änderung in der Zuordnung der Seiten und Winkel. Der Beweis nimmt daher die Form an:



**Beweis.** Vor. Es sei  $\sphericalangle B = \sphericalangle C$ .

Beh. Es ist  $AC = AB$ .

Stellt man das Dreieck  $DEF$  den Bedingungen  $EF = BC$ ,  $\sphericalangle E = \sphericalangle B$  und  $\sphericalangle F = \sphericalangle C$  gemäß her, so ist dasselbe kongruent zu  $ABC$  und somit ist  $DE = AB$ . Da aber nach Vor.  $\sphericalangle B = \sphericalangle C$  ist, also der Winkel  $B$  mit dem Winkel  $C$  vertauscht werden kann, so ist auch  $\sphericalangle F = \sphericalangle B$  und  $\sphericalangle E = \sphericalangle C$  und folglich  $\triangle DFE \cong \triangle ABC$ . Bei dieser Kongruenz sind die beiden Seiten  $DE$  und  $AC$  entsprechend, also gleichgroß. Aus  $DE = AB$  und  $DE = AC$  folgt aber nach §. III:  $AC = AB$ .

b) Gleichen Seiten eines Dreiecks liegen gleiche Winkel gegenüber.

Die Entw. des Bew. schließt sich eng an die Entwicklung im Teile a) an; nur müssen Seiten und Winkel mit einander vertauscht werden. Ein anderes Mittel zum Beweise ist bei der Lage der Winkel  $B$  und  $C$  nicht anwendbar.

Beweis. Vor. Es sei  $AB = AC$ .

Beh. Es ist  $\sphericalangle C = \sphericalangle B$ .

Stellt man das Dreieck  $DEF$  (s. Figur zu Teil a) den Bedingungen  $\sphericalangle D = \sphericalangle A$ ,  $DE = AB$  und  $DF = AC$  gemäß her, so ist dasselbe kongruent zu  $ABC$  (Kz. II) und somit  $\sphericalangle E = \sphericalangle B$ . Da aber nach der Vor.  $AB = AC$  die Seiten  $AB$  und  $AC$  mit einander vertauscht werden können (G. II), also auch  $\sphericalangle D = \sphericalangle A$ ,  $DE = AC$  und  $DF = AB$  ist, so ist auch  $\triangle DFE \cong \triangle ABC$ . Bei dieser Kongruenz sind die beiden Winkel  $E$  und  $C$  entsprechend und somit gleich groß. Aus  $\sphericalangle E = \sphericalangle B$  und  $\sphericalangle E = \sphericalangle C$  folgt aber nach G. III:  $\sphericalangle C = \sphericalangle B$ .

Die wiederholte Anwendung des Lehrsatzes IX führt zu der Folgerung 1. Sind in einem Dreieck alle Winkel gleich groß, so ist dasselbe gleichseitig.

Folgerung 2. Im gleichseitigen Dreieck sind alle Winkel gleich groß und jeder von ihnen beträgt  $60^\circ$ .

Sind die beiden Seiten  $AB$  und  $AC$  eines Dreiecks von einander verschieden, so sind es auch die Winkel  $B$  und  $C$ , und umgekehrt erweisen sich die Seiten  $AB$  und  $AC$  als ungleich, wenn die Winkel  $B$  und  $C$  ungleich sind. Die Figur leitet also zu dem

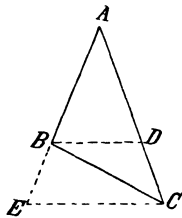
**Zusatz zu Lehrsatz IX.** In einem Dreieck liegt der größeren von zwei Seiten der größere Winkel und dem größeren von zwei Winkeln die größere Seite gegenüber.

Der Zusatz zerfällt in zwei Teile:

a) Der größeren von zwei Seiten eines Dreiecks liegt der größere Winkel gegenüber.

Entw. des Bew. Da die Winkel  $B$  und  $C$  demselben Dreieck angehören, so kann zunächst nicht nach Winkl 4 verfahren werden. Da aber ein anderes Mittel für den Beweis nicht zur Verfügung steht, so muß der Versuch gemacht werden,

einen Hilfswinkel zu zeichnen, der mit  $B$  oder mit  $C$  durch Folgerung 2 zu Lehrsatz V verbunden ist und gleichzeitig mit dem zweiten der beiden Winkel verglichen werden kann, um aus dessen Beziehungen zu  $B$  und  $C$  das Größenverhältnis dieser Winkel selbst zu ermitteln. Nun kann man dadurch, daß man entweder auf  $AC$  das Stück  $AD = AB$  oder auf  $AB$  (und der Verlängerung von  $AB$ ) das Stück  $AE = AC$  abmißt und  $D$  mit  $B$ , bez.  $E$  mit  $C$  verbindet, einen Winkel  $ADB$ , bez.  $AEC$



herstellen, der mit  $B$  und  $C$  verglichen werden kann, und erhält somit auf Grund der Vor. den Beweis in einer der beiden Formen:

Beweis. Vor. Es sei  $AC > AB$ .

Beh. Es ist  $\sphericalangle B > \sphericalangle C$ .

Nimmt man auf  $AC$  das Stück  $AD = AB$  ab und verbindet  $D$  mit  $B$ , so ist der Winkel  $ADB$  ein Außenwinkel des Dreiecks  $BDC$  und somit (Folgerung 2 zu Lehrsatz V)

$$1. \sphericalangle ADB > \sphericalangle C.$$

Nimmt man auf  $AB$  das Stück  $AE = AC$  ab und verbindet  $E$  mit  $C$ , so ist der Winkel  $B$  ( $ABC$ ) ein Außenwinkel des Dreiecks  $BEC$  und somit

$$1. \sphericalangle B > \sphericalangle BEC.$$

Da aber nach der Zeichnung und nach Lehrsatz IX a

$$\sphericalangle ADB = \sphericalangle ABD$$

und der Vor. gemäß  $D$  zwischen  $A$  und  $C$  liegt, also  $\sphericalangle ABD$  nur ein Teil des Winkels  $B$  ist, so folgt:

$$2. \sphericalangle B > \sphericalangle ADB.$$

$$\sphericalangle BEC = \sphericalangle ACE$$

und der Vor. gemäß  $B$  zwischen  $A$  und  $E$  liegt, also der Winkel  $C$  nur ein Teil von  $ACE$  ist, so folgt:

$$2. \sphericalangle BEC > \sphericalangle C.$$

Aus den Beziehungen 1. und 2. ergibt sich aber:

$$\sphericalangle B > \sphericalangle C.$$

b) Dem größeren von zwei Winkeln eines Dreiecks liegt die größere Seite gegenüber.

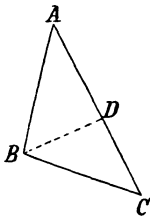
Entw. des Bew. Da keiner der vorausgegangenen Sätze von der Ungleichheit zweier Seiten spricht, so ist es nicht möglich, die Behauptung mit Benutzung bekannter Sätze zu begründen. Der Versuch, mit Hilfe des Lehrsatzes IX b nachzuweisen, daß  $AB$  gleich einem Teile von  $AC$ , also kleiner als  $AC$  sei, führt gleichfalls nicht zum Ziele. Man kann zwar infolge der Vor.  $\sphericalangle B > \sphericalangle C$  den Winkel  $C$  von  $B$  so abtragen, daß ein gleichschenkeliges Dreieck  $DBC$  entsteht, in welchem der Schenkel  $DB$  gleich einem Teile von  $AC$  ist, aber man weiß nichts über die Beziehung zwischen  $DB$  und  $AB$ , und daher bleibt der Versuch erfolglos. Da andere Hilfsmittel nicht zur Verfügung stehen, so muß die indirekte Beweisform angewandt werden.

Beweis. Vor. Es sei  $\sphericalangle B > \sphericalangle C$ .

Beh. Es ist  $AC > AB$ .

Von den beiden Möglichkeiten, die außer der behaupteten Beziehung denkbar sind, führt

die erste  $AC = AB$  zu der Folgerung  $\sphericalangle B = \sphericalangle C$  (IX b), und die andere  $AC < AB$  " " "  $\sphericalangle B < \sphericalangle C$  (Teil a dieses Satzes). Da beide Folgerungen der Vor. widersprechen, und somit die Annahmen  $AC = AB$  und  $AC < AB$  unzulässig sind, so bleibt nur übrig, daß  $AC > AB$  ist.



**Wink 8.** Um zu beweisen, daß  $\left. \begin{array}{l} \text{sein Winkel} \\ \text{eine Seite} \end{array} \right\}$  größer ist als  $\left. \begin{array}{l} \text{sein anderer,} \\ \text{eine andere,} \end{array} \right\}$  kann man beide in ein Dreieck bringen und zu beweisen suchen, daß  $\left. \begin{array}{l} \text{er der größeren Seite} \\ \text{sie dem größeren Winkel} \end{array} \right\}$  gegenüber liegt.

### 39. Übungssätze zur Anwendung des Lehrsatzes IX.

Für das gleichschenklige Dreieck gelten die Sätze:

- a) Der Winkel an der Grundlinie ist stets kleiner als 1 R.
- b) **Satz 31.** Der Außenwinkel an der Spitze ist doppelt so groß wie ein Winkel an der Grundlinie.
- c) Die Halbierungslinie des Außenwinkels an der Spitze ist parallel zu der Grundlinie.
- d) Jede Parallele zur Grundlinie, welche die Schenkel trifft, schneidet ein gleichschenkliges Dreieck von dem gegebenen Dreieck ab.
- e) Jede Parallele zu einem Schenkel, welche den anderen trifft, schneidet ein gleichschenkliges Dreieck ab.
- f) Die Halbierungslinien der Winkel an der Grundlinie sind die Schenkel eines gleichschenkligen Dreiecks.
- g) Wird der Winkel an der Spitze halbiert und ein Punkt der Halbierungslinie mit den Endpunkten der Grundlinie verbunden, so entsteht ein gleichschenkliges Dreieck.
- h) Die Lote von den Endpunkten der Grundlinie auf die gegenüber liegenden Schenkel sind gleichgroß. (Beweis nach Kz. I, Zus.)
- i) Die Verbindungslinien der Endpunkte der Grundlinie mit den Mittelpunkten der gegenüber liegenden Schenkel sind gleichgroß. (Beweis nach Kz. II.)

Mit Benutzung des Zusatzes zu Lehrsatz IX können die Sätze bewiesen werden:

**Satz 32.** Der Abstand eines Punktes von einer Geraden ist kleiner als jede andere von dem Punkte nach derselben gezogene Verbindungslinie.

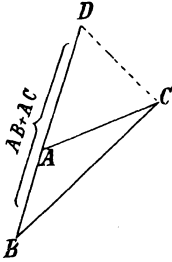
**Satz 33.** In einem rechtwinkligen (stumpfwinkligen) Dreieck ist die dem rechten (stumpfen) Winkel gegenüber liegende Seite größer als jede der beiden anderen.

Erklärung: Das Lot von einer Ecke auf die gegenüber liegende Dreiecksseite wird Höhe des Dreiecks genannt. Zu jeder Seite gehört eine Höhe.

**Satz 34.** Die zu einer Dreiecksseite gehörige Höhe ist kleiner als jede der beiden anderen Seiten.

**Satz 35.** Die Summe zweier Seiten eines Dreiecks ist größer als die dritte.

Entw. des Bew. (für  $(AB + AC) > BC$ ). Die Form der Behauptung verlangt die Herstellung der Summe  $AB + AC$ . Ist nun  $AC$  an  $AB$  von  $A$  aus angetragen und dadurch die Strecke  $BD$  gleich  $AB + AC$  geworden, so hat man nach Wink 8 zu zeigen, daß in dem Dreieck  $BDC$ , das durch die Verbindung der Punkte  $D$  und  $C$  entsteht, der Winkel  $BCD$  größer ist als der Winkel  $BDC$ . Eine Vor. ist nicht vorhanden, und demnach muß die Ungleichheit  $\sphericalangle BCD > \sphericalangle BDC$  aus der ausgeführten Zeichnung (gleichschenkliges Dreieck!) abgeleitet werden.

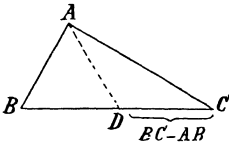


Aus Satz 35 kann durch Rechnung abgeleitet werden:

**Satz 36.** Die Differenz zweier Seiten eines Dreiecks ist stets kleiner als die dritte.

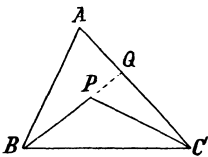
Den geometrischen Beweis liefert die folgende

Entw. des Bew. Die Form der Behauptung  $(BC - AB) < AC$  verlangt die Herstellung der Differenz  $BC - AB$  und dann der Wink 8 den Vergleich der beiden Winkel  $CAD$  und  $ADC$  des Dreiecks  $ADC$ , das durch die Verbindung der Punkte  $A$  und  $D$  entsteht. Da in dem gleichschenkligen Dreieck  $BAD$  der Winkel  $BDA$  stets kleiner als  $1 R$ , sein W.  $ADC$  also ein stumpfer ist, so ergibt sich die Richtigkeit des Satzes entweder nach Satz 33 oder nach Zusatz zu Lehrsatz IX.



Durch Benutzung der beiden vorhergehenden Sätze läßt sich der Satz gewinnen:

**Satz 37.** Verbindet man einen Punkt im Innern eines Dreiecks mit den Endpunkten einer Seite, so ist die Summe der Verbindungslinien kleiner als die Summe der beiden anderen Dreiecksseiten.



Die Ableitung geschieht in folgender Weise: Man verlängert die Strecke  $BP$ , bis sie sich in  $Q$  mit der Seite  $AC$  schneidet, und wendet bei dem Dreieck  $BAQ$  den Satz 35 und bei dem Dreieck  $CPQ$  den Satz 36 an. Man erhält dann:

$$1. (AB + AQ) > (BP + PQ),$$

$$2. (PQ + QC) > PC,$$

$$\text{und somit } (AB + AQ + PQ + QC) > (BP + PQ + PC),$$

$$\text{und da } PQ = PQ,$$

so folgt durch Subtraktion:

$$(AB + AQ + QC) > (PB + PC),$$

$$\text{d. h. } (AB + AC) > (PB + PC).$$

**Aufgabe.** Verbinde  $P$  auch mit  $A$  und beweise dann (mit Benutzung des Satzes 37), daß  $(AB + AC + BC) > (PA + PB + PC)$  ist.

**40. Zwei gleichschenklige Dreiecke. (Drachensatz.)**

Wird über der Grundlinie  $BC$  eines gleichschenkligen Dreiecks  $ABC$  ein zweites gleichschenkliges Dreieck  $DBC$  gezeichnet, dessen Spitze  $D$  mit der Spitze  $A$  auf verschiedenen Seiten von  $BC$  liegt, und wird die Verbindungslinie  $AD$  gezogen, so läßt die Figur erkennen, daß die auf den beiden Seiten von  $AD$  liegenden Dreiecke kongruent sind, daß die Grundlinie sowie die Winkel an den Spitzen halbiert sind und daß  $AD$  senkrecht auf  $BC$  steht. Die Anschauung führt damit zu dem

**Lehrsatz X.** Die Verbindungslinie der Spitzen zweier über derselben Grundlinie stehenden gleichschenkligen Dreiecke

- a) bestimmt mit den Schenkeln zwei kongruente Dreiecke,
- b) halbiert die Winkel an den Spitzen,
- c) steht senkrecht auf der Grundlinie und
- d) halbiert dieselbe.

Entw. des Bew. Zum Beweise der Kongruenz ist nur  $\mathfrak{Kz. II}$  verwendbar, dessen Bedingungen zum Teil in der Vor. enthalten und zum Teil aus derselben nach  $\mathfrak{G. IV}$  mit Hilfe des Lehrsatzes IX ableitbar sind. Die Behauptung b) ist eine Folge der Behauptung a). Dasselbe gilt nach Folg. 5, Lehrf. VI von der Behauptung c). Der Teil d) verlangt den Beweis für die Kongruenz der Dreiecke  $BAE$  und  $CAE$ , der nach  $\mathfrak{Kz. I}$  und auch nach  $\mathfrak{Kz. II}$  geführt werden kann.

**Beweis.** Da  $AB = AC$ , also auch  $\sphericalangle ABC = \sphericalangle ACB$ ,  
und  $DB = DC$ , also auch  $\sphericalangle DBC = \sphericalangle DCB$ ,

und somit  $\sphericalangle ABD = \sphericalangle ACD$  nach  $\mathfrak{G. IV}$  ist, so sind die Bedingungen des  $\mathfrak{Kz. II}$  erfüllt, und demnach ist

$$a) \triangle ABD \cong \triangle ACD.$$

Daraus folgt  $\sphericalangle BAD = \sphericalangle CAD$  und  $\sphericalangle BDA = \sphericalangle CDA$ ,

b. h. b) die Winkel  $A$  und  $D$  sind halbiert.

Ferner stimmen nun die Dreiecke  $BAE$  und  $CAE$  in zwei Winkeln überein, und daher ist  $\sphericalangle AEB = \sphericalangle AEC$ , also  $\sphericalangle AEB = 1 R$ , und folglich

c)  $AD \perp BC$ .

Schließlich ist jetzt in den Dreiecken  $BAE$  und  $CAE$  entweder

$$\begin{array}{l} AB = AC, \text{ oder } \sphericalangle BAE = \sphericalangle CAE, \\ \sphericalangle ABE = \sphericalangle ACE, \quad AB = AC, \\ \sphericalangle BAE = \sphericalangle CAE, \quad AE = AE, \end{array}$$

und somit  $\triangle BAE \cong \triangle CAE$  nach  $\mathfrak{Kz. I}$  oder  $\mathfrak{Kz. II}$ .

Daraus folgt d)  $BE = CE$ .

**Anmerkung.** Eine Änderung in den Beziehungen tritt nicht ein, wenn  $D$  mit  $A$  auf derselben Seite von  $BC$  liegt.

**Erklärung.** Die Ähnlichkeit der Figur mit einem Drachen (Spielzeug!) giebt Veranlassung, den Lehrsatz X als **Drachensatz** zu bezeichnen.

**41. Aufgaben.**

Der Inhalt des Drachensatzes gestattet, ohne Benutzung des Maßstabes und Gradmessers die folgenden (Grund-) Aufgaben auszuführen.

**Aufgabe 33.** Eine Strecke  $AB$  zu halbieren.

**Auflösung.** In der Figur des Drachensatzes wird die gemeinschaftliche Grundlinie halbiert. Kann man also die Figur dieses Lehrsatzes so herstellen, daß  $AB$  die gemeinschaftliche Grundlinie wird, so ist die Aufgabe gelöst.

**Zeichnung.** Man errichtet über  $AB$  zwei gleichschenklige Dreiecke und verbindet deren Spitzen mit einander.

**Anmerkung 1.** Durch zwei um  $A$  und  $B$  mit demselben Halbmesser beschriebene Kreise, die sich schneiden, werden die Spitzen der gleichschenkligen Dreiecke am einfachsten bestimmt.

**Anmerkung 2.** Die Lösung der Aufgabe 33 liefert gleichzeitig das Mittellot der Strecke  $AB$ .

**Aufgabe 34.** Einen Winkel  $A$  zu halbieren.

**Auflösung.** Nach dem Drachensatz wird der Winkel  $A$  halbiert, wenn die Figur so hergestellt wird, daß  $A$  einer der Winkel an den Spitzen ist.

**Zeichnung.** Auf den Schenkeln des Winkels  $A$  mißt man die beiden gleichen Stücke  $AB$  und  $AC$  ab, verbindet  $B$  mit  $C$  und errichtet über  $BC$  ein zweites gleichschenkliges Dreieck  $DBC$ . Die Verbindungslinie  $DA$  halbiert dann den Winkel  $A$ .

**Aufgabe 35.** In einem Punkte  $P$  einer Geraden  $AB$  das Lot auf derselben zu errichten.

**Auflösung.** Das Lot in  $P$  bildet mit  $AB$  zwei rechte Winkel, und da ein rechter Winkel die Hälfte eines flachen ist, so besteht die Aufgabe darin, den flachen Winkel  $APB$  zu halbieren. S. Aufg. 34.

**Anmerkung.** Damit ist gleichzeitig die Aufgabe gelöst, mit Hilfe des Zirkels und Lineals einen rechten Winkel zu zeichnen. Durch weitere Halbierungen erhält man  $45^\circ$ ,  $22\frac{1}{2}^\circ$  u. s. w. Ebenso lassen sich aus  $60^\circ$  (gleichseitiges Dreieck!) durch Halbierungen die Winkel von  $30^\circ$ ,  $15^\circ$ ,  $7\frac{1}{2}^\circ$  u. s. w. herstellen.

**Aufgabe 36.** Von einem Punkte  $P$  außerhalb einer Geraden  $AB$  das Lot auf dieselbe zu fällen.

**Auflösung.** In der Figur zum Drachensatz steht die Verbindungslinie der Spitzen senkrecht auf der gemeinschaftlichen Grundlinie. Läßt sich also bewirken, daß  $P$  die Spitze eines gleichschenkligen Dreiecks wird, dessen Grundlinie auf  $AB$  liegt (Aufgabe 4), so hat man über dieser Grundlinie ein zweites gleichschenkliges Dreieck zu zeichnen und dessen Spitze mit  $P$  zu verbinden, um das verlangte Lot herzustellen.

**Zeichnung.** Man beschreibt um  $P$  einen Kreis, der  $AB$  in den Punkten  $Q$  und  $R$  schneidet, errichtet über  $QR$  ein gleichschenkliges Dreieck und verbindet die Spitze desselben mit  $P$ .

**Aufgabe 37.** Durch einen Punkt  $P$  außerhalb einer Geraden  $AB$  die Parallele zu  $AB$  zu ziehen.

**Auflösung.** Zwei Geraden sind parallel, wenn sie mit einer dritten Geraden z. B. gleiche W. W. bilden. Die Größe dieser Winkel ist beliebig, kann also auch gleich  $R$  angenommen werden. Fällt man demnach von  $P$  auf  $AB$  das Lot  $PQ$  und errichtet dann in  $P$  auf  $PQ$  das Lot  $PR$  (Aufgabe 35), so ist  $PR \parallel AB$ .

### Weitere Aufgaben.

Aufgabe 38. Einen rechten Winkel in drei gleiche Teile zu zerlegen.

Aufgabe 39. Einen Winkel von  $120^\circ$ ,  $135^\circ$ ,  $150^\circ$ ,  $165^\circ$ ,  $105^\circ$ ,  $67\frac{1}{2}^\circ$ ,  $52\frac{1}{2}^\circ$  zu zeichnen.

Aufgabe 40. Ein Dreieck  $ABC$  zu zeichnen, in welchem

$$AB = 5 \text{ cm, } \sphericalangle A = 90^\circ, \sphericalangle B = 60^\circ,$$

$$\text{oder } AB = 6 \text{ cm, } \sphericalangle A = 45^\circ, \sphericalangle B = 105^\circ,$$

$$\text{oder } AB = 4 \text{ cm, } \sphericalangle A = 67\frac{1}{2}^\circ, \sphericalangle B = 82\frac{1}{2}^\circ \text{ ist.}$$

Aufgabe 41. Ein gleichschenkliges Dreieck zu zeichnen, in welchem der Winkel an der Spitze  $52\frac{1}{2}^\circ$  und der Schenkel 5 cm groß ist.

Aufgabe 42. Ein gleichschenkliges Dreieck zu zeichnen, dessen Grundlinie 8 cm und dessen Winkel an der Grundlinie  $37\frac{1}{2}^\circ$  (oder dessen Winkel an der Spitze  $75^\circ$ ) groß ist.

## 10. Kapitel.

### Die Kongruenzsätze III und IV.

#### 42. Beweis zu $\text{Kz. III}$ und $\text{Kz. IV}$ .

Nach dem Zusage zu Lehrsatz IX liegt der größeren von zwei Seiten eines Dreiecks der größere Winkel gegenüber. Der Winkel, welcher in einem Dreieck der kleineren von zwei Seiten gegenüber liegt, ist daher stets ein spitzer, und demnach kann man den dritten der in Nr. 35 gewonnenen Sätze in der folgenden Form aussprechen:

**Lehrsatz XI. Kz. III.** Stimmen zwei Dreiecke überein in der Größe zweier entsprechenden Seiten und des Gegenwinkels der größeren, so sind sie kongruent.

Unter der Annahme  $AC > AB$  und  $DF > DE$  lautet die

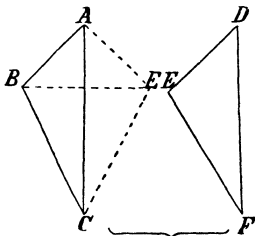
Vor. Es sei  $DE = AB$ ,  $\sphericalangle E = \sphericalangle B$ ,  $DF = AC$ .

Beh. Es ist  $\triangle DEF \cong \triangle ABC$ .

Entw. des Bew. Dem bei  $\text{Kz. I}$  und  $\text{Kz. II}$  angewandten Verfahren entsprechend, kann man das Dreieck  $DEF$  so auf  $ABC$  legen, daß der Punkt  $E$  auf  $B$ , die Seite  $ED$  auf  $BA$  und wegen der Gleichheit der Seiten  $DE$  und  $AB$  auch der Punkt  $D$  auf  $A$  fällt. Es liegt dann auch die Seite  $EF$  auf  $BC$ , weil  $\sphericalangle E = \sphericalangle B$  ist. Da aber die Vor. weder über das Größenverhältnis der Seiten  $EF$  und  $BC$ , noch über die Winkel  $D$  und  $A$  etwas aussagt, so



kann nicht bewiesen werden, daß auch die dritten Ecken, und ebenso nicht, daß die dritten Seiten zusammenfallen, und demnach ist ein



Beweis der Kongruenz durch Deckung nicht möglich. Man muß daher versuchen, aus der Vor. die Bedingungen zu einem bereits bewiesenen Satze abzuleiten. Legt man aber das Dreieck  $DEF$  so an das Dreieck  $ABC$ , daß die Seite  $DF$  auf  $AC$ , der Punkt  $D$  auf  $A$  und wegen der Gleichheit der Seiten  $DF$  und  $AC$  auch der Punkt  $F$  auf  $C$  fällt, und verbindet man dann  $E$  mit  $B$ , so weist die

Figur auf den Drachensatz hin. Man hat daher zum Beweise der Kongruenz aus der Vor. die Bedingungen des Drachensatzes abzuleiten.

**Beweis.** Ist das Dreieck  $DEF$  in der angegebenen Weise an das Dreieck  $ABC$  gelegt und  $E$  mit  $B$  verbunden, so ist das Dreieck  $ABE$  gleichschenkelig, also

$$\sphericalangle AEB = \sphericalangle ABE.$$

Da aber nach der Vor.

$$\sphericalangle AEC = \sphericalangle ABC,$$

so ergibt die Anwendung des G. IV:

$$\sphericalangle CEB = \sphericalangle CBE,$$

und somit ist nach Lehrsatze IX a

$$CE = CB.$$

Es stehen also über  $BE$  zwei gleichschenkelige Dreiecke, und daher ist nach Lehrsatze Xa  $\triangle AEC \cong \triangle ABC$ , also auch  $\triangle DEF \cong \triangle ABC$ .

**Lehrsatz XII. Kz. IV.** Stimmen zwei Dreiecke überein in der Größe aller entsprechenden Seiten, so sind sie kongruent.

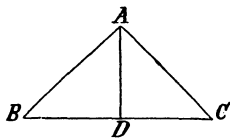
**Entw. des Bew.** Ein Deckungsbeweis ist auch hier nicht ausführbar. Man kann zwar das zweite Dreieck so auf das erste legen, daß z. B. die Seite  $DE$  auf  $AB$ , der Punkt  $D$  auf  $A$ , und weil  $DE = AB$  ist, auch der Punkt  $E$  auf  $B$  fällt; allein da die Vor. eine Beziehung zwischen den Winkeln  $D$  und  $A$ , sowie zwischen  $E$  und  $B$  nicht enthält, so läßt sich das Zusammenfallen der zweiten Schenkel dieser Winkelpaare nicht beweisen, und folglich auch nicht die Deckung der dritten Eckpunkte. Die weitere Entwicklung wie bei Kz. III. Die Bedingungen des Drachensatzes folgen ohne weiteres aus der Vor.

**Anmerkung 1.** Die Beweise zu Kz. III und Kz. IV können auch mit Benutzung des Kz. II geführt werden.

**Anmerkung 2.** Kz. IV ist nicht anwendbar, wenn die Gleichheit zweier Strecken bewiesen werden soll.

**43. Übungsbeispiele zu Kz. III und Kz. IV.**

Wird in einem gleichschenkligen Dreieck die zur Grundlinie gehörige Höhe gefällt, so lehrt die Anschauung, daß durch die Höhe die Grundlinie und der Winkel an der Spitze halbiert wird, und führt somit zu



**Satz 38.** In einem gleichschenkligen Dreieck halbiert die zur Grundlinie gehörige Höhe den Winkel an der Spitze und die Grundlinie.

Entw. des Bew. Den Beweis für den ersten Teil der Behauptung liefert die Lösung der Aufgabe 27. Für den zweiten Teil ist nach Wink 7 zu verfahren, also die Kongruenz der beiden neben der Höhe liegenden Dreiecke zu beweisen. Die Benutzung des Kz. III, dessen Bedingungen aus der Vor. mit Anwendung des G. I und G. III abgeleitet werden können, führt am einfachsten zum Ziele.

Erklärung: Die Verbindungslinie einer Ecke mit dem Mittelpunkt der gegenüber liegenden Dreiecksseite heißt Mittellinie. Zu jeder Seite gehört eine Mittellinie.

2. Wird weiter\*) die Spitze eines gleichschenkligen Dreiecks mit dem Mittelpunkt der Grundlinie verbunden, so leitet die Figur (s. Fig. zu Satz 38) zu dem

**Satz 39.** In einem gleichschenkligen Dreieck steht die zur Grundlinie gehörige Mittellinie senkrecht auf der Grundlinie und halbiert den Winkel an der Spitze.

Entw. des Bew. Vor. Es sei  $AB = AC$  und  $BD = CD$ .

Beh. Es ist  $AD \perp BC$  und  $\sphericalangle BAD = \sphericalangle CAD$ .

Nach Wink 1 ist zunächst zu beweisen, daß  $\sphericalangle ADB = \sphericalangle ADC$  ist. Bei der Lage der Winkel muß zu dem Zwecke gezeigt werden, daß  $\triangle ADB \cong \triangle ADC$  ist. Da dann aber auch  $\sphericalangle BAD = \sphericalangle CAD$  ist, so genügt diese Kongruenz für beide Behauptungen. Am bequemsten gestaltet sich die Anwendung des Kz. IV; indessen kann auch Kz. II benutzt werden.

Da in einem Punkte einer Geraden nur ein Lot auf derselben möglich ist, also das Mittellot der Grundlinie  $BC$  des gleichschenkligen Dreiecks  $ABC$  nach Satz 38 mit der Höhe  $AD$  zusammenfallen muß, so ergibt sich der

Zusatz zu Satz 38 oder 39. In einem gleichschenkligen Dreieck geht das Mittellot der Grundlinie stets durch die Spitze.

und hieraus die

Folgerung. Die Spitzen aller über derselben Grundlinie stehenden gleichschenkligen Dreiecke liegen auf dem Mittellote der Grundlinie.

In Verbindung mit Satz 30 führt diese Folgerung zu dem

**Geometr. Ort 3.** Das Mittellot einer Strecke ist der geometrische Ort für alle Punkte, die von den beiden Endpunkten der Strecke gleichweit entfernt sind.

3. Wird schließlich in einem gleichschenkligen Dreieck der Winkel an der Spitze halbiert, so leitet die Figur zu

**Satz 40.** In einem gleichschenkligen Dreieck steht die Halbierungslinie des Winkels an der Spitze senkrecht auf der Grundlinie und halbiert dieselbe.

\*) Die Sätze 39 und 40 sind natürlich als Folgerungen aus Satz 38 anzusehen (s. Satz 41). Hier dienen sie lediglich als Übungsbeispiele.

Entw. des Bew. Vor. Es sei  $AB = AC$  und  $\sphericalangle BAD = \sphericalangle CAD$ .

Beh. Es ist  $AD \perp BC$  und  $BD = CD$ .

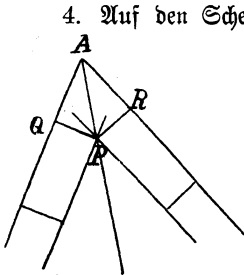
Den Beweis für den ersten Teil der Behauptung liefert die Lösung der Aufgabe 26. Für den zweiten Teil ist nach Wink 7 die Kongruenz der Dreiecke  $ADB$  und  $ADC$  aus der Vor. abzuleiten. Zur Verwendung können Kz. I, Kz. II und nach einem kleinen Umwege auch Kz. III gelangen.

Die Sätze 38—40 können mit dem Zus. zu Satz 38 vereinigt werden in dem folgenden

**Satz 41.** In einem gleichschenkligen Dreieck sind

- a) das zur Grundlinie gehörige Mittellot,
- b) die " " " Mittellinie,
- c) die " " " Höhe

und d) die Halbierungslinie des Winkels an der Spitze stets dieselbe Linie.



4. Auf den Schenkeln eines Winkels  $A$  werden gleichlange Lote errichtet und durch die Endpunkte derselben Parallelen zu den Schenkeln gezogen, auf denen sie senkrecht stehen. Wird dann der Schnittpunkt  $P$  dieser Parallelen mit der Spitze  $A$  verbunden, so lehrt die Anschauung, daß die Verbindungslinie  $PA$  den Winkel  $A$  halbiert, und leitet damit zu

**Satz 42.** Sind die Abstände eines Punktes von den Schenkeln eines Winkels gleichgroß, so liegt der Punkt auf der Halbierungslinie des Winkels.

Entw. des Bew. Vor. Es sei  $PQ \perp AQ$ ,  $PR \perp AR$ ,  $PQ = PR$ .

Beh. Es ist  $\sphericalangle PAQ = \sphericalangle PAR$ .

Bei der Lage der Winkel ist nach Wink 6 zu verfahren und die Kongruenz der Dreiecke  $PAQ$  und  $PAR$  zu beweisen. Man weiß, daß die Winkel  $PQA$  und  $PRA$  rechte sind; man weiß ferner, daß die Lote gleichlang sind und daß  $PA$  beiden Dreiecken angehört, und kann daraus die Bedingungen des Kz. III leicht ableiten.

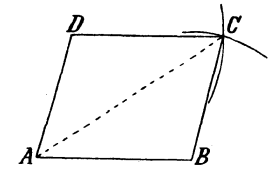
Die Verbindung dieses Satzes mit Satz 29 liefert den **Geometr. Ort 4.** Die Halbierungslinie eines Winkels ist der geometrische Ort für alle Punkte, welche von seinen Schenkeln gleichen Abstand haben.

Anmerkung. Zwei sich schneidende Geraden bilden mit einander vier Winkel, deren Halbierungslinien ein sich rechtwinklig schneidendes Geradenkreuz (Satz 8) zusammensetzen. Dieses Geradenkreuz enthält alle Punkte, welche von den beiden ersten Geraden gleichweit entfernt sind.

5. Durch Umkehrung des Satzes 23 erhält man:

**Satz 43.** Sind in einem Viereck die gegenüber liegenden Seiten paarweis gleichgroß, so sind sie auch paarweis parallel.

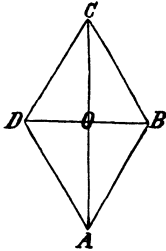
Entw. des Bew. Vor. Es sei  $AB = CD$  und  $AD = BC$ .  
 Beh. Es ist  $AB \parallel CD$  und  $AD \parallel BC$ .



Nach Wink 2 hat man zu zeigen, daß die Geraden  $AB$  und  $CD$  mit einer dritten Geraden gleiche Gl. W. oder W. W. bilden, und daselbe gilt von den Geraden  $AD$  und  $BC$ . Nimmt man als schneidende Gerade für beide Paare eine der Diagonalen, etwa  $AC$ , so muß man beweisen, daß  $\sphericalangle BAC = \sphericalangle DCA$  und  $\sphericalangle BCA = \sphericalangle DAC$  ist. Dies kann nach Wink 6 dadurch geschehen, daß man die Kongruenz der beiden Dreiecke  $ABC$  und  $CDA$  nachweist. Anwendbar ist nur Kz. IV, da Kz. I, Kz. II und Kz. III die Gleichheit von Winkeln bereits voraussetzen und hier alle Winkel unbekannt sind.

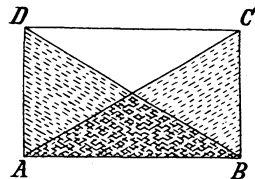
6. Auch der Satz 28 kann umgekehrt werden und führt dann zu **Satz 44**. Sind alle Seiten eines Vierecks gleichgroß, so stehen seine Diagonalen senkrecht auf einander und halbieren sich gegenseitig.

Entw. des Bew. Vor. Es sei  $AB = BC = CD = DA$ .  
 Beh. Es ist  $AC \perp BC$ ,  $AO = CO$  und  $BO = DO$ .



Die Figur erinnert an den Drachensatz, dessen Anwendung am bequemsten zum Ziele führt. Die Bedingungen desselben sind in der Vor. erfüllt, einerlei ob man  $A$  und  $C$  oder  $B$  und  $D$  als Spitzen der gleichschenkligen Dreiecke wählt. Nach Teil c) des Lehrf. X ist deshalb  $AC \perp BD$  und nach Teil d)  $AO = CO$ , sowie  $BO = DO$ .

7. Wenn in der Figur des Satzes 27 die beiden Diagonalen gleichgroß gezeichnet werden, so lehrt die Anschauung, daß nicht nur die gegenüber liegenden, sondern auch die auf einander folgenden Winkel gleichgroß sind. Da nun die Summe aller Winkel eines Vierecks  $4R$  beträgt, so ist jeder der unter einander gleichen Winkel ein rechter, und somit ergibt sich der



**Satz 45.** Sind in einem Viereck mit paarweis gleichen (und deshalb nach Satz 43 auch paarweis parallelen) Gegenseiten die Diagonalen gleichgroß, so sind alle Winkel desselben rechte Winkel.

Entw. des Bew. Vor. Es sei  $AB = CD$ ,  $AD = BC$  und  $AC = BD$ .  
 Beh. Es ist  $\sphericalangle A = \sphericalangle B = \sphericalangle C = \sphericalangle D = R$ .

Da  $\sphericalangle C = \sphericalangle A$  und  $\sphericalangle D = \sphericalangle B$  ist (Satz 18), so genügt es, zu beweisen, daß  $\sphericalangle A = \sphericalangle B = R$  ist. Nun sind  $A$  und  $B$  Erg. W. bei den Parallelen  $AD$  und  $BC$ . Nach Lehrf. IV ist daher  $A + B = 2R$ , und demnach bleibt der Nachweis zu liefern, daß  $\sphericalangle A = \sphericalangle B$  ist. Bei der Lage der Winkel kann nur nach Wink 6 verfahren werden. Die beiden

Winkel liegen in den Dreiecken  $BAD$  und  $ABC$  den gleichen Seiten  $BD$  und  $AC$  gegenüber und sind deshalb gleichgroß, wenn diese Dreiecke kongruent sind. Zur Verwendung kann nur Kz. IV ( $AB = AB$ ,  $AD = BC$  und  $BD = AC$ ) gelangen, da die Beziehungen zwischen den entsprechenden Winkeln sämtlich unbekannt sind.

Die Umkehrung des vorhergehenden Satzes lautet:

**Satz 46.** Sind die Winkel in einem Viereck mit paarweise parallelen Gegenseiten rechte Winkel, so sind die Diagonalen gleichgroß.

Der Beweis dieses Satzes wird mit Benutzung derselben Dreiecke  $ABC$  und  $BAD$  durch Anwendung des Kz. II geliefert.

#### 44. Übungsbeispiele zu Kz. I bis Kz. IV.

1. Für das gleichschenklige Dreieck gelten die folgenden, leicht zu beweisenden Sätze:

**Satz 47.** Gleichschenklige Dreiecke sind kongruent, wenn sie übereinstimmen in der Größe

- a) der Grundlinie und eines Winkels an der Grundlinie (Kz. I),
- b) der Grundlinie und des Winkels an der Spitze (Kz. I),
- c) der Grundlinie und eines Schenkels (Kz. IV),
- d) eines Schenkels und des Winkels an der Spitze (Kz. II),
- e) eines Schenkels und eines Winkels an der Grundlinie (Kz. I),
- f) der Grundlinie und der zur Grundlinie oder zu einem Schenkel gehörigen Höhe (Kz. II und Kz. I),
- g) eines Schenkels und der zu einem Schenkel oder der Grundlinie gehörigen Höhe (Kz. III).

**Satz 47a.** Ein Dreieck ist gleichschenklig, wenn a) eine seiner Höhen mit der zugehörigen Mittellinie zusammenfällt (Kz. II) und b) zwei seiner Höhen gleichgroß sind (Kz. III).

2. Für das rechtwinklige Dreieck gelten die Sätze:

**Satz 48.** Rechtwinklige Dreiecke sind kongruent, wenn sie übereinstimmen in der Größe

- a) der beiden Katheten (Kz. II),
- b) einer Kathete und des ihr anliegenden spitzen Winkels (Kz. I),
- c) einer Kathete und des gegenüber liegenden Winkels (Kz. I),
- d) der Hypotenuse und einer Kathete (Kz. III),
- e) der Hypotenuse und eines spitzen Winkels (Kz. I).

Folgerung aus 48 b oder c. Gleichseitige Dreiecke sind kongruent, wenn sie in der Größe einer Höhe übereinstimmen.

3. **Satz 49.** Sind in einem Viereck zwei gegenüber liegende Seiten parallel und zwei gegenüber liegende Winkel gleichgroß, so ist auch das zweite Paar der gegenüber liegenden Seiten parallel.

Die Entwicklung führt dazu, die Diagonale, welche den gleichen Winkeln gegenüber liegt, zu ziehen und dann Kz. I, Zus. zu benutzen.

**Satz 50.** Wird ein Viereck durch jede seiner Diagonalen

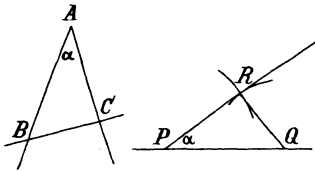
in zwei kongruente Dreiecke zerlegt, so sind seine gegenüber liegenden Winkel paarweis gleich und seine gegenüber liegenden Seiten paarweis parallel.

Der Satz ist ein Übungsbeispiel zur Bestimmung der entsprechenden Stücke in zwei kongruenten Dreiecken.

### 45. Aufgaben.

**Aufgabe 43.** (Grund-Aufgabe). In einem gegebenen Punkte  $P$  einer Geraden  $G$ . (ohne Benutzung des Gradmessers) einen gegebenen Winkel  $\alpha$  an dieselbe anzulegen.

**Auflösung.** Angenommen, die Zeichnung sei ausgeführt, so muß nachgewiesen werden können, daß der angelegte Winkel  $QPR$  gleich  $\alpha$  ist. Bei der beliebigen Lage des Winkels  $\alpha$  kann dieser Beweis nur nach Satz 6 geliefert werden. Demnach hat man zwei kongruente Dreiecke herzustellen, in denen  $\alpha$  und  $QPR$  als entsprechende Winkel vorkommen. Dieser Forderung genügt man, wenn man die Schenkel des Winkels  $\alpha$  durch eine Gerade in den Punkten  $B$  und  $C$  schneidet und das



Dreieck  $ABC$  noch einmal so zeichnet, daß  $P$  der Ecke  $A$  entspricht und die  $AB$  entsprechende Seite auf der gegebenen Geraden liegt. Zur Anwendung kann nur Satz IV gelangen, und daher ist das zweite Dreieck so herzustellen, daß es mit  $ABC$  in der Größe aller Seiten übereinstimmt. Werden die Punkte  $B$  und  $C$  so gewählt, daß  $AB = AC$  ist, so erhält man hiernach die

**Zeichnung.** Man beschreibe um den Scheitelpunkt  $A$  des Winkels  $\alpha$  einen Kreis, der die Schenkel in  $B$  und  $C$  trifft, schlägt um  $P$  mit demselben Halbmesser einen Kreis, der die Gerade in  $Q$  schneidet, zeichnet dann um  $Q$  mit dem Halbmesser  $BC$  einen weiteren Kreis, der den um  $P$  beschriebenen Kreis in  $R$  trifft, und verbindet schließlich  $R$  mit  $P$ .

**Aufgabe 44.** Durch einen Punkt  $P$  außerhalb einer Geraden  $AB$  (ohne Benutzung des Gradmessers) die Parallele zu derselben zu ziehen.

**Auflösung.** Nach Satz III sind zwei Geraden parallel, wenn sie mit einer dritten Geraden gleiche St. W. bilden. Zieht man also durch  $P$  eine Gerade, welche  $AB$  schneidet, und legt einen der entstandenen Winkel in  $P$  an die schneidende Gerade so an, daß St. W. entstehen, so ist der zweite Schenkel des angelegten Winkels die gesuchte Parallele.

**Erklärung.** Zur Abkürzung sollen bei dem Dreieck  $ABC$  bezeichnet werden die Seite  $BC$  mit  $a$ ,  $AC$  mit  $b$ ,  $AB$  mit  $c$ , der Winkel  $A$  mit  $\alpha$ ,  $B$  mit  $\beta$ ,  $C$  mit  $\gamma$ , die Höhe zu  $BC$  mit  $h_a$ , zu  $AC$  mit  $h_b$ , zu  $AB$  mit  $h_c$ , die Mittellinie zu  $BC$  mit  $m_a$ , zu  $AC$  mit  $m_b$ , zu  $AB$  mit  $m_c$ , und entsprechend die drei Winkelhalbierenden mit  $w_\alpha$ ,  $w_\beta$ ,  $w_\gamma$ .

**Aufgabe 45.** Ein Dreieck zu zeichnen aus  $\alpha$ ,  $\beta$ ,  $\gamma$ .

**Aufgabe 46.** Ein Viereck mit paarweis parallelen Gegenseiten zu zeichnen aus

1. zwei (benachbarten) Seiten und dem Winkel zwischen denselben,

2. zwei (benachbarten) Seiten und einer Diagonale,
3. einer Seite und den beiden Diagonalen (Satz 27),
4. den beiden Diagonalen und dem von ihnen gebildeten Winkel.

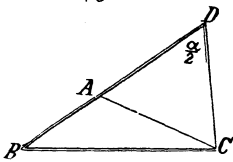
Aufgabe 47. Ein gleichschenkliges Dreieck zu zeichnen aus der Grundlinie und der dazu gehörigen Höhe (Ort 2 und 3).

Aufgabe 48. Ein gleichseitiges Dreieck aus der Höhe zu zeichnen.

Aufgabe 49. Ein rechtwinkliges Dreieck zu zeichnen aus

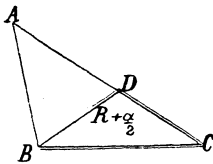
1. den beiden Katheten,
2. einer Kathete und der Hypotenuse,
3. einer Kathete und einem der spitzen Winkel,
4. der Hypotenuse und einem der spitzen Winkel.

Aufgabe 50. Ein Dreieck zu zeichnen aus  $a, b + c = s, \alpha$ .



Auflösung. Ordnet man bei dem beliebigen Dreieck  $ABC$  die Seite  $BC$  der gegebenen Seite  $a$  zu und addiert  $AC$  zu  $BA$ , um in  $BD$  die Strecke zu erhalten, die der gegebenen Seitensumme entspricht, so entsteht durch Verbindung der Punkte  $D$  und  $C$  ein gleichschenkliges Dreieck  $ADC$ , dessen Winkel  $D$  nach Satz 31 gleich  $\frac{1}{2} BAC$  ist, also dem Winkel  $\frac{\alpha}{2}$  entspricht. Von dem Dreieck, dem das Dreieck  $BDC$  entspricht, kennt man also zwei Seiten und einen der nicht eingeschlossenen Winkel, und demnach kann dasselbe gezeichnet werden. (Stelle  $BD = s$  her, lege in  $D$  an  $DB$  den Winkel  $\frac{\alpha}{2}$  an und beschreibe den Kreis  $B, a$ , der den zweiten Schenkel des Winkels  $D$  in  $C$  trifft. Zwei Lösungen.) Sobald  $BDC$  gefunden ist, ergibt sich  $A$  durch Anwendung des Ortes 3.

Aufgabe 51. Ein Dreieck zu zeichnen aus  $a, b - c = d, \alpha$ .

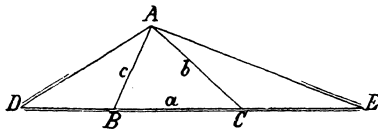


Auflösung. In dem Dreieck  $ABC$  möge die Seite  $BC$  der Seite  $a$  entsprechen. Zieht man  $AB$  von  $AC$  ab, um in  $CD$  die Strecke zu erhalten, die der gegebenen Differenz entspricht, so entsteht durch Verbindung der Punkte  $D$  und  $B$  das gleichschenklige Dreieck  $ABD$  mit der Spitze  $A$ , und daher ist der Winkel  $BDC = R + \frac{1}{2} A$ . Von dem Dreieck, dem  $BDC$  entspricht, kennt man also zwei Seiten und einen der nicht eingeschlossenen Winkel. Das weitere wie bei Aufgabe 50. Eine Lösung.

Aufgabe 52. Ein Dreieck zu zeichnen aus  $a + b + c = s, \beta, \gamma$ .

Auflösung. Stellt man bei einem Dreieck  $ABC$  die Summe seiner Seiten dadurch her, daß man an  $BC$  von  $B$  aus die Seite  $BA$  und von  $C$  aus die Seite  $CA$  anträgt, und verbindet man  $A$  mit den neuen Endpunkten  $D$  und  $E$ , so sind die Dreiecke  $BDA$  und  $CEA$  gleichschenklige, also  $\sphericalangle D = \frac{1}{2} B$  und  $\sphericalangle E = \frac{1}{2} C$ . Das Dreieck  $ADE$

ist daher bestimmt (Aufgabe 45), und damit sind es auch die Punkte  $B$  und  $C$ , weil sie die Spitzen der gleichschenkligen Dreiecke sind (Ort 3).



Die geometrischen Örter 1 und 2 gelangen besonders zur Verwendung bei der Lösung der folgenden Aufgaben:

Aufgabe 53. Ein gleichschenkliges Dreieck zu zeichnen aus einem Schenkel und der dazu gehörigen Höhe.

Aufgabe 54. Ein Dreieck zu zeichnen aus 1)  $a, b, h_a$ . 2)  $a, \beta, h_a$ .  
 3)  $a, h_a, m_a$ . 4)  $\alpha, b, h_b$ . 5)  $\alpha, b, m_b$ . 6)  $\alpha, b, m_c$ . 7)  $\alpha, h_b, h_c$ .  
 8)  $\alpha, h_b, m_b$ . 9)  $\alpha, h_b, m_c$ .

Aufgabe 55. Ein Dreieck zu zeichnen aus  $b + c, \alpha, h_c$ .

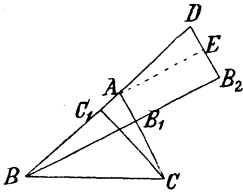
5. Aufgabe 50. Der Punkt  $C$  ist bestimmt durch  $h_c$  und  $\sphericalangle D = \frac{\alpha}{2}$ .

Aufgabe 56. Ein Dreieck zu zeichnen aus  $b + c, \alpha, h_b$ .

Aufgabe 57. Ein Dreieck zu zeichnen aus  $a + b + c, h_a, \beta$  oder  $\gamma$ .

5. Aufgabe 52. Bleibt  $BC$  bei der Bildung der Summe liegen, so ergeben sich für  $A$  aus  $h_a$  und  $\beta$  zwei geometrische Örter.

Eine weitere Reihe von Aufgaben knüpft sich an eine Beziehung an, die zwischen zwei Dreiecksseiten und den zu ihnen gehörigen Höhen besteht. Addiert man nämlich zunächst bei einem Dreieck  $ABC$  die Seiten



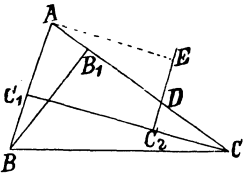
$b$  und  $c$  und fällt von dem Endpunkte  $D$  der Summe das Lot  $DB_2$  auf (die Verlängerung der Höhe)  $BB_1$ , so wird dadurch auf  $BB_1$  ein Stück  $B_1B_2$  begrenzt, das gleich  $CC_1$  ist. Denn zieht man  $AE$  parallel zu  $B_1B_2$ , so ist zunächst  $AE = B_1B_2$  (Satz 23). Da ferner die Dreiecke  $ACC_1$  und  $ADE$  nach  $R_2$  I kongruent sind (weil  $\sphericalangle C_1 = \sphericalangle E (= R)$ ,  $\sphericalangle C_1AC = \sphericalangle D$  (Gl. W. an Parallelen) und  $AC = AD$  ist), so ist  $AE$

auch gleich  $CC_1$ , und daraus folgt die Gleichheit  $B_1B_2 = CC_1$ . Demnach ist  $BB_2 = h_b + h_c$ . Aus der angegebenen Kongruenz ergibt sich ferner die Gleichheit  $AC_1 = DE$ , und da  $EB_2 = AB_1$  ist (Satz 23), so folgt  $DB_2 = AC_1 + AB_1$ .

Erklärung: Die zu einer Dreiecksseite gehörige Höhe teilt dieselbe in zwei Teile, welche Projektionen der andern Seiten auf die erste genannt werden.

Bezeichnet man die Projektion der Seite  $a$  auf  $b$  durch  $p_{ab}$ , also  $AB_1$  durch  $p_{cb}$  und  $AC_1$  durch  $p_{bc}$ , so ist  $DB_2 = p_{cb} + p_{bc}$ . Die Seiten des rechtwinkligen Dreiecks  $DBB_2$  sind demnach gleich  $b + c, h_b + h_c, p_{bc} + p_{cb}$ .

Zieht man dagegen



$AB$  von  $AC$  ab und fällt von dem Endpunkte  $D$  der Differenz  $b - c$  das Lot  $DC_2$  auf  $CC_1$ , so wird dadurch auf  $CC_1$  ein Stück  $C_1C_2$  abgegrenzt, das gleich  $BB_1$  ist. Denn zieht man wieder die Parallele  $AE$  zu  $CC_1$ , so ist zunächst  $AE = C_1C_2$  (Satz 23). Da aber die Dreiecke  $ABB_1$  und  $ADE$  (weil  $\sphericalangle B_1 = \sphericalangle E (= R)$ ,  $\sphericalangle A = \sphericalangle D$  (W. W. an Parallelen) und  $AB = AD$  ist), kongruent sind, also  $BB_1 = AE$  ist,

so folgt wiederum  $C_1C_2 = BB_1$ . Es ist daher  $CC_2 = h_c - h_b$ . In gleicher Weise ergibt sich  $DC_2 = EC_2 - ED = AC_1 - AB_1 = p_{bc} - p_{cb}$ . Die Seiten des rechtwinkl. Dreiecks  $CDC_2$  sind demnach gleich  $b - c, h_c - h_b, p_{bc} - p_{cb}$ . Es besteht daher der



**Satz 51.** Die Summe (Differenz) zweier Dreiecksseiten bildet mit den Summen (Differenzen) der zu ihnen gehörigen Höhen und ihrer Projektionen auf einander ein rechtwinkliges Dreieck. Die Seitensumme (=Differenz) ist die Hypotenuse dieses Dreiecks, während der Winkel, welcher der Höhensumme (=Differenz) gegenüber liegt, gleich dem von den beiden Seiten eingeschlossenen Winkel ist.

**Aufgabe 58.** Ein Dreieck zu zeichnen aus 1)  $b + c, h_b, h_c$ . 2)  $b + c, p_{bc}, p_{cb}$ . 3)  $b, c, h_b + h_c$ . 4)  $b, c, p_{bc} + p_{cb}$ . 5)  $b, h_b + h_c, p_{bc} + p_{cb}$ . 6)  $h_b + h_c, p_{bc}, p_{cb}$ . 7)  $h_b, h_c, p_{bc} + p_{cb}$ .

Anleitung zur Lösung. Die gegebenen Stücke bestimmen das Dreieck  $BDB_2$  und einen der Punkte  $A, B_1$  oder  $E$ . Der weitere Verlauf der Zeichnung ergibt sich aus der Eigenschaft der Höhe.

**Aufgabe 59.** Ein Dreieck zu zeichnen aus 1)  $b - c, h_b, h_c$ . 2)  $b - c, p_{bc}, p_{cb}$ . 3)  $b, c, h_b - h_c$ . 4)  $b, c, p_{bc} - p_{cb}$ . 5)  $b, h_b - h_c, p_{cb} - p_{bc}$ . 6)  $h_b - h_c, p_{bc}, p_{cb}$ . 7)  $h_b, h_c, p_{bc} - p_{cb}$ .

Anleitung zur Lösung. Die gegebenen Stücke bestimmen das Dreieck  $CDC_2$  und einen der Punkte  $A, C_1$  oder  $E$ . Das weitere wie in Aufgabe 58.

Zieht man in einem Dreieck die Linien  $w_\alpha$  und  $h_\alpha$  und bezeichnet den Winkel zwischen  $w_\alpha$  und  $h_\alpha$  mit  $\varphi$ , so ist  $\frac{\alpha}{2} \pm \varphi = R - \beta$  und  $\frac{\alpha}{2} \mp \varphi = R - \gamma$ .

Es folgt daher durch Subtraktion:  $2\varphi = \pm(\beta - \gamma)$ , also  $\varphi = \pm \frac{\beta - \gamma}{2}$ . Hieran schließt sich:

**Aufgabe 60.** Ein Dreieck zu zeichnen aus 1)  $h_\alpha, \beta - \gamma, a$ , 2)  $w_\alpha, \beta - \gamma, a$ .

## 11. Kapitel.

### Die besonderen Punkte im Dreieck und Viereck.

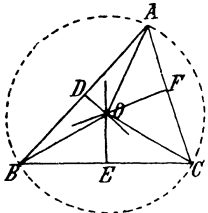
#### 46. Der Schnittpunkt der Mittellote und Winkelhalbierungslinien.

Von den vier geometrischen Orten liefert

Ort 1	eine Linie für alle	von einem Punkte,
Ort 2	" " " " "	einer Geraden,
Ort 3	" " " " "	zwei Punkten,
Ort 4	" " " " "	zwei Geraden

gleichweit entfernten Punkte. Naturgemäß reiht sich an diese Zusammenstellung die Frage an, ob es auch eine Linie giebt, deren sämtliche Punkte von drei und mehr gegebenen Punkten, bez. von drei und mehr gegebenen Geraden stets die gleiche Entfernung besitzen.

1. Ein Punkt, der von  $A$  und  $B$  gleichweit entfernt sein soll, liegt nach Art 3 auf dem Mittellote von  $AB$ ; ebenso liegt ein von  $B$  und einem dritten Punkte  $C$  gleichweit entfernter Punkt auf dem Mittellote von  $BC$ . Es ist daher nur dann ein Punkt vorhanden, der von  $A$ ,  $B$  und  $C$  die gleiche Entfernung besitzt, wenn die Mittellote von  $AB$  und  $BC$  sich schneiden, d. h. wenn  $A$ ,  $B$  und  $C$  nicht auf einer Geraden liegen, sondern die Ecken eines Dreiecks sind. Bestimmen aber  $A$ ,  $B$  und  $C$  ein Dreieck, so ist der Schnittpunkt  $O$  der Mittellote von  $AB$  und  $BC$  einer der gesuchten Punkte. Ein weiterer Punkt könnte nur dadurch entstehen, daß man die Mittellote von  $AB$  und  $AC$  oder von  $BC$  und  $AC$  wählt. Verbindet man aber  $O$  mit dem Mittelpunkte  $F$  von  $AC$  und beachtet, daß die dadurch entstehenden Dreiecke  $OFA$  und  $OFC$  nach Nr. IV kongruent sind und demnach  $\sphericalangle OFA = \sphericalangle OFC$  ist, so sieht man, daß  $OF$  das dritte Mittellot ist, daß also die veränderte Wahl der Mittellote keinen weiteren Punkt liefert. Die Frage nach dem Vorhandensein eines geometrischen Ortes muß daher verneint werden; die Untersuchung liefert vielmehr den



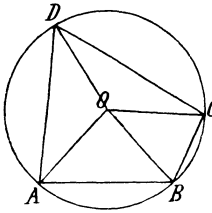
**Satz 52.** Die drei Mittellote eines Dreiecks schneiden sich in einem Punkte, der von den drei Ecken gleichweit entfernt ist.

Folgerung 1. Die drei Ecken eines Dreiecks liegen auf einem Kreise, dessen Mittelpunkt der Schnittpunkt zweier Mittellote ist. Dieser Kreis heißt der dem Dreieck umgeschriebene Kreis.

Folgerung 2. Durch drei nicht in einer Geraden liegende Punkte ist ein einziger Kreis bestimmt, der durch dieselben hindurch geht.

Aufgabe 61. (Grund-Aufgabe.) Beschreibe den Kreis, der durch drei nicht in einer Geraden liegende Punkte geht.

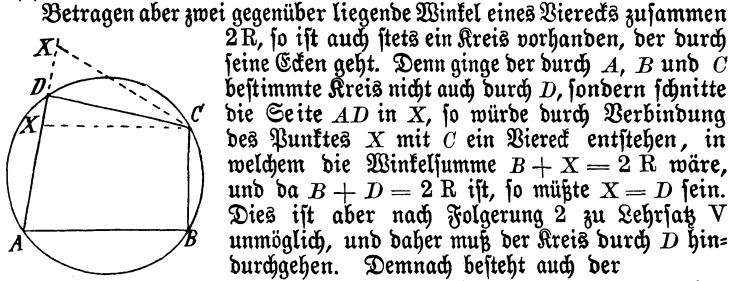
Von vier Punkten  $A$ ,  $B$ ,  $C$  und  $D$  kann hiernach nur dann ein Punkt gleichweit entfernt sein, wenn  $D$  auf dem durch  $A$ ,  $B$  und  $C$  bestimmten Kreise liegt. Zieht man in diesem Falle die Seiten des Vierecks  $ABCD$  und verbindet die Ecken desselben mit dem Mittelpunkte  $O$  des Kreises, so entstehen vier gleichschenkelige Dreiecke, und daher ist nach Lehrsatz IX b



$$\begin{aligned} \sphericalangle OAB &= \sphericalangle OBA, \\ \sphericalangle OAD &= \sphericalangle ODA, \\ \sphericalangle OCB &= \sphericalangle OBC, \\ \sphericalangle OCD &= \sphericalangle ODC. \end{aligned}$$

Nach G. IV ist deshalb  $\sphericalangle BAD + \sphericalangle BCD = \sphericalangle ABC + \sphericalangle ADC$ , und da die Summe der Winkel eines Vierecks  $4R$  beträgt, so sind in dem Viereck  $ABCD$  die gegenüber liegenden Winkel supplementär. Hieraus ergibt sich zunächst der

**Satz 53.** Liegen die Ecken eines Vierecks auf einem Kreise, so sind seine gegenüber liegenden Winkel paarweis supplementär.



**Satz 54.** Betragen in einem Viereck zwei gegenüber liegende Winkel zusammen  $2R$ , so liegen seine Ecken stets auf einem Kreise.

2. Soll ein Punkt von zwei Geraden  $G_1$  und  $G_2$  gleichweit entfernt sein, so muß er nach Ort 4 auf der Halbierungslinie des Winkels  $A$  dieser Geraden liegen; ebenso muß ein Punkt auf der Halbierungslinie des Winkels  $B$  zwischen  $G_1$  und  $G_3$  oder des Winkels  $C$  zwischen  $G_3$  und  $G_2$  liegen, wenn er von  $G_1$  und  $G_3$  oder von  $G_3$  und  $G_2$  gleichweit entfernt sein soll. Es ist daher nur dann ein Punkt vorhanden, der von  $G_1$ ,  $G_2$  und  $G_3$  die gleiche Entfernung besitzt, wenn sich mindestens zwei der Halbierungslinien schneiden, d. h. wenn nicht die drei Geraden parallel verlaufen. Bilden die drei Geraden ein Dreieck, so schneiden sich hiernach die Halbierungslinien der Winkel  $A$  und  $B$  in einem Punkte  $O$ , der von den drei Seiten gleichweit entfernt ist. Ein weiterer Punkt mit derselben Eigenschaft könnte nur dann entstehen, wenn man einen der Winkel  $A$  und  $B$  mit  $C$  vertauschte. Verbindet man aber  $O$  mit  $C$ , so entstehen zwei kongruente Dreiecke  $OEC$  und  $OFC$  (Rz. III), und da hiernach  $\sphericalangle OCE = \sphericalangle OCF$ , also  $OC$  die dritte Winkelhalbierungslinie ist, so zeigt sich, daß innerhalb des Dreiecks  $O$  der einzige Punkt ist, der von den drei Seiten gleichen Abstand hat. Es besteht daher der

**Satz 55.** Die drei Winkelhalbierungslinien eines Dreiecks schneiden sich innerhalb desselben in einem Punkte, der von den drei Seiten gleichweit entfernt ist.

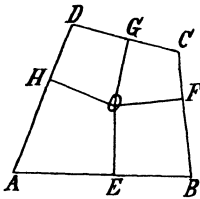
Nach der Anmerkung zu Ort 4 (Seite 58) sind auch die Halbierungslinien der Außenwinkel in Betracht zu ziehen. Dieselben schneiden sich gegenseitig in drei Punkten  $O_a$ ,  $O_b$  und  $O_c$ , die gleichfalls von den drei Geraden gleichweit entfernt sind. Ganz in derselben Weise wie bei dem Punkte  $O$  läßt sich zeigen, daß

$O_a$  auf der Halbierungslinie des Dreieckswinkels  $A$ ,  
 $O_b$  " " " " " $B$ ,  
 $O_c$  " " " " " $C$   
 liegt, und damit der Satz gewinnen:

**Satz 56.** Die Halbierungslinie eines Dreieckswinkels schneidet die Halbierungslinien der nicht-zugehörigen Außenwinkel in einem Punkte außerhalb des Dreiecks, der von den drei Seiten gleichweit entfernt ist.

**Zusatz.** Außerhalb eines Dreiecks giebt es drei Punkte, die von den drei Seiten gleichweit entfernt sind.

Innerhalb eines Vierecks  $ABCD$  ist hiernach nur dann ein Punkt vorhanden, der von seinen Seiten gleichen Abstand hat, wenn die 4. Seite so liegt, daß der durch die 3 ersten Seiten bestimmte Punkt  $O$  von ihr dieselbe Entfernung besitzt wie von den anderen. Verbindet man aber in diesem Falle  $O$  mit  $A, B, C$  und  $D$  und zeichnet die Abstände  $OE, OF, OG$  und  $OH$ , so entstehen vier Paare von kongruenten Dreiecken (S. III), und daher ist



$$\begin{aligned} AE &= AH, \\ BE &= BF, \\ CG &= CF, \\ DG &= DH. \end{aligned}$$

Nach G. IV ist deshalb  $AB + CD = AD + BC$ .

Hieraus folgt der

**Satz 57.** Sind die Seiten eines Vierecks von einem Punkte innerhalb desselben gleichweit entfernt, so sind die Summen der gegenüber liegenden Seiten gleichgroß.

Auch dieser Satz kann umgekehrt werden. Ist in dem Viereck  $ABCD$  die Summe  $AB + CD = AD + BC$ , so ist auch stets innerhalb desselben ein Punkt vorhanden, der von den vier Seiten gleichen Abstand hat. Denn wäre der durch  $AB, BC$  und  $CD$  bestimmte Punkt  $O$  nicht auch von  $AD$  soweit entfernt wie von einer dieser Seiten, sondern von einer anderen durch  $A$  gelegten Geraden, welche  $CD$  in  $X$  schneide, so wäre nach Satz 57

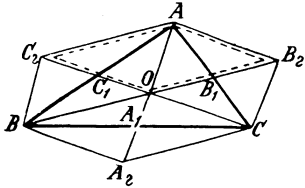
$AX + BC = AB + CX,$   
 und da  $AD + BC = AB + CD$  ist, so würde sich nach G. IV ergeben  $\pm (AX - AD) = \pm (CX - CD) = DX$ . Diese Gleichheit ist nach Satz 36 unmöglich, und daher besteht der

**Satz 58.** Sind die Summen aus den gegenüber liegenden Seiten eines Vierecks gleichgroß, so ist innerhalb desselben stets ein Punkt vorhanden, der von den vier Seiten die gleiche Entfernung besitzt.

#### 47. Der Schnittpunkt der Mittellinien und Höhen.

Außer den Mittelloten und Winkelhalbierungslinien eines Dreiecks sind auch seine Mittellinien und Höhen als besondere Linien eingeführt worden.

1. Zieht man in dem Dreieck  $ABC$  zwei Mittellinien, etwa  $BB_1$  und  $CC_1$ , und mißt die Entfernungen ihres Schnittpunktes  $O$  von



$B$  und  $B_1$ , sowie von  $C$  und  $C_1$ , so zeigt sich, daß  $OB = 2 \cdot OB_1$  und  $OC = 2 \cdot OC_1$  ist. Um diese Beziehung zu beweisen, hat man zunächst  $OB_1$  um sich selbst bis  $B_2$ , sowie  $OC_1$  um sich selbst bis  $C_2$  zu verlängern und dann, da bei der Lage der Strecken eine unmittelbare Verwendung der Kongruenz ausgeschlossen

ist, eine Anwendung des  $\S$ . III zu versuchen. Nun entstehen durch die Linien  $B_2A$ ,  $B_2C$ ,  $AO$ ,  $C_2A$  und  $C_2B$  zwei Vierecke  $AC_2BO$  und  $AB_2CO$ , deren Diagonalen sich gegenseitig halbieren, deren Gegenseiten also nach Satz 27 paarweis gleich sind, und daraus folgen die Gleichheiten:

$$\text{a) } AC_2 = OB \text{ und } AB_2 = OC.$$

Da aber nach demselben Satze  $AC_2 \parallel OB$ , also auch  $\parallel OB_2$  und in gleicher Weise  $AB_2 \parallel OC_2$  ist, so folgt nach Satz 23, daß in dem Viereck  $AB_2OC_2$

$$\text{b) } AC_2 = OB_2 \text{ und } AB_2 = OC_2$$

ist, und demnach liefert die Anwendung des  $\S$ . III:

$$OB = OB_2 = 2 \cdot OB_1 \text{ und } OC = OC_2 = 2 \cdot OC_1.$$

Verlängert man jetzt  $AO$  um sich selbst bis  $A_2$  und verbindet  $A_2$  mit  $C$ , so ist in dem Viereck  $OA_2CB_2$  die Seite  $OA_2 =$  und  $\parallel CB_2$ , also nach Satz 24  $A_2C =$  und  $\parallel OB_2$  und damit auch  $=$  und  $\parallel OB$ . Demnach ist in dem Viereck  $A_2COB$  nach Satz 26  $OA_2 = A_1A_2$  und  $BA_1 = A_1C$ . Hieraus folgt, daß  $OA = 2OA_1$  und daß  $AA_1$  die Seite  $BC$  halbiert. Es besteht daher der

**Satz 59.** Die drei Mittellinien eines Dreiecks schneiden sich in einem Punkte, der von jeder Ecke doppelt so weit entfernt ist wie von dem Mittelpunkte der gegenüber liegenden Seite.

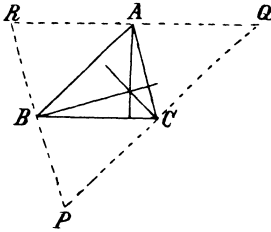
Aufgabe 62. Ein Dreieck zu zeichnen aus  $a$ ,  $mb$ ,  $mc$ .

Aufgabe 63. Ein Dreieck zu zeichnen aus  $ma$ ,  $mb$ ,  $mc$ .

Aufgabe 64. Beweise, daß ein Dreieck gleichschenkelig ist, wenn es zwei gleiche Mittellinien besitzt.

2. Die Höhe zu einer Dreiecksseite  $BC$  teilt  $BC$  im allgemeinen in ungleiche Teile und wird durch eine zweite Höhe in ungleiche Abschnitte zerlegt, zwischen denen eine Beziehung nicht erkennbar ist. Nun wird

aber die zu  $BC$  gehörige Höhe zum Mittellote einer Strecke (Satz 17), wenn man auf der durch  $A$  zu  $BC$  gezogenen Parallelen von  $A$  aus zwei gleiche Stücke abmisst. Ebenso wird die Höhe zu  $AB$  zum Mittellote der Strecke, die auf der durch  $C$  zu  $AB$  gezogenen Parallelen dadurch bestimmt wird, daß von  $C$  aus zwei gleiche



Stücke abgemessen werden. Wählt man als Größe der abgemessenen Strecken die Entfernungen des Schnittpunktes  $Q$  der beiden Parallelen von  $A$  und  $C$ , so daß  $AR = AQ$  und  $CP = CQ$  ist, und beachtet, daß in dem Viereck  $ABCQ$  nach Satz 23  $AQ = BC$  und  $CQ = AB$  ist, so folgt:  $AR =$  und  $\parallel BC$ , sowie  $CP =$  und  $\parallel AB$ . Nach Satz 24 ist deshalb  $BR =$  und  $\parallel AC$ , sowie

$BP =$  und  $\parallel AC$ , also nach  $\S$ . III einmal  $BR = BP$  und dann nach Satz 14  $PBR$  eine gerade Linie. Die zu  $AC$  gehörige Höhe ist daher das Mittellot der Seite  $PR$ . Die drei Höhen des Dreiecks  $ABC$  sind also die Mittellote des Dreiecks  $PQR$ , und da diese sich in einem Punkte schneiden, so ergibt sich der

**Satz 60.** Die drei Höhen eines Dreiecks schneiden sich in einem Punkte.

Zusatz 1. Bei einem rechtwinkligen Dreieck liegt der Schnittpunkt der drei Höhen im Scheitelpunkte des rechten Winkels und bei einem stumpfwinkligen ganz außerhalb des Dreiecks.

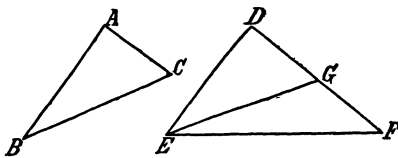
Zusatz 2. In einem gleichseitigen Dreieck fallen die Schnittpunkte der Mittellote, Winkelhalbierungslinien, Mittellinien und Höhen zusammen.

12. Kapitel.

Nicht-kongruente Dreiecke.

**48. Ableitung und Beweis der Sätze über nicht-kongruente Dreiecke.**

Da die Kongruenz zweier Dreiecke an ihre Übereinstimmung in drei von einander unabhängigen Stücken geknüpft ist, so werden zwei Dreiecke nicht mehr kongruent sein, wenn eine der drei Bedingungen unerfüllt bleibt.



1) Wird das Dreieck  $DEF$  so gezeichnet, daß es mit dem gegebenen Dreieck  $ABC$  übereinstimmt in der Größe der Winkel  $D$  und  $A$  und der Seiten  $DE$  und  $AB$ , während der Winkel  $E$  größer als  $B$  gewählt wird, so lehrt die Anschauung, daß die Dreiecke nicht mehr kongruent sind, daß vielmehr die Seite  $DF$  größer als  $AC$  ist, und leitet damit zu

als  $B$  gewählt wird, so lehrt die Anschauung, daß die Dreiecke nicht mehr kongruent sind, daß vielmehr die Seite  $DF$  größer als  $AC$  ist, und leitet damit zu

**Satz 61.** Stimmen zwei Dreiecke überein in der Größe einer Seite und eines der anliegenden Winkel, während die anderen anliegenden Winkel verschieden sind, so liegt dem größeren von diesen Winkeln die größere Seite gegenüber.

Entw. des Bew.

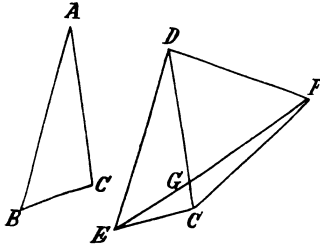
Vor. Es sei  $DE = AB$ ,  $\sphericalangle D > \sphericalangle A$ ,  $\sphericalangle E > \sphericalangle B$ .

Beh. Es ist  $DF > AC$ .

Die Ungleichheit  $DF > AC$  tritt ein, wenn ein Teil von  $DF$  gleich  $AC$  ist. Wäre  $DG$  dieser Teil und verbände man  $G$  mit  $E$ , so würde das zu  $ABC$  kongruente Dreieck  $DGE$  entstehen (Kz. II), also  $\sphericalangle GED = \sphericalangle B$  sein. Daraus folgt, daß der Punkt  $G$  hergestellt wird, wenn man den Winkel  $B$  in  $E$  an  $ED$  anträgt (Kz. I). Da aber  $\sphericalangle E > \sphericalangle B$ , so schneidet der zweite Schenkel des angelegten Winkels die Seite  $DF$  zwischen  $D$  und  $F$ . Hieraus ergibt sich der Beweis.

Anmerkung: Der Satz ist umkehrbar. Bei der Entw. des Bew. sind dann Seiten und Winkel mit einander zu vertauschen.

2. Wird weiter das Dreieck  $DEF$  so hergestellt, daß  $DE = AB$ ,  $\sphericalangle D > \sphericalangle A$ ,  $DF = AC$  ist, so sind die Dreiecke gleichfalls nicht mehr kongruent; die Anschauung lehrt vielmehr, daß  $EF > BC$  ist. Daraus folgt der



**Satz 62.** Stimmen zwei Dreiecke überein in der Größe zweier entsprechenden Seiten, während die von diesen eingeschlossenen Winkel verschieden sind, so liegt

dem größeren von diesen Winkeln die größere Seite gegenüber.

Entw. des Bew.

Vor. Es sei  $DE = AB$ ,  $\sphericalangle D > \sphericalangle A$ ,  $DF = AC$ .

Beh. Es ist  $EF > BC$ .

Die Ungleichheit  $EF > BC$  würde eintreten, wenn gezeigt werden könnte, daß ein Teil  $EG$  von  $EF$  gleich  $BC$  wäre. Die Kongruenz der Dreiecke  $ABC$  und  $DEG$  kann jedoch nicht bewiesen werden (weßhalb nicht?), und daher ist dies Mittel nicht anwendbar. Man muß deshalb nach Wink 8 verfahren, die beiden Seiten  $EF$  und  $BC$  in ein Dreieck bringen und zu beweisen suchen, daß  $EF$  dem größeren Winkel gegenüber liegt. Bringt man aber die beiden Dreiecke zur Deckung, so daß  $AB$  auf  $DE$  fällt, und verbindet  $C$  mit  $F$ , so gehören  $EF$  und  $BC$  ( $EC$ ) dem Dreieck  $CEF$  an, und demnach muß gezeigt werden, daß  $\sphericalangle FCE > \sphericalangle CFE$  ist. Der Vergleich der beiden Winkel mit den infolge der Vor.  $DF = AC$  ( $DC$ ) nach Lehrsatz IX

gleichgroßen Winkeln  $DFC$  und  $DCF$  liefert den Beweis für die Ungleichheit  $\sphericalangle FCE > \sphericalangle CFE$  und damit auch für die Richtigkeit der Behauptung  $EF > BC$ .

3. Wird schließlich das Dreieck  $DEF$  so gezeichnet, daß  $DE = AB$ ,  $DF = AC$  und  $EF > BC$  ist (s. Fig. zu Satz 62), so wird der Winkel  $D$  größer als  $A$ , und daraus folgt:

**Satz 63.** Stimmen zwei Dreiecke überein in der Größe zweier entsprechenden Seiten, während die dritten Seiten verschieden sind, so liegt der größeren von diesen Seiten der größere Winkel gegenüber.

Entw. des Bew.

Vor. Es sei  $DE = AB$ ,  $DF = AC$ ,  $EF > BC$ .

Beh. Es ist  $\sphericalangle D > \sphericalangle A$ .

Die Ungleichheit  $\sphericalangle D > \sphericalangle A$  tritt ein, wenn gezeigt werden kann, daß ein Teil des Winkels  $D$  gleich  $A$  ist. Der Beweis hierfür müßte aus der Vor. nach Wink 6 abgeleitet werden. Legt man aber das Dreieck  $ABC$  so auf  $DEF$ , daß  $AB$  auf  $DE$  fällt, und verbindet man  $C$  mit  $F$ , so ist zwar in dem Dreieck  $ECF$  der Winkel  $C$  größer als  $CFE$  und in dem gleichschenkligen Dreieck  $DCF$  der Winkel  $DCF = DFC$ ; aber daraus läßt sich noch nicht ableiten, daß  $DC$  den Winkel  $C$  teilen muß, und demnach führt dieser Weg nicht zum Ziele. Ein anderes Beweismittel ist nicht vorhanden, und daher muß der Satz mit Benutzung des Satzes 62, dessen Umkehrung er ist, indirekt bewiesen werden.

4. Ein Satz, der in entsprechender Weise aus Rz. III abgeleitet würde, ist nicht vorhanden. Wird der Winkel  $D > A$  gezeichnet, so ist das Dreieck  $DEF$  nicht einmal immer möglich, weil der Kreis  $E, BC$  den zweiten Schenkel des Winkels  $D$  nicht notwendig schneiden muß.

Anmerkung. Die Sätze 62 und 63 werden gelegentlich benutzt, um die Ungleichheit zweier Seiten oder Winkel nachzuweisen.

#### 49. Besondere Fälle und Übungsbeispiele.

**Satz 64.** Stimmen zwei rechtwinklige Dreiecke überein in der Größe der Hypotenuse, während ein Paar der spitzen Winkel verschieden ist, so liegt dem größeren von diesen Winkeln die größere Kathete gegenüber.

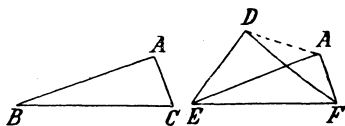
Entw. des Bew.

Vor. Es sei  $\sphericalangle D = \sphericalangle A = R$ ,  $EF = BC$ ,  $\sphericalangle E > \sphericalangle B$ .

Beh. Es ist  $DF > AC$ .

Nach Wink 8 muß man die beiden Katheten  $AC$  und  $DF$  in ein Dreieck bringen und zu beweisen suchen, daß  $DF$  dem größeren Winkel gegenüber liegt. Nun kann man das Dreieck  $ABC$  so auf  $DEF$  legen, daß die Hypotenusen zusammenfallen, und erhält dann durch Verbindung





der Punkte  $D$  und  $A$  ein Dreieck  $DAF$ , dem die beiden Katheten  $AC$  ( $AF$ ) und  $DF$  als Seiten angehören. Demnach muß bewiesen werden, daß  $\sphericalangle DAF > \sphericalangle ADF$  ist. Ein unmittelbarer Vergleich dieser beiden Winkel ist durch die Vor. nicht gegeben; dagegen läßt sich aus der Vor. ableiten, daß der Winkel  $DAF$  ein stumpfer ist. Der Schenkel  $EA$  liegt nämlich im Raume des Winkels  $E$ , weil  $\sphericalangle AEF(B) < \sphericalangle E$  ist, und da der Winkel  $AFE(C) > \sphericalangle F$  ist, also  $A$  außerhalb des Dreiecks  $DEF$  liegt, so bildet  $DA$  mit  $AF$  einen Winkel, der größer als  $\sphericalangle A$ , d. h. ein stumpfer Winkel ist. Die Behauptung ergibt sich dann aus Satz 33.

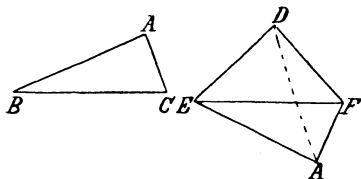
**Satz 65.** Stimmen zwei rechtwinklige Dreiecke überein in der Größe der Hypotenuse und ist das eine Paar der Katheten ungleich, so ist von den beiden anderen Katheten diejenige die größere, welche mit der kleineren des ersten Paares demselben Dreiecke angehört.

Entw. des Bew.

Vor. Es sei  $\sphericalangle D = \sphericalangle A = R$ ,  $EF = BC$ ,  $DE < AB$ .

Beh. Es ist  $DF > AC$ .

Um nach Wink 8 zu verfahren, könnte man wieder das Dreieck  $ABC$  so auf  $DEF$  legen, daß  $BC$  sich mit  $EF$  deckt, und  $A$  mit  $D$  verbinden; allein man würde nicht zum Ziele gelangen, da die Lage des Punktes  $A$  durch die Vor. nicht bestimmt ist. Man kann aber auch da-



durch nach Wink 8 verfahren, daß man die beiden Dreiecke an einander legt, so daß die Hypotenusen sich decken, den Punkt  $D$  mit  $A$  verbindet und zu beweisen sucht, daß  $\sphericalangle DAF > \sphericalangle ADF$  ist. Nun ergänzen sich

diese Winkel mit  $EAF$  resp.  $EDA$  nach Vor. zu einem rechten Winkel, und daher ist  $\sphericalangle DAF > \sphericalangle ADF$ , wenn  $\sphericalangle EAD > \sphericalangle EDA$  ist. Da aber die letztere Ungleichheit infolge der Vor.  $DE < AB$  ( $AE$ ) eintritt, so ergibt sich der folgende

**Beweis.** Wird das Dreieck  $ABC$  so an  $DEF$  gelegt, daß  $BC$  auf  $EF$  fällt, und wird  $A$  mit  $E$  verbunden, so ist

$$\sphericalangle EAD < \sphericalangle EDA, \text{ weil } DE < AB \text{ (AE),}$$

und da  $\sphericalangle A = \sphericalangle D$  nach Vor., so bleibt

$$\sphericalangle DAF > \sphericalangle ADF, \text{ und demnach ist } DF > AC \text{ (AF).}$$

**Satz 66.** Stimmen zwei rechtwinklige Dreiecke überein in der Größe einer Kathete und sind die spitzen Winkel an diesen Katheten ungleich, so sind auch die  $\left. \begin{array}{l} \text{anderen Katheten} \\ \text{Hypotenusen} \end{array} \right\}$

ungleich, und zwar ist diejenige die größere, welche dem größeren Winkel  $\left\{ \begin{array}{l} \text{gegenüber} \\ \text{an} \end{array} \right\}$  liegt.

Beweis zunächst nach Satz 61 und dann nach Satz 33.

**Satz 67.** Von zwei gleichschenkl. Dreiecken mit gleichen Grundlinien hat dasjenige die größere zur Grundlinie gehörige Höhe und die größeren Schenkel, welches den  $\left\{ \begin{array}{l} \text{größeren} \\ \text{Winkel an der Grundlinie} \end{array} \right\}$  besitzt.

Benutze zum Beweise Satz 61 oder Satz 66.

**Satz 68.** Von zwei gleichschenkl. Dreiecken mit gleichen Schenkeln hat dasjenige  $\left\{ \begin{array}{l} \text{den größeren Winkel an der Spitze,} \\ \text{die größere Grundlinie,} \end{array} \right.$  welches  $\left\{ \begin{array}{l} \text{die größere Grundlinie} \\ \text{den größeren Winkel an der Spitze} \end{array} \right\}$  besitzt.

**Satz 69.** Zu der größeren von zwei Seiten eines Dreiecks gehört die kleinere Höhe und die kleinere Mittellinie.

**Satz 70.** In einem Viereck mit paarweis parallelen Seiten, dessen Winkel nicht rechte sind, ist diejenige Diagonale die größere, welche die Scheitelpunkte der spizen Winkel mit einander verbindet.

Beweis nach Satz 62. Satz 70 ist umkehrbar.

### 13. Kapitel.

#### Das Parallelogramm und das Trapez.

##### 50. Sätze über das Parallelogramm.

Von allen Vierecken verdient dasjenige eine besondere Beachtung, dessen gegenüber liegende Seiten paarweis parallel sind.

Erklärung. Ein Viereck mit paarweis parallelen Seiten wird Parallelogramm genannt.

##### a) Sätze über das allgemeine Parallelogramm.

Über das Parallelogramm ist bereits in den vorhergehenden Abschnitten bei den Übungsbeispielen bewiesen worden oder kann leicht bewiesen werden:

**Satz 71.** a) In einem Parallelogramm sind je zwei aufeinander folgende Winkel supplementär und je zwei gegenüber liegende Winkel gleich. (Satz 18.)

b) Ein Parallelogramm wird durch jede seiner Diagonalen in zwei kongruente Dreiecke zerlegt. (Kz. I.)

c) In einem Parallelogramm sind je zwei gegenüber liegende Seiten gleich. (Satz 23.)

d) In einem Parallelogramm halbieren sich die Diagonalen gegenseitig. (Satz 26.)

Dasſelbe gilt von den Umkehrungen der allgemeinen Parallelogrammsätze:

**Satz 72.** Ein Viereck iſt ein Parallelogramm,

a) wenn je zwei gegenüber liegende Winkel deſſelben gleich ſind. (Nach Satz 21 und Behrſ. III.)

b) wenn je zwei gegenüber liegende Seiten deſſelben gleich ſind. (Satz 43.)

c) wenn zwei gegenüber liegende Seiten deſſelben parallel und gleich ſind. (Satz 24.)

d) wenn zwei gegenüber liegende Seiten deſſelben parallel und zwei gegenüber liegende Winkel gleich ſind. (Satz 49.)

e) wenn ſeine Diagonalen ſich gegenseitig halbieren. (Satz 27.)

f) wenn es durch jede ſeiner Diagonalen in zwei kongruente Dreiecke zerlegt wird. (Satz 50.)

#### b) Sätze über beſondere Parallelogrammformen.

Da in jedem Parallelogramm je zwei gegenüber liegende Winkel, bez. Seiten gleich ſind, ſo können beſondere Parallelogrammformen nur eintreten, wenn

entweder die aufeinander folgenden Winkel gleich, alſo alle Winkel rechte, oder die auf einander folgenden und damit alle Seiten gleich, oder alle Winkel rechte und alle Seiten gleich ſind.

Erklärung. a) Ein Parallelogramm mit rechten Winkeln wird Rechteck genannt.

b) Ein gleichſeitiges Parallelogramm wird Rhombus genannt.

c) Ein rechtwinkliges und zugleich gleichſeitiges Parallelogramm wird Quadrat genannt.

Für die beſonderen Parallelogrammformen ſind bereits die Eigenſchaften bewieſen worden:

**Satz 73.** a) In einem Rechteck ſind die Diagonalen gleich. (Satz 46.)

Zuſatz. In einem ſchiefwinkligen Parallelogramm iſt die Diagonale die größere, welche die Scheitelpunkte der ſpizen Winkel mit einander verbindet. (Satz 70.)

b) Im Rhombus ſtehen die Diagonalen ſenkrecht auf einander. (Satz 44.)

c) Im Quadrat ſtehen die Diagonalen ſenkrecht auf einander und ſind gleich. (Folgerung aus a und b.)

Die Umkehrungen dieſer Sätze lauten:

**Satz 74.** a) Sind die Diagonalen eines Parallelogramms gleich, so ist dasselbe ein Rechteck. (Satz 45.)

Zusatz. Sind die Diagonalen eines Parallelogramms ungleich, so verbindet die größere von ihnen die Scheitelpunkte von spitzen Winkeln. (Nach Satz 63.)

b) Stehen die Diagonalen eines Parallelogramms senkrecht auf einander, so ist dasselbe ein Rhombus. (Satz 28.)

c) Sind die Diagonalen eines Parallelogramms gleich und stehen sie senkrecht auf einander, so ist dasselbe ein Quadrat. (Folgerung aus a und b.)

Anmerkung. Die Sätze 74 a–c führen zu einer bequemen Herstellung eines Rechtecks, bez. Rhombus' und Quadrats.

## 51. Weitere Sätze und Übungsbeispiele.

### a) Der Mittelpunkt eines Parallelogramms.

Wird durch den Schnittpunkt der Diagonalen in beliebiger Richtung eine Gerade gezogen, so werden auf derselben durch den Schnittpunkt und zwei gegenüber liegende Parallelogrammseiten zwei Stücke begrenzt, die einander gleich sind. (Kz. I.) Daraus folgt:

**Satz 75.** Der Schnittpunkt der Diagonalen eines Parallelogramms halbiert jede durch ihn gehende Verbindungslinie von zwei auf den Seiten liegenden Punkten. In diesem Sinne wird er Mittelpunkt des Parallelogramms genannt.

### b) Kongruente Parallelogramme.

Erklärung. Der Abstand zweier gegenüber liegenden Seiten eines Parallelogramms wird Höhe genannt. Jede der zugehörigen Seiten heißt Grundlinie.

Zusatz. In jedem Parallelogramm sind zwei Höhen vorhanden.

Folgerung 1. In einem Rechteck ist jede Höhe gleich der nicht zu ihr gehörigen Seite.

Folgerung 2. In einem Rhombus sind die Höhen gleich. (Kz. I, Zusatz.)

Folgerung 3. In einem Quadrat sind die beiden Höhen gleichgroß und gleich der Seite.

**Satz 76.** Parallelogramme sind kongruent, wenn sie übereinstimmen

- a) in zwei anstoßenden Seiten und dem von diesen gebildeten Winkel;
- b) in zwei anstoßenden Seiten und der zu einer von diesen gehörigen Höhe;

(Durch Benutzung des Kz. III auf Teil a) zurückzuführen.)

- c) in zwei anstoßenden Seiten und einer entsprechend liegenden Diagonale;

(Durch Benutzung des Kz. IV auf Teil a) zurückzuführen.)

d) in einer Seite, einem anliegenden Winkel und der zu der Seite gehörigen Höhe;

(Durch Benutzung des Kz. I, Zus. auf Teil a) zurückzuführen.)

e) in den beiden Diagonalen und einem der Winkel, die dieselben mit einander bilden;

(Durch zweimalige Benutzung des Kz. II auf Teil c) zurückzuführen.)

f) in einer Seite und den beiden Diagonalen.

(Durch Benutzung des Kz. IV auf Teil e) zurückzuführen.)

c) Die Winkelhalbierungslinien eines Parallelogramms.

Die Winkelhalbierungslinien eines Parallelogramms sind entweder parallel oder stehen senkrecht auf einander. (Nach Satz 71a und Lehrs. VI.) Daraus folgt:

**Satz 77.** Die vier Winkelhalbierungslinien eines Parallelogramms begrenzen ein Rechteck.

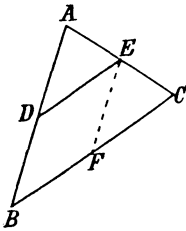
Ist das Parallelogramm rechteckig, so erweisen sich die Abschnitte auf den Halbierungslinien zwischen ihren Ausgangs- und Schnittpunkten als gleich. (Lehrs. IXa.) Die Benutzung des Kz. I und des G. IV führt daher zu dem

**Satz 78.** Die vier Winkelhalbierungslinien eines Rechtecks begrenzen ein Quadrat.

Anmerkung. Bei einem gleichseitigen Parallelogramm fallen die Winkelhalbierungslinien mit den Diagonalen zusammen.

d) Die Mitten der Seiten in einem Dreieck, Parallelogramm und Viereck.

Zieht man durch die Mitte einer Dreiecksseite die Parallele zu einer zweiten Seite, so läßt die Figur erkennen, daß die dritte Seite durch die Parallele halbiert wird, und die Vergleichung der Parallelen mit der zweiten Seite zeigt, daß diese doppelt so groß ist wie das durch die beiden anderen Seiten begrenzte Stück der Parallelen. Dies führt zu



**Satz 79.** In einem Dreieck halbiert die durch die Mitte einer Seite zu einer zweiten Seite gelegte Parallele die dritte und ist halb so groß als die zweite.

Vor. Es sei  $AD = BD$  und  $DE \parallel BC$ .

Beh. Es ist  $AE = CE$  und  $DE = \frac{1}{2} BC$ .

Entw. des Bew. Zunächst ist die Gleichheit  $AE = CE$  zu beweisen. Um nach Wink 7 verfahren zu können, stellt man das Dreieck  $EFC$  her, indem man  $EF \parallel AB$  zieht, weil dann  $\sphericalangle FEC = \sphericalangle A$  und  $\sphericalangle C = \sphericalangle DEF$  (Lehrs. IV) ist. Die zu Kz. I fehlende Gleichheit zweier Seiten erhält man aus dem Vergleich der Strecke  $BD$  mit  $EF$  (Satz 71c) und  $AD$  (Vor.). — Eine zweite Folgerung der zu beweisenden Kongruenz ist die Gleichheit  $DE = FC$ , und da  $DE = BF$  (Satz 71c), also

$BF = CF$  ist, so ergibt sich auch die Richtigkeit der zweiten Behauptung  $DE = \frac{1}{2} BC$ .

**Zusatz 1.** Mißt man auf einem von zwei Schenkeln eines Winkels vom Scheitelpunkte aus  $n$  gleiche Stücke ab und zieht durch ihre Endpunkte Parallelen, so schneiden dieselben auf dem zweiten Schenkel  $n$  gleiche Stücke ab.

Als Hilfslinien werden durch die Teilpunkte des ersten Schenkels die Parallelen zu dem zweiten Schenkel gezogen.

**Zusatz 2.** Mißt man auf einer Geraden  $n$  gleiche Stücke ab und zieht durch die Endpunkte Parallelen, so schneiden dieselben auf jeder anderen Geraden, die sie treffen,  $n$  gleiche Stücke ab.

Nach Zusatz 1. Hilfslinie ist die Parallele, die durch den ersten Begrenzungs- punkt auf der ersten Geraden zu der zweiten gezogen wird.

Bertauscht man in dem Satze 79 den ersten Teil der Behauptung mit der Voraussetzung, so erhält man

**Satz 80.** Die Verbindungslinie der Mitten zweier Dreiecksseiten ist parallel zu der dritten und halb so groß wie dieselbe.

Entw. des Bew. Da keins der bekannten Hilfsmittel den Beweis für die hier notwendige Gleichheit der Gl. W.  $ADE$  und  $B$  ermöglicht, so muß der erste Teil der Behauptung indirekt mit Berufung auf Satz 79 bewiesen werden. Der zweite Teil der Behauptung folgt aus dem ersten nach Satz 79.

Durch wiederholte Anwendung der Sätze 79 und 80 können weiterhin für die Seitenmitten in Dreiecken, Parallelogrammen und Vierecken leicht die Beziehungen nachgewiesen werden:

**Satz 81.** Jedes Dreieck wird durch die Verbindungslinien seiner Seitenmitten in vier kongruente Dreiecke zerlegt.

**Satz 82.** In einem Dreieck sind die Mitten zweier Seiten von der dritten gleichweit entfernt.

**Satz 83.** Die Mitten der Seiten

- |                          |                                       |
|--------------------------|---------------------------------------|
| a) eines Vierecks        | sind die Ecken eines Parallelogramms, |
| b) eines Parallelogramms | sind die Ecken eines Parallelogramms, |
| c) eines Rhombus'        | " " " " Rechtecks,                    |
| d) eines Rechtecks       | " " " " Rhombus',                     |
| e) eines Quadrats        | " " " " Quadrats.                     |

**Satz 84.** Die Mitten zweier gegenüber liegenden Seiten und die Endpunkte einer Diagonale eines Parallelogramms sind die Ecken eines Parallelogramms.

**Satz 85.** In einem Parallelogramm teilen die Verbindungslinien der Mitten zweier gegenüber liegenden Seiten mit den Ecken einer Diagonale die zweite Diagonale in drei gleiche Teile. (Nach Satz 84 und 79.)

e) Sätze über das gleichschenklige und gleichseitige Dreieck.

**Satz 86.** Ein Dreieck ist gleichschenkelig, wenn zwei seiner Mittellinien gleich sind.

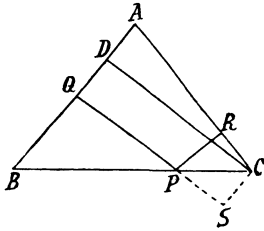
Wende der Reihe nach an Satz 82, K<sub>3</sub>, III, G. IV und K<sub>3</sub>, IV. Bequemer allerdings ist die Anwendung des Satzes 59. S. Aufg. 64.

**Satz 87.** In einem gleichschenkligen Dreieck ist die Summe aus den Entfernungen eines Punktes der Grundlinie von den Schenkeln gleich der zu einem Schenkel gehörigen Höhe.

Vor. Es sei  $AB = AC$ ,  $PQ \perp AB$ ,  $PR \perp AC$  und  $CD \perp AB$ .

Beh. Es ist  $PQ + PR = CD$ .

Entw. des Bew. Die Form der Behauptung weist darauf hin, daß zunächst die Summe  $PQ + PR$  gebildet wird. Trägt man aber



$PR$  auf der Verlängerung von  $QP$  ab, so daß  $QS = PQ + PR$  ist, und verbindet  $S$  mit  $C$ , so erweisen sich  $QS$  und  $CD$  als parallele gegenüber liegende Seiten des Vierecks  $CDQS$  und sind deshalb einander gleich (Satz 71c), wenn  $CS \parallel QD$  ist.  $QD$  steht nun senkrecht auf  $QS$ , und daher kann die Beziehung  $CS \parallel QD$  dadurch nachgewiesen werden, daß man die Gleichheit  $\sphericalangle CSQ = R$  aus der Vor. ableitet. Da aber  $\sphericalangle CSQ$  in dem

Dreieck  $CSQ$  liegt, das mit dem rechtwinkligen Dreieck  $CRP$  in der Größe zweier Seiten übereinstimmt, so hat man nach Wink 6 zu zeigen, daß  $\triangle CSQ \cong \triangle CRP$  ist, und zu diesem Zwecke noch die Gleichheit der Winkel  $CPR$  und  $CPS$  zu beweisen. Dieselbe ergibt sich aus dem Vergleich des Winkels  $BPQ$  mit  $CPS$  (Schw.) und mit  $CPR$  (Komplemente der gleichen Winkel  $B$  und  $C$ ).

**Satz 88.** Die Summe aus den Entfernungen eines Punktes innerhalb eines gleichseitigen Dreiecks ist gleich der Höhe des Dreiecks.

Wird durch den Punkt die Parallele zu einer Dreiecksseite gezogen, so kann der Satz 87 angewandt werden.

## 52. Aufgaben.

Aufgabe 65. Ein Quadrat aus seiner Diagonale zu zeichnen.

Aufgabe 66. Ein Rechteck zu zeichnen aus

1. einer Seite  $a$  (8 cm) und der Diagonale  $e$  (10 cm);
2. der Diagonale  $e$  (12 cm) und dem spitzen Winkel  $\varphi$  ( $60^\circ$ ) der Diagonalen.

Aufgabe 67. Einen Rhombus zu zeichnen aus

1. der Seite  $a$  (4 cm) und einer Diagonale  $e$  (6 cm);
2. der Seite  $a$  (8 cm) und dem anliegenden spitzen Winkel  $\alpha$  ( $75^\circ$ );
3. den beiden Diagonalen  $e$  (8 cm) und  $f$  (6 cm);
4. einer Diagonale  $e$  (12 cm) und dem ihr gegenüber liegenden Winkel  $\beta$  ( $135^\circ$ ). (S. Anmerk. zu Satz 78.)

Aufgabe 68. Ein Parallelogramm  $ABCD$  zu zeichnen aus

1.  $AB = 8$  cm,  $AD = 6$  cm,  $\sphericalangle BAD = 67\frac{1}{2}^\circ$ ;
2.  $AB = 5$  cm,  $AD = 6$  cm,  $AC$  oder  $BD = 8$  cm;
3.  $AC = 10$  cm,  $BD = 12$  cm,  $\sphericalangle AOD = 105^\circ$ ;
4.  $AB = 9$  cm,  $AC = 10$  cm,  $BD = 14$  cm.

**Aufgabe 69.** Eine Strecke  $AB$  in  $n$  gleiche Teile zu teilen.

**Auflösung.** Nach Zusatz 1 zu Satz 79 wird  $AB$  in  $n$  gleiche Teile zerlegt, wenn auf irgend einer anderen durch  $A$  gehenden Geraden von  $A$  aus  $n$  gleiche Stücke abgemessen und durch die Endpunkte dieser Stücke Parallelen so gelegt werden, daß die letzte derselben durch  $B$  geht.

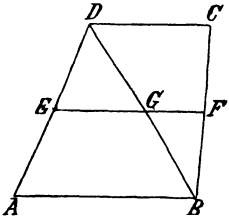
**53. Sätze und Aufgaben über das Trapez.**

Ein weiteres, gleichfalls beachtenswertes Viereck ist dasjenige, in welchem zwei gegenüber liegende Seiten parallel sind, während die Verlängerungen der beiden anderen Seiten sich schneiden.

**Erklärung.** Ein Viereck mit zwei parallelen Seiten wird Trapez genannt. Die beiden parallelen Seiten desselben heißen Grundlinien, ihr Abstand Höhe, die beiden anderen Seiten Schenkel und die Verbindungslinie ihrer Mitten Mittellinie des Trapezes. Sind die beiden Schenkel gleich, so wird das Trapez als gleichschenkelig bezeichnet.

a) Die Mittellinie des Trapezes.

Zieht man in einem Trapez  $ABCD$  durch die Mitte  $E$  des Schenkels  $AD$  die Parallele zu den Grundlinien, so teilt dieselbe nach Satz 79 eine der beiden Diagonalen, etwa  $BD$ , in zwei gleiche Teile  $BG$  und  $DG$ , und ihr Abschnitt  $EG$  ist gleich  $\frac{1}{2} AB$ . Nach demselben Satze teilt nun auch die Parallele  $GF$  den Schenkel  $BC$  in zwei gleiche Teile und ist gleich  $\frac{1}{2} CD$ , so daß  $EF$  oder  $EG + GF$  gleich  $\frac{1}{2} (AB + CD)$  ist. Demnach besteht der Satz 89. In einem Trapez ist die Parallele durch die Mitte eines Schenkels zu den Grundlinien die Mittellinie und halb so groß wie die Summe der Grundlinien.

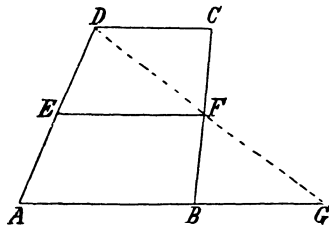


**Vor.** Es sei  $CD \parallel AB$ ,  $AE = DE$  und  $EF \parallel AB$ .

**Beh.** Es ist  $BF = CF$  und  $EF = \frac{1}{2} (AB + CD)$ .

**Entw. des Bew.** Will man den Satz unabhängig von seiner

Ableitung beweisen, so hat man zunächst, um nach Wink 7 verfahren zu können, zwei Dreiecke herzustellen, in denen  $BF$  und  $CF$  entsprechend liegen, und dann die Kongruenz dieser Dreiecke aus der Vor. abzuleiten. Zieht man aber, um die wesentliche Eigenschaft des Trapezes zu benutzen, die Gerade  $DF$ , welche  $AB$  in  $G$  trifft und zwei in der Größe aller





Winkel übereinstimmende Dreiecke  $BFG$  und  $CFD$  herstellt, in denen  $BF$  und  $CF$  gleichen Winkeln gegenüber liegen, so ist zum Nachweis der Kongruenz nur noch erforderlich, daß aus den übrigen Teilen der Vor. die Gleichheit zweier entsprechenden Seiten dieser Dreiecke abgeleitet wird. Die Anwendung des Satzes 79, auf den die Vor.  $AE = DE$  und  $EF \parallel AB$  ( $AG$ ) hinweist, führt nun zum Beweise für die beiden Teile der Behauptung.

Die Umkehrung des Satzes 89 lautet:

**Satz 90.** Die Mittellinie eines Trapezes ist parallel zu den Grundlinien und halb so groß wie die Summe derselben.

Der Satz kann für den ersten Teil der Behauptung nur indirekt bewiesen werden; der zweite Teil ergibt sich dann nach Satz 89 als eine Folgerung aus dem ersten.

#### b) Die Verbindungslinien der Diagonalmitten.

Bei der Ableitung des Satzes 89 wurde bereits bemerkt, daß die Diagonale  $BD$  durch  $EF$  halbiert wird; hätte man die Diagonale  $AC$  benutzt, so wäre auch diese durch  $EF$  in zwei gleiche Teile geteilt. Daraus folgt der

Zusatz zu Satz 90. Die Mittellinie eines Trapezes geht auch durch die Mitten der beiden Diagonalen.

Durch Umkehrung dieses Zusatzes erhält man den

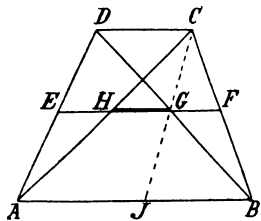
**Satz 91.** In einem Trapez ist die Verbindungslinie der Diagonalmitten (ein Stück der Mittellinie, also) parallel zu den Grundlinien.

Vor. Es sei  $CD \parallel AB$ ,  $AH = CH$  und  $BG = DG$ .

Beh. Es ist  $HG \parallel AB$ .

Entw. des Bew. Da die Gleichheit der vorhandenen Gl. W. sich nicht nachweisen läßt, so muß man zusehen, ob nicht einer der vorausgegangenen Sätze benutzt werden kann. Nun ist  $AH = CH$  und daher nach Satz 80  $HG \parallel AB$ , wenn  $G$  die Mitte einer zweiten von  $C$  ausgehenden Seite eines Dreiecks ist, dessen dritte Seite auf  $AB$  liegt. Verbindet man demnach  $C$  mit  $G$  und verlängert  $CG$  bis zum Schnittpunkte  $J$  mit  $AB$ , so hat man zu beweisen, daß  $CG = JG$  ist. Nach Winkel 7 ist hierzu erforderlich, daß die Kongruenz der beiden Dreiecke  $DGH$  und  $BGJ$  aus der Vor.  $CD \parallel AB$  und  $DG = BG$  abgeleitet wird. Zur Anwendung gelangt Kz. I. Ist aber  $HG \parallel AB$ , so halbiert die Verlängerung von  $HG$  auch die Schenkel (Satz 79) und liegt demnach auf der Mittellinie des Trapezes.

Aus der Kongruenz der Dreiecke  $BGJ$  und  $DGC$  folgt ferner



$JB = CD$ , also  $AJ = AB - CD$ , und da  $HG = \frac{1}{2} AJ$  ist, so ergibt sich der

Zusatz. In einem Trapez ist die Verbindungslinie der Diagonalmitteln gleich der halben Differenz der Grundlinien.

#### c) Das gleichschenklige Trapez.

**Satz 92.** In einem gleichschenkligen Trapez sind die Winkel an den Grundlinien gleichgroß.

Wird die wesentliche Eigenschaft des Trapezes ausgenutzt, indem von den Ecken einer Grundlinie die Lote auf die andere gefällt werden (Zus. zu Satz 23), so führt das Verfahren nach Wink 6 bei Benutzung des Kz. III rasch zum Ziele.

Folgerung 1. Die Mitteln der Seiten eines gleichschenkligen Trapezes sind die Ecken eines Rhombus (Satz 83a und Kz. II).

Folgerung 2. In einem gleichschenkligen Trapez sind die Diagonalen gleichgroß.

Beim Beweise für die Umkehrung des Satzes 92

**Satz 93.** Sind in einem Trapez die Winkel an einer Grundlinie gleich, so ist dasselbe gleichschenklig.

sind wie bei Satz 92 die Lote von den Endpunkten einer Grundlinie auf die andere zu benutzen, während der Zusatz zu Kz. I zur Anwendung gelangt.

#### d) Aufgaben.

Aufgabe 70. Beweise, daß die Winkelhalbierungslinien eines gleichschenkligen Trapezes ein Viereck bilden, dessen gegenüber liegende Winkel supplementar sind und dessen gegenüber liegende Seiten gleiche Summen ergeben.

Aufgabe 71. Ein Trapez zu zeichnen aus

1.  $AB = 8$  cm,  $AD = 5$  cm,  $CD = 6$  cm,  $h = 4$  cm.
2.  $AB = 5$  cm,  $\sphericalangle A = 75^\circ$ ,  $\sphericalangle B = 90^\circ$ ,  $AC = 6$  cm.
3.  $AB = 6$  cm,  $AD = 4$  cm,  $CD = 5$  cm,  $\sphericalangle D = 135^\circ$ .
4.  $AB = 6$  cm,  $CD = 4$  cm,  $AD = 7$  cm,  $BC = 5$  cm.

## 14. Kapitel.

### Der Kreis.

#### 54. Bogen, Mittelpunktswinkel und Sehnen.

Wiederhole die Erklärung des Kreises in Nr. 17 und die Bemerkungen über Kreisbogen in Nr. 19.

Erklärung. Der Winkel, den die Begrenzungsradien eines Bogens mit einander bilden, wird Mittelpunktswinkel genannt.

Zusatz 1. Zu jedem Bogen gehört nur ein Mittelpunktswinkel.

Zusatz 2. Zu jedem Mittelpunktswinkel gehört nur ein Bogen.

**Zusatz 3.** Der zu einem Halbkreise gehörige Mittelpunktswinkel ist ein flacher Winkel.

Da die Maßzahl für einen Kreisbogen dieselbe ist wie für den zugehörigen Mittelpunktswinkel (beide werden mit dem Gradmesser ausgemessen!), so folgen unmittelbar aus der Erklärung die Sätze:

**Satz 94.** Zu gleichen Bogen eines Kreises oder zweier Kreise mit demselben Halbmesser\*) gehören gleiche Mittelpunktswinkel.

**Zusatz.** Zu dem größeren von zwei Bogen eines Kreises gehört der größere Mittelpunktswinkel.

**Satz 95.** Zu gleichen Mittelpunktswinkeln eines Kreises gehören gleiche Bogen.

**Zusatz.** Zu dem größeren von zwei Mittelpunktswinkeln eines Kreises gehört der größere Bogen.

**Erklärung.** Die Verbindungslinie der Endpunkte eines Kreisbogens wird Sehne genannt.

**Zusatz 1.** Zu jedem Bogen, bez. Mittelpunktswinkel gehört nur eine Sehne.

**Zusatz 2.** Durch jede Sehne sind zwei Bogen bez., zwei Mittelpunktswinkel bestimmt, von denen der kleinere als der zur Sehne gehörige bezeichnet werden soll.

Die Schenkel des gleichschenkligen Dreiecks, in welchem ein Mittelpunktswinkel und eine Sehne sich gegenüber liegen, sind Radien und haben daher stets dieselbe Länge. Demnach bestimmen zwei gleiche Mittelpunktswinkel, bez. zwei gleiche Sehnen eines Kreises stets zwei nach Rz. II, bez. nach Rz. IV kongruente Dreiecke, und daraus folgt:

**Satz 96.** Zu gleichen Mittelpunktswinkeln eines Kreises gehören gleiche Sehnen.

**Zusatz.** Zu dem größeren von zwei Mittelpunktswinkeln eines Kreises gehört die größere Sehne.

Die beiden gleichschenkligen Dreiecke erfüllen die Bedingungen des Satzes 62.

**Satz 97.** Zu gleichen Sehnen eines Kreises gehören gleiche Mittelpunktswinkel.

**Zusatz.** Zu der größeren von zwei Sehnen eines Kreises gehört der größere Mittelpunktswinkel.

Die beiden gleichschenkligen Dreiecke erfüllen die Bedingungen des Satzes 63.

Für die Abhängigkeit der Sehnen und Bogen von einander folgen aus den Sätzen 94—97 die Gesetze:

\*) Auch bei den folgenden Sätzen ist diese Erweiterung hinzuzufügen.

**Satz 98.** Zu gleichen Bogen eines Kreises gehören gleiche Sehnen.

Zusatz. Zu dem größeren von zwei Bogen eines Kreises gehört die größere Sehne.

**Satz 99.** Zu gleichen Sehnen eines Kreises gehören gleiche Bogen.

Folgerung. Jeder Durchmesser halbiert den Kreis.

Zusatz. Zu der größeren von zwei Sehnen eines Kreises gehört der größere Bogen.

### 55. Die Sehne und ihr Abstand vom Mittelpunkte.

Wendet man auf das durch eine Sehne bestimmte gleichschenklige Dreieck den Satz 41 an, so ergibt sich:

**Satz 100.** In einem Kreise bilden eine einzige Linie

- a) das zu einer Sehne gehörige Mittellot,
- b) das vom Mittelpunkte auf dieselbe gefällte Lot,
- c) die Verbindungslinie ihrer Mitte mit dem Mittelpunkte und
- d) die Halbierungslinie des zu ihr gehörigen Mittelpunktswinkels.

Folgerung 1. Auch die Verbindungslinie des Mittelpunktes mit der Mitte des zu der Sehne gehörigen Bogens fällt mit dieser Linie zusammen. (Satz 94 und Teil d.)

Folgerung 2. Dasselbe gilt von der Geraden, welche die Mitten der Sehne und des zugehörigen Bogens verbindet. (Satz 98, 39 und Teil a.)

Zusatz. Der Abstand einer Sehne vom Mittelpunkte ist kleiner als der Halbmesser.

Der Satz für den geometr. Ort 3 kann nach Satz 100 den Wortlaut erhalten:

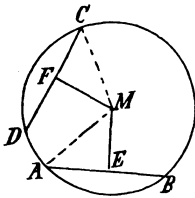
**Geometr. Ort 3a.** Das Mittellot einer Strecke ist der geometr. Ort für die Mittelpunkte aller Kreise, welche durch die Endpunkte der Strecke gehen.

Werden in einem Kreise zwei gleiche Sehnen und ihre Abstände vom Mittelpunkte gezeichnet, so leitet die Figur zu dem

**Satz 101.** Gleiche Sehnen eines Kreises haben gleiche Abstände vom Mittelpunkte.

Vor. Es sei Sehne  $AB =$  Sehne  $CD$ ,  $ME \perp AB$  und  $MF \perp CD$ .

Beh. Es ist  $ME = MF$ .



Entw. des Bew. Da  $AB$  und  $CD$  Sehnen und  $ME$ , bez.  $MF$  die von  $M$  auf dieselben gefällten Lote sind, so liegt es nahe, zum Beweise der nach Wink 7 erforderlichen Kongruenz der Dreiecke  $AME$  und  $CMF$  den Satz 100 anzuwenden, um aus der Vor. abzuleiten, daß die Bedingungen des  $\text{Kz. III}$  erfüllt sind. Es können indessen nach einem kleinen Umwege ( $\text{Kz. IV}$ ) auch  $\text{Kz. I}$  und  $\text{Kz. II}$  zur Anwendung gelangen.

Folgerung. Die Mitten aller gleichen Sehnen eines Kreises liegen auf einem Kreise, der mit dem ersten den Mittelpunkt gemeinsam hat.

Zusatz. Die größere von zwei Sehnen eines Kreises hat den kleineren Abstand vom Mittelpunkte.

(Mit Benutzung des Satzes 100 auf Satz 65 zurückzuführen.)

Werden umgekehrt zwei Sehnen eines Kreises gezeichnet, die gleichen Abstand vom Mittelpunkte haben (indem man gleichweit vom Mittelpunkte auf zwei beliebigen Radien die Lote errichtet), so leitet wiederum die Figur zu dem

**Satz 102.** Haben zwei Sehnen eines Kreises gleiche Abstände vom Mittelpunkte, so sind sie gleich.

Vor. Es seien  $AB$  u.  $CD$  Sehnen,  $ME \perp AB$ ,  $MF \perp CD$  u.  $ME = MF$ .  
Beh. Es ist  $AB = CD$ .

Entw. des Bew. (S. Fig. des Satzes 101.) Da  $AB$  und  $CD$  Sehnen und  $ME$ , bez.  $MF$  die Lote von  $M$  auf dieselben sind, so weist die Vor. darauf hin, die Hälften (Satz 100) der Sehnen  $AB$  und  $CD$  mit einander zu vergleichen und zu diesem Zwecke nach Wink 7 die Kongruenz der Dreiecke  $MAE$  und  $MCF$  nachzuweisen. Zur Anwendung gelangt  $\text{Kz. III}$ .

Zusatz. Von zwei Sehnen eines Kreises ist diejenige die größere, welche den kleineren Abstand vom Mittelpunkte hat.

(Mit Benutzung des Satzes 100 auf Satz 65 zu stützen.)

Folgerung. Der Durchmesser ist die größte Sehne.

Sein Abstand vom Mittelpunkte ist gleich Null.

## 56. Mittelpunkts- und Umfangswinkel.

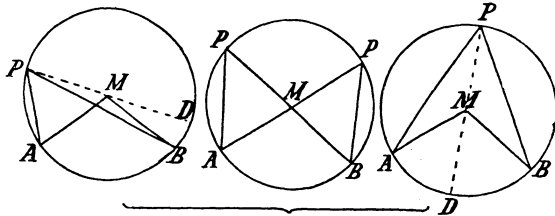
Erklärung. Die Verbindungslinien der Endpunkte einer Sehne mit einem Punkte des Kreises schließen einen Winkel ein, der Umfangswinkel genannt wird und zu (auf) dem Bogen gehört (steht) der zwischen seinen Schenkeln liegt.

Zusatz 1. Zu jedem Bogen gehören unbegrenzt-viele Umfangswinkel.

Zusatz 2. Zu jedem Umfangswinkel gehört nur ein Bogen.

Zusatz 3. Mit jedem Mittelpunktswinkel stehen unbegrenzt-viele Umfangswinkel auf demselben Bogen.

Will man das Gesetz für die Abhängigkeit aller auf einem Bogen stehenden Umfangswinkel von dem Bogen, oder was auf dasselbe hinauskommt, von dem zu dem letzteren gehörigen Mittelpunktswinkel ermitteln, so muß man zusehen, ob sie nicht in eine begrenzte Anzahl von Gruppen eingeteilt werden können, für welche eine Beziehung zu dem Mittelpunktswinkel herstellbar ist. Bewegt sich aber ihr Scheitelpunkt  $P$  auf dem Kreise von dem einen Endpunkte  $A$  des Bogens  $AB$ , auf dem er liegt, bis zu dem anderen, so befindet sich  $M$  anfänglich ganz außerhalb des Winkels, fällt dann auf den Schenkel  $PB$ ,



bleibt in dem Winkelraume, bis ihn der Schenkel  $PA$  erreicht, und liegt schließlich wieder außerhalb des Winkels. Demnach kann man die sämtlichen zu einem Bogen gehörigen Umfangswinkel in drei Gruppen einteilen, die sich dadurch von einander unterscheiden, daß der Mittelpunkt des Kreises

bei der ersten außerhalb des Winkels,

bei der zweiten auf einem der Schenkel und

bei der dritten in dem Winkel, d. h. innerhalb der beiden Schenkel liegt. \*) Für die beiden Winkel der zweiten Gruppe ist die Beziehung zu dem Mittelpunktswinkel am einfachsten erkennbar, weil bei der Lage der Schenkel der letztere der Außenwinkel an der Spitze eines gleichschenkligen Dreiecks ist, in welchem einer der beiden Umfangswinkel an der Grundlinie liegt. Es besteht daher nach Satz 31 die Gleichheit

$$\sphericalangle APB = \frac{1}{2} \sphericalangle AMB.$$

Es liegt nahe, den Satz 31 auch bei den Winkeln der beiden anderen Gruppen zu benutzen, weil durch die Verbindung des Punktes  $P$  mit  $M$  stets ein gleichschenkliges Dreieck entsteht. Zieht man aber den Durchmesser  $PMD$ , so werden zwei neue Umfangswinkel  $APD$

\*) Ist der zugehörige Bogen nicht kleiner als ein Halbkreis, so befinden sich alle Winkel in der dritten Gruppe.

und  $DPB$  gebildet, deren Differenz, bez. Summe gleich  $\sphericalangle APB$  ist, während durch Subtraktion, bez. Addition der zu ihnen gehörigen Mittelpunktswinkel  $AMD$  und  $DMB$  der Winkel  $AMB$  entsteht. Die nach Satz 31 eintretenden Gleichheiten

$$\begin{aligned} & \sphericalangle APD = \frac{1}{2} \sphericalangle AMD \\ \text{und} \quad & \sphericalangle DPB = \frac{1}{2} \sphericalangle DMB \end{aligned}$$

liefern daher bei der ersten Gruppe durch Subtraktion und bei der dritten durch Addition nach G. IV für die Winkel die Beziehung

$$\sphericalangle APB = \frac{1}{2} \sphericalangle AMB.$$

Demnach sind die sämtlichen auf einem Bogen stehenden Umfangswinkel mit dem zu ihnen gehörigen Mittelpunktswinkel durch den Satz verbunden:

**Satz 103.** Jeder Umfangswinkel ist halb so groß wie der Mittelpunktswinkel, der mit ihm auf demselben Bogen eines Kreises steht.

Folgerung 1. Die zu einem Bogen gehörigen Umfangswinkel sind unter einander gleich.

Folgerung 2. Der Umfangswinkel, der auf einem Halbkreise steht, ist ein rechter.

Folgerung 3. Zu gleichen Sehnen eines Kreises gehören gleiche Umfangswinkel (Satz 94).

Zusatz. Zu der größeren von zwei Sehnen eines Kreises gehören die größeren Umfangswinkel.

Folgerung 4. Zu gleichen Umfangswinkeln eines Kreises gehören gleiche Bogen (Satz 95).

Zusatz. Zu dem größeren von zwei Umfangswinkeln eines Kreises gehört der größere Bogen.

**Aufgabe.** Beweise, daß zwischen Parallelen liegende Bogen eines Kreises gleich sind.

Für die Umfangswinkel besteht hiernach der

**Lehrsatz XIII.** Alle Umfangswinkel auf demselben oder gleichen Bogen eines Kreises oder auf gleichen Bogen zweier Kreise mit demselben Halbmesser sind unter einander gleich.

**Wink 9.** Um die Gleichheit zweier Winkel zu beweisen, kann man zu zeigen suchen, daß sie als Umfangswinkel auf demselben oder gleichen Bogen eines Kreises oder auf gleichen Bogen zweier Kreise mit demselben Halbmesser stehen.

kehrt man die Folgerung zu Satz 103 um, so folgt

**Satz 104.** Die Scheitelpunkte aller auf derselben Seite über einer Strecke stehenden gleichen Winkel liegen mit den Endpunkten der Strecke auf einem Kreise.

Vor. Es sei  $\sphericalangle APB = \sphericalangle AQB = \sphericalangle ARB$  u. f. w.

Beh. Es liegen,  $P, Q, R$  u. f. w. mit  $A$  und  $B$  auf einem Kreise.

Entw. des Bew. Wird der einzige, durch die drei Punkte  $A, B$  und  $P$  bestimmte Kreis (Folgerung 2, Satz 52) gezeichnet, so hat man zu zeigen, daß derselbe auch durch  $Q, R$  u. f. w. geht. Der zunächst liegende Versuch, nachzuweisen, daß die Entfernungen dieser Punkte von dem Mittelpunkte des Kreises gleich dem Halbmesser seien, gelingt nicht, und da andere Hilfsmittel fehlen, so muß der Satz indirekt bewiesen werden. Nimmt man aber an, der Kreis ginge z. B. nicht durch  $R$ , sondern trafe den Schenkel  $AR$  in  $X$ , so würde der Winkel  $AXB$  nach Folgerung 1, Satz 103 gleich  $\sphericalangle APB$ , nach Vor. also auch gleich  $\sphericalangle ARB$  sein, und dies ist nach Lehrsatz V unmöglich, einerlei ob  $X$  zwischen  $A$  und  $R$  oder auf der Verlängerung von  $AR$  angenommen wird.

Folgerung. Die Scheitelpunkte aller über einer Strecke stehenden rechten Winkel liegen auf dem Kreise, der die Strecke zum Durchmesser hat.

Aus Satz 104 und Folgerung 1, Satz 103 ergibt sich:

**Geometr. Ort 5.** In einem Kreise, welcher über einer Strecke  $AB$  als Sehne einen Umfangswinkel von der Größe  $\varphi$  besitzt, ist der zu dem Winkel nicht zugehörige Bogen der geometr. Ort für die Scheitelpunkte aller auf derselben Seite über  $AB$  stehenden Winkel, welche die Größe  $\varphi$  haben.

Aus Folgerung 2, Satz 103 und Folgerung, Satz 104 ergibt sich weiter:

**Geometr. Ort 6.** Der Kreis mit dem Durchmesser  $AB$  ist der geometr. Ort für die Scheitelpunkte aller über  $AB$  stehenden rechten Winkel.

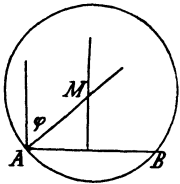
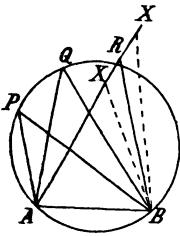
Die Herstellung des Ortes 6 ist einfach. Die Zeichnung des Ortes 5 erfordert die Ausführung der

Aufgabe 72 (Grund-Aufgabe). Einen Kreis zu zeichnen, der über einer Strecke  $AB$  als Sehne einen Umfangswinkel von der Größe  $\varphi$  besitzt.

Auflösung. Da  $AB$  eine Sehne des Kreises sein soll, so liegt der Mittelpunkt  $M$  auf dem Mittellote von  $AB$  (Ort 3<sup>a</sup>).

Da ferner der Umfangswinkel über dem Bogen  $AB$  gleich  $\varphi$ , der Mittelpunktswinkel über  $AB$  also gleich  $2\varphi$  und demnach in dem gleichschenkligen Dreieck  $AMB$  der für die Zeichnung brauchbare Winkel  $MAB$  gleich  $R - \varphi$  sein soll, so liegt  $M$  auch auf dem zweiten Schenkel des in  $A$  an  $AB$  angelegten Winkels  $R - \varphi$ .

Anmerkung. Für  $\varphi > R$  ist der Winkel  $MAB$  gleich  $\frac{1}{2}(2R - \sphericalangle AMB)$  oder  $\frac{1}{2}[2R - (4R - 2\varphi)]$  oder  $\varphi - R$ . Der Fall  $\varphi = R$  führt auf Ort 6.





Die geometrischen Dertter 5 und 6 werden benutzt bei der Ausführung der Aufgaben :

**Aufgabe 73.** Ein rechtwinkliges Dreieck zu zeichnen aus

1. der Hypotenuse und einer Kathete,
2. " " " der zu ihr gehörigen Höhe,
3. " " " dem Fußpunkt der zu ihr gehörigen Höhe.

**Aufgabe 74.** Ein Dreieck zu zeichnen aus

- 1)  $a, h_a, h_b$ . 2)  $a, h_b, h_c$ . 3)  $a, h_b, m_a$ . 4)  $a, h_b, m_b$ .

**Aufgabe 75.** Ein Dreieck zu zeichnen aus

- 1)  $a, \alpha, h_a$ . 2)  $a, \alpha, m_a$ . 3)  $a, \alpha, h_b$ . 4)  $a, \alpha, b \pm c$ . (S. Aufg. 50 u. 51.)  
 5)  $a + b + c, \alpha, h_a$ . (S. Aufl. der Aufg. 52. Der Winkel  $EAF'$  ist gleich  $R + \frac{\alpha}{2}$ ).

### 57. Sekante und Tangente.

#### a) Sätze über die Tangente.

**Erklärung.** Eine Gerade, welche mit einem Kreise zwei Punkte gemein hat, schneidet den Kreis und wird deshalb Sekante (Schneidende) genannt.

**Zusatz 1.** Eine Sekante entsteht durch Verlängerung einer Sehne.

**Zusatz 2.** Zu jeder Sehne gehört nur eine Sekante.

**Zusatz 3.** Zu jeder Sekante gehört nur eine Sehne.

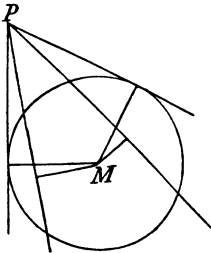
**Zusatz 4.** Durch einen Punkt können unbegrenzt viele Sekanten eines Kreises gelegt werden, von denen eine einzige durch den Mittelpunkt geht.

Aus Zusatz 1 ergibt sich die

**Folgerung.** Der Abstand einer Sekante von dem Mittelpunkte des Kreises ist kleiner als der Halbmesser.

Wird eine Sekante um einen ihrer Punkte außerhalb des Kreises gedreht, so wird dadurch die Größe der zugehörigen Sehne und ihres Abstandes vom Mittelpunkte nach dem Zusatz zu Satz 101 in umgekehrtem Sinne geändert. Je näher die Schnittpunkte an einander rücken, um so mehr nähert sich die Größe des Abstandes dem Halbmesser. Fallen die beiden Schnittpunkte des Kreises und der Sekante in einem Punkte zusammen, so führt auch der Abstand nach diesem Punkte, weil er stets die Mitte der Sehne mit dem Mittelpunkte verbindet, und erreicht deshalb die Größe des Halbmessers. In dieser Lage, die von der gedrehten Strecke zweimal eingenommen werden kann, erhält die Sekante einen besonderen Namen.

**Erklärung.** Hat eine Sekante mit einem Kreise nur einen Punkt gemein, so wird sie Tangente (Berührende) genannt. Man



sagt dann, sie berühre den Kreis in dem gemeinschaftlichen Punkte, dem Berührungspunkte, und nennt den nach demselben führenden Radius den Berührungsradius.

Folgerung. Durch jeden Punkt außerhalb eines Kreises können zwei Tangenten an denselben gelegt werden.

Da der Berührungsradius zugleich der Abstand der Tangente vom Mittelpunkte des Kreises ist, so ergibt sich der

**Satz 105.** Die Tangente steht im Berührungspunkte auf dem Berührungsradius senkrecht.

Folgerung 1. Durch einen Punkt eines Kreises kann nur eine Tangente an denselben gelegt werden. (Satz 6.)

Folgerung 2. Das im Endpunkte eines Radius auf demselben errichtete Lot ist eine Tangente.

Folgerung 3. Das im Berührungspunkte einer Tangente auf derselben errichtete Lot geht durch den Mittelpunkt des Kreises.

Es besteht daher auch der Satz:

**Geometr. Ort 7.** Das in einem Punkte einer Geraden auf derselben errichtete Lot ist der geometr. Ort für die Mittelpunkte aller Kreise, welche die Gerade in diesem Punkte berühren.

Zusatz 1. Die Mittelpunkte aller Kreise mit demselben Halbmesser, welche eine Gerade berühren, liegen auf der im Abstände des Halbmessers zu dieser Geraden gezogenen Parallelen.

Zusatz 2. Die Mittelpunkte aller Kreise, welche zwei Parallelen berühren, liegen auf einer Geraden, welche in gleichem Abstände von den beiden Parallelen zu ihnen parallel verläuft.

**Aufgabe 76.** (Grund-Aufgabe.) Durch einen Punkt  $P$  außerhalb eines Kreises eine Tangente an denselben zu ziehen.

**Auflösung.** Ist  $X$  der gesuchte Berührungspunkt, so ist der Winkel  $PXM = R$ , und demnach liegt  $X$  auf dem Kreise, der  $PM$  zum Durchmesser hat. (Ort 6). Zwei Lösungen.

#### b) Der Sehnen-Tangentenwinkel.

**Erklärung.** Der Winkel, den eine Tangente und eine von ihrem Berührungspunkte aus gezogene Sehne bilden, heißt Sehnen-Tangentenwinkel.

**Zusatz.** Zu jeder Sehne gehören an jedem ihrer Endpunkte zwei Sehnen-Tangentenwinkel.

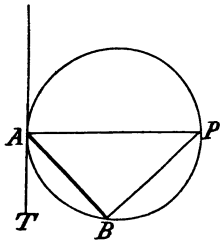
**Erklärung.** Von den beiden an einem Endpunkte einer Sehne liegenden Sehnen-Tangentenwinkeln gehört der spitze dem kleineren und der stumpfe dem größeren Bogen zu.

**Zusatz.** Zu jedem Bogen gehören zwei Sehnen-Tangentenwinkel.

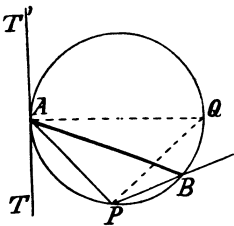
Werden die Berührungsradien (Tangente!) gezogen, so bilden dieselben mit den Tangenten rechte Winkel, und da sie mit der Sehne

ebenfalls gleiche Winkel einschließen, so folgt, daß die beiden spitzen und somit auch die beiden stumpfen Sehnen-Tangentenwinkel gleich sind. (Satz 12.) Da ferner die beiden Dreieckswinkel an der Sehne sowohl mit dem Mittelpunktswinkel (Lehrj. VI) als auch mit den spitzen Sehnen-Tangentenwinkeln (Satz 105) zusammen  $2R$  betragen, so ist jeder Sehnen-Tangentenwinkel halb so groß wie der Mittelpunktswinkel und folglich gleich dem zugehörigen Umfangswinkel. Dies führt zu **Satz 106.** Jeder Sehnen-Tangentenwinkel ist gleich dem zugehörigen Umfangswinkel.

Entw. des Bew. Will man den Satz ohne Benutzung des Mittelpunktswinkels beweisen, so hat man zu zeigen, daß der Sehnen-Tangentenwinkel irgend einem der zu der Sehne gehörigen Umfangswinkel gleich ist. Die Eigenschaft der Tangente weist ferner darauf hin, zum Vergleiche den Winkel zu wählen, dessen vom Berührungspunkte  $A$  ausgehender Schenkel ein Durchmesser ist. Da dann  $\sphericalangle ABP = R$  ist, so kann die Richtigkeit des Satzes aus der nun bekannten Beziehung der beiden Winkel zu dem Winkel  $PAB$  nach Satz 13 abgeleitet werden.



Der Nachweis, daß der stumpfe Sehnen-Tangentenwinkel gleich dem zugehörigen Umfangswinkel sei, ist auf diesem Wege nicht zu erzwingen. Wird aber wieder der von  $A$  ausgehende Durchmesser  $AQ$  gezogen und  $Q$  mit dem Scheitelpunkte  $P$  des Umfangswinkels verbunden, so werden die beiden Winkel  $T'AB$  und  $APB$  in je zwei Teile zerlegt, aus deren Vergleichung nach G. IV sich die Richtigkeit des Satzes ergibt.



**Zusatz.** Ist die Sehne ein Durchmesser, so ist jeder der zugehörigen Sehnen-Tangentenwinkel ein rechter.

**Anmerkung.** Die Sätze 105 und 106 liefern für die Herstellung des Ortes 5 einen zweiten, gleichfalls bequemen Weg. Man legt den Winkel  $\varphi$  in  $A$  an  $AB$  an und errichtet in  $A$  auf dem zweiten Schenkel das Lot. Dasselbe schneidet das Mittellot von  $AB$  in dem Mittelpunkte des gesuchten Kreises.

### c. Zwei von einem Punkte ausgehende Tangenten.

Der Schnittpunkt der beiden zu einer Sehne gehörigen Tangenten begrenzt auf denselben mit den Berührungspunkten zwei Stücke, die im engeren Sinne als Tangenten bezeichnet werden. Von ihnen gilt der

**Satz 107.** Zwei von einem Punkte an einen Kreis gezogene Tangenten sind gleichgroß.

Das Verfahren nach Wint 7 führt zu einer Anwendung des Rz. III.

Der Mittelpunkt des Kreises liegt auf der Halbierungslinie des

Winkels, den die beiden Tangenten einschließen (Ort 4). Der Satz über den Ort 4 kann daher den Wortlaut erhalten:

**Geometr. Ort 4a.** Die Halbierungslinie eines Winkels ist der geometr. Ort für die Mittelpunkte aller Kreise, welche seine Schenkel gleichzeitig berühren.

### 58. Übungsbeispiele und Aufgaben.

a) Sind zwei Tangenten eines Kreises parallel, so ist die Verbindungslinie der Berührungspunkte, die Berührungsehne, ein Durchmesser.

b) Jede der Tangenten bildet mit ihrem Berührungsradius und der Verbindungslinie ihres Ausgangspunktes mit dem Mittelpunkte ein rechtwinkliges Dreieck, und da die Größe des Radius sich nicht ändert, so folgt:

**Satz 108.** a) Alle Tangenten eines Kreises sind gleich, deren Ausgangspunkte vom Mittelpunkte gleichweit entfernt sind (Satz 48d).

b) Die Ausgangspunkte aller gleichen Tangenten sind vom Mittelpunkte des Kreises gleichweit entfernt (Satz 48a).

c) Alle Tangentenwinkel sind gleich, deren Scheitelpunkte vom Mittelpunkte des Kreises gleichweit entfernt sind (Satz 48d).

d) Die Scheitelpunkte gleicher Tangentenwinkel sind vom Mittelpunkte des Kreises gleichweit entfernt (Satz 48c).

e) Aufgaben.

**Aufgabe 77.** Einen Kreis zu zeichnen, der durch einen Punkt  $A$  geht und eine Gerade  $G$  in einem Punkte  $B$  berührt.

**Auflösung.** Da der Kreis die Gerade  $G$  in  $B$  berühren soll, so muß sein Mittelpunkt auf dem in  $B$  auf  $G$  errichteten Lote liegen (Ort 7); da ferner  $A$  ein Punkt des Kreises,  $AB$  also eine Sehne sein soll, so muß der Mittelpunkt auch auf dem Mittellote von  $AB$  liegen (Ort 3a).

**Aufgabe 78.** Einen Kreis mit gegebenem Halbmesser  $r$  zu zeichnen, der durch einen Punkt  $A$  geht und eine Gerade  $G$  berührt.

Benutze Zusatz 1 zu Ort 7 und Ort 1. Zwei Lösungen.

**Aufgabe 79.** Einen Kreis zu zeichnen, der zwei Parallelen  $G_1$  und  $G_2$  berührt und durch einen zwischen ihnen liegenden Punkt  $A$  geht.

Benutze Zusatz 2 zu Ort 7 und Ort 1. Zwei Lösungen.

**Aufgabe 86.** Einen Kreis zu zeichnen, der zwei sich schneidende Geraden berührt, und zwar eine von ihnen in einem gegebenen Punkte.

Benutze Ort 4a und Ort 7.

**Aufgabe 81.** Durch einen Punkt  $P$  außerhalb eines Kreises eine Sekante so zu ziehen, daß die zugehörige Sehne die Länge  $l$  hat. ( $l < 2r$ .)

**Auflösung.** Ist  $PXY$  die gesuchte Sekante und  $Z$  der Mittelpunkt der Sehne  $XY$ , so ist  $\sphericalangle PZM = R$  und folglich der Kreis, der  $PM$  zum Durchmesser hat, ein Ort für  $Z$ . (Ort 6.) Die zweite Bestimmung der Aufgabe liefert nach Folgerung, Satz 101 einen zweiten Ort für  $Z$ , wenn man eine beliebige Sehne von der Länge  $l$  zeichnet und mit ihrem Abstände vom Mittelpunkte um denselben einen Kreis beschreibt. Zwei Lösungen.

**Aufgabe 82.** Einen Punkt zu bestimmen, von dem aus an einen gegebenen Kreis eine Tangente von der Länge  $l$  gezogen werden kann.

**Aufgabe 82a.** Den geometr. Ort für alle diese Punkte zu zeichnen.

Benutze Satz 108b.

**Aufgabe 83.** Einen Punkt zu bestimmen, dessen Tangenten an einen gegebenen Kreis einen Winkel von der Größe  $\varphi$  einschließen.

**Auflösung.** Die Verbindungslinie des Punktes mit dem Mittelpunkte schließt mit dem Berührungsradius einen Winkel von der Größe  $R - \frac{\varphi}{2}$  ein.

**Aufgabe 83a.** Den geometr. Ort für alle die Punkte zu zeichnen.

Benutze Satz 108d.

### 59. Das ein- und umgeschriebene Dreieck und Viereck.

**Erklärung.** Sind die Seiten eines Vielecks  $\left\{ \begin{array}{l} \text{Sehnen} \\ \text{Tangenten} \end{array} \right\}$  eines Kreises, so sagt man, dasselbe sei dem Kreise  $\left\{ \begin{array}{l} \text{ein-} \\ \text{um-} \end{array} \right\}$  geschrieben oder der Kreis sei ihm  $\left\{ \begin{array}{l} \text{um-} \\ \text{ein-} \end{array} \right\}$  geschrieben, und nennt das Vieleck ein  $\left. \begin{array}{l} \text{Sehnen-} \\ \text{Tangenten-} \end{array} \right\}$  vieleck.

Von den Sätzen über die besonderen Punkte im Dreieck und Viereck erhalten die Sätze 52—58 bei dieser Bezeichnungsweise den Wortlaut:

**Satz 109.** Um jedes Dreieck läßt sich ein Kreis beschreiben. (Satz 52.)

Der Schnittpunkt der drei Mittellote ist der Mittelpunkt des Kreises.

**Satz 110.** Für jedes Dreieck ist ein einziger eingeschriebener Kreis möglich. (Satz 55.)

Der Schnittpunkt der drei Winkelhalbierungslinien ist der Mittelpunkt und sein Abstand von einer Seite der Halbmesser des Kreises.

**Satz 111.** Die Seiten eines Dreiecks, bez. ihre Verlängerungen werden gemeinschaftlich von 4 Kreisen berührt. (Satz 55 und 56.)

**Satz 112.** In einem Sehnenviereck sind je zwei gegenüber liegende Winkel supplementär. (Satz 53.)

**Folgerung.** Jeder Außenwinkel eines Sehnenvierecks ist gleich dem gegenüber liegenden Winkel des Vierecks.

**Satz 113.** Sind in einem Viereck zwei gegenüber liegende Winkel supplementär, so ist dasselbe ein Sehnenviereck. (Satz 54.)

**Satz 114.** In einem Tangentenviereck sind die Summen aus den gegenüber liegenden Seiten gleichgroß. (Satz 57.)

**Satz 115.** Sind in einem Viereck die Summen der gegenüber liegenden Seiten gleichgroß, so ist dasselbe ein Tangentenviereck. (Satz 58.)

Anmerkung zu Satz 111. Die Berührungspunkte der 4 zu einem Dreieck gehörigen Berührungskreise begrenzen auf den Seiten und ihren Verlängerungen Stücke, von denen je zwei, die in einer Ecke zusammenstoßen, nach Satz 107 gleichgroß sind.

Jedes dieser Stücke kann durch die Länge der Dreiecksseiten ausgedrückt werden. Es ist nämlich

$$\begin{aligned} AD + AE &= (AB - BD) + (AC - CE), \\ &= (AB - BF) + (AC - CF), \\ &= AB + AC - (BF + CF), \\ &= AB + AC - BC, \end{aligned}$$

und somit

$$AD = AE = \frac{1}{2}(AB + AC - BC).$$

In gleicher Weise ergibt sich

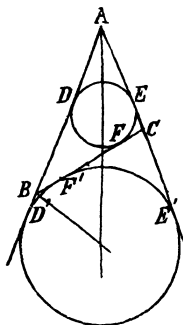
$$BD = BF = \frac{1}{2}(AB + BC - AC),$$

$$CF = CE = \frac{1}{2}(AC + BC - AB).$$

$$\begin{aligned} \text{Ferner ist } AD' + AE' &= (AB + BD') + (AC + CE'), \\ &= (AB + BF') + (AC + CF'), \\ &= AB + AC + BC, \end{aligned}$$

$$\text{also } AD' = AE' = \frac{1}{2}(AB + AC + BC).$$

Die Strecken von den Ecken bis zu den Berührungspunkten der gegenüber liegenden äußeren Kreise sind hiernach unter einander gleich.



## 60. Übungsbeispiele und Aufgaben.

a) Welche Parallelogramme besitzen einen ein- und welche einen umgeschriebenen Kreis?

b) Welche Bezeichnung kommt dem Viereck zu, dessen Seiten die an einander stoßenden Hälften zweier Dreiecksseiten und die zu ihnen gehörigen Mittellote sind?

c) Welche Bezeichnung kommt dem Viereck zu, das aus den gegenseitigen Projektionen zweier Dreiecksseiten und den unteren Höhenabschnitten gebildet wird?

d) Wieviel Sehnenvierecke sind vorhanden, wenn die drei Höhen eines Dreiecks gezeichnet sind?

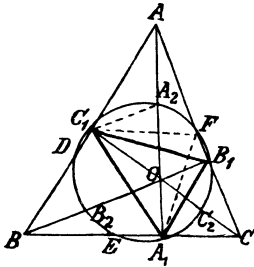
e) Die Verbindungslinie der Fußpunkte zweier Höhen zerlegt das Dreieck in ein Sehnenviereck und ein Dreieck, das mit ihm gleiche Winkel hat. (Folgerung, Satz 112.)

Erklärung. Das durch die Fußpunkte der drei Höhen eines Dreiecks bestimmte Dreieck wird Höhendreieck genannt.

f) Die Winkel des Höhendreiecks werden durch die Höhen des ursprünglichen Dreiecks halbiert.

g) Der dem Höhendreieck umgeschriebene Kreis halbiert die oberen Höhenabschnitte und die Seiten (Feuerbachscher Kreis).

Entw. des Bew. Es seien  $AA_1$ ,  $BB_1$ ,  $CC_1$  die drei Höhen,  $A_2$ ,  $B_2$ ,  $C_2$  die Mitten der oberen Höhenabschnitte,  $O$  der Schnittpunkt der Höhen und  $D$ ,  $E$ ,  $F$  die Mitten der Seiten.



Zunächst soll bewiesen werden, daß z. B.  $A_2$  auf dem Kreise liegt, der durch  $A_1$ ,  $B_1$  und  $C_1$  geht; zu dem Zwecke hat man zu zeigen, daß  $\sphericalangle C_1A_2A_1 = \sphericalangle C_1B_1A_1$  ist (Satz 104). Ein unmittelbarer Vergleich dieser Winkel ist nicht möglich. Beachtet man aber einerseits, daß  $AC_1OB_1$  ein Sehnenviereck und  $\sphericalangle AC_1O = R$ , also  $A_2$  der Mittelpunkt des zugehörigen Kreises und somit  $\sphericalangle C_1A_2A_1 = 2 \sphericalangle C_1AA_1$  ist, und andererseits, daß  $BB_1$  den Winkel  $C_1B_1A_1$  halbiert, so gelangt man zu einem mittelbaren Vergleiche aus der Beziehung, die zwischen den Winkeln  $C_1AA_1$  und  $C_1B_1O$  besteht (Wink 9).

Ferner ist zu zeigen, daß jede der Seitenmitten auf dem angegebenen Kreise liegt, und dazu ist z. B. für die Mitte  $F$  von  $AC$  wiederum erforderlich, daß die Gleichheit der Winkel  $C_1FA_1$  und  $C_1B_1A_1$  nachgewiesen wird. Auch hier läßt sich ein mittelbarer Vergleich durchführen, wenn man beachtet, daß  $F$  der Mittelpunkt des zu dem Sehnenviereck  $AC_1A_1C$  gehörigen Kreises ist.

h) Wird die Mitte einer Seite mit der Mitte des oberen Höhenabschnitts der zugehörigen Höhe verbunden, so entsteht ein Durchmesser des Feuerbachschen Kreises.

Die beiden Punkte bestimmen mit dem Fußpunkte der Höhe ein rechtwinkliges Dreieck.

i) Der Halbmesser des Feuerbachschen Kreises ist halb so groß wie der Halbmesser des dem ursprünglichen Dreieck umgeschriebenen Kreises.

k) Aufgaben.

Bezeichnungen. Der Halbmesser des einem Dreieck eingeschriebenen Kreises wird mit  $\rho$  und der Halbmesser des der Ecke  $A$  gegenüber liegenden äußeren Berührungskreises mit  $\rho_a$  bezeichnet. Entsprechend sind  $\rho_b$  und  $\rho_c$  zu deuten.

Aufgabe 84. Ein Dreieck zu zeichnen aus

1.  $\alpha$ ,  $w_a$ ,  $\rho$ . 2.  $\alpha$ ,  $h_b$ ,  $\rho$ . 3.  $\alpha$ ,  $w_a$ ,  $\rho_a$ . 4.  $\alpha$ ,  $h_b$ ,  $\rho_a$ .

Aufgabe 85. Ein Dreieck zu zeichnen aus

1.  $b + c - a$ ,  $\rho$ ,  $\beta$  oder  $\gamma$ . 2.  $b + c - a$ ,  $\rho$ ,  $w_a$ .

Aufgabe 86. Ein Dreieck zu zeichnen aus

1.  $a + b + c$ ,  $\rho_a$ ,  $\beta$ . 2.  $a + b + c$ ,  $\rho_a$ ,  $w_a$ .

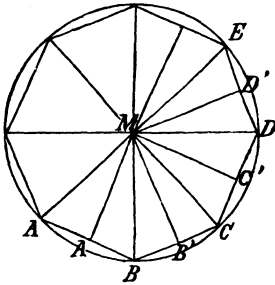
Aufgabe 87. Ein Dreieck zu zeichnen aus der Lage der Fußpunkte seiner Höhen.

## 61. Das regelmäßige Vieleck.

Ist die Anzahl der Ecken eines Vielecks größer als 4, so können aus den Ortsätzen 3 und 4 die Bedingungen für das Vorhanden-

sein eines ein- oder umgeschriebenen Kreises nicht mehr abgeleitet werden. Dagegen wird es möglich sein, die Beschaffenheit eines Vielecks zu ermitteln, das gleichzeitig einen ein- und umgeschriebenen Kreis besitzt, vorausgesetzt, daß deren Mittelpunkte zusammenfallen.

Soll zunächst ein umgeschriebener Kreis vorhanden sein, so muß sein Mittelpunkt  $M$  auf den Mittelloten sämtlicher Seiten liegen. Nun sind die durch  $M$  und die Fußpunkte begrenzten Stücke der Mittellote zugleich die Abstände der Seiten von  $M$ , und demnach kann nur dann dem Vieleck gleichzeitig ein Kreis mit dem Mittelpunkte  $M$  eingeschrieben werden, wenn diese Abstände unter einander gleich sind. Ist dies aber der Fall, so ist nach  $\text{Kz. III}$ :



$$\triangle MBA' \cong \triangle MBB', \triangle MCB' \cong \triangle MCC' \text{ u. f. w.,}$$

und daraus folgt:

$$BA' = BB', CB' = CC' \text{ u. f. w.,}$$

$$\text{d. h. } \frac{1}{2} AB = \frac{1}{2} BC, \frac{1}{2} BC = \frac{1}{2} CD \text{ u. f. w.,}$$

also auch

$$AB = BC, BC = CD \text{ u. f. w.}$$

Weiter ergibt sich aus der Kongruenz der Dreiecke

$$\sphericalangle MBA' = \sphericalangle MBB',$$

$$\sphericalangle MCB' = \sphericalangle MCC' \text{ u. f. w.,}$$

also  $\sphericalangle MBB' = \frac{1}{2} \sphericalangle B, \sphericalangle MCB' = \frac{1}{2} \sphericalangle C \text{ u. f. w.,}$

und da  $\sphericalangle MBB' = \sphericalangle MCB', \sphericalangle MCC' = \sphericalangle MDC' \text{ u. f. w.}$

ist, so folgt  $\sphericalangle B = \sphericalangle C, \sphericalangle C = \sphericalangle D \text{ u. f. w.}$

Wird demnach ein Vieleck als regelmäßig bezeichnet, wenn seine Seiten und Winkel gleichgroß sind, so besteht der

**Satz 116.** Besitzt ein Vieleck einen ein- und umgeschriebenen Kreis mit demselben Mittelpunkte, so ist dasselbe regelmäßig.

Durch Umkehrung erhält man hieraus den

**Satz 117.** Jedes regelmäßige Vieleck besitzt 1. einen umgeschriebenen und 2. einen eingeschriebenen Kreis mit demselben Mittelpunkte.

Entw. des Bew. zu 1. Schneiden sich die Mittellote von  $AB$  und  $BC$  in  $M$  (S. Fig. des Satzes 116), so ist zunächst zu beweisen, daß das Lot  $MC'$  von  $M$  auf  $CD$  mit dem Mittellote von  $CD$  zusammenfällt, d. h. daß  $CC' = \frac{1}{2} CD$  ist. Da aber  $CB' = \frac{1}{2} BC$  und somit auch  $= \frac{1}{2} CD$  ist, so hat man die Gleichheit  $CC' = CB'$  nachzuweisen. Nach Wink 7 hat man zu diesem Zwecke zu zeigen, daß  $\triangle MCC' \cong \triangle MCB'$  ist. Die Kongruenz tritt aber ein, wenn  $\sphericalangle MCC' = \sphericalangle MCB'$  ( $\text{Kz. I}$ ), d. h. wenn  $\sphericalangle MCB' = \frac{1}{2} \sphericalangle C$  ist,

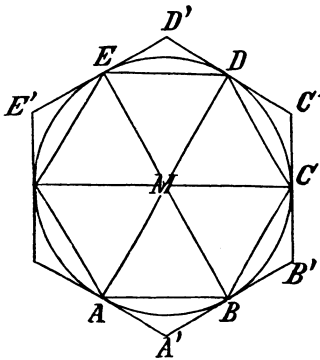


und da einerseits  $\sphericalangle MCB' = \sphericalangle MBB'$  (Lehrsatz IX b) und andererseits  $\sphericalangle C = \sphericalangle B$  (Vor.), so ergibt sich die Gleichheit  $\sphericalangle MCB' = \frac{1}{2} \sphericalangle C$  mittelbar aus der Beziehung des Winkels  $MBB'$  zu  $\sphericalangle B$ , die aus der Kongruenz der Dreiecke  $MBB'$  und  $MBA'$  (Kz. III) auf Grund der Vor. abgeleitet werden kann. Ganz entsprechend ist weiter zu zeigen, daß  $M$  auch auf den Mittelloten von  $DE$ ,  $EF$  u. s. w. liegt.

Entw. des Bew. zu 2. Die Halbierungslinien der Winkel  $B$  und  $C$  schneiden sich in  $M$ ;  $M$  ist daher der gemeinschaftliche Mittelpunkt. Es ist nun wieder zunächst zu zeigen, daß  $MD$  den Winkel  $D$  halbiert, und da  $\sphericalangle D = \sphericalangle C$  ist (Vor.), so hat man die Gleichheit  $\sphericalangle MDC' = \frac{1}{2} \sphericalangle C$ , d. h.  $= \sphericalangle MCB'$  nachzuweisen. Nach Wink 6 ist hierzu der Beweis für die Kongruenz der Dreiecke  $MCD$  und  $MBC$  erforderlich. Zur Anwendung gelangt Kz. II. Entsprechend ist dann weiter zu zeigen, daß  $ME$ ,  $MF$  u. s. w. Winkelhalbierungslinien sind.

**Aufgabe.** Zu einem gegebenen regelmäßigen Vieleck den ein- und umgeschriebenen Kreis zu zeichnen.

Da nach Satz 99 die auf einander folgenden Bogen und somit auch die zugehörigen Mittelpunktswinkel gleich sind, so ist der ganze Winkel  $M$  in  $n$  gleiche Teile geteilt. Kann man umgekehrt den Winkel  $M$  (den Kreis) in  $n$  gleiche Teile zerlegen, so gehören zu denselben gleiche Sehnen mit gleichen Abständen von  $M$ , und demnach besitzt das Vieleck, dessen Seiten die Sehnen sind, auch einen eingeschriebenen Kreis, ist also nach Satz 116 regelmäßig. Zieht man ferner durch die Teilpunkte die Tangenten an den Kreis und bezeichnet die auf einander folgenden Schnittpunkte derselben mit  $A'$ ,  $B'$ ,  $C'$  u. s. w.;



beachtet man weiter, daß die unter einander gleichen Winkel  $A$ ,  $B$ ,  $C$  u. s. w. durch die Berührungsradien halbiert und demnach die sämtlichen Sehnen-Tangentenwinkel gleichgroß sind (Satz 12 u. 105), so sieht man, daß die von den Sehnen und Tangenten gebildeten Dreiecke gleichschenkelig und kongruent sind. Daraus folgt aber einmal die Gleichheit aller Winkel  $A'$ ,  $B'$ ,  $C'$  u. s. w. und dann die Gleichheit der Strecken  $A'B$ ,  $BB'$ ,  $B'C$ ,  $CC'$  u. s. w., d. h. die Gleichheit der Seiten  $A'B'$ ,  $B'C'$ ,

$C'D'$  u. s. w. Das Vieleck ist also regelmäßig. Demnach besteht der

**Satz 118.** Teilt man einen Kreis in  $n$  gleiche Teile, so sind die Teilpunkte die Ecken eines regelmäßigen, dem Kreise eingeschriebenen und die Berührungspunkte eines regelmäßigen umgeschriebenen  $n$ -Ecks.

Die Aufgabe, einen Kreis (den Winkel um seinen Mittelpunkt) in  $n$  gleiche Teile zu zerlegen, ist mit den in den vorhergehenden Abschnitten bekannt gewordenen Mitteln ohne Benutzung des Gradmessers nur ausführbar, wenn  $\frac{360^\circ}{n}$  ein Winkel ist, der aus  $90^\circ$  oder  $60^\circ$  oder aus solchen Winkeln zusammengesetzt werden kann, die durch Halbierungen aus  $90^\circ$  und  $60^\circ$  entstehen. Hiernach kann gezeichnet werden

- a) das regelmäßige 4-Eck (Winkel von  $90^\circ$ ),
- "      "      8-Eck ( " "  $45^\circ$ ),
- "      "     16-Eck ( " "  $22\frac{1}{2}^\circ$ ) u. f. w.,
- b) das regelmäßige 3-Eck (Winkel von  $120^\circ$ ),
- "      "      6-Eck ( " "  $60^\circ$ ; Seite = Halbmesser!),
- "      "     12-Eck ( " "  $30^\circ$ ),
- "      "     24-Eck ( " "  $15^\circ$ ) u. f. w.

Aus dem regelmäßigen  $n$ -Eck leitet man also das regelmäßige  $2n$ -Eck ab, wenn man die Mittelpunktswinkel halbiert und die neuen Teilpunkte auf dem Kreise mit den Endpunkten der zugehörigen Seiten des  $n$ -Ecks verbindet, bez. durch die Teilpunkte Tangenten an den Kreis zieht. In den eingeschriebenen Vielecken bildet dann jede Seite des  $n$ -Ecks mit zwei Seiten des  $2n$ -Ecks ein Dreieck und ist daher kleiner als deren Summe (Satz 35). Daraus folgt:

**Satz 119.** Die Seitensumme eines einem Kreise eingeschriebenen regelmäßigen  $n$ -Ecks nimmt zu, wenn die Seitenzahl verdoppelt wird.

Bei den umgeschriebenen Vielecken dagegen schneidet die neue Seite des  $2n$ -Ecks von zwei Nachbarseiten des  $n$ -Ecks zwei Stücke ab und ist kleiner als deren Summe. Der durch das Fortfallen dieser Stücke entstandene Verlust wird daher durch die Hinzunahme der neuen Seite nicht ausgeglichen, und demnach besteht der

**Satz 120.** Die Seitensumme eines einem Kreise umgeschriebenen regelmäßigen Vielecks nimmt ab, wenn die Seitenzahl verdoppelt wird.

Durch fortgesetzte Verdoppelung der Seitenzahl schmiegen sich aber die beiden Arten von Vielecken immer enger an den Kreis, und da das umgeschriebene eine größere Seitensumme besitzt als das eingeschriebene von gleicher Seitenzahl (Satz 35), so folgt hieraus und aus den Sätzen 119 und 120:

**Satz 121.** Ein Kreis ist stets  $\left. \begin{matrix} \text{größer} \\ \text{kleiner} \end{matrix} \right\}$  als die Seitensumme eines ihm  $\left\{ \begin{matrix} \text{ein-} \\ \text{um-} \end{matrix} \right\}$  eingeschriebenen regelmäßigen Vielecks.

Anmerkung. Der Zusatz „regelmäßigen“ kann wegfallen, ohne daß der Satz aufhört, richtig zu sein.

## 62. Zwei Kreise.

### a) Die Mittelpunktslinie.

Da durch drei Punkte nur ein Kreis gelegt werden kann, so können zwei Kreise nicht mehr als zwei Punkte gemein haben.

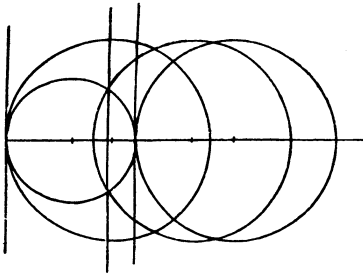
Erklärung: Haben zwei Kreise zwei Punkte gemein, so sagt man, sie schneiden sich in diesen Punkten, und bezeichnet die Verbindungslinie der Schnittpunkte als gemeinschaftliche Sehne. Haben zwei Kreise nur einen Punkt gemein, so sagt man, sie berühren sich in diesem Punkte. Haben aber zwei Kreise keinen Punkt gemein, so liegen sie entweder ganz aus einander oder der größere von ihnen schließt den kleineren ein.

Erklärung: Die Verbindungslinie der Mittelpunkte zweier Kreise heißt Mittelpunktslinie.

Zieht man die Radien zu den Schnittpunkten zweier sich schneidenden Kreise, so entstehen über der gemeinschaftlichen Sehne zwei gleichschenklige Dreiecke, und somit ergibt sich nach Lehrsatz X:

**Satz 122.** Schneiden sich zwei Kreise, so steht ihre Mittelpunktslinie senkrecht auf der gemeinschaftlichen Sehne und halbiert dieselbe.

Entfernt sich der Mittelpunkt des zweiten Kreises von dem des ersten so, daß er auf der ursprünglichen Mittelpunktslinie (bez. deren Verlängerung) bleibt, so nähern sich die beiden Schnittpunkte der Kreise immer mehr, ohne daß der Inhalt des Satzes 122 sich ändert. Es



tritt daher auch keine Veränderung ein, wenn die Schnittpunkte zusammenfallen, d. h. wenn die Kreise sich berühren. Der Mittelpunkt der gemeinschaftlichen Sehne bleibt stets auf der Mittelpunktslinie, und daher liegt auch der Berührungspunkt auf derselben. Die zu der gemeinschaftlichen Sehne gehörige Sekante steht ferner stets senkrecht auf der Mittelpunktslinie, und da sie bei der Berührung in eine gemeinschaftliche Tangente der Kreise übergeht (s. Erstl. der Tangente Nr. 57), so steht auch die gemeinschaftliche Tangente auf der Mittelpunktslinie senkrecht. Dieselben Beziehungen treten ein, wenn der Mittelpunkt des zweiten Kreises in entsprechender Weise sich dem des ersten nähert, bis die Schnittpunkte zusammenfallen. Es besteht also der

**Satz 123.** Berühren sich zwei Kreise, so steht die Mittelpunktslinie in dem Berührungspunkte senkrecht auf der gemeinschaftlichen Tangente.

Zusatz. Die Gerade, welche durch den Mittelpunkt und einen Punkt des Kreises geht, ist der geometr. Ort für die Mittelpunkte aller Kreise, welche den ersten Kreis in dem gewählten Punkte berühren.

Der Vergleich der Mittelpunktslinie  $MM'$  mit den Halbmessern  $r$  und  $r'$  liefert für die fünf von einander verschiedenen Lagen zweier Kreise zu einander teils unmittelbar, teils durch Benutzung des Satzes 35 die folgenden Beziehungen:

- Satz 124.** Wenn zwei Kreise  $M, r$  und  $M', r'$  einander
- a) ausschließen, so ist  $MM' > (r + r')$ ,
  - b) von außen berühren, so ist  $MM' = (r + r')$ ,
  - c) schneiden, so ist  $MM' < (r + r')$ , aber  $> (r' - r)$ ,
  - d) von innen berühren, so ist  $MM' = (r' - r)$ ; wenn aber e) der Kreis  $M, r$  von dem Kreise  $M', r'$  eingeschlossen wird, so ist  $MM' < (r' - r)$ .

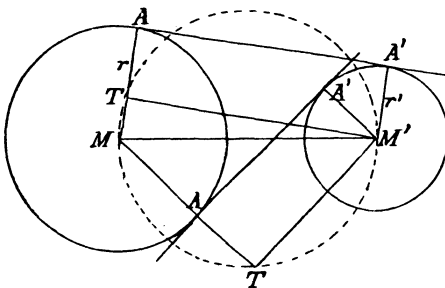
Anmerkung. Es kann jeder Teil dieses Satzes umgekehrt werden. Der Beweis ist aber stets ein indirekter.

Zusatz zu 124b. Der Kreis  $M, r + r'$  ist der geometr. Ort für die Mittelpunkte aller Kreise mit dem Halbmesser  $r'$ , welche den Kreis  $M, r$  von außen berühren.

Zusatz zu 124d. Der Kreis  $M, r - r'$  (Bedingung:  $r' < r$ ) ist der geometr. Ort für die Mittelpunkte aller Kreise mit dem Halbmesser  $r'$ , welche den Kreis  $M, r$  von innen berühren.

b) Die gemeinschaftlichen Tangenten.

Besitzen zwei Kreise  $M, r$  und  $M', r'$  ( $r > r'$ ) eine gemeinschaftliche Tangente  $AA'$ , so sind die Berührungsradien  $MA$  und  $M'A'$



parallel, weil sie beide senkrecht auf  $AA'$  stehen. Zieht man daher durch  $M'$  die Parallele zu  $AA'$ , welche  $MA$  in  $T$  trifft, so ist das Viereck  $AA'M'T$  ein Rechteck. Daraus folgt:

- 1)  $\sphericalangle MTM' = R$  und
- 2)  $MT = MA \mp M'A' = r \mp r'$ , je nachdem  $AA'$  eine äußere oder eine innere

Tangente ist (je nachdem  $A$  und  $A'$  auf derselben oder auf verschiedenen Seiten der Mittelpunktslinie liegen). Zu jeder gemeinschaftlichen Tangente gehört daher ein Punkt  $T$ , der einmal auf dem Kreise liegt, dessen Durchmesser die Mittelpunktslinie ist, und dann dem Kreise an-

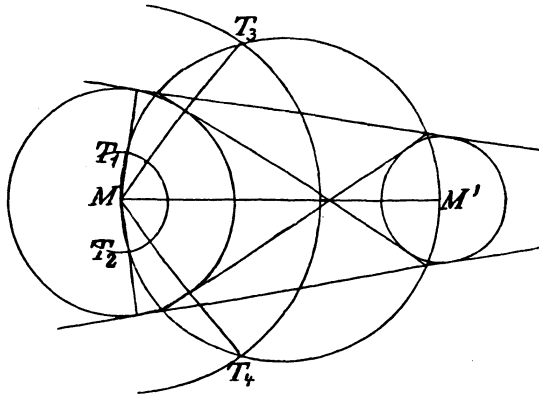
gehört, der um  $M$  mit dem Halbmesser  $r - r'$  oder  $r + r'$  beschrieben wird. Demnach ist eine gemeinschaftliche  $\left. \begin{array}{l} \text{äußere} \\ \text{innere} \end{array} \right\}$  Tangente nur dann möglich, wenn die beiden Kreise so liegen, daß der Kreis mit dem Durchmesser  $MM'$  von dem Kreise  $\left\{ \begin{array}{l} M, r - r' \\ M, r + r' \end{array} \right\}$  geschnitten werden kann, d. h. wenn die Mittelpunktslinie nicht kleiner als die  $\left. \begin{array}{l} \text{Differenz} \\ \text{Summe} \end{array} \right\}$  der Halbmesser ist, wenn also der größere Kreis den kleineren nicht vollständig einschließt. } Hieraus und aus Satz 124 folgt:

**Satz 125.** Zwei Kreise besitzen gemeinschaftlich

- a) 2 äußere und 2 innere Tangenten, wenn sie aus einander liegen;
- b) 2 äußere und 1 " " , wenn sie sich von außen berühren;
- c) 2 äußere und 0 " " , wenn sie sich schneiden;
- d) 1 " und 0 " " , wenn sie sich von innen berühren;
- e) keine Tangente, wenn einer von ihnen den anderen einschließt.

Aufgabe 88. An zwei ganz aus einander liegende Kreise die 4 gemeinschaftlichen Tangenten zu ziehen.

Auflösung. Der Punkt  $T$  (s. Ableitung des Satzes 125) liegt stets auf dem Kreise mit dem Durchmesser  $MM'$  und entweder auf dem Kreise



$M, r - r'$  oder auf dem Kreise  $M, r + r'$ . Durch  $T$  und  $MT$  sind aber die Berührungspunkte bestimmt. Man zeichnet also den Kreis mit dem Durchmesser  $MM'$  und um  $M$  einen weiteren Kreis 1) mit dem Halbmesser  $r - r'$ , der den ersten in  $T_1$  und  $T_2$  schneidet, und 2) mit dem Halbmesser  $r + r'$  zur Bestimmung der Punkte  $T_3$  und  $T_4$ . Verbindet man dann  $M$  mit den vier Punkten und zieht durch  $M'$  die Parallelen zu den Verbindungslinien, so er-

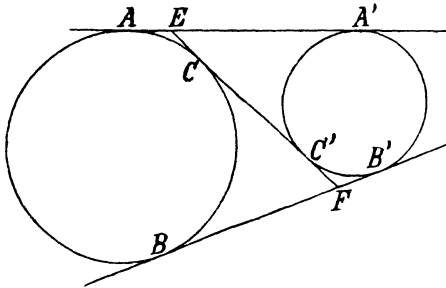
hält man in je zwei durch einen der vier Punkte  $T$  bestimmten Punkten der beiden Kreise die Berührungspunkte einer Tangente.

**63. Übungsbeispiele und Aufgaben.**

a) Sätze über gemeinschaftliche Tangenten.

**Satz 126.** Die gemeinschaftlichen äußeren, sowie die gemeinschaftlichen inneren Tangenten zweier Kreise sind gleichgroß. (Satz 107!)

**Zusatz 1.** Die Strecken, welche die äußeren Tangenten auf den inneren begrenzen, sind gleich den (Strecken zwischen den Berührungspunkten der) äußeren Tangenten.



Entw. des Bem. Sind  $E$  und  $F$  die Schnittpunkte der inneren Tangente  $CC'$  mit  $AA'$  und  $BB'$ , so soll bewiesen werden, daß  $EF = AA'$  ist. Da nach Wink 7 nicht verfahren werden kann, so muß der Satz 107 benutzt werden, auf dessen Anwendung die Eigenschaft der Geraden  $CC'$  hinweist. Nach diesem

Sätze bestehen aber für die Abschnitte  $EC$  und  $FC$  der Strecke  $EF$  die Beziehungen

$$EC = AE = AA' - EA' = AA' - (EC + CC'),$$

$$FC = FB' = BB' - FB = BB' - (CC' + C'F),$$

und demnach ist

$$EC + CC' + C'F = AA' - (EC + CC') + CC' + BB' - (CC' + C'F),$$

$$= AA' + BB' - (EC + CC' + C'F),$$

also  $EF = AA' + BB' - EF.$

Hieraus aber ergibt sich die Richtigkeit der Behauptung nach Satz 126.

**Zusatz 2.** Die Strecken, welche die inneren Tangenten auf den äußeren begrenzen, sind gleich den inneren Tangenten.

Der Beweis wird ebenso geführt wie bei Zusatz 1.

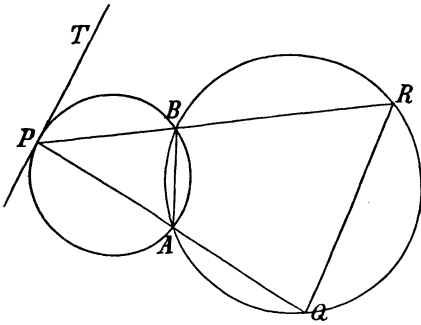
**Zusatz 3.** Die 8 Tangenten, welche von den Schnittpunkten der äußeren mit den inneren Tangenten an die beiden Kreise gehen, sind alle gleichgroß.

Eine Folgerung aus den beiden ersten Zusätzen.

b) Sätze über Doppelsehnen.

**Erklärung.** Zieht man durch einen der Schnittpunkte zweier Kreise eine gemeinschaftliche Sekante, so bilden die beiden zugehörigen Sehnen zusammen eine Doppelsehne.

**Satz 127.** Schneiden sich zwei Doppelsehnen auf einem der Kreise, so ist die Verbindungslinie ihrer Endpunkte parallel zu der in dem Schnittpunkte an den Kreis gelegten Tangente.



Entw. des Bew. Sind  $PQ$  und  $PR$  die Doppelsehnen und  $PT$  die Tangente in  $P$ , so hat man nach Winkel 2 zu beweisen, daß die Winkel  $TPR$  und  $PRQ$  einander gleich sind. Nun ist  $\sphericalangle TPR$  ( $TPB$ ) Sehnen-Tangentenwinkel, also gleich  $\sphericalangle PAB$ , und demnach hat man zu zeigen, daß  $\sphericalangle PAB = \sphericalangle PRQ$  ist. Die Lage der Winkel weist auf die Anwendung des Zuesatzes zu Satz 112 hin.

**Satz 128.** Wird durch jeden der beiden Schnittpunkte eine Doppelsehne gezogen, so sind die Verbindungslinien der Endpunkte der Doppelsehnen parallel.

Da zwei Sehnenvierecke vorhanden sind, so läßt sich mit Benutzung des Satzes 112 nachweisen, daß die Erg. W. supplementär sind.

**Satz 129.** Schneiden sich zwei Kreise mit gleichen Halbmessern, so sind die Endpunkte jeder Doppelsehne gleichweit entfernt von dem Schnittpunkte, durch den sie nicht geht.

**Satz 130.** Die Radien, welche nach den Endpunkten einer Doppelsehne bei zwei sich berührenden Kreisen führen, sind parallel.

**Satz 131.** Bei zwei sich berührenden Kreisen geht die Verbindungslinie der Endpunkte paralleler Radien von entgegengesetzter Richtung durch den Berührungspunkt.

Diese Umkehrung des Satzes 130 kann nur indirekt bewiesen werden.

### c) Aufgaben.

**Aufgabe 89.** Einen Kreis zu zeichnen, der einen gegebenen Kreis in einem gegebenen Punkte berührt und durch einen gegebenen Punkt 1) außerhalb, 2) innerhalb des Kreises geht.

Anmerkung. Die Lösung ist unmöglich, wenn der zweite Punkt auf der Tangente liegt, die in dem ersten Punkte an den Kreis gezeichnet wird.

**Aufgabe 90.** Einen Kreis mit einem gegebenen Halbmesser zu zeichnen, der einen gegebenen Kreis berührt und durch einen gegebenen Punkt außerhalb des Kreises geht.

Zwei Lösungen. Ist der Halbmesser kleiner als der Halbmesser des gegebenen Kreises, so kann der Punkt auch innerhalb des Kreises angenommen werden.

Aufgabe 91. Einen Kreis zu zeichnen, der einen gegebenen Halbmesser besitzt und zwei gegebene Kreise berührt.

Anmerkung. Die Größe des Halbmessers darf nicht beliebig angenommen werden. Wann ist die Lösung unmöglich?

Aufgabe 92. Einen Kreis mit gegebenem Halbmesser zu zeichnen, der einen gegebenen Kreis und eine gegebene Gerade berührt. Wann ist hier die Lösung unmöglich?

Aufgabe 93. Einen Punkt zu zeichnen, durch den an zwei gegebene Kreise Tangenten von der Länge  $l$  gezogen werden können.

Siehe Aufgabe 82 a. Die Länge  $l$  muß so gewählt werden, daß die beiden geometrischen Örter für den Punkt sich schneiden. Zwei Lösungen. Berühren sich diese Örter, so ist nur eine Lösung vorhanden.

Aufgabe 94. Einen Punkt zu zeichnen, dessen Tangenten an zwei gegebene Kreise zwei Winkel von der Größe  $\varphi$  einschließen.

S. Aufgabe 83 a. Wird  $\varphi$  so gewählt, daß die beiden geometr. Örter

a) sich schneiden, so sind 2 Lösungen vorhanden,

b) sich berühren, so ist 1 Lösung vorhanden,

c) sich weder schneiden noch berühren, so ist keine Lösung möglich.

Aufgabe 95. Bei zwei sich schneidenden Kreisen eine Doppelsehne von der Länge  $l$  zu ziehen.

Auflösung. Zeichnet man bei irgend einer Doppelsehne die beiden Abstände von den Mittelpunkten, so ist das Stück zwischen den beiden Fußpunkten der Lote halb so groß wie die Doppelsehne. Die Parallele durch einen der Mittelpunkte zu der Doppelsehne schneidet das zweite Lot rechtwinklig. Daraus ergibt sich, daß die halbe Doppelsehne als Kathete einem rechtwinkl. Dreieck angehört, dessen Hypotenuse die Mittelpunktslinie ist. Zugleich folgt hieraus, daß  $l$  kleiner als das Doppelte der Mittelpunktslinie sein muß.

Aufgabe 96. Ein Dreieck zu zeichnen aus

1)  $\alpha$ ,  $h_a$ ,  $\rho$ . 2)  $\alpha$ ,  $h_a$ ,  $\rho_a$ . 3)  $a + b + c$ ,  $\rho$ ,  $\rho_a$ .

4)  $a + b + c$ ,  $\rho_a$ ,  $\rho_b$ . 5)  $b + c + a$ ,  $\rho$ ,  $\rho_a$ . 6)  $b + c + a$ ,  $\rho$ ,  $\rho_b$ .

In jedem der 6 Fälle wird die Herstellung einer gemeinschaftlichen Tangente an zwei Kreise erforderlich. Aufgabe 88.



## IV. Abschnitt. Inhaltslehre.

### 15. Kapitel.

#### Der Inhalt der Figuren.

##### **64. Begriff des Inhalts. Inhaltsmessung.**

Erklärung. Der Teil der Ebene innerhalb einer geschlossenen Figur wird Flächeninhalt oder kurz Inhalt der Figur genannt.

Erklärung. Zwei geschlossene Figuren heißen flächengleich oder kurz gleich ( $\equiv$ ), wenn ihre Inhalte gleichgroß sind.

Da die Inhalte kongruenter Figuren stets gleichgroß sind, so ergibt sich:

Folgerung 1. Sind zwei Figuren kongruent, so sind sie gleich.

Gleich sind also a) alle kongruenten Dreiecke,

b) alle kongruenten Parallelogramme, insbesondere alle Quadrate mit gleichen Seiten,

c) die Flächen aller Kreise mit gleichen Halbmessern,

d) alle regelmäßigen Vielecke mit gleichen Seiten und derselben Seitenzahl.

Folgerung 2. Zwei Figuren sind gleich, ohne kongruent zu sein, wenn sie durch Addition oder Subtraktion aus kongruenten (gleichen) Flächenstücken zusammengesetzt werden können (§. IV), insbesondere wenn sie dasselbe Vielfache kongruenter (gleicher) Flächenstücke sind.

**Satz 10.** Um die Gleichheit zweier nicht-kongruenter Figuren nachzuweisen, kann man zu zeigen suchen, daß sie die Summen oder Differenzen aus kongruenten (gleichen) Stücken sind.

Folgerung 3. Zwei Figuren, die weder kongruent sind noch aus kongruenten Stücken durch Addition oder Subtraktion entstehen, können stets mit einander verglichen werden, wenn jede von ihnen sich in eine Anzahl kongruenter (gleicher) Stücke zerlegen läßt und diese Teile der beiden Figuren gleich sind. Es ist dann diejenige Figur

die größere, welche die größere Anzahl der unter einander gleichen Teile enthält.

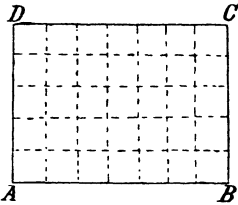
Erklärung. Wird die Größe der unter einander kongruenten Teile, in welche eine Figur zerlegbar ist, als Einheit angenommen, so sagt man,  $n$  sei die Maßzahl für den Inhalt oder kurz der Inhalt der Figur, wenn die Einheit  $n$ -mal in derselben enthalten ist.

Erklärung. Als Flächeneinheit dient die Größe des Quadrats, dessen Seite die Längeneinheit ist. Ist diese z. B. das Meter (m), so ist das Quadratmeter ( $\square$  m) die Flächeneinheit.

Anmerkung. Bei der Inhaltsmessung wird vorausgesetzt, daß die in der Figur auftretenden Linien durch die Längeneinheit in Zahlen ausdrückbar sind. Bei der Berechnung treten diese Maßzahlen an die Stelle der Linien. Wird daher von dem Produkte zweier Linien gesprochen, so versteht man darunter das Produkt der Maßzahlen dieser Linien.

### 65. Der Inhalt des Rechtecks und Quadrats.

Die Seiten eines Rechtecks mögen die Maßzahlen  $a$  und  $b$  besitzen. Sind  $a$  und  $b$  ganze Zahlen, kann also  $AB$  in  $a$  und  $AD$  in  $b$  der Längeneinheit gleiche Teile zerlegt werden, und zieht man zunächst durch die Teilpunkte von  $AB$  die Parallelen zu  $AD$ , so wird dadurch das Rechteck in  $a$  kongruente Streifen geteilt; zieht man dann auch durch die Teilpunkte von  $AD$  die Parallelen zu  $AB$ , so wird jeder dieser Streifen in  $b$ , das ganze Rechteck also in  $a \cdot b$  kongruente Stücke zerlegt, von denen jedes gleich der Flächeneinheit ist.



Sind dagegen  $a$  und  $b$  gebrochene\*) Zahlen und  $a = \frac{m}{n}$ ,  $b = \frac{m'}{n}$ , so daß  $AB$  in  $m$  und  $AD$  in  $m'$  dem  $n$ ten Teile der Längeneinheit gleiche Stücke zerlegt werden kann, und zieht man wiederum durch die Teilpunkte die Parallelen zu den Seiten des Rechtecks, so entstehen  $m \cdot m'$  Quadrate, deren Seiten gleich dem  $n$ ten Teile der Längeneinheit sind. Jedes dieser Quadrate ist in der Flächeneinheit  $n \cdot n$ -mal enthalten, also gleich  $\frac{1}{n \cdot n}$  derselben, und demnach ist der Inhalt des

Rechtecks gleich  $\frac{m \cdot m'}{n \cdot n} = \frac{m}{n} \cdot \frac{m'}{n} = a \cdot b$  Flächeneinheiten. Daraus folgt:

Die Maßzahl für den Inhalt eines Rechtecks ist das Produkt aus den Maßzahlen zweier anstoßenden Seiten, oder kurz:

\*) Der Fall, daß  $AB$  und  $AD$  inkommensurabel sind, bleibt an dieser Stelle besser noch unbeachtet.

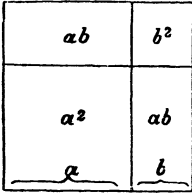
**Lehrsatz XIV.** Der Inhalt eines Rechtecks ist gleich dem Produkte aus zwei anstoßenden Seiten.

Folgerung 1. Der Inhalt eines Quadrats über der Seite  $AB$  ist gleich  $AB \cdot AB$  oder  $AB^2$ .

Die zweiten Potenzen der Zahlen werden daher als Quadratzahlen bezeichnet.

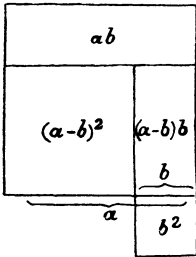
Folgerung 2. Das Produkt zweier Strecken wird durch das Rechteck dargestellt, dessen anstoßende Seiten die Länge dieser Strecken besitzen.

Zwei Rechtecke mit gleichen Grundlinien können durch Addition (Subtraktion) mit einander verbunden werden, indem man sie so an- (auf-) einander legt, daß sie die Grundlinie gemeinschaftlich haben. Die Summe (Differenz) der anstoßenden Seiten ist dann die anstoßende Seite für die Summe (Differenz) der Rechtecke. Man erhält auf diese Weise den geometrischen Beweis der Gleichheit  $ab \pm ac = a(b \pm c)$ .



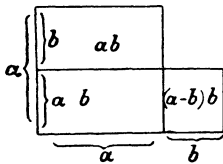
Wird über der Summe  $a + b$  zweier Strecken  $a$  und  $b$  das Quadrat errichtet und werden durch die Endpunkte der von einer Ecke aus auf den Seiten abgemessenen Strecken von der Größe  $a$  die Parallelen zu den Seiten gezogen, so zerfällt das ganze Quadrat in die 4 Stücke  $a^2$ ,  $ab$ ,  $ab$  und  $b^2$ . Die Anschauung bestätigt daher den arithmetischen Satz:  $(a + b)^2 = a^2 + 2ab + b^2$ .

Ist  $a^2$  das Quadrat über der Differenz  $a - b$  zweier Strecken  $a$  und  $b$  und werden



durch die Endpunkte der von einer Ecke aus auf den Seiten abgemessenen Strecken von der Größe  $a$  die Parallelen zu den Seiten gezogen, so lehrt die Anschauung, daß  $a^2$  die Differenz aus  $a^2$  und einem Sechseck ist, das durch Verlängerung einer Seite von  $a^2$  in die beiden Teile  $a \cdot b$  und  $(a - b) \cdot b$  zerlegt werden kann. Addiert man zu dem letzteren  $b^2$ , so zeigt sich, daß  $a^2$  entsteht, wenn man  $b^2$  zu  $a^2$  hinzufügt und von der Summe 2 mal das Rechteck  $ab$  wegnimmt. In der Figur wird demnach der arithmetische Satz dargestellt:  $(a - b)^2 = a^2 + b^2 - 2ab$ .

Wird aus der Summe  $s = a + b$  und der Differenz  $d = a - b$  zweier Strecken  $a$  und  $b$  das Rechteck gebildet und werden durch die



Endpunkte der von einer Ecke aus auf den Seiten abgemessenen Strecken von der Länge  $a$  die Parallelen zu den Seiten gezogen, so zeigt die Figur, daß  $s \cdot d$  entsteht, wenn man von  $a^2$  das Rechteck  $ab$  wegnimmt und zu der Differenz das Rechteck  $(a - b) \cdot b$  hinzufügt. Das letztere ist aber um  $b^2$  kleiner als das erste, und daher ist  $s \cdot d = a^2 - b^2$ . Die Figur stellt also den arithmetischen Satz  $(a + b)(a - b) = a^2 - b^2$  dar und leitet zu

**Satz 132.** Die Differenz zweier Quadrate ist gleich einem Rechteck, dessen Seiten gleich der Summe, bez. der Differenz aus den Seiten der Quadrate sind.

**Satz 133.** Jedes Rechteck ist gleich der Differenz zweier Quadrate, deren Seiten gleich der halben Summe, bez. Differenz der Rechtecksseiten sind.

Denn sind  $x$  und  $y$  die Seiten der Quadrate und  $a$  und  $b$  die Seiten des Rechtecks, so ist nach Satz 132  $x + y = a$  und  $x - y = b$ , also  $x = \frac{a + b}{2}$  und  $y = \frac{a - b}{2}$ .

In entsprechender Weise kann die Richtigkeit der Gleichheiten zur Anschauung gebracht werden:

$$\begin{aligned} (a + b)(c + d) &= ac + bc + ad + bd. \\ (a + b)(c - d) &= ac + bc - ad - bd. \\ (a - b)(c - d) &= ac - bc - ad + bd. \\ (a + b)^2 + (a - b)^2 &= 2(a^2 + b^2). \\ (a + b)^2 - (a - b)^2 &= 4ab. \\ (a + b + c)^2 &= a^2 + b^2 + c^2 + 2ab + 2ac + 2bc. \end{aligned}$$

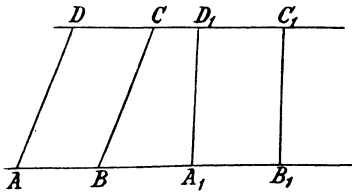
**66. Vergleichung nicht-kongruenter Parallelogramme, Dreiecke und Trapeze. Bestimmung des Inhalts dieser Figuren.**

Wiederhole die Erklärungen über Grundlinie und Höhe in Nr. 51 und 53!

Liegen die Grundlinien zweier Parallelogramme, Trapeze oder Dreiecke mit gleichen Höhen auf einer Geraden und die Figuren auf derselben Seite dieser Geraden, so liegen die Gegenseiten, bez. die gegenüber liegenden Ecken auf der im Abstände der Höhe zu der Geraden gezogenen Parallelen (Ort 2). Durch Benutzung dieser Tatsache kann man Parallelogramme, Dreiecke und Trapeze mit gleichen Höhen mit einander vergleichen.

a) Der Inhalt des Parallelogramms.

**Satz XV.** Parallelogramme mit gleichen Höhen und gleichen Grundlinien sind gleich.



Entw. des Bew. Da die Parallelogramme nicht kongruent sind, so ist nach Wink 10 zu verfahren. Legt man aber, wozu die vorausgesetzte Gleichheit der Höhen aufordert, die Parallelogramme zwischen dieselben Parallelen, so zeigt die Figur, daß

$A_1B_1C_1D_1$  die Differenz aus  $BB_1C_1C$  und  $BA_1D_1C$  und  
 $ABCD$  " " "  $AA_1D_1D$  " "

ist; demnach muß man die Kongruenz der beiden Trapeze  $BB_1C_1C$  und  $AA_1D_1D$  nachzuweisen suchen. Nach Lehrf. IV ist aber in denselben  $\sphericalangle B = \sphericalangle A$ ,  $\sphericalangle B_1 = \sphericalangle A_1$ ,  $\sphericalangle C_1 = \sphericalangle D_1$  und  $\sphericalangle C = \sphericalangle D$ ; ferner ist stets  $BC = AD$  und  $B_1C_1 = A_1D_1$  (Satz 71c), und daher sind noch die beiden Gleichheiten  $BB_1 = AA_1$  und  $CC_1 = DD_1$  aus der Vor.  $A_1B_1 = AB$  abzuleiten. Zur Anwendung gelangen Satz 71c und G. IV.

Der Inhalt eines Parallelogramms ist daher gleich dem Inhalt eines Rechtecks, das mit ihm gleiche Grundlinie und Höhe hat; demnach folgt aus den Lehrsätzen XV und XIV:

**Satz 134.** Der Inhalt eines Parallelogramms ist gleich dem Produkte aus seiner Grundlinie und Höhe.

**Aufgabe.** Den Inhalt eines Parallelogramms darzustellen.

**Zusatz 1.** Von zwei Parallelogrammen mit gleichen  $\left. \begin{array}{l} \text{Höhen} \\ \text{Grundlinien} \end{array} \right\}$  ist dasjenige das größere, welches die größere  $\left. \begin{array}{l} \text{Grundlinie} \\ \text{Höhe} \end{array} \right\}$  besitzt.

**Zusatz 2.** Gleiche Parallelogramme mit gleichen  $\left. \begin{array}{l} \text{Höhen} \\ \text{Grundlinien} \end{array} \right\}$  haben gleiche  $\left. \begin{array}{l} \text{Grundlinien} \\ \text{Höhen} \end{array} \right\}$ .

Der Beweis folgt aus dem arithmetischen Satze: Ist  $ax = ay$ , so ist  $x = y$ . Der geometrische Beweis des Zusatzes ist ein indirekter.

**Zusatz 3.** Zerlegt man eine Parallelogrammseite in  $n$  gleiche Teile und zieht durch die Teilpunkte die Parallelen zu den anstoßenden Seiten, so teilen dieselben das Parallelogramm in  $n$  gleiche Teile.

#### b) Der Inhalt des Dreiecks.

Ein Dreieck  $ABC$  erweist sich als die Hälfte eines Parallelogramms, wenn man durch die Ecken  $A$  und  $C$  die Parallelen zu  $BC$  und  $AB$  zieht; (Satz 71b) es besitzt mit dem Parallelogramm eine Seite und die dazu gehörige Höhe gemeinschaftlich. Da aber das Parallelogramm jedem anderen Parallelogramm gleich ist, das mit ihm gleiche Grundlinie und Höhe hat, so folgt:

**Satz 135.** Ein Dreieck ist die Hälfte eines Parallelogramms, das mit ihm gleiche Grundlinie und Höhe hat.

Hieraus ergibt sich nach G. III:

**Satz 136.** Dreiecke mit gleichen Grundlinien und Höhen sind gleich.

und mit Benutzung des Satzes 134:

**Satz 137.** Der Inhalt eines Dreiecks ist gleich dem halben Produkte aus seiner Grundlinie und Höhe.

Aufgabe. Den Inhalt eines Dreiecks darzustellen.

Zusatz 1. Von zwei Dreiecken mit gleichen  $\left. \begin{array}{l} \text{Höhen} \\ \text{Grundlinien} \end{array} \right\}$  ist dasjenige das größere, welches die größere  $\left. \begin{array}{l} \text{Grundlinie} \\ \text{Höhe} \end{array} \right\}$  besitzt.

Zusatz 2. Gleiche Dreiecke mit gleichen  $\left. \begin{array}{l} \text{Höhen} \\ \text{Grundlinien} \end{array} \right\}$  haben gleiche  $\left. \begin{array}{l} \text{Höhen} \\ \text{Höhen.} \end{array} \right\}$ .

Folgerung. Der geometrische Ort für die Spitzen aller gleichen Dreiecke über derselben Grundlinie ist die im Abstände der Höhe zu der Grundlinie gezogene Parallele.

Zusatz 3. Zerlegt man eine Dreiecksseite in  $n$  gleiche Teile und verbindet die Teilpunkte mit der gegenüber liegenden Ecke, so teilen die Verbindungslinien das Dreieck in  $n$  gleiche Teile.

### c) Der Inhalt des Trapezes.

Zieht man bei einem Trapez durch die Mitte eines Schenkels die Parallele zu dem anderen Schenkel, so schneidet dieselbe von dem Trapez ein Dreieck ab und fügt dem Reste ein neues, dem ersten gleiches (Nz. I) Dreieck hinzu. Das Trapez ist also gleich einem Parallelogramm mit derselben Höhe, dessen Grundlinie gleich der Mittellinie des Trapezes ist. Die Benutzung des Lehrs. XV führt daher zu

**Satz 138.** Ein Trapez ist gleich einem Parallelogramm mit gleicher Höhe, dessen Grundlinie gleich seiner Mittellinie ist.

Hieraus ergibt sich nach Satz 134:

**Satz 139.** Der Inhalt eines Trapezes ist gleich dem Produkte aus seiner Mittellinie und Höhe.

Aufgabe. Den Inhalt eines Trapezes darzustellen.

Zusatz. Jedes Trapez wird durch die Verbindungslinie seiner Grundlinienmitten halbiert.

Der Satz kann in folgender Weise auch aus Satz 137 hergeleitet werden: Sind  $a$  und  $b$  die Grundlinien und  $h$  die Höhe des Trapezes, so zerlegt jede Diagonale dasselbe in zwei Dreiecke mit der Höhe  $h$  und den Grundlinien  $a$  und  $b$ . Der Inhalt des Trapezes ist daher nach Satz 137 gleich  $\frac{a \cdot h}{2} + \frac{b \cdot h}{2}$  oder  $\frac{1}{2} (a + b) \cdot h$ .

Mit Benutzung des Satzes 137 kann ferner bewiesen werden:

**Satz 140.** Der Inhalt eines Tangentenvierecks ist gleich dem Produkte aus seinem halben Umfange und dem Halbmesser des eingeschriebenen Kreises.

und da der Kreis als ein regelmäßiges Vieleck mit unbegrenzt-großer Seitenzahl (Satz 121) angesehen werden kann, so ergibt sich weiter

**Satz 141.** Der Inhalt eines Kreises ist gleich dem halben Produkte aus seiner Länge und dem Halbmesser.

### 67. Vergleichung von Parallelogrammen, die weder gleiche Grundlinien noch gleiche Höhen besitzen.

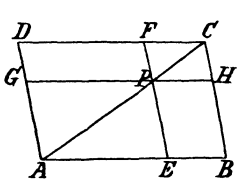
Zwei Parallelogramme können gleich sein, ohne gleiche Grundlinien und Höhen zu haben.

a) Erster Fall. Satz über Ergänzungsparallelogramme.

**Satz 142.** Zieht man in einem Parallelogramm durch einen beliebigen Punkt einer Diagonale die Parallelen zu den Seiten, so entstehen vier Parallelogramme, von denen die beiden gleich sind, welche nicht von der Diagonale durchschnitten werden. (Ergänzungsparallelogramme.)

**Vor.** In dem Parallelogramm  $ABCD$  sei  $P$  ein Punkt der Diagonale  $AC$  und  $PE \parallel AD$ ,  $PG \parallel AB$ .

**Beh.** Es ist  $EBHP = GPFD$ .



**Entw. des Bew.** Die Figur weist darauf hin, daß nach Wink 10 verfahren wird, weil

$$EBHP = \triangle ABC - \triangle AEP - \triangle PHC,$$

$$GPFD = \triangle ADC - \triangle AGP - \triangle PFC$$

ist; es gelangt daher nach Benutzung des Satzes 71b der G. IV zur Anwendung.

Durch Umkehrung dieses Satzes erhält man

**Satz 143.** Werden zwei gleiche Parallelogramme mit gleichen Winkeln so an einander gelegt, daß zwei gleiche Winkel zu Scheitelwinkeln werden, so liegt die gemeinschaftliche Ecke auf einer Diagonale des Parallelogramms, das von den Schenkeln der gegenüber liegenden Winkel gebildet wird.

**Beweis** indirekt.

**Anmerkung.** Hiernach läßt sich durch die Zeichnung leicht feststellen, ob zwei Parallelogramme gleich sind.

b) Zweiter Fall. Projektionensatz.

**Erklärung.** Die Lote von den Endpunkten einer Strecke auf eine Gerade begrenzen einen Teil derselben, welcher Projektion der Strecke auf die Gerade genannt wird.

**Zusatz 1.** Liegt ein Endpunkt der Strecke auf der Geraden,

so wird die Strecke durch das Lot von ihrem zweiten Endpunkte auf die Gerade projiziert.

Zusatz 2. Werden die begrenzten Schenkel eines Winkels auf einander projiziert, so liegen die Endpunkte der Projektionen auf den Schenkeln des Winkels, wenn er spitz ist; sie liegen dagegen auf den Schenkeln seines Scheitelwinkels, wenn er stumpf ist. Im ersten Falle nennt man die Projektionen positiv und im zweiten Falle negativ.

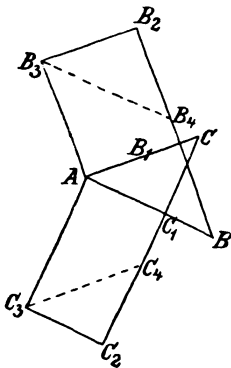
**Satz 144.** Projiziert man die beliebig begrenzten Schenkel eines Winkels auf einander und bildet aus je einem Schenkel und der Projektion des anderen auf denselben ein Rechteck, so entstehen zwei gleiche Rechtecke. (Projektionensatz.)

Zeichnung. Die begrenzten Schenkel des Winkels  $A$  seien  $AB$  und  $AC$ . Man zeichnet  $CC_1 \perp AB$ , verlängert  $CC_1$  um das Stück  $C_1C_2$  von der Größe  $AB$  und vervollständigt das Rechteck  $AC_1C_2C_3$  ( $AB \cdot AC_1$ ). In entsprechender Weise stellt man das Rechteck  $AB_1B_2B_3$  ( $AC \cdot AB_1$ ) her. Es lautet dann die

Vor. Es sei  $CC_1 \perp AB$  und  $AC_3 = AB$ ,  $BB_1 \perp AC$  und  $AB_3 = AC$ .

Beh. Es ist  $AB \cdot AC_1$  ( $BC_1C_2C_3$ ) =  $AC \cdot AB_1$  ( $AB_1B_2B_3$ ).

Entw. des Bew. Da die beiden Rechtecke, wenn  $AB$  und  $AC$  verschieden sind, weder gleiche Grundlinien noch gleiche Höhen haben, so können sie nicht nach Behr. XV mit einander verglichen werden; auch zur Anwendung des Satzes 143 fehlt die Möglichkeit. Das Verfahren nach Wink 10 führt gleichfalls nicht zum Ziele, und demnach ist ein unmittelbarer Vergleich der beiden Rechtecke ausgeschlossen. Gestaltet man jedoch dieselben in Parallelogramme um, in denen auch der zweite Schenkel des Winkels  $A$  als Seite vor-



kommt, indem man  $C_3C_4$  parallel zu  $AC$ , bez.  $B_3B_4$  parallel zu  $AB$  zieht, so gelangt man zu einem mittelbaren Vergleiche, wenn es gelingt, aus der Vor. eine Größenbeziehung zwischen den Parallelogrammen  $ACC_4C_3$  und  $ABB_4B_3$  abzuleiten. Beachtet man aber, daß

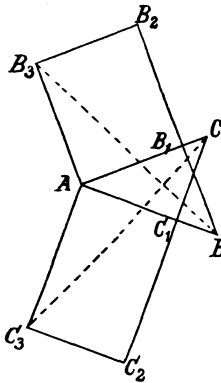
$$\sphericalangle C_3AC = R + \sphericalangle BAC, \text{ wenn } \sphericalangle BAC < R, \\ \text{und} = R + (2R - \sphericalangle BAC) \text{ wenn } \sphericalangle BAC > R,$$

$$\sphericalangle C_3AC = R + \sphericalangle BAC, \text{ wenn } \sphericalangle BAC < R, \\ \text{und} = R + (2R - \sphericalangle BAC), \text{ wenn } \sphericalangle BAC > R,$$

ist, so kann die Kongruenz dieser Parallelogramme leicht bewiesen werden. Die Gleichheit der Rechtecke folgt dann nach G. III.

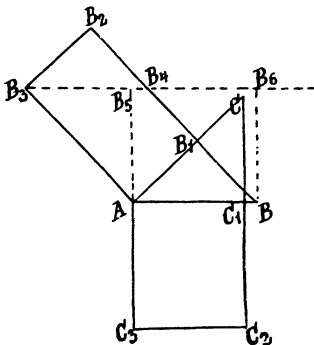


2. Zu einem zweiten Beweise gelangt man, wenn man die Hälften der beiden Rechtecke mit einander vergleicht und wieder solche Dreiecke wählt, in denen auch der zweite Schenkel des Winkels  $A$  als Seite vorkommt. Zieht man aber hierzu  $CC_3$  und  $BB_3$ , so daß  $\triangle ACC_3 = \frac{1}{2} AC_1 C_2 C_3$  und  $\triangle ABB_3 = \frac{1}{2} AB_1 B_2 B_3$  ist, so sind die Dreiecke  $ACC_3$  und  $ABB_3$  auf Grund der Vor. nach  $\text{Kz. II}$  kongruent.



3. Ein dritter Beweis dieses wichtigen Satzes ergibt sich durch die folgende Überlegung: Soll das Rechteck  $AB_1 B_2 B_3$  gleich dem aus  $AB$  und  $AC_1$  gebildeten Rechteck  $AC_1 C_2 C_3$  sein, so muß man  $AB_1 B_2 B_3$  durch ein Rechteck mit der Seite  $AB$  ersetzen können, dessen zweite Seite gleich  $AC_1$  ist. Die erste Bedingung erfüllt das

Rechteck  $ABB_5 B_6$ , dessen Seiten  $AB_5$  und  $BB_6$  auf der Parallelen  $B_3 B_4$  zu  $AB$  senkrecht stehen, weil nach Lehrf. XV  $AB_1 B_2 B_3 =$



$ABB_4 B_3$  und dieses  $= ABB_6 B_5$  ist. Demnach hat man zu beweisen, daß  $AB_5 = AC_1$  ist. Nach Winkel 7 ist hierzu erforderlich, daß die Kongruenz der Dreiecke  $ACC_1$  und  $AB_3 B_5$  nachgewiesen wird. Zur Anwendung gelangt  $\text{Kz. I}$ .

Ist der Winkel  $ACB$  ein rechter, so fällt  $B_1$  auf  $C$ , und das Rechteck  $AB_1 B_2 B_3$  geht in das Quadrat über der Kathete  $AC$  des rechtwinkligen Dreiecks  $ABC$  über; es ergibt sich dann als eine Folgerung aus Satz 144:

**Satz 145.** Das Quadrat über einer Kathete eines rechtwinkligen Dreiecks ist gleich dem Rechteck aus der Hypotenuse und der Projektion der Kathete auf die Hypotenuse.

### 68. Übungsbeispiele.

**Satz 146.** Stimmen zwei Dreiecke überein in der Größe zweier Seiten und sind die von diesen Seiten eingeschlossenen Winkel supplementar, so sind die Dreiecke gleich.

Die Richtigkeit der Behauptung folgt aus Satz 136, wenn die Höhen gleich sind, die zu zwei entsprechenden der als gleich vorausgesetzten Seiten gehören. Zur Anwendung gelangt  $\text{Kz. II}$ .

**Satz 147.** Die von den Ecken eines Dreiecks ausgehenden Abschnitte der Mittellinien teilen das Dreieck in drei gleiche Teile.

Wiederholte Anwendung des Zus. 3 zu Satz 137 führt zum Beweise.

**Satz 148.** Verbindet man in einem Trapez die Mitte eines Schenkels mit den Endpunkten des anderen Schenkels, so ist das von dem letzteren und den Verbindungslinien gebildete Dreieck gleich der Hälfte des Trapezes.

Wird durch die Mitte des ersten Schenkels die Parallele zu dem zweiten gezogen, so entsteht ein Parallelogramm, das zu einem mittelbaren Vergleiche des Dreiecks mit dem Trapeze benutzt werden kann.

**Satz 149.** Das Parallelogramm, welches durch die Verbindung der Seitenmitten eines Vierecks entsteht (Satz 83<sup>a</sup>), ist gleich der Hälfte des Vierecks.

Eine Diagonale des Vierecks zerlegt das Viereck in zwei Dreiecke und das Parallelogramm in zwei Abschnitte, von denen jeder mit dem zugehörigen Dreieck durch Benutzung der Sätze 80 und 135 verglichen werden kann.

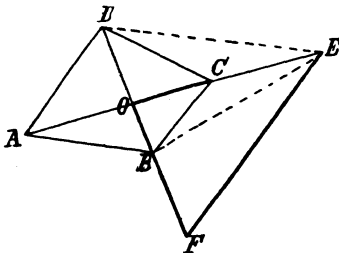
**Satz 150.** Jedes Viereck ist gleich einem Dreieck, in welchem seine Diagonalen als Seiten einen Winkel einschließen, der gleich einem der Winkel der Diagonalen ist.

Wird das Dreieck  $OEF$  dadurch hergestellt, daß man  $OC$  um  $OA$  und  $OB$  um  $OD$  verlängert, so lautet die

Vor. Es sei  $OE = AC$  und  $OF = BD$ .

Beh. Es ist  $\triangle OEF = ABCD$ .

Entw. des Bew. Nach Wink 10 hat man die Figuren zu zerlegen und nachzuweisen, daß ihre Teile paarweis gleich sind. Nun teilt die Diagonale  $AC$  das Viereck in zwei Dreiecke  $ACB$  und  $ACD$ , von denen das erste mit dem durch die Linie  $EB$  abgeschnittenen Teile  $OEB$  des Dreiecks  $OEF$  gleiche Grundlinie ( $AC = OE$ ) und gleiche Höhe (dieselbe Spitze) hat, also nach Satz 136 auch gleichen Inhalt besitzt; daher muß noch bewiesen werden, daß  $\triangle ACD = \triangle BEF$  ist. Ein unmittelbarer Vergleich dieser Dreiecke ist nicht möglich. Verbindet man aber,

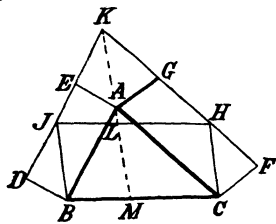


um die Gleichheit  $OD = BF$  zu benutzen,  $E$  mit  $D$ , so entsteht ein Dreieck  $ODE$ , das sowohl zu  $\triangle ADC$  ( $OE = AC!$ ), als auch zu  $\triangle BEF$  ( $OD = BF!$ ) in einer angebbaren Beziehung steht und zu einem mittelbaren Vergleich dieser Dreiecke führt.

Folgerung. Stimmen zwei Vierecke in der Größe ihrer Diagonalen und der von diesen gebildeten Winkel überein, so sind sie gleich.

**Satz 151.** (Satz des Pappus.) Stehen von drei Parallelogrammen zwei nach außen auf zwei Seiten eines Dreiecks und das dritte auf der dritten Seite nach innen, und befinden sich die der Dreiecksseite nicht angehörigenden Ecken des letzteren auf den Seiten der ersten Parallelogramme, die den zugehörigen Dreiecksseiten gegenüber liegen, so ist die Summe der beiden ersten Parallelogramme gleich dem dritten.

Entw. des Bew. Die Form der Behauptung weist darauf hin, daß entweder die Summe der Parallelogramme über  $AC$  und  $AB$  gebildet und mit dem Parallelogramm über  $BC$  verglichen wird, oder daß das letztere in zwei Teile zerlegt wird, die mit je einem der Parallelogramme über  $AC$  und  $AB$  zu vergleichen sind. Zu einer Addition der Parallelogramme fehlt aber die Möglichkeit, und daher muß der zweite Weg betreten werden.



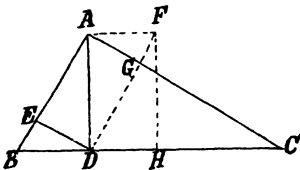
Für die Bestimmung der Hilfslinie ist der Umstand maßgebend, daß  $A$  die gemeinschaftliche Ecke der Parallelogramme ist, die Parallele  $AM$  zu  $BJ$  also zwei Parallelogramme  $BJKA$  und  $CHKA$  zugleich herstellt, die nach Lehrsatz XV einen mittelbaren Vergleich zwischen den Parallelogrammen  $ABDE$  und  $BJLM$ , bez.  $ACFG$  und  $LMCH$  ermöglichen.

**Satz 152.** In einem rechtwinkligen Dreieck ist das Quadrat über der zur Hypotenuse gehörigen Höhe gleich dem Rechteck aus den Abschnitten der Hypotenuse.

Entw. des Bew. Da das Verfahren nach Wink 10 nicht zum Ziele führt, so muß man zusehen, ob einer der Sätze 142 oder 144 anwendbar ist.

1. Wird das Quadrat über der Höhe  $AD$  so gezeichnet, daß es mit dem Rechteck  $CDEF$  aus  $CD$  und  $BD$  nur die Ecke  $D$  gemein hat, so haben die Figuren die Lage von Ergänzungsparallelogrammen und sind daher nach Satz 142 einander gleich, wenn  $D$  auf der Diagonale  $JK$  des Rechtecks  $JFKH$  liegt, wenn also die Verlängerung von  $JD$  die Gerade  $HA$  so schneidet, daß  $AK = DC$  ist (Satz 72c). Zum Beweise der Gleichheit  $AK = CD$  ist aber nach Wink 7 die Kongruenz der Dreiecke  $ADK$  und  $ADC$  erforderlich. Sz. I. (Da  $\triangle JDE \cong \triangle ABD$  (Sz. II), so ist  $\sphericalangle JDE = \sphericalangle B$ , also auch  $\sphericalangle ADK = \sphericalangle B$  und somit  $= \sphericalangle DAC$ ).

2. Ist  $AE$  die Projektion von  $AD$  auf  $AB$ , so daß nach Satz 145  $AD^2$  durch  $AB \cdot AE$  ersetzt werden kann, so hat man zu beweisen, daß  $AB \cdot AE = CD \cdot BD$  ist. Nach Satz 144 würde diese Gleichheit eintreten, wenn  $DC$  und  $AB$  die begrenzten Schenkel eines Winkels und  $AE$  die Projektion von  $DC$  auf  $AB$ ,  $BD$  dagegen die Projektion von  $AB$  auf  $DC$  wäre.



Zeichnet man daher  $DF \parallel$  und  $= AB$ , so daß  $DG$ , die Projektion von  $DC$  auf  $DF$ , gleich  $AE$  wird, und fällt das Lot  $FH$  auf  $DC$ , so hat man nachzuweisen, daß  $DH = DB$  ist. Rz. I, II, III sind anwendbar.

**69. Aufgaben (Verwandlungsaufgaben).**

a) Erste Gruppe. Anwendung der Sätze aus Nr. 66.

Erklärung. Eine Figur verwandeln heißt die Figur umgestalten, ohne ihren Inhalt zu ändern.

Aufgabe 97. Ein beliebiges Parallelogramm mit Beibehaltung einer Seite in ein Rechteck zu verwandeln.

Aufgabe 98. Ein Dreieck mit Beibehaltung einer Seite zu verwandeln

1. in ein gleichschenkeliges (die Seite wird Grundlinie);
2. in ein rechtwinkliges (die Seite wird Kathete);
3. in ein anderes, in welchem der der Seite gegenüber liegende Winkel gleich  $\varphi$  ist.

Aufgabe 99. Ein Trapez in ein Rechteck zu verwandeln.

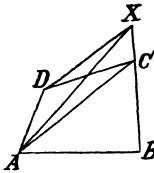
Aufgabe 100. Ein Dreieck in ein Parallelogramm zu verwandeln

1. mit Beibehaltung einer Seite; 2. mit Beibehaltung einer Höhe.

Aufgabe 101. Ein Parallelogramm in ein Dreieck zu verwandeln

1. mit Beibehaltung einer Seite; 2. mit Beibehaltung einer Höhe.

Aufgabe 102. Ein Viereck mit Beibehaltung einer Seite und eines der Seite anliegenden Winkels in ein Dreieck zu verwandeln.



Auflösung. Sollen  $AB$  und der Winkel  $B$  beibehalten werden, so muß die neue Ecke  $X$  des Dreiecks auf der Verlängerung von  $BC$  liegen, und da das Viereck mit dem Dreieck das Stück  $ABC$  gemein hat, so muß  $\triangle ACX = \triangle ACD$  sein. Die Dreiecke stehen über derselben Grundlinie  $AC$ , können also nur dann gleichen Inhalt haben, wenn ihre Höhen gleich sind (Zusatz 2 zu Satz 137), d. h. wenn  $DX$  parallel zu der Diagonale  $AC$  ist.

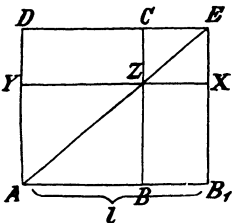
Aufgabe 103. Ein  $n$ -Eck in ein  $(n-1)$ -Eck zu verwandeln.

Aufgabe 104. Ein  $n$ -Eck in ein Dreieck zu verwandeln.

Wiederholte Ausführung der Aufgabe 103 (Aufgabe 102) führt zum Ziele.

b) Zweite Gruppe. Anwendung der Sätze aus Nr. 67.

Aufgabe 105. Ein Rechteck in ein anderes zu verwandeln, von welchem eine Seite die Länge  $l$  hat.

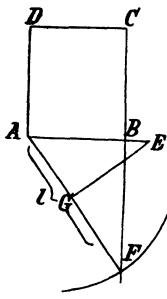


Auflösung. Ist  $ABCD$  das gegebene und  $AB_1XY$  das gesuchte Rechteck, so ist zu ihrer Gleichheit erforderlich, daß die Rechtecke  $BB_1XZ$  und  $DYZC$  gleich sind. Da diese aber die Lage von Ergänzungsparallelogrammen haben, so liegt infolge ihrer Gleichheit die Ecke  $Z$  auf der Diagonale  $AE$  des durch die Länge  $AB_1(l)$  und die Seite  $AD$  bestimmten Rechtecks  $AB_1ED$  (Satz 143).

Lautet die Aufgabe:

Aufgabe 105 a. Ein Rechteck mit einer gegebenen Seite  $l$  zu zeichnen, das gleich einem gegebenen Rechteck ist.

so kann der Satz 142 in folgender Weise angewandt werden. Verlängert man die Seite  $AB$  des gegebenen Rechtecks  $ABCD$  um  $BB_1 = l$ , legt durch  $B_1$  die Parallele zu  $AD$ , verbindet den Schnittpunkt  $C_1$  derselben und der Verlängerung von  $DC$  mit  $B$ , verlängert  $C_1B$  bis zum Schnittpunkte  $D_1$  mit  $DA$  und zieht durch  $D_1$  die Parallele zu  $AB$ , so entsteht ein Ergänzungsparallelogramm zu  $ABCD$ , in welchem eine Seite die Länge  $l$  hat.

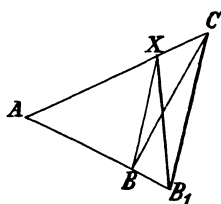


Auch der Satz 144 kann bei der zweiten Fassung der Aufgabe verwandt werden. Zeichnet man nämlich  $AE = AD$  und betrachtet  $AE$  als einen der begrenzten Schenkel des (hier zunächst noch nicht gegebenen) Winkels  $A$ , so muß der Endpunkt des zweiten Schenkels auf der Verlängerung von  $CB$  liegen, da  $AB$  die Projektion dieses Schenkels auf  $AE$  sein soll. Ist nun  $l > AB$ , so hat der Schenkel selbst die Länge  $l$ , und sein zweiter Endpunkt  $F'$  ist der Schnittpunkt des Kreises  $A$ ,  $l$  mit  $CB$ , während das Lot von  $E$  auf  $AE$  in  $AG$  die zweite Seite des gesuchten Rechtecks bestimmt. Für  $l < AB$  ist dagegen  $l$  als Projektion von  $AE$  auf den zweiten Schenkel anzusehen und bestimmt durch den Kreis  $M$ ,  $l$  mit dem Halbkreise über  $AB$  den Punkt  $G$  und damit auch  $AG$ , die zweite Seite des gesuchten Rechtecks.

Aufgabe 105 b. Ein Parallelogramm mit Beibehaltung eines Winkels in ein anderes zu verwandeln, in welchem eine Seite die Länge  $l$  hat.

Aufgabe 106. Ein Dreieck mit Beibehaltung eines Winkels in ein anderes zu verwandeln, in welchem eine der den Winkel einschließenden Seiten die Länge  $l$  hat.

Auflösung. Man könnte nach Satz 135 die Aufgabe auf die vorhergehende zurückführen; eine davon unabhängige Lösung ist jedoch vorzuziehen.



Wird der Winkel  $A$  des Dreiecks  $ABC$  beibehalten und ist  $AB_1$  die gegebene und  $AX$  die gesuchte neue Seite, so kann  $\triangle AB_1X$  nur dann gleich  $\triangle ABC$  sein, wenn  $\triangle BXB_1 = \triangle BXC$  ist. Da diese Dreiecke beide auf der Seite  $BX$  stehen, so ist zu ihrer Gleichheit erforderlich, daß  $B_1C \parallel BX$  ist.

Anmerkung. Die Auflösung umfaßt die beiden Fälle, daß die Grundlinie oder die Höhe geändert werden soll.

Aufgabe 107. Ein Rechteck in ein Quadrat zu verwandeln.

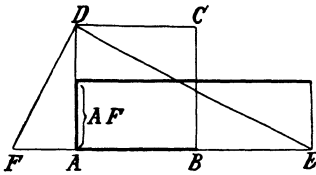
Auflösung. Die Aufgabe verweist auf die Anwendung des Satzes 145. Wird die größere Seite des Rechtecks als Hypotenuse und die kleinere als Abschnitt auf derselben angenommen, so ist durch den Halbkreis über der Hypotenuse und das Lot im Endpunkte des Abschnitts das rechtwinklige Dreieck und damit in der dem Abschnitte anliegenden Kathete die Seite des gesuchten Quadrats gefunden.

Die Seite des Quadrats kann noch auf einem anderen Wege hergestellt werden, wenn man den Satz 152 benutzt und die Figur desselben so zeichnet,

daß die Seiten des Rechtecks (aneinander liegende) Abschnitte der Hypotenuse werden.

**Aufgabe 108.** Ein Quadrat in ein Rechteck zu verwandeln, in welchem eine Seite die Länge  $l$  hat.

**Auflösung.** Eine Umkehrung der Aufgabe 107 und daher mit Benutzung derselben Sätze zu lösen. Bei der Zeichnung auf Grund des Satzes



145 wird die Quadratseite zur Kathete und  $l$  entweder Hypotenuse oder an der Kathete liegender Hypotenusenabschnitt. Stügt sich dagegen die Zeichnung auf den Satz 152, so bleibt es gleichgültig, ob  $l$  größer oder kleiner als die Quadratseite ist. Man erhält stets, wenn man auf der Quadratseite  $AB$  die Strecke  $AE$  gleich  $l$  abmißt,  $E$  mit  $D$  verbindet und in  $D$  auf  $ED$  das Lot errichtet, die zweite Seite des Rechtecks in der Strecke  $AF$ , welche dies Lot auf  $AB$  abschneidet.

### 70. Berechnungen.

- Aus der Seite  $a$  eines Quadrats seinen Inhalt zu berechnen.  
Beispiele:  $a = 14$ .  $a = 2,5$ .  $a = 1,25$ .
- Aus dem Inhalt  $J$  eines Quadrats seine Seite zu berechnen.  
Beispiele:  $J = 256$ .  $J = 20,25$ .  $J = 0,6561$ .
- Aus den Seiten (Katheten) eines Rechtecks (rechtwinkligen Dreiecks) seinen Inhalt zu berechnen.  
Beispiele:  $a = 15$ ,  $b = 12$ .  $a = 24,4$ ,  $b = 12,5$ .
- Aus dem Inhalt  $J$  und einer Seite (Kathete) eines Rechtecks (rechtwinkligen Dreiecks) die andere Seite (Kathete) zu berechnen.  
Beispiele:  $J = 288$ ,  $a = 16$ .  $J = 20,25$ ,  $a = 2,25$ .
- Aus der Grundlinie  $a$  und der dazu gehörigen Höhe eines Parallelogramms (Dreiecks) seinen Inhalt zu berechnen.  
Beispiele:  $a = 24$ ,  $h = 25$ .  $a = 18,3$ ,  $h = 14,6$ .
- Aus dem Inhalt  $J$  und der Grundlinie  $a$  oder der Höhe  $h$  eines Parallelogramms (Dreiecks) die zu dieser gehörige Höhe, bez. Grundlinie zu berechnen.  
Beispiele:  $J = 840$ ,  $a(h) = 28$ .  $J = 1649,97$ ,  $a(h) = 56,7$ .
- Aus den Diagonalen  $e$  und  $f$  eines Rhombus seinen Inhalt zu berechnen.  
Beispiele:  $e = 14$ ,  $f = 18$ .  $e = 6,5$ ,  $f = 7,5$ .
- Aus den Grundlinien  $a$  und  $b$  eines Trapezes und der Höhe  $h$  seinen Inhalt zu berechnen.  
Beispiele:  $a = 17$ ,  $b = 14$ ,  $h = 18$ .  $a = 21,4$ ,  $b = 26,2$ ,  $h = 11,3$ .

## 16. Kapitel.

### Der Pythagoreische Lehrsatz.

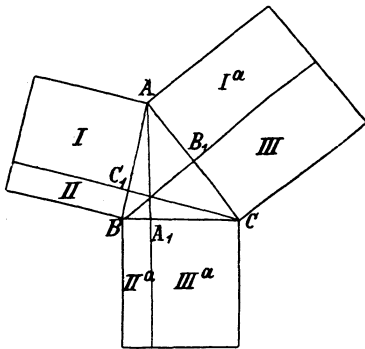
#### 71. Ableitung und Beweis des Pythagoreischen Lehrsatzes.

Der Satz 144 kann bei einem beliebigen Dreieck wiederholt angewandt werden. Je zwei Seiten desselben sind die begrenzten

Schenkel eines Winkels, und die von den Höhen gebildeten Seitenabschnitte, die im Scheitelpunkte eines Winkels zusammenstoßen, sind die gegenseitigen Projektionen der Schenkel dieses Winkels. Bildet man die Summe aus den Projektionen zweier Seiten auf die dritte, so erhält man die dritte Seite, auch wenn einer der Winkel an derselben stumpf ist, weil dann die kleinere der Projektionen als negativ gilt und bei der Bildung der Projektionensumme abgezogen wird. Es sind nun

die begrenzten Schenkel und die zugehörigen Projektionen  
 bei  $\sphericalangle A$ :  $AB$  u.  $AC$   $AB_1$  u.  $AC_1$ ,  
 bei  $\sphericalangle B$ :  $BA$  u.  $BC$   $BA_1$  u.  $BC_1$ ,  
 bei  $\sphericalangle C$ :  $CA$  u.  $CB$   $CA_1$  u.  $CB_1$ ,

und demnach folgen aus Satz 144 die Gleichheiten:



1.  $AB \cdot AC_1$  (I)  $= AC \cdot AB_1$  (I<sup>a</sup>),
2.  $BA \cdot BC_1$  (II)  $= BC \cdot BA_1$  (II<sup>a</sup>),
3.  $CA \cdot CB_1$  (III)  $= CB \cdot CA_1$  (III<sup>a</sup>),

denen die Gleichheiten

4.  $AB \cdot AC_1 + BA \cdot BC_1$  (I + II)  $= AB^2$ ,
5.  $AC \cdot AB_1 + CA \cdot CB_1$  (I<sup>a</sup> + III)  $= AC^2$ ,
6.  $BC \cdot BA_1 + CB \cdot CA_1$  (II<sup>a</sup> + III<sup>a</sup>)  $= BC^2$

hinzuzufügen sind. Bildet man aber die Summe  $AB : AC_1 +$

$BA \cdot BC_1$  (I + II), so erhält man nach den Gleichheiten 1) und 2):

$$\underbrace{AB \cdot AC_1 + BA \cdot BC_1}_{AB^2 \text{ (4!)}} = AC \cdot AB_1 + BC \cdot BA_1,$$

$$= AC^2 - CA \cdot CB_1 + BC^2 - CB \cdot CA_1 \text{ (5 u. 6!)},$$

$$= AC^2 + BC^2 - (CA \cdot CB_1 + CB \cdot CA_1),$$

und folglich mit Benutzung der dritten Gleichheit:

$$AB^2 = AC^2 + BC^2 - 2 CA \cdot CB_1 \text{ oder } = AC^2 + BC^2 - 2 CB \cdot CA_1.$$

Auf demselben Wege ergeben sich die Beziehungen:

$$AC^2 = AB^2 + BC^2 - 2 BA \cdot BC_1 \text{ oder } = AB^2 + BC^2 - 2 BC \cdot BA_1,$$

$$BC^2 = AB^2 + AC^2 - 2 AB \cdot AC_1 \text{ oder } = AB^2 + AC^2 - 2 AC \cdot AB_1.$$

Es besteht demnach der

**Satz 153.** Das Quadrat über einer Seite eines Dreiecks ist gleich der Summe der Quadrate über den beiden anderen Seiten, vermindert um das Doppelte des Rechtecks aus einer dieser Seiten und der Projektion der anderen auf dieselbe.

Man unterscheidet drei Fälle, je nachdem der Winkel, welcher der ersten Seite gegenüber liegt, ein rechter, spitzer oder stumpfer ist.

a) Ist der Winkel  $A$  ein rechter, so fällt die Höhe  $BB_1$  mit  $AB$  und die Höhe  $CC_1$  mit  $AC$  zusammen, und die beiden Projektionen  $AB_1$  und  $AC_1$  werden gleich Null. Aus der Gleichheit  $BC^2 = AB^2 + AC^2 - 2 AB \cdot AC_1$  verschwindet daher das doppelte Rechteck und es bleibt:  $BC^2 = AB^2 + AC^2$ , d. h.

**Lehrsatz XVI<sup>a</sup>.** Das Quadrat über der Hypotenuse eines rechtwinkligen Dreiecks ist gleich der Summe der Quadrate über den Katheten. (Pythagoreischer Lehrsatz.)

Folgerung. Das Quadrat über einer Kathete eines rechtwinkl. Dreiecks ist gleich der Differenz aus dem Quadrat über der Hypotenuse und dem Quadrat über der anderen Kathete.

b) Ist der Winkel  $A$  ein spitzer, so gelten die Projektionen  $AB_1$  und  $AC_1$  beide als positiv, und daher sind in der Gleichheit  $BC^2 = AB^2 + AC^2 - 2 AB \cdot AC_1$  alle Produkte positiv; demnach besteht der Satz:

**Lehrsatz XVI<sup>b</sup>.** Das Quadrat über einer Dreiecksseite, die einem spitzen Winkel gegenüber liegt, ist gleich der Summe der Quadrate über den beiden anderen Seiten, vermindert um das doppelte Rechteck aus einer dieser Seiten und der Projektion der anderen auf dieselbe. (Erste Erweiterung des Pythagoreischen Lehrsatzes.)

c) Ist der Winkel  $A$  dagegen stumpf, so gelten die Projektionen  $AB_1$  und  $AC_1$  beide als negativ, und das abzuziehende doppelte Produkt  $2 AB \cdot AC_1$  wird in demselben Sinne negativ wie  $AC_1$ . Sollen daher in  $BC^2 = AB^2 + AC^2 - 2 AB \cdot AC_1$  alle Größen als positiv gelten, so muß das Vorzeichen — des doppelten Produktes durch + ersetzt werden. Die hieraus folgende Gleichheit  $BC^2 = AB^2 + AC^2 + 2 AB \cdot AC_1$  führt dann zu

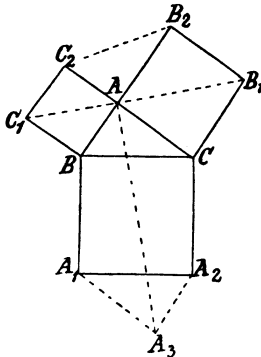
**Lehrsatz XVI<sup>c</sup>.** Das Quadrat über einer Dreiecksseite, die einem stumpfen Winkel gegenüber liegt, ist gleich der Summe der Quadrate über den beiden anderen Seiten, vermehrt um das doppelte Rechteck aus einer dieser Seiten und der Projektion der anderen auf dieselbe. (Zweite Erweiterung des Pythagoreischen Lehrsatzes.)

Anmerkung 1. Will man den Beweis des Pythagoreischen Lehrsatzes äußerlich unabhängig von Satz 144 gestalten, so teilt man (nach Euklid's Vorgang) das Hypotenusenquadrat durch die Verlängerung der zur Hypotenuse gehörigen Höhe in zwei Rechtecke und ermittelt auf einem der drei Wege, die zum Beweise des Satzes 144 führten, die Beziehung zwischen je einem dieser Rechtecke und dem Kathetenquadrat, mit dem es in einer Ecke zusammenstößt. Man gelangt dann zu drei von einander verschiedenen, aber darin übereinstimmenden



Beweisen, daß bei jedem von ihnen die Kathetenquadrate in der Form von Rechtecken als Teile des Hypotenusenquadrats erkannt werden.

Anmerkung 2. Ein weiterer von Satz 144 ganz unabhängiger Beweis kann nach Winkel 10 aufgefunden werden. Die Summe der Kathetenquadrate



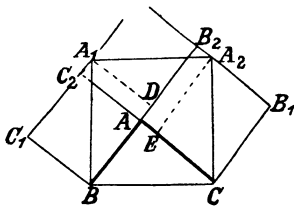
ist gleich dem Hypotenusenquadrat, wenn die Addition gleicher Stücke bei beiden gleiche Summen liefert. Es liegt nun nahe, zu  $AB^2 + AC^2$  einmal das Dreieck  $ABC$  selbst und dann durch Verbindung der Ecken  $B_2$  und  $C_2$  das ihm kongruente Dreieck  $AC_2B_2$  hinzuzufügen, weil dadurch eine Figur mit nur auspringenden Ecken entsteht. Addiert man daher auch zu  $BC^2$  das Dreieck  $ABC$  und legt  $\triangle AC_2B_2$  an die Summe in  $A_1A_2$  so an, daß die Ecke  $A_1$  der Ecke  $B_2$  entspricht, so hat man zu zeigen, daß die beiden Sechsecke  $ABA_1A_3A_2C$  und  $C_1BCB_1B_2C_2$  einander gleich sind. Nach Winkel 10 kann man dieselben durch die sich entsprechenden Diagonalen  $AA_3$  und  $C_1B_1$  in zwei Vierecke zerlegen und deren Kongruenz nachzu-

weisen suchen. Beachtet man aber, daß auf Grund der Vor- und Zeichnung

$$\begin{aligned}
 AB &= A_3A_2 &= C_1B &= C_1C_2, \\
 BA_1 &= A_2C &= BC &= C_2B_2, \\
 A_1A_3 &= CA &= CB_1 &= B_2B_1, \\
 \sphericalangle ABA_1 &= \sphericalangle A_3A_2C &= \sphericalangle C_1BC &= \sphericalangle C_1C_2B_2 = R + \beta, \\
 \sphericalangle BA_1A_3 &= \sphericalangle A_2CA &= \sphericalangle BCB_1 &= \sphericalangle C_2B_2B_1 = R + \gamma
 \end{aligned}$$

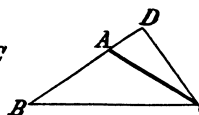
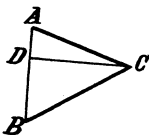
ist, so erweisen sich bei geeigneter Deckung die 4 Vierecke als kongruent, die Summen aus je zweien also als gleich.

Anmerkung 3. Auch der Satz des Pappus (Satz 151) kann zum Beweise des Pythagoreischen Lehrsatzes benutzt werden; es ist dazu nur der Beweis dafür erforderlich, daß die Ecken  $A_1$  und  $A_2$  des nach innen errichteten Hypotenusenquadrats auf den Seiten  $C_1C_2$ , bez.  $B_1B_2$  der Kathetenquadrate liegen. Dies tritt aber nur dann ein, wenn



$A_1$  von  $AB$  um die Strecke  $BC_1$  und  $A_2$  von  $AC$  um die Strecke  $CB_1$  entfernt ist (Ort 2), und demnach hat man zu beweisen, daß die Lote  $A_1D$  und  $A_2E$  gleich  $BC_1$ , bez.  $CB_1$  sind. Ersetzt man  $BC_1$  durch  $AB$  und  $CB_1$  durch  $AC$ , so führt das Verfahren nach Winkel 7 bei Benutzung der Dreiecke  $BA_1D$ ,  $CA_2E$  und  $ABC$  rasch zum Ziele. Zur Anwendung gelangt Sz. I.

Anmerkung 4. Die Lehrsätze XVI<sup>b</sup> und c können ohne Benutzung des Satzes 153 gefunden werden, sobald der Pythagoreische Lehrsatz bekannt ist.



Fällt man das Lot  $CD$  auf  $AB$ , so entstehen zwei rechtwinklige Dreiecke  $ACD$  und  $BCD$  mit der gemeinschaftlichen Kathete  $CD$ , und demnach ist (Folgerung, Lehrf. XVI<sup>a</sup>):

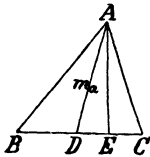
$$\begin{aligned} CD^2 &= BC^2 - BD^2, \\ CD^2 &= AC^2 - AD^2, \end{aligned}$$

also nach G. III  $BC^2 - BD^2 = AC^2 - AD^2$  oder  $BC^2 = AC^2 + BD^2 - AD^2$ ,  
und somit  $BC^2 = AC^2 + (AB \mp AD)^2 - AD^2$   
 $= AC^2 + AB^2 \mp 2 AB \cdot AD$ .

Ist nun  $A$  ein spitzer Winkel, so ist das Vorzeichen  $-$  zu nehmen; dagegen muß das Vorzeichen  $+$  genommen werden, wenn  $A$  ein stumpfer Winkel ist.

**72. Übungsbeispiele.**

**Satz 154.** In einem Rhombus ist die Summe der Quadrate über den beiden Diagonalen gleich dem vierfachen Quadrat über seiner Seite.



2. Ein beliebiges Dreieck  $ABC$  wird durch die Mittellinie  $AD$  in zwei Dreiecke zerlegt, von denen bei  $D$  das eine einen spitzen und das andere einen stumpfen Winkel besitzt. Die Projektion  $DE$  von  $AD$  auf  $BC$  ist also dieselbe wie die Projektion auf  $DC$ . Die Lehrsätze XVI b und c liefern daher die Gleichheiten:

$$\begin{aligned} AB^2 &= AD^2 + BD^2 \pm 2 BD \cdot DE, \\ AC^2 &= AD^2 + CD^2 \mp 2 CD \cdot DE \text{ oder} \\ &= AD^2 + BD^2 \mp 2 BD \cdot DE, \end{aligned}$$

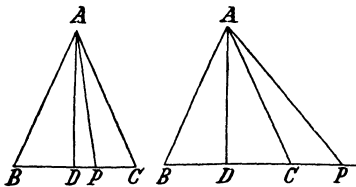
und aus diesen folgt nach G. IV:

$$AB^2 + AC^2 = 2 AD^2 + 2 BD^2 = 2 AD^2 + \frac{1}{2} BC^2, \text{ d. h.}$$

**Satz 155.** In jedem Dreieck ist die Summe der Quadrate zweier Seiten gleich dem halben Quadrat der dritten, vermehrt um das doppelte Quadrat der zu dieser gehörigen Mittellinie.

3. Sind  $a$  und  $b$  die Seiten eines Parallelogramms mit den Diagonalen  $e$  und  $f$ , so ist in den beiden durch  $f$  hergestellten Dreiecken die zu  $f$  führende Mittellinie gleich  $\frac{1}{2} e$ , und demnach ergibt sich aus Satz 155:  $a^2 + b^2 = \frac{1}{2} f^2 + 2 (\frac{e}{2})^2 = \frac{1}{2} f^2 + \frac{1}{2} e^2$ , also  $2 a^2 + 2 b^2 = e^2 + f^2$ , und damit der

**Satz 156.** In jedem Parallelogramm ist die Summe der Quadrate über den Diagonalen gleich der Summe der Quadrate über den vier Seiten.



4. Ist  $ABC$  ein gleichschenkeliges Dreieck mit der Spitze  $A$  und  $P$  ein beliebiger Punkt der Geraden  $BC$ , so entstehen durch das Lot  $AD$  von  $A$  auf  $BC$  zwei rechtwinklige Dreiecke  $ABD$  und  $APD$ , in denen nach Lehrsatz XVIa  $AB^2 = AD^2 + BD^2$ ,  
 $AP^2 = AD^2 + PD^2$

ist. Liegt nun  $P$  zwischen  $B$  und  $C$ , so folgt hieraus:

$$AB^2 - AP^2 = BD^2 - PD^2 = (BD + PD)(BD - PD) = PB \cdot PC;$$

liegt dagegen  $P$  auf der Verlängerung von  $BC$ , so ergibt sich:

$$AP^2 - AB^2 = PD^2 - BD^2 = (PD + BD)(PD - BD) = PB \cdot PC, \text{ d. h.}$$

**Satz 157.** Liegt ein Punkt auf der Grundlinie eines gleichschenkligen Dreiecks oder auf ihrer Verlängerung, so ist das Rechteck aus seinen Entfernungen von den Endpunkten der Grundlinie gleich der Differenz der Quadrate über seiner Entfernung von der Spitze und dem Schenkel des gleichschenkligen Dreiecks.

5. Der Schnittpunkt  $O$  zweier Sehnen oder Sekanten  $AB$  und  $CD$  eines Kreises  $M, r$  liegt auf den Grundlinien der gleichschenkligen Dreiecke  $MAB$  und  $MCD$ , deren Schenkel gleich  $r$  sind, und demnach liefert Satz 157 die Gleichheiten

$$\left. \begin{array}{l} OA \cdot OB = r^2 - OM^2 \\ OC \cdot OD = r^2 - OM^2 \end{array} \right\} \text{ bei den Sehnen,}$$

$$\text{oder} \quad \left. \begin{array}{l} OA \cdot OB = OM^2 - r^2 \\ OB \cdot OC = OM^2 - r^2 \end{array} \right\} \text{ bei den Sekanten,}$$

aus denen in beiden Fällen folgt, daß  $OA \cdot OB = OC \cdot OD$  ist, d. h.

**Satz 158.** Bei zwei sich schneidenden Sehnen oder Sekanten eines Kreises sind die Rechtecke aus den vom Schnittpunkte aus gerechneten Abschnitten einer jeden gleichgroß.

Folgerung. Das Quadrat einer Tangente ist gleich dem Rechteck aus den von ihrem Ausgangspunkte aus gerechneten Abschnitten einer jeden durch diesen Punkt gehenden Sekante des Kreises.

Die Umkehrung des Satzes 158 lautet:

**Satz 159.** Schneiden sich die Verbindungslinien zwischen vier Punkten so, daß die Rechtecke aus den Entfernungen des Schnittpunktes von den Endpunkten einer jeden gleich sind, so liegen die vier Punkte auf einem Kreise.

Dieser Satz kann nur indirekt mit Berufung auf Satz 158 bewiesen werden.

Anmerkung. Der Satz 158 und seine Folgerung können zur Ausführung der Aufgaben 105a, 107 und 108 benutzt werden.

### 73. Aufgaben.

Aufgabe 109. Ein Quadrat zu zeichnen, welches gleich der Summe zweier gegebenen Quadrate ist.

Die Seiten der gegebenen Quadrate werden Katheten.

Aufgabe 110. Ein Quadrat zu zeichnen, welches gleich der Differenz zweier gegebenen Quadrate ist.

Die Seite des größeren Quadrats wird Hypotenuse, die des kleineren Kathete.

Anmerkung. Sind die Seiten  $a$  und  $b$  der gegebenen Quadrate ganze Zahlen, so wird die Seite  $x$  des gesuchten Quadrats ebenfalls eine ganze Zahl, wenn  $a^2 + b^2$ , bez.  $a^2 - b^2$  eine Quadratzahl ist.  $a$ ,  $b$  und  $x$  werden dann Pythagoreische Zahlen genannt.

(Beispiele:  $a = 3, b = 4, x = 5.$   $a = 5, b = 12, x = 13.$ )

Aufgabe 111. Ein Quadrat zu zeichnen, welches gleich dem  $n$ -fachen eines gegebenen Quadrats ist.

Wiederholte Ausführung der Aufgabe 109 würde zum Ziele führen. Weniger umständlich wird die Lösung, wenn man  $n$  in eine Summe oder Differenz von Quadratzahlen zerlegt, weil jede ganze Zahl durch höchstens 4 Quadratzahlen ausgedrückt werden kann.

$$\text{Beispiele: } n = 60: \quad 60 = 8^2 - 2^2 = 5^2 + 5^2 + 3^2 + 1^2.$$

$$n = 84: \quad 84 = 10^2 - 4^2 = 8^2 + 4^2 + 2^2.$$

$$n = 47: \quad 47 = 7^2 - 1^2 - 1^2 = 5^2 + 3^2 + 3^2 + 2^2.$$

Ist daher  $n = \alpha^2 + \beta^2 + \gamma^2 + \delta^2$ , so erhält man  $n \cdot l^2$ , wenn man nach Aufgabe 109 durch die Zeichnung die Rechnung ausführt:

$$(\alpha l)^2 + (\beta l)^2 + (\gamma l)^2 + (\delta l)^2.$$

Aufgabe 112. Ein Quadrat zu zeichnen, das gleich der Hälfte eines gegebenen Quadrats ist.

Die gegebene Quadratseite wird Hypotenuse eines rechtwinkligen gleichschenkligen Dreiecks.

Aufgabe 113. Ein Quadrat zu zeichnen, das gleich dem  $n$ ten Teile eines gegebenen Quadrats ist.

Der  $n$ te-Teil des gegebenen Quadrats (Zus. 3 zu Lehrf. XV) wird in ein Quadrat verwandelt.

Vor bemerkung: Sind  $a, b$  und  $c$  die Seiten eines Dreiecks, so ist nach Satz 155:  $b^2 + c^2 = \frac{a^2}{2} + 2m_a^2$ , also  $m_a^2 = \frac{1}{2} \left[ (b^2 + c^2) - \frac{a^2}{2} \right]$ .

Die Mittellinie  $m_a$  kann daher gezeichnet werden, wenn  $a$  und  $b^2 + c^2$  gegeben sind. Ebenso folgt daraus:  $a^2 = 2(b^2 + c^2) - 4m_a^2$ , d. h.  $a$  ist herstellbar, wenn  $b^2 + c^2$  und  $m_a$  bekannt sind.

Aufgabe 114. Ein Dreieck zu zeichnen aus  $a, b^2 + c^2 = l^2$  und 1)  $\alpha$ . 2)  $\beta$ . 3)  $h_a$ . 4)  $h_b$ . 5)  $r$ .

Aufgabe 115. Ein Dreieck zu zeichnen aus  $b^2 + c^2 = l^2, m_a$  und 1)  $\alpha$ . 2)  $\beta$ . 3)  $h_a$ . 4)  $h_b$ . 5)  $r$ .

Vor bemerkung. Sind  $a_1$  und  $a_2$  die Projektionen der Seiten  $c$  und  $b$  eines Dreiecks auf die dritte Seite, so ist

$$c^2 = h_a^2 + a_1^2 \text{ und } b^2 = h_a^2 + a_2^2, \text{ also für } c > b \\ c^2 - b^2 = a_1^2 - a_2^2 = (a_1 + a_2)(a_1 - a_2) = a(a_1 - a_2).$$

Die Differenz  $c^2 - b^2$  ist demnach nur von der Strecke  $a_1$ , d. h. von der Lage des zu  $h_a$  gehörigen Fußpunktes abhängig, und das in diesem Punkte auf  $a$  errichtete Lot erweist sich als der geometr. Ort aller Punkte, für deren Entfernungen  $b$  und  $c$  von den Endpunkten der Strecke  $a$  die Differenz der Quadrate  $c^2 - b^2$  stets den gleichen Wert hat. Kennt man aber  $a$  und  $c^2 - b^2$ , so kann man  $a_1 - a_2$  zeichnen (Aufg. 108) und damit  $a_1$  (aus  $a_1 + a_2 = a$  und  $a_1 - a_2 = d$ ), also auch den Fußpunkt des Lotes herstellen, auf welchem  $A$  liegt.

Aufgabe 116. Ein Dreieck zu zeichnen aus  $a, c^2 - b^2 = l^2$  und 1)  $\alpha$ . 2)  $\beta$ . 3)  $h_a$ . 4)  $h_b$ . 5)  $m_a$ . 6)  $r$ .

**74. Berechnungen.**

1. Aus den Katheten  $a$  und  $b$  eines rechtwinkl. Dreiecks die Hypotenuse  $c$  zu berechnen.

$$\text{Aus } c^2 = a^2 + b^2 \text{ folgt: } c = \sqrt{a^2 + b^2}.$$

$$\text{Beispiele: } a = 3, b = 4. \quad a = 5, b = 12. \quad a = 6, b = 5.$$

2. Aus der Hypotenuse  $c$  und einer Kathete  $a$  eines rechtwinkl. Dreiecks die andere Kathete  $b$  zu berechnen.

$$\text{Aus } c^2 = a^2 + b^2 \text{ folgt: } b^2 = c^2 - a^2, \text{ also } b = \sqrt{c^2 - a^2}.$$

$$\text{Beispiele: } c = 5, a = 4. \quad c = 65, a = 56. \quad c = 8, b = 5.$$

3. Aus der Seite  $a$  eines Quadrats seine Diagonale  $d$  zu berechnen.

$$\text{Es ist } d^2 = a^2 + a^2, \text{ also } d = a\sqrt{2}.$$

$$\text{Beispiele: } a = 15. \quad a = 25, 4. \quad a = 353, 7.$$

4. Aus der Diagonale  $d$  eines Quadrats seine Seite  $a$  zu berechnen.

$$\text{Es ist } d^2 = a^2 + a^2 = 2a^2, \text{ also } a^2 = \frac{1}{2}d^2 \text{ und } a = \frac{d}{2}\sqrt{2}.$$

$$\text{Beispiele: } d = 14. \quad d = 12, 5. \quad d = 27\frac{1}{4}.$$

5. Aus der Seite  $a$  eines gleichseitigen Dreiecks seinen Inhalt zu berechnen.

$$\text{Nach Satz 137 ist } J = \frac{a \cdot h}{2}; h \text{ aber ist Kathete eines rechtwinkl. Dreiecks}$$

mit der Hypotenuse  $a$  und der zweiten Kathete  $\frac{a}{2}$ , also gleich  $\sqrt{a^2 - \frac{a^2}{4}}$

oder  $\frac{a}{2}\sqrt{3}$ , und daraus folgt:  $J = \frac{a^2}{4}\sqrt{3}$ .

$$\text{Beispiele: } a = 8. \quad a = 9, 6.$$

6. Aus der Höhe  $h$  eines gleichseitigen Dreiecks seinen Inhalt zu berechnen.

$$\text{Da } h = \frac{a}{2}\sqrt{3}, \text{ also } a = \frac{2}{3}h\sqrt{3} \text{ ist, so folgt: } J = \frac{h^2}{3}\sqrt{3}.$$

$$\text{Beispiele: } h = 24. \quad h = 4, 5.$$

7. Aus dem Inhalt eines gleichseitigen Dreiecks seine Seite und Höhe zu berechnen.

$$\text{Aus } J = \frac{a}{4}\sqrt{3} \text{ und } J = \frac{h^2}{3}\sqrt{3} \text{ folgt: } a = \frac{2}{3}\sqrt{3}J\sqrt{3}, \text{ bez. } h = \sqrt{J\sqrt{3}}.$$

$$\text{Beispiele: } J = 25. \quad J = 48.$$

8. Aus der Grundlinie  $a$  und dem Schenkel  $b$  eines gleichschenkl. Dreiecks seinen Inhalt zu berechnen.

$h_a$  ist Kathete eines rechtwinkl. Dreiecks mit der Hypotenuse  $b$  und der zweiten Kathete  $\frac{a}{2}$ , also gleich  $\sqrt{b^2 - \left(\frac{a}{2}\right)^2}$ , und demnach ist  $J = \frac{a}{2}\sqrt{b^2 - \left(\frac{a}{2}\right)^2}$   
 $= \frac{a}{4}\sqrt{(2b+a)(2b-a)}$ .

$$\text{Beispiele: } a = 36, b = 30. \quad a = 24, b = 13.$$

9. Aus den Seiten  $a, b$  und  $c$  eines Dreiecks zu berechnen  
 a) den Inhalt desselben.

Die Höhe  $h_a$  teilt  $a$  in die Abschnitte  $a_1$  und  $a_2$ , von denen  $a_1$  mit  $c$  und  $h_a$  ein rechtwinkl. Dreieck bildet. Es ist daher  $h_a = \sqrt{c^2 - a_1^2}$ . Da aber  $a_1$  die Projektion von  $c$  auf  $a$ , also nach Satz 153

$$b^2 = a^2 + c^2 - 2a \cdot a_1, \text{ und somit } \pm a_1 = \frac{a^2 + c^2 - b^2}{2a}$$

ist, so folgt:  $h_a = \sqrt{c^2 - \left(\frac{a^2 + c^2 - b^2}{2a}\right)^2}$ ,

$$= \sqrt{\left(c + \frac{a^2 + c^2 - b^2}{2a}\right) \left(c - \frac{a^2 + c^2 - b^2}{2a}\right)},$$

$$= \frac{1}{2a} \sqrt{\{(a+c)^2 - b^2\} \cdot \{b^2 - (a-c)^2\}},$$

$$= \frac{1}{2a} \sqrt{(a+b+c)(a+c-b)(a+b-c)(b+c-a)}.$$

Setzt man nun  $a+b+c = 2s$ ,  
so daß  $a+b+c = 2s - 2c = 2(s-c)$ ,  
 $a-b+c = 2s - 2b = 2(s-b)$ ,  
 $-a+b+c = 2s - 2a = 2(s-a)$

wird, so erhält man:  $h_a = \frac{1}{2a} \sqrt{2s \cdot 2(s-a) \cdot 2(s-b) \cdot 2(s-c)}$ ,  
 $= \frac{2}{a} \sqrt{s(s-a)(s-b)(s-c)}$ ,

und somit:  $J = \frac{a \cdot h_a}{2} = \sqrt{s(s-a)(s-b)(s-c)}$ .

Beispiele:  $a = 77$ ,  $b = 51$ ,  $c = 40$ .  $a = 25$ ,  $b = 28$ ,  $c = 17$ .

b) den Halbmesser des eingeschriebenen Kreises.

Da  $J = \frac{a \cdot \varrho}{2} + \frac{b \cdot \varrho}{2} + \frac{c \cdot \varrho}{2} = s \cdot \varrho$ , also  $\varrho = \frac{J}{s}$  ist, so folgt:

$$\varrho = \frac{1}{s} \sqrt{s(s-a)(s-b)(s-c)} = \sqrt{\frac{(s-a)(s-b)(s-c)}{s}}.$$

Beispiele:  $a = 17$ ,  $b = 10$ ,  $c = 9$ .  $a = 57$ ,  $b = 68$ ,  $c = 65$ .

c) die Halbmesser der äußeren Berührungskreise.

Da  $J = \frac{b \cdot \varrho_a}{2} + \frac{c \cdot \varrho_a}{2} - \frac{a \cdot \varrho_a}{2} = (s-a) \cdot \varrho_a$ , also  $\varrho_a = \frac{J}{s-a}$  ist,

so folgt:  $\varrho_a = \sqrt{\frac{s(s-b)(s-c)}{s-a}}$ ,

und ebenso:  $\varrho_b = \sqrt{\frac{s(s-a)(s-c)}{s-b}}$ ,

$$\varrho_c = \sqrt{\frac{s(s-a)(s-b)}{s-c}}.$$

Beispiel:  $a = 4,4$ ,  $b = 1,7$ ,  $c = 3,9$ .

d) die drei Mittellinien.

Nach Satz 155 ist  $b^2 + c^2 = \frac{a^2}{2} + 2m_a^2$ , also  $m_a^2 = \frac{1}{2} \left( b^2 + c^2 - \frac{a^2}{2} \right)$

und somit  $m_a = \frac{1}{2} \sqrt{2(b^2 + c^2) - a^2}$ . Entsprechend ergibt sich  $m_b = \frac{1}{2} \sqrt{2(a^2 + c^2) - b^2}$  und  $m_c = \frac{1}{2} \sqrt{2(a^2 + b^2) - c^2}$ .

Beispiele:  $a = 10, b = 6, c = 8$ . ( $m_a$  wird rational).

$a = 18, b = 22, c = 16$ . ( $m_b$  wird rational).

## Zweiter Teil. Die Proportionalität der Größen.

### V. Abschnitt.

## Die Proportionalität der Strecken.

### 17. Kapitel.

#### Einleitende Sätze über Verhältnisse.

#### 75. Das Verhältnis zweier Strecken.

Bei der in dem ersten Teile durchgeführten Vergleichung zweier Strecken handelte es sich darum, festzustellen, ob dieselben einander gleich sind oder ob eine von ihnen größer ist als die andere. Man kann jedoch zwei Strecken noch auf eine andere Weise mit einander vergleichen, indem man untersucht, wie oft die eine von ihnen oder ein Teil derselben in der anderen enthalten ist.

Erklärung. Das Verhältnis einer Strecke  $a$  zu einer zweiten Strecke  $b$  bestimmen oder die Strecke  $a$  durch die Strecke  $b$  messen heißt feststellen, wie oft  $b$  auf  $a$  abgetragen werden kann.

1. Geht die Strecke  $b$  in  $a$   $m$ -mal auf, d. h. bleibt kein Rest, wenn  $b$  auf  $a$   $m$ -mal abgetragen worden ist, so nennt man  $b$  ein Maß von  $a$  und  $m$  den Wert des Verhältnisses von  $a$  und  $b$  ( $a : b = m$ ).

2. Läßt sich die Strecke  $b$ , die kleiner als  $a$  ist, nicht so abtragen, daß kein Rest bleibt, ist also  $b$  nicht ein Maß von  $a$ , so können zwei Fälle eintreten:

a) Die Strecke  $b$  läßt sich in  $q$  gleiche Teile von der Länge  $l$  zerlegen, welche in  $a$   $p$ -mal aufgeht, so daß  $a = p \cdot l$  und  $b = q \cdot l$  ist. Man nennt dann  $l$  ein gemeinschaftliches Maß von  $a$  und  $b$  und den Quotienten  $m = \frac{p}{q}$  den Wert des Verhältnisses der Strecken

$a$  und  $b$ .  $\left( a : b = \frac{p}{q} = m. \right)$

b) Die Strecke  $b$  läßt sich nicht so in gleiche Teile zerlegen, daß ihr Teil auch in  $a$  aufgeht. Die Strecken besitzen dann kein gemeinschaftliches Maß und werden als inkommensurabel bezeichnet. Bleibt



aber, wenn  $l$ , der  $q$ -te Teil von  $b$ , auf  $a$   $p$ -mal abgetragen wird, ein Rest  $r$ , der kleiner als  $l$  ist, so liegt der Wert des Verhältnisses der Strecken  $a$  und  $b$  zwischen  $\frac{p}{q}$  und  $\frac{p+1}{q}$ , und da diese Brüche sich um so mehr nähern, je größer  $q$  und damit auch  $p$  wird, so kann man zwar den Wert des Verhältnisses  $a:b$  nie durch ganze Zahlen ausdrücken, aber demselben durch Vergrößerung von  $q$  beliebig nahe kommen. Daraus folgt:

Folgerung. Der Wert des Verhältnisses zweier Strecken ist eine unbenannte Zahl. Besitzen die Strecken ein gemeinschaftliches Maß, so ist die Zahl rational und gleich dem Quotienten der beiden Maßzahlen. Sind dagegen die Strecken incommensurabel, so ist die Zahl irrational.

## 76. Proportionen zwischen und Teilung von Strecken.

### a) Proportionen.

Erklärung. Zwei Verhältnisse heißen gleich, wenn sie denselben Wert haben. Werden zwei gleiche Verhältnisse durch das Gleichheitszeichen mit einander verbunden, so entsteht eine Proportion. Eine Proportion hat die Form  $a:b=c:d$  und wird gelesen: (Es verhält sich)  $a$  zu  $b$  wie  $c$  zu  $d$ . Die Strecken  $a, b, c$  und  $d$  heißen Glieder der Proportion.  $d$  insbesondere wird als die vierte Proportionale zu  $a, b$  und  $c$  bezeichnet. Die beiden Verhältnisse werden auch Seiten der Proportion genannt.

Zusatz. Sind die beiden inneren Glieder einer Proportion einander gleich, ist also  $a:b=b:c$ , so heißt die Proportion stetig und  $b$  wird als mittlere Proportionale zu  $a$  und  $c$ ,  $c$  dagegen als dritte Proportionale zu  $a$  und  $b$  bezeichnet.

Werden in der Proportion  $a:b=c:d$  die vier Strecken durch ihre Maßzahlen  $\alpha, \beta, \gamma$  und  $\delta$  ersetzt, so erhält die Proportion die Form  $\frac{\alpha}{\beta} = \frac{\gamma}{\delta}$  (gelesen:  $\alpha$  durch  $\beta$  gleich  $\gamma$  durch  $\delta$ ), durch deren Benutzung in einfacher Weise die folgenden Beziehungen zwischen den vier Strecken  $a, b, c$  und  $d$  abgeleitet werden können:

**Satz 160.** Besteht zwischen vier Strecken  $a, b, c$  und  $d$  die Proportion  $a:b=c:d$ , so bestehen auch die Proportionen:

1.  $c:d=a:b$ .
2.  $b:a=d:c$ .
3.  $a:c=b:d$ .
4.  $(a \pm b):a(b) = (c \pm d):c(d)$ .
5.  $(a+b):(a-b) = (c+d):(c-d)$ .
6.  $ma:nb = mc:nd$ .
7.  $a^2:b^2 = c^2:d^2$ .

**Satz 161.** Besteht zwischen vier Strecken eine Proportion, so ist das Rechteck aus den äußeren Gliedern gleich dem Rechteck aus den beiden inneren ( $a \cdot d = b \cdot c$ ).

Der geometrische Beweis folgt in Nr. 84, Satz 205.

Stimmen zwei Proportionen in den drei ersten Gliedern oder in dem Verhältnis der beiden ersten und der Größe des dritten Gliedes überein, so sind ihre vierten Glieder gleich. Denn aus  $a:b=c:d$  und  $a:b=c:x$  folgt nach Satz 161:  $bc=ad$ , bez.  $bc=ax$ , also nach G. III:  $ax=ad$  und somit  $x=d$ , d. h.

**Satz 162.** Zu drei Strecken von gegebener Reihenfolge ist nur eine vierte Proportionale vorhanden.

**Zusatz.** Zu zwei Strecken ist nur eine dritte und der Größe nach auch nur eine mittlere Proportionale vorhanden.

**Satz 163.** Besitzen die Verhältnisse mehrerer Streckenpaare denselben Wert, ist also  $a:b=c:d=e:f=g:h\dots$ , so besteht die Proportion  $(a+c+e+g+\dots):(b+d+f+h+\dots)=a:b$ .

**Beweis.** Aus  $a:b=c:d$  ergibt sich nach Satz 160:  $3:a:c=b:d$  und hieraus nach Satz 160, 4:  $(a+c):a=(b+d):b$ , also nach Satz 160, 3:  $(a+c):(b+d)=a:b$ .

Ersetzt man das Verhältnis  $a:b$  durch  $e:f$ , so folgt:

$$(a+c):(b+d)=e:f$$

und hieraus:

$$(a+c):e=(b+d):f,$$

also

$$(a+c+e):e=(b+d+f):f$$

oder

$$(a+c+e):(b+d+f)=e:f=a:b.$$

Die Fortsetzung dieses Verfahrens ergibt die Richtigkeit des Satzes.

### b) Teilung von Strecken.

**Erklärung 2.** Liegt ein Punkt  $C$  auf einer Strecke  $AB$  oder ihrer Verlängerung so, daß  $CA:CB=m:n$  ist, so sagt man,  $AB$  sei in  $C$  oder durch  $C$  in dem Verhältnis  $m:n$  geteilt.

**Zusatz 1.** Liegt der Punkt  $C$  zwischen  $A$  und  $B$ , so teilt er die Strecke  $AB$  innerlich, liegt er aber auf der Verlängerung von  $AB$ , so teilt er die Strecke äußerlich in dem Verhältnis  $m:n$ .

Aus  $CA:CB=m:n$  folgt aber für die innere Teilung:

$$(CA+CB):(m+n)=CA:m \text{ oder } (m+n):AB=m:AC$$

und für die äußere Teilung:

$$(CA-CB):(m-n)=CA:m \text{ oder } (m-n):AB=m:AC.$$

$AC$  ist also die 4. Proportionale zu  $m\pm n$ ,  $AB$  und  $m$ , und demnach liefert die Anwendung des Satzes 162 den

**Zusatz 2.** Für jede Strecke ist nur ein innerer und nur ein äußerer Punkt vorhanden, durch den sie in einem gegebenen Verhältnis geteilt wird.

**Erklärung 3.** Sind  $C$  und  $D$  die beiden Punkte, die eine Strecke  $AB$  innerlich und äußerlich nach dem Verhältnis  $m:n$  teilen, so sagt man,  $AB$  sei durch  $C$  und  $D$  harmonisch geteilt, und bezeichnet  $A, B, C$  und  $D$  als harmonische Punkte.  $A$  und  $B$ , bez.  $C$  und  $D$  heißen zugeordnete harmonische Punkte. Ihre Verbindungslinien mit einem außerhalb der Geraden liegenden Punkte  $O$  werden harmonische Strahlen genannt.

**Zusatz 1.** Durch drei auf einer Geraden liegende Punkte ist der vierte, dem mittleren von ihnen zugeordnete harmonische Punkt bestimmt.

Aus  $CA:CB = DA:DB$  ( $= m:n$ ) folgt nach Satz 161:  $AC \cdot BD = BC \cdot AD$  oder  $AC(AD - AB) = AD(AB - AC)$  und hieraus:  
 $2AC \cdot AD = AC \cdot AB + AD \cdot AB$ .

Dividiert man beide Seiten dieser Gleichheit durch  $2AB \cdot AC \cdot AD$ , so erhält man:  $\frac{1}{AB} = \frac{1}{2} \left( \frac{1}{AC} + \frac{1}{AD} \right)$ .

Wird nun eine Größe als das harmonische Mittel zweier anderen bezeichnet, wenn ihr reziproker Wert das arithmetische Mittel (die halbe Summe) aus den reziproken Werten der beiden anderen ist, so ergibt sich hieraus der

**Zusatz 2.** Eine harmonisch geteilte Strecke ist das harmonische Mittel zu den Entfernungen ihrer Teilpunkte von ihrem Anfangspunkte.

Ist ferner  $M$  der Mittelpunkt von  $CD$ , so folgt aus  $AC \cdot BD = BC \cdot AD$  die Gleichheit  $(MA - MC)(MB + MD) = (MC - MB)(MA + MD)$ , und hieraus nach Ausführung der Multiplikationen:  $MC^2 = MA \cdot MB$ .  
 Bezeichnet man aber eine Strecke, deren Quadrat gleich dem Produkte zweier anderen ist, als das geometrische Mittel derselben, so folgt hieraus:

**Zusatz 3.** Die Hälfte der durch die beiden Teilpunkte bestimmten Strecke ist das geometrische Mittel zu den Entfernungen ihres Mittelpunktes von den Endpunkten der geteilten Strecke.

**Erklärung 4.** Liegt ein Punkt  $C$  auf einer Strecke  $AB$  so, daß  $AB:AC = AC:BC$  ist, so sagt man,  $AB$  sei durch  $C$  stetig geteilt, und bezeichnet die Teilung als goldenen Schnitt.

**Zusatz 1.** Liegt der Punkt  $C$  auf der Verlängerung von  $AB$  so, daß  $AC:AB = AB:BC$  ist, so sagt man,  $AB$  sei durch  $C$  äußerlich nach dem goldenen Schnitt geteilt.

**Zusatz 2.** Für jede Strecke giebt es nur einen inneren und nur einen äußeren Punkt, durch den sie nach dem goldenen Schnitt geteilt wird.

## 18. Kapitel.

### Proportionale Strecken bei geradlinigen Figuren.

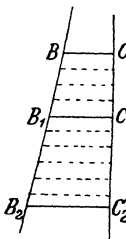
#### 77. Proportionale Abschnitte auf zwei Geraden.

**Erklärung.** Zwei Streckenpaare werden proportional genannt, wenn sie eine Proportion bilden, wenn also die Werte ihrer Verhältnisse gleich sind.

Bewegen sich auf zwei beliebigen Geraden zwei Punkte  $B$  und  $C$  so, daß die Verbindungslinie  $BC$  ihrer anfänglichen Lage parallel bleibt, so legen sie auf den Geraden in gleichen Zeiten Strecken zurück,

die von einander abhängig sind. Um das Gesetz für diese Abhängigkeit zu ermitteln, vergleicht man zunächst zwei auf einander folgende Wegelängen auf einer der Geraden mit einander und versucht es dann, den Vergleich auf die beiden entsprechenden Strecken der anderen Geraden zu übertragen. Sind nun  $BB_1$  und  $B_1B_2$  zwei von dem Punkte  $B$  zurückgelegte Längen, so hat man zwei Fälle zu unterscheiden:

1.  $BB_1$  hat mit  $B_1B_2$  das gemeinschaftliche Maß  $l$ , so daß  $BB_1 = p \cdot l$  und  $B_1B_2 = q \cdot l$ , also das Verhältnis  $BB_1 : B_1B_2$



gleich  $p \cdot l : q \cdot l$  oder gleich  $\frac{p}{q}$  ist. Teilt man dann aber

$BB_1$  in  $p$ , bez.  $B_1B_2$  in  $q$  gleiche Teile und zieht durch die Teilpunkte die Parallelen zu  $BC$ , so wird durch dieselben  $CC_1$  gleichfalls in  $p$  und  $C_1C_2$  in  $q$  gleiche Teile von der Größe  $m$  zerlegt (Zusatz 2 zu Satz 79); daher ist das Verhältnis  $CC_1 : C_1C_2$  gleich  $p \cdot m : q \cdot m$ , also ebenfalls gleich  $\frac{p}{q}$ . Die 4 Strecken  $BB_1, B_1B_2, CC_1$  und  $C_1C_2$  sind demnach proportional.

2.  $BB_1$  und  $B_1B_2$  sind inkommensurabel. Teilt man in diesem Falle  $BB_1$  in  $p$  gleiche Teile, deren Größe  $l$  auf  $B_1B_2$   $q$ -mal abgetragen werden kann, so daß bei  $B_1B_2$  ein Rest bleibt, der kleiner ist als  $l$ , und legt man wieder durch die Teilpunkte von  $BB_1$  und  $B_1B_2$  die Parallelen zu  $BC$ , so teilen dieselben  $CC_1$  in  $p$  gleiche Stücke von der Größe  $m$  und zerlegen  $C_1C_2$  in  $q$  Teile von der Größe  $m$  und ein Reststück, das kleiner als  $m$  ist. Demnach liegt der Wert des Verhältnisses sowohl bei  $BB_1 : B_1B_2$  als auch bei  $CC_1 : C_1C_2$  zwischen  $\frac{p}{q}$  und  $\frac{p}{q+1}$  und weicht von  $\frac{p}{q}$  um höchstens  $\frac{1}{q(q+1)}$  ab. Diese Differenz wird aber um so kleiner, je größer  $p$  und damit auch  $q$  gewählt wird, und daher können die beiden Verhältnisse auch dann als gleich gelten, wenn  $BB_1$  und  $B_1B_2$ , also auch  $CC_1$  und  $C_1C_2$  inkommensurabel sind.

Ist aber  $BB_1 : B_1B_2 = CC_1 : C_1C_2$ , so ist nach Satz 160, 4 auch  $(BB_1 + B_1B_2) : BB_1(B_1B_2) = (CC_1 + C_1C_2) : CC_1(C_1C_2)$  oder  $BB_2 : BB_1 : B_1B_2 = CC_2 : CC_1 : C_1C_2$ , und demnach besteht der

**Lehrsatz XVII.** Bewegen sich zwei Punkte auf zwei Geraden so, daß ihre Verbindungslinie zu ihrer anfänglichen Lage parallel bleibt, so sind die entsprechenden Wegelängen auf den beiden Geraden proportional.

Die Umkehrung dieses Lehrsatzes lautet:

**Lehrsatz XVIII.** Bewegen sich zwei Punkte in gleicher Richtung auf zwei Geraden so, daß die entsprechenden Wegelängen

auf den beiden Geraden proportional sind, so bleibt die Verbindungslinie der beiden Punkte parallel zu ihrer anfänglichen Lage, wenn sie einmal parallel zu derselben ist.

Dieser Satz muß indirekt bewiesen werden, weil nicht nach Wink 2 verfahren werden kann. Ist aber  $BB_1 : B_1B_2 = CC_1 : C_1C_2$  und  $B_1C_1 \parallel BC$ , und schneidet die Parallele zu  $B_1C_1$  durch  $B_2$  die Gerade  $CC_2$  in  $X$ , so ist nach Lehrf. XVII  $BB_1 = B_1B_2 = CC_1 : C_1X$ , und da

$BB_1 : B_1B_2 = CC_1 : C_1C_2$  sein soll, so ist nach Satz 162  $C_1X = C_1C_2$ , also  $B_2X$  dieselbe Linie wie  $B_2C_2$ .

Für das Trapez folgen hieraus sofort die Sätze:

**Satz 164.** Jede Parallele zu den Grundlinien eines Trapezes teilt die beiden Schenkel in proportionale Abschnitte.

**Satz 165.** Werden die Schenkel eines Trapezes durch eine Gerade so geschnitten, daß ihre entsprechenden Abschnitte proportional sind, so ist die schneidende Gerade parallel zu den Grundlinien.

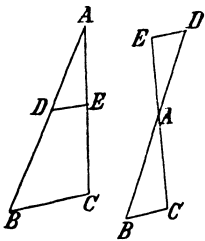
Anmerkung. Die beiden Sätze sind unabhängig davon, ob die Gerade die Schenkel oder ihre Verlängerungen trifft.

Gehen die beiden Geraden von einem Punkte  $A$  aus, so sind  $AB$ ,  $AC$  und  $BC$  die Seiten eines Dreiecks und die Linien  $B_1C_1$ ,  $B_2C_2$  u. s. w. Parallelen zu der Dreiecksseite  $BC$ . Für das Dreieck folgt daher aus den Lehrsätzen XVII und XVIII:

**Satz 166.** Jede Parallele zu einer Dreiecksseite teilt die beiden anderen Seiten in proportionale Abschnitte.

**Wink 11.** Um zu beweisen, daß 4 Strecken proportional sind, kann man sie als entsprechende Abschnitte auf zwei sich schneidenden Geraden vom Schnittpunkte aus abtragen und zu zeigen suchen, daß die Verbindungslinien der entsprechenden Endpunkte parallel sind.

**Satz 167.** Werden zwei Dreiecksseiten durch eine dritte Gerade so geschnitten, daß ihre entsprechenden Abschnitte proportional sind, so ist die Gerade parallel zu der dritten Seite des Dreiecks.



Ist ferner  $DE$  eine Parallele zu der Dreiecksseite  $BC$  und zieht man  $EF \parallel AB$ , so ist nach Satz 166  $BC : BF = AC : AE$ , und da  $BF = DE$  (Satz 71c) ist, also  $BF$  durch  $DE$  ersetzt werden kann, so folgt:  $BC : DE = AC : AE = AB : AD$ , d. h.

**Satz 168.** Werden zwei Dreiecksseiten durch eine Parallele zu der dritten geschnitten, so sind die beiden Parallelen

proportional zu den Entfernungen ihrer entsprechenden Endpunkte von der gegenüber liegenden Ecke.

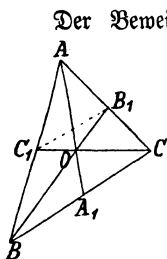
Dieser Satz kann in folgender Weise umgekehrt werden:

**Satz 169.** Verhalten sich zwei parallele Strecken wie die Entfernungen zweier ihrer Endpunkte von einem Punkte auf der Verbindungslinie derselben, so geht auch die Verbindungslinie der beiden anderen Endpunkte durch diesen Punkt.

Ein direkter Beweis ist nicht möglich. Sind aber (s. Fig. des Satzes 168)  $BC$  und  $DE$  zwei parallele Strecken und liegt  $A$  auf  $BD$  so, daß  $AB:AD = BC:DE$  ist, und zieht man die Gerade  $AC$ , welche  $DE$  in  $X$  trifft, so folgt aus Satz 168:  $AB:AD = BC:DX$ ; da aber nach Vor.  $AB:AD = BC:DE$  ist, so muß  $DX = DE$  sein, also  $X$  mit  $E$  zusammenfallen.

### 78. Übungsbeispiele und Aufgaben.

a) Bei einem Dreieck.

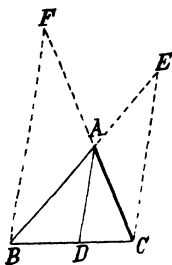


Der Beweis des Satzes über die Mittellinien eines Dreiecks (Satz 52) nimmt bei Benutzung des Satzes 168 die einfache Gestalt an: Da  $B_1C_1 \parallel BC$  ist (Satz 80), so folgt aus Satz 168:  $OB:OB_1 = BC:B_1C_1$ , und da  $BC = 2B_1C_1$  (Satz 79), so ist auch  $OB = 2OB_1$ . Ebenso ergibt sich  $OC = 2OC_1$ . In gleicher Weise teilen sich die Mittellinien  $AA_1$  und  $BB_1$  in dem Verhältnis 2:1, und da auf  $BB_1$  nur ein Punkt  $O$  liegt, für den  $OB = 2OB_1$  ist, so folgt, daß auch  $AA_1$  durch  $O$  geht.

**Satz 170.** Die Halbierungslinie eines Dreieckswinkels teilt die gegenüber liegende Seite in zwei Teile, die sich verhalten wie die anstoßenden Seiten.

Vor. Es sei in dem Dreieck  $ABC$   $\sphericalangle BAD = \sphericalangle CAD$ .

Beh. Es ist  $BD:DC = AB:AC$ .



Entw. des Bew. Die Lage der Strecken  $BD$  und  $DC$  auf  $BC$  weist darauf hin, daß nach Wink 11 verfahren wird. Man trägt also entweder  $AC$  an  $AB$  oder  $AB$  an  $AC$  an und leitet daraus mit Benutzung der Vor. ab, daß  $CE$ , bez.  $BF \parallel AD$  ist. Zu dem Zwecke ist zu zeigen (Wink 2!), daß  $\sphericalangle AEC = \sphericalangle BAD$  ist. Da der Winkel  $BAC$  als Außenwinkel an der Spitze des gleichschenkligen Dreiecks  $AEC$ , bez.  $AFB$  liegt, so hat man den Satz 31 mit der Vor. zu verbinden.

Zusatz. Wird statt des Dreieckswinkels der zugehörige Außenwinkel halbiert, so teilt die Halbierungslinie die gegenüber liegende Seite äußerlich in dem Verhältnis der anstoßenden Seiten.

Die Entw. des Bew. schließt sich eng an die vorhergehende Entw. an.

Folgerung. Die Halbierungslinien eines Dreieckswinkels und des zugehörigen Außenwinkels bilden mit den Seiten, die den Dreieckswinkel einschließen, vier harmonische Strahlen.

Der Satz 170 kann umgekehrt werden und führt dann zu

**Satz 171.** Wird eine Dreiecksseite in dem Verhältnis der beiden anderen Seiten geteilt und der Teilpunkt mit der gegenüber liegenden Ecke verbunden, so wird durch die Verbindungslinie der Winkel (Außenwinkel) an der Ecke halbiert.

Vor. Es sei  $BD : DC = AB : AC$ .

Beh. Es ist  $\sphericalangle BAD = \sphericalangle CAD$ .

Entw. des Bew. Die Lage der Winkel schließt einen unmittelbaren Vergleich derselben aus. Stellt man daher (s. Fig. des Satzes 170), um zu einem mittelbaren Vergleich zu gelangen, einen Winkel her, der gleich  $\sphericalangle BAD$  ist, indem man  $CE \parallel AD$  zieht, so hat man zu zeigen, daß derselbe auch gleich  $\sphericalangle CAD$ , oder da  $\sphericalangle CAD = \sphericalangle ACE$  (W. W. an Parallelen), daß  $\sphericalangle AEC = \sphericalangle ACE$  ist. Nach Satz IX b ist hierzu die Gleichheit  $AE = AC$  erforderlich, die aus der Zeichnung und Vor. leicht abgeleitet werden kann.

#### b) Bei einem Trapez.

**Satz 172.** Die Diagonalen eines Trapezes teilen sich gegenseitig in proportionale Abschnitte. (Satz 166!)

**Satz 173.** Der Schnittpunkt der Schenkel eines Trapezes teilt die Schenkel äußerlich in proportionale Abschnitte. (Satz 166!)

Zusatz. Diese Abschnitte sind auch proportional zu den von ihren Endpunkten ausgehenden Grundlinien des Trapezes. (Satz 168!)

**Satz 174.** Die Verbindungslinie des Diagonalen- oder Schenkelschnittpunktes mit dem Mittelpunkte einer Grundlinie halbiert auch die andere Grundlinie des Trapezes.

Nach Satz 166 oder 168 und 162.

Folgerung 1. Die Verbindungslinie des Diagonalen- und Schenkelschnittpunktes halbiert die Grundlinien des Trapezes.

Die Verbindungslinie der Grundlinienmitten geht durch jeden der beiden Punkte; zwischen zwei Punkten ist aber nur eine Gerade möglich.

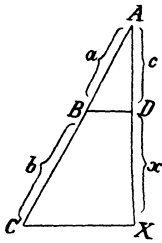
Folgerung 2. Die Mitten der Grundlinien bilden mit den Schnittpunkten der Diagonalen und Schenkel eines Trapezes vier harmonische Punkte.

Die Entfernungen der beiden Schnittpunkte von den Seitenmitten verhalten sich wie die Hälften der Grundlinien nach Satz 166, bez. 168.

e) Aufgaben.

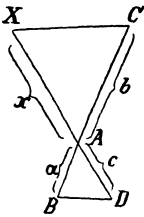
**Aufgabe 117.** (Grund-Aufgabe.) Zu drei gegebenen Strecken die 4. Proportionale zu zeichnen.

**Auflösung.** Es sollen  $a$ ,  $b$  und  $c$  die gegebenen Strecken sein und  $x$  derart bestimmt werden, daß  $a:b = c:x$  ist. Die vorausgegangenen Sätze lassen mehrere Wege zur Ausführung erkennen.



$DX$  die gesuchte Strecke.

1. Wählt man auf einem von zwei Strahlen vom Ausgangspunkte  $A$  aus die Strecken  $AB = a$  und  $BC = b$  und auf dem anderen die Strecke  $AD = c$  ab, verbindet  $D$  mit  $B$  und zieht  $CX \parallel BD$ , so ist

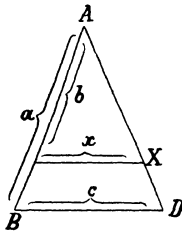


$DX$  die gesuchte Strecke.

2. Werden vom Schnittpunkte  $A$  zweier sich schneidenden Geraden auf der einen die Strecken  $a$  ( $AB$ ) und  $b$  ( $AC$ ) in entgegengesetzter Richtung und auf der anderen die Strecke  $c$  ( $AD$ ) in gleicher Richtung mit  $AB$  abgemessen, so schneidet die durch  $C$  zu  $BD$  gelegte Parallele

$CX$  in der Strecke  $AX$  die 4. Proportionale zu  $a$ ,  $b$  und  $c$  ab.

3. Auch der Satz 168 führt zu einer Lösung. Man mißt auf einer Geraden die Strecken  $a$  ( $AB$ ) und  $b$  ( $AC$ ) ab, zieht durch  $B$  eine Gerade, trägt auf derselben von  $B$  aus die Strecke  $c$  ( $BD$ ) ab und zieht  $CX \parallel BD$ . Es ist dann  $CX$  die 4. Proportionale zu  $a$ ,  $b$  und  $c$ .



**Aufgabe 118.** (Grund-Aufgabe.) Zu zwei gegebenen Strecken die dritte Proportionale zu zeichnen.

**Auflösung.** Es soll eine Strecke  $x$  so gezeichnet werden, daß  $a:b = b:x$  ist. Da diese Proportion aus  $a:b = c:x$  hervorgeht, wenn  $c = b$  wird, so führen die verschiedenen Ausführungen der Aufgabe 117 auch hier zum Ziele, wenn man stets  $b$  und  $c$  als gleichgroß annimmt.

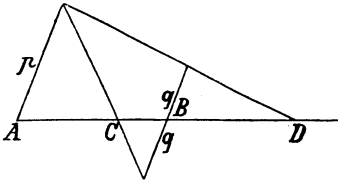
**Aufgabe 119.** Eine gegebene Strecke innerlich nach einem gegebenen Verhältnis zu teilen.

**Aufgabe 120.** Eine gegebene Strecke äußerlich nach einem gegebenen Verhältnis zu teilen.

**Auflösung zu 119 und 120.** Ist  $AB$  die gegebene Strecke und  $X$  der gesuchte Teilpunkt, so daß  $XA:XB = p:q$  ist, und gestaltet man diese Proportion so um, daß sie nur noch eine unbekannte Größe enthält, indem man nach Satz 160, 4 die Proportion bildet  $(XA \pm XB):AX = (p \pm q):p$  oder  $AB:AX = (p \pm q):p$ , so erweist sich  $AX$  als 4. Proportionale zu den drei gegebenen Strecken  $(p \pm q)$ ,  $p$  und  $AB$ .

Die bequemste Lösung der beiden Aufgaben erhält man, wenn man durch





$A$  und  $B$  zwei Parallelen legt, auf der ersten von  $A$  aus  $p$  und auf der zweiten von  $B$  aus  $q$  nach beiden Seiten abträgt und die Endpunkte der beiden letzten Strecken mit dem Endpunkte der ersten verbindet.

Man erhält damit gleichzeitig die Lösung der

**Aufgabe 121.** Eine gegebene Strecke harmonisch so zu teilen, daß zwei entsprechende Abschnitte ein gegebenes Verhältnis haben.

**Aufgabe 122.** Zu drei auf einer Geraden liegenden Punkten den 4. harmonischen Punkt zu zeichnen.

**Auflösung.** Liegt der Punkt  $B$  zwischen  $A$  und  $C$ , so ist  $BA : BC$  das Verhältnis, in welchem  $AC$  äußerlich geteilt werden muß.

### 79. Proportionale Abschnitte auf mehreren Geraden.

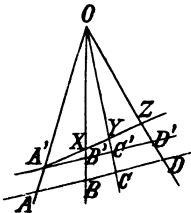
Die Sätze des Abschnitts 77 können zum Teil erweitert werden. Auch auf drei oder mehreren Geraden werden durch Parallelen proportionale Strecken abgeschnitten (Lehrsatz XVII und G. III). Gehen insbesondere die Geraden von einem Punkte aus und bilden sie somit ein Strahlenbüschel, so sind nicht nur die Abschnitte auf den Strahlen, sondern auch die Abschnitte auf den Parallelen proportional.

#### a) Ein beliebiges Strahlenbüschel.

**Satz 175.** Werden zwei Parallelen von einem Strahlenbüschel geschnitten, so sind die entsprechenden Abschnitte auf denselben unter einander und zu den vom Ausgangspunkte aus gerechneten Abschnitten der Strahlen proportional.

**Zusatz.** Zwei Abschnitte der einen Parallelen sind proportional zu den entsprechenden Abschnitten der anderen.

**Satz 176.** Werden zwei Geraden durch ein Strahlenbüschel so geschnitten, daß ihre entsprechenden Abschnitte proportional sind, so sind die Geraden parallel. (Erste Umkehrung des Satzes 175.)



**Entw. des Bew.** Da nach Wink 2 nicht verfahren werden kann, so muß der Satz indirekt bewiesen werden. Würde man aber durch  $A'$  die Parallele zu  $AD$  ziehen, welche die Strahlen in  $X$ ,  $Y$  und  $Z$  trafe, so wäre nach Satz 175, Zus.  $AB : BC = A'X : XY$ , und da der Annahme nach  $AB : BC = A'B' : B'C'$  ist, so müßte  $A'B' : B'C' = A'X : XY$ , also  $B'X \parallel C'Y$  sein u. s. w.

Die zweite Umkehrung des Satzes 175 lautet:

**Satz 177.** Werden zwei Parallelen durch mehrere Geraden so geschnitten, daß ihre entsprechenden Abschnitte

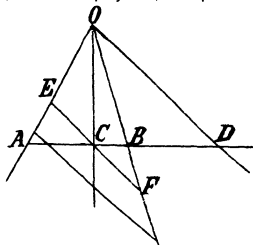
proportional sind, so bilden die Geraden ein Strahlenbüschel.

Bem. indirekt. Zur Anwendung kommt Satz 169.

Zusatz. Sind die entsprechenden Abschnitte der Parallelen gleich, so sind die schneidenden Geraden parallel.

b) Ein harmonisches Strahlenbüschel.

Erklärung. Verbindet man vier harmonische Punkte mit einem Punkte außerhalb der Geraden, auf der sie liegen, so entsteht ein harmonisches Strahlenbüschel. Die Strahlen, welche nach zugeordneten Punkten führen, heißen einander zugeordnet.



Die Sätze 175 und 176 gelten natürlich auch für ein harmonisches Strahlenbüschel. Es treten jedoch bei demselben außerdem noch einige bemerkenswerte Beziehungen ein. Zieht man zunächst durch den inneren Teilpunkt C der Strecke AB die Parallele zu dem Strahle OD, welche OA in E und OC in F trifft, so ist  $AC : AD = EC : OD$  (Satz 166) und  $BC : BD = FC : OD$ .

Da aber aus  $AC : BC = AD : BD$  durch Vertauschung der inneren Glieder die Proportion  $AC : AD = BC : BD$  entsteht, so folgt

$$AC : AD = EC : OD$$

$$\text{und } AC : AD = FC : OD,$$

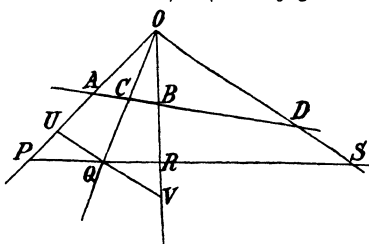
also  $EC = FC$ . Wird nun irgend eine andere Parallele zu OD gezogen, so ist dieselbe auch parallel zu EF, und demnach folgt aus Satz 175, daß auch ihre Abschnitte ebenso wie EC und FC einander gleich sind. Es besteht also der

**Satz 178.** Zieht man zu einem von vier harmonischen Strahlen eine Parallele, so teilt der zugeordnete Strahl den durch die beiden anderen Strahlen begrenzten Abschnitt der Parallelen in zwei gleiche Teile.

Durch Umkehrung dieses Satzes erhält man:

**Satz 179.** Wird eine Parallele zu einem von vier Strahlen durch den nicht-benachbarten Strahl so geschnitten, daß ihr durch die beiden anderen Strahlen begrenzter Abschnitt halbiert wird, so bilden die vier Strahlen ein harmonisches Strahlenbüschel.

Der dem Schnittpunkte zugeordnete harmonische Punkt liegt im Unendlichen.



Zieht man ferner eine beliebige Gerade, welche vier harmonische Strahlen in den Punkten P, Q, R und S schneidet, und legt durch Q die Parallele UV zu OS, so ist wiederum nach Satz 166

$$PQ : PS = QU : OS$$

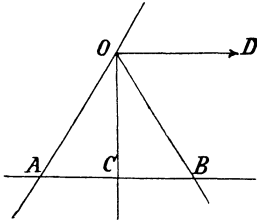
$$\text{und } QR : RS = QV : QS.$$

Da aber  $QU = QV$  (Satz 178), also

$QU : OS = QV : OS$  ist, so folgt  $PQ : PS = RQ : RS$  oder  $PQ : RQ = PS : RS$ , d. h.

**Satz 180.** Ein harmonisches Strahlenbüschel wird durch eine beliebige Gerade in vier harmonischen Punkten geschnitten.

Folgerung. Wie durch drei Punkte der vierte harmonische Punkt, so ist auch durch drei Strahlen der vierte harmonische Strahl bestimmt.



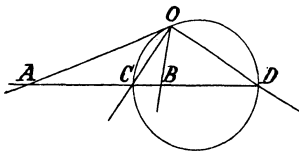
Ist  $C$  der Mittelpunkt der Strecke  $AB$ , so liegt der  $C$  zugeordnete harmonische Punkt im Unendlichen. Steht daher der Strahl  $OC$  senkrecht auf  $AB$ , so steht er auch senkrecht auf dem zugeordneten Strahle. Da aber das Dreieck  $ABO$  gleichschenkelig, also  $\sphericalangle AOC = \sphericalangle BOC$  ist, so wird der Nebenwinkel von  $AOB$  durch den vierten Strahl halbiert. Daraus folgt:

**Satz 181.** Halbirt einer von vier harmonischen Strahlen einen der Winkel der beiden nicht-zugeordneten Strahlen, so steht er senkrecht auf dem zugeordneten Strahle.

Auch dieser Satz kann umgekehrt werden.

**Satz 182.** Stehen zwei zugeordnete Strahlen senkrecht auf einander, so halbieren sie die Winkel der beiden anderen Strahlen.

Der Beweis ist mit Benutzung des Satzes 178 leicht durchführbar. Kz. II gelangt zur Anwendung.



Da aber zwei Strahlen  $OC$  und  $OD$  stets senkrecht auf einander stehen, wenn  $O$  auf dem Kreise liegt, der  $CD$  zum Durchmesser hat, so ergibt sich aus den Sätzen 181 und 182 der

**Satz 183.** Die Mittelpunkte aller durch vier harmonische Punkte gehenden harmonischen Strahlenbüschel liegen auf dem Kreise, der den Abstand zweier zugeordneten Punkte zum Durchmesser hat.

Daraus folgt unter Benutzung der Sätze 182 und 170:

**Geometr. Ort 8.** Der geometr. Ort aller Punkte, deren Entfernungen von zwei Punkten  $A$  und  $B$  ein gegebenes Verhältnis  $p : q$  haben, ist der Kreis, der zum Durchmesser den Abstand der beiden Punkte hat, welche die Strecke  $AB$  innerlich und äußerlich in dem Verhältnis  $p : q$  teilen.

Als weitere Übungsbeispiele zur Anwendung des Satzes 170 dienen die Sätze:

**Satz 184.** Steht in einem Kreise eine Sehne senkrecht auf einem Durchmesser, so teilen die Katheten eines rechtwinkl. Drei-

ecks, dessen Hypotenuse der Durchmesser ist, die Sehne harmonisch.

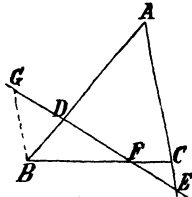
Da die Sehne senkrecht auf dem Durchmesser steht, so gehören die Teile des Winkels zwischen den nach den Endpunkten der Sehne führenden Strahlen zu gleichen Bogen.

**Satz 185.** Steht in einem Kreise eine Sehne senkrecht auf einem Durchmesser, so teilen die Verbindungslinien ihrer Endpunkte mit einem beliebigen Punkte des Kreises den Durchmesser harmonisch.

Der Bew. ergibt sich auf demselben Wege wie bei Satz 184.

c) Drei sich gegenseitig schneidende Geraden.

Werden die Seiten eines Dreiecks oder ihre Verlängerungen durch eine Gerade geschnitten, so bestimmen die Schnittpunkte auf ihnen 6 Stücke, zwischen denen eine bemerkenswerte Beziehung besteht. Sind  $D, E$  und  $F$  die Schnittpunkte mit  $AB$ , bez.  $AC$  und  $BC$ , so können, wenn man durch  $B$  die Parallele  $BG$  zu  $AC$  zieht, die Sätze 166 und 168 angewandt werden und führen zu den Proportionen:



$$FB : FC = BG : EC$$

$$\text{und } DA : DB = EA : BG.$$

Ersetzt man in denselben die Strecken durch ihre Maßzahlen,

so erhält man: 
$$\frac{FB}{FC} = \frac{BG}{EC} \text{ und } \frac{DA}{DB} = \frac{EA}{BG},$$

und hieraus durch Multiplikation: 
$$\frac{DA \cdot FB}{DB \cdot FC} = \frac{EA}{EC}.$$

Durch Erweiterung mit  $\frac{EC}{EA}$  ergibt sich aber aus dieser Gleichheit:

$$\frac{DA \cdot FB \cdot EC}{DB \cdot FC \cdot EA} = 1, \text{ d. h.}$$

**Satz 186.** (Satz des Menelaos). Eine Gerade, welche die drei Seiten eines Dreiecks oder ihre Verlängerungen schneidet, teilt die Seiten in den Schnittpunkten so, daß die Produkte aus je drei nicht in ihren Endpunkten an einander stoßenden Abschnitten gleich sind.

Anmerkung. Die drei Schnittpunkte liegen entweder sämtlich auf den Verlängerungen der Seiten, oder zwei von ihnen liegen auf den Seiten selbst.

Die Umkehrung dieses Satzes

**Satz 187.** Werden die drei Seiten eines Dreiecks durch drei Punkte so geteilt, daß die Produkte aus je drei nicht in ihren Endpunkten an einander stoßenden Abschnitten gleich sind, und liegen die drei Teilpunkte auf den Verlängerungen der Seiten oder zwei von ihnen auf den Seiten selbst, so liegen die drei Punkte in einer Geraden.

kann nur indirekt mit Berufung auf Satz 186 bewiesen werden.

**Erklärung.** Eine Gerade, welche durch eine Ecke eines Dreiecks geht, wird *Strecklinie* genannt.

In einem Dreieck  $ABC$  seien drei Strecklinien  $AA_1$ ,  $BB_1$  und  $CC_1$  so gezogen, daß sie sich in einem Punkte  $O$  schneiden. Es läßt sich dann durch wiederholte Anwendung des Satzes 186 zwischen den Teilen der Seiten eine Beziehung herleiten. Zunächst werden die drei Seiten des Dreiecks  $BCB_1$  durch die Strecklinie  $AA_1$  geschnitten, und daher ist  $BA_1 \cdot AC \cdot OB_1 = CA_1 \cdot AB_1 \cdot OB$ . Die Strecken  $AC$ ,  $OB$  und  $OB_1$  können aber aus dieser Gleichheit entfernt werden; denn wendet man den Satz 186 auf ein zweites Dreieck an, auf dessen Seiten die genannten Strecken als Abschnitte liegen, nämlich auf das Dreieck  $ABB_1$ , dessen Seiten die Strecklinie  $CC_1$  schneidet, und verbindet die daraus folgende Gleichheit  $OB \cdot CB_1 \cdot AC_1 = OB_1 \cdot AC \cdot BC_1$  durch Multiplikation mit  $BA_1 \cdot AC \cdot OB_1 = CA_1 \cdot AB_1 \cdot OB$ , so ergibt sich nach Kürzung der gleichen Faktoren:

$$AC_1 \cdot BA_1 \cdot CB_1 = AB_1 \cdot BC_1 \cdot CA_1, \text{ d. h.}$$

**Satz 188.** (Satz des Ceva.) Drei durch einen Punkt gehende Strecklinien eines Dreiecks teilen die Seiten desselben so, daß die Produkte aus je drei nicht in ihren Endpunkten an einander stoßenden Abschnitten gleich sind.

**Anmerkung 1.** Die Strecklinien schneiden entweder alle Seiten des Dreiecks oder nur eine von ihnen und die Verlängerungen der anderen.

**Anmerkung 2.** Für die Halbierungslinien der Dreieckswinkel kann der Satz des Ceva auch aus Satz 170 abgeleitet werden.

**Folgerung.** Die Verbindungslinie der Endpunkte zweier Strecklinien schneidet die nicht zu diesen gehörige Seite in einem Punkte, der als 4. harmonischer Punkt dem Endpunkte der dritten Strecklinie zugeordnet ist.

Da die Gerade  $B_1C_1$  die drei Seiten schneidet, so kann mit der Gleichheit  $AC_1 \cdot BA_1 \cdot CB_1 = AB_1 \cdot BC_1 \cdot CA_1$  nach Satz 186 die Gleichheit  $AC_1 \cdot BD \cdot CB_1 = BC_1 \cdot CD \cdot AB_1$  zusammengestellt und aus beiden durch Division die zur Behauptung erforderliche Proportion  $BA_1 : BD = BC_1 : CD$  oder  $BA_1 : CA_1 = BD : CD$  abgeleitet werden.

Auch die Umkehrung des Ceva'schen Satzes

**Satz 189.** Werden die drei Seiten eines Dreiecks durch drei Strecklinien so geteilt, daß die Produkte aus je drei nicht in ihren Endpunkten an einander stoßenden Abschnitten gleich sind, und liegen die Teilpunkte entweder sämtlich auf den Seiten selbst oder zwei von ihnen auf den Verlängerungen der Seiten, so schneiden sich die Strecklinien in einem Punkte.

kann nur indirekt mit Berufung auf Satz 188 bewiesen werden.

**Anmerkung.** Der Satz 189 kann benutzt werden, um zu beweisen, daß sich bei einem Dreieck in einem Punkte schneiden

1. die drei Mittellinien,
2. die drei Höhen,

3. die drei Winkelhalbierungslinien,
4. die Ecklinien nach den Berührungspunkten des eingeschriebenen Kreises,
5. die Ecklinien nach den Berührungspunkten eines äußeren Berührungskreises,
6. die Ecklinien nach den auf den Seiten selbst liegenden Berührungspunkten der drei äußeren Berührungskreise.

Bei 1. sind die Seiten halbiert, also je zwei Faktoren der Produkte gleich.

Bei 2. sind die Abschnitte der Seite  $a$  gleich  $\sqrt{b^2 - h_a^2}$  und  $\sqrt{c^2 - h_a^2}$ , der Seite  $b$  gleich  $\sqrt{c^2 - h_b^2}$  und  $\sqrt{a^2 - h_b^2}$ , der Seite  $c$  gleich  $\sqrt{a^2 - h_c^2}$  und  $\sqrt{b^2 - h_c^2}$  und die Produkte  $\sqrt{b^2 - h_a^2} \cdot \sqrt{c^2 - h_b^2}$ ,  $\sqrt{a^2 - h_b^2} \cdot \sqrt{a^2 - h_c^2}$  und  $\sqrt{b^2 - h_c^2} \cdot \sqrt{a^2 - h_b^2}$  erweisen sich als gleich, weil nach Satz 137  $a^2 h_a^2 = b^2 h_b^2 = c^2 h_c^2$  ist.

Bei 3. gelangt Satz 170 zur Verwendung. Bei 4. und 5. ergibt sich die Gleichheit der Produkte aus Satz 107, und bei 6. schließlich sind die Abschnitte der Seite  $a$  gleich  $s - b$  und  $s - c$ , der Seite  $b$  gleich  $s - c$  und  $s - a$ , der Seite  $c$  gleich  $s - a$  und  $s - b$  (s. Anmerk. zu Satz 115), so daß die beiden Produkte die Größe  $(s - a)(s - b)(s - c)$  besitzen.

## 80. Aufgaben.

a) Aufgaben, deren Lösung die Herstellung von 4. Proportionalen erfordert.

Aufgabe 123. Ein Dreieck zu zeichnen aus

1.  $a + b = s$ ,  $a : b = p : q$  und  $c$  oder  $\alpha$ ,  $m_a$ ,  $h_a$  oder  $h_b$ .

2.  $a - b = d$ ,  $a : b = p : q$  und  $c$  oder  $\alpha$ ,  $m_a$ ,  $h_a$  oder  $h_b$ .

Auflösung. Da die einzelnen Bestimmungen den Weg für die Zeichnung nicht erkennen lassen, so muß man es zunächst versuchen, zwei derselben zu vereinen. Verbindet man aber die Forderung  $a + b = s$ , bez.  $a - b = d$  mit  $a : b = p : q$ , indem man die Proportion  $(a \pm b) : (p \pm q) = a : p$  oder  $(p \pm q) : (a \pm b) = p : a$  bildet, so erweist sich  $a$  als 4. Proportionale zu den gegebenen Strecken  $p + q$ ,  $s$  und  $p$ , bez.  $p - q$ ,  $d$  und  $p$ . Kennt man aber  $a$ , so ist auch  $b$  bekannt und damit die Ausführung der Aufgabe leicht erkennbar.

Aufgabe 124. Ein Dreieck zu zeichnen aus

1.  $h_a + h_b = s$ ,  $a : b = p : q$  und  $c$  oder  $\alpha$ .

2.  $h_a - h_b = d$ ,  $a : b = p : q$  und  $c$  oder  $\alpha$ .

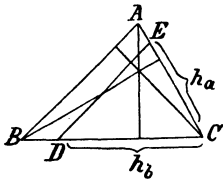
Auflösung. Der Gedanke, die beiden ersten Forderungen zu vereinen, ist zunächst nicht durchführbar. Da aber  $a$ ,  $b$ ,  $h_a$  und  $h_b$  durch die Gleichheit  $ah_a = bh_b$  mit einander verbunden sind und daher  $a : b$  durch  $h_b : h_a$  ersetzt werden kann, so ist  $h_b : h_a = p : q$ . Es kann deshalb entsprechend wie in Aufgabe 124.  $h_a$  als vierte Proportionale zu drei gegebenen Strecken nachgewiesen und damit die Aufgabe auf eine bereits gelöste Aufgabe zurückgeführt werden.

Aufgabe 125. Ein Dreieck zu zeichnen aus seinen drei Höhen.

Auflösung. Gegeben sind  $h_a$ ,  $h_b$ ,  $h_c$ ; gesucht sind  $a$ ,  $b$ ,  $c$ . Zwischen den Seiten und Höhen eines Dreiecks bestehen die Beziehungen:

$$a \cdot h_a = b \cdot h_b \text{ oder } a : h_b = b : h_a.$$

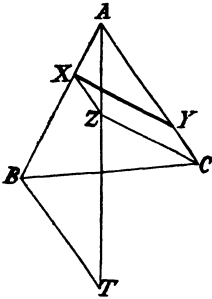
$$b \cdot h_b = c \cdot h_c \text{ oder } b : h_c = c : h_b.$$



Wird aber eine dieser Proportionen an einem beliebigen Dreieck dargestellt, indem man z. B. auf der Seite  $CB$  die Strecke  $CD$  gleich der Höhe  $h_b$  dieses Dreiecks und auf  $CA$  die Strecke  $CE$  gleich der Höhe  $h_a$  abmisst, so ist die Verbindungslinie  $DE$  parallel zu  $AB$  und somit  $b : c = h_a : DE$ . Da aber  $b : c = h_c : h_b$  ist, so folgt  $h_c : h_b = h_a : DE$ . Es kann also  $DE$  und damit das Dreieck  $CDE$  gezeichnet werden. Die Höhe  $h_c$  steht senkrecht auf  $DE$ , und da ihre Länge bekannt ist, so kann nun die Lage von  $AB$  leicht gefunden werden.

**Aufgabe 126.** Auf zwei Seiten eines Dreiecks die Endpunkte einer gegebenen Strecke so zu legen, daß der obere Abschnitt der einen Seite zu dem unteren der anderen Seite in einem gegebenen Verhältnis steht.

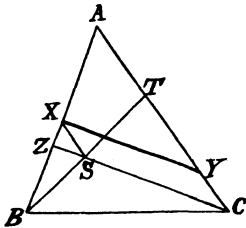
**Auflösung.** Für die Punkte  $X$  und  $Y$  sind in der Aufgabe drei Bestimmungen angegeben: 1.  $X$  soll auf  $AB$  und  $Y$  auf  $AC$  liegen. 2.  $XY$  soll gleich  $l$  sein. 3. Es soll die Proportion  $AX : CY = p : q$  bestehen. Mit



den beiden ersten ist zunächst nichts anzufangen. Stellt man aber, um die dritte auszunutzen, das Verhältnis  $AX : CY$  her, indem man  $CZ \parallel XY$  und  $XZ \parallel CY$  zieht, so entsteht ein Punkt  $Z$ , dessen Entfernung von  $C$  gleich  $XY$  oder  $l$  ist (Forderung 2). Kann man daher  $Z$  bestimmen, so liefert die Parallele durch  $Z$  zu  $AC$  auf  $AB$  den Punkt  $X$  und die Parallele durch  $X$  zu  $CZ$  auf  $AC$  den Punkt  $Y$  (Forderung 1). Nun läßt sich das Verhältnis  $AX : XZ$  durch Verlängerung von  $AZ$  und die Parallele  $BT$  zu  $AC$  ersetzen durch  $AB : BT$ , und demnach ist  $BT$  die vierte Proportionale zu  $p, q$  und  $AB$ . Kennt man aber  $T$  ( $BT$  ist parallel zu  $AC!$ ), so kennt man  $AT$  und damit auch  $Z$ , den Schnittpunkt von  $AT$  mit dem Kreise  $C, l$ .

**Aufgabe 127.** Zwei Seiten eines Dreiecks durch eine Gerade so zu schneiden, daß ihre oberen und auch ihre unteren Abschnitte zu einander in gegebenen Verhältnissen stehen.

**Auflösung.** Für die Punkte  $X$  und  $Y$  sind drei Bestimmungen angegeben: 1.  $X$  soll auf  $AB$  und  $Y$  auf  $AC$  liegen. 2. Es soll  $AX : AY = p : q$  und 3.  $BX : CY = r : s$  sein.



Mit Benutzung des bekannten Punktes  $C$  läßt sich das Verhältnis  $AX : AY$  ersetzen durch  $AZ : AC$ , wenn  $CZ \parallel XY$  ist. Da dann aber  $AZ : AC = p : q$  ist (Forderung 2), so kann  $Z$  und damit  $CZ$  als bekannt gelten. Stellt man jetzt das Verhältnis  $BX : CY$  durch  $BX : XS$  dar, indem man  $XS$  parallel zu  $CY$  zieht, und ersetzt dieses durch  $AB : AT$ , indem man dem bekannten Punkt  $B$  mit  $S$  verbindet und  $BS$  bis zum Schnittpunkte mit  $AC$  verlängert, so ist  $AB : AT = r : s$ , und demnach kann auch  $T$  als bekannt gelten (Forderung 3). Damit

sind für  $S$  zwei geometr. Örter bestimmt. Die Parallele durch  $S$  zu  $AC$  liefert dann auf  $AB$  den Punkt  $X$  und die Parallele durch  $X$  zu  $CS$  auf  $AC$  den Punkt  $Y$  (Forderung 1).

Aufgabe 128. In zwei sich schneidenden Kreisen eine Doppelsehne so zu ziehen, daß ihre Abschnitte ein gegebenes Verhältnis haben.

Zeichne die Abstände der Sehnen und übertrage das Verhältnis der halben Sehnen auf die Mittelpunktslinie.

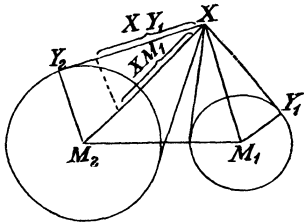
b) Aufgaben, deren Lösung die Herstellung von vier harmonischen Punkten erfordert.

Aufgabe 129. Zu drei gegebenen Strahlen von gegebener Reihenfolge den vierten harmonischen Strahl zu zeichnen.

Aufgabe 130. Einen Punkt zu bestimmen, von dem aus zwei an einander stoßende Abschnitte einer Geraden unter gleichen Winkeln gesehen werden.

Der Punkt liegt auf Ort 8. Der Durchmesser desselben wird durch Zeichnung des vierten harmonischen Punktes  $D$  zu  $A$ ,  $B$  und  $C$  hergestellt.

Aufgabe 131. Einen Punkt zu bestimmen, von dem aus zwei Kreise unter gleichen Winkeln gesehen werden.



Auflösung. Ist  $X$  ein Punkt, der den Bedingungen der Aufgabe genügt, und sind  $XY_1$  und  $XY_2$  die Tangenten an die beiden Kreise, so stimmen die Dreiecke  $XM_1Y_1$  und  $XM_2Y_2$  in der Größe aller Winkel überein. Trägt man daher  $XM_1$  auf  $XM_2$  und  $XY_1$  auf  $XY_2$  ab, so ist die Verbindungslinie der Endpunkte parallel zu  $M_2Y_2$  (Satz II) und demnach  $XM_1 : XM_2 = M_1Y_1 : M_2Y_2 = r_1 : r_2$ . Der Punkt  $X$  liegt daher auf

Ort 8, und das Verhältnis, in dem die Mittelpunktslinie  $M_1M_2$  zu teilen ist, hat die Größe  $r_1 : r_2$ .

Aufgabe 131. Ein Dreieck zu zeichnen aus

1.  $a, b : c = p : q$  und  $\alpha$  (Ort 8 und 5).
2.  $a, b : c = p : q$  und  $h_a$  (Ort 8 und 2).
3.  $a, b : c = p : q$  und  $m_a$  (Ort 8 und 1).
4.  $a, b : c = p : q$  und  $h_b$  (Ort 8, 6 und 1).
5.  $a, b : c = p : q$  und  $w_a$  (Ort 8, Satz 170 und Ort 1).
6.  $a, b : c = p : q$  und  $m_b : m_c = r : s$  (Ort 8, Satz 58 und nochmals Ort 8).

## 19. Kapitel.

### Die Ähnlichkeit der Figuren.

#### §1. Die 4 Ähnlichkeitsätze.

Erklärung 1. Das Zeichen der Kongruenz  $\cong$  ist ein doppeltes. Der eine Teil  $=$  bedeutet, daß die Figuren gleichgroß sind, und der



zweite Teil  $\sim$  zeigt an, daß die Figuren dieselbe Gestalt besitzen. Findet nur die letzte Übereinstimmung statt, so sagt man, die Figuren seien ähnlich.

Folgerung. Ähnlich sind alle Kreise und alle regelmäßigen Vielecke mit derselben Seitenzahl.

Zwei beliebige geradlinige Figuren besitzen aber dieselbe Gestalt, wenn ihre Winkel in derselben Reihenfolge einander gleich und ihre entsprechenden Seiten proportional sind. Daraus folgt:

Erklärung 2. Zwei Vielecke werden ähnlich genannt, wenn sie in der Größe aller entsprechenden Winkel und in dem Verhältnis aller entsprechenden Seiten übereinstimmen.

Die Aufgabe, zu dem Dreieck  $ABC$  ein ähnliches Dreieck  $DEF$  zu zeichnen, enthält demnach zunächst zwei Bestimmungen über die Winkel (Folg. 5, Lehrs. IV), und da von den Proportionen  $AB : DE = AC : DF$ ,  $AB : DE = BC : EF$  und  $AC : DF = BC : EF$  jede eine Folge der beiden anderen ist, so enthält die Aufgabe weiter zwei von einander unabhängige Bestimmungen über die Verhältnisse der Seiten. Entsprechend wie bei der Ableitung der Kongruenzsätze (Nr. 35) läßt sich nun zeigen, daß von den vier Bedingungen der Aufgabe nur zwei für die Zeichnung verwandt werden können, weil die Gestalt des Dreiecks  $DEF$  vollständig bestimmt ist,

1. durch zwei Winkel,
2. durch einen Winkel und das Verhältnis der einschließenden Seiten,
3. durch das Verhältnis zweier Seiten und den Winkel, welcher der größeren von ihnen gegenüber liegt, und
4. durch die Verhältnisse zweier Seiten zu der dritten.

Läßt sich daher beweisen, daß das Dreieck  $DEF$  bei den vier möglichen Ausführungen der Aufgabe dem Dreieck  $ABC$  ähnlich ist, so werden damit 4 den Kongruenzsätzen entsprechende Ähnlichkeitsätze gewonnen, die dazu dienen können, die Gleichheit zweier Winkel oder zweier Verhältnisse nachzuweisen.

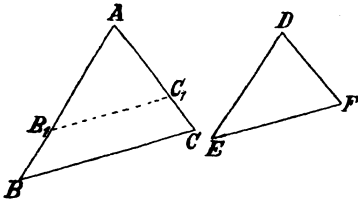
**Lehrsatz XIX.** (Erster Ähnlichkeitsatz). Stimmen zwei Dreiecke überein in der Größe zweier Winkel, so sind sie ähnlich.

Vor. Es sei  $\sphericalangle D = \sphericalangle A$  und  $\sphericalangle E = \sphericalangle B$ .

Beh. Es ist  $\triangle DEF \sim \triangle ABC$ .

Entw. des Bew. Da die Dreiecke bereits in der Größe aller Winkel übereinstimmen, so muß noch gezeigt werden, daß  $AB : DE = AC : DF$  und  $AB : DE = BC : EF$  ist.

Nach Wink 11 hat man für den ersten Teil der Behauptung  $DE$  auf  $AB$  und  $DF$  auf  $AC$  abzutragen, die Endpunkte  $B_1$  und  $C_1$



mit einander zu verbinden und zu beweisen, daß  $B_1C_1 \parallel BC$  ist. Die hierzu erforderliche Gleichheit der  $\text{W.}$   $B_1$  und  $B$  ergibt sich aber aus dem Vergleich des Winkels  $E$  mit  $B$  (Vor.) und  $B_1$  (Zeichnung,  $\text{Rz. II}$ ). Infolge der Kongruenz der Dreiecke  $DEF$  und  $AB_1C_1$  ist

nun auch  $B_1C_1 = EF$ , und da  $AB : AB_1$  ( $DE$ ) =  $BC : B_1C_1$  ist, so ergibt sich daraus auch:  $AB : DE = BC : EF$ .

Anmerkung. Man kann natürlich auch  $\text{Rz. I}$  benutzen, indem man  $AB_1 = DE$  zeichnet,  $B_1C_1 \parallel BC$  zieht und dann den Satz 166 in Verbindung mit  $\text{Rz. I}$  anwendet.

**Lehrsatz XX.** (Zweiter Ähnlichkeitsatz.) **Stimmen zwei Dreiecke überein in der Größe eines Winkels und dem Verhältnis der diesen Winkel einschließenden Seiten, so sind sie ähnlich.**

Vor. Es sei  $\sphericalangle D = \sphericalangle A$  und  $DE : DF = AB : AC$ .

Beh. Es ist  $\triangle DEF \sim \triangle ABC$ .

Entw. des Bew. Zunächst ist zu zeigen, daß  $\sphericalangle E = \sphericalangle B$  ist. Da die Lage der Winkel einen unmittelbaren Vergleich nicht zuläßt, so muß man mit Rücksicht auf die Vor. einen Winkel herstellen, der gleich  $\sphericalangle E$  ist, und zu beweisen suchen, daß er auch gleich  $\sphericalangle B$  ist. Beides erreicht man, wenn man wieder (s. Fig. des Lehrs. XIX) die beiden Verhältnisse der Vor. an einer Figur darstellt, indem man  $DE$  auf  $AB$  und  $DF$  auf  $AC$  abmißt, und die Endpunkte  $B_1$  und  $C_1$  mit einander verbindet. Es ist dann  $\triangle AB_1C_1 \cong \triangle DEF$  ( $\text{Rz. II}$ ), also  $\sphericalangle B_1 = \sphericalangle E$ , und  $B_1C_1 \parallel BC$  (Satz 167), also auch  $\sphericalangle B_1 = \sphericalangle B$ . Da nun auch  $B_1C_1 = EF$  ist, so liefert die Anwendung des Satzes 168 die weiterhin zur Ähnlichkeit erforderlichen Proportionen.

**Lehrsatz XXI.** (Dritter Ähnlichkeitsatz.) **Stimmen zwei Dreiecke überein in dem Verhältnis zweier Seiten und der Größe des Winkels, welcher der größeren von diesen gegenüber liegt, so sind sie ähnlich.**

Vor. Es sei  $DE : DF = AB : AC$ ,  $DE > DF$  und  $\sphericalangle F = \sphericalangle C$ .

Beh. Es ist  $\triangle DEF \sim \triangle ABC$ .

Die Entw. des Bew. schließt sich eng an die vorhergehende Entw. an. Es wird wieder  $B_1C_1 \parallel BC$ , also  $\sphericalangle B_1 = \sphericalangle B$ , und da  $\sphericalangle C_1 = \sphericalangle C$ , also auch (Vor.) =  $\sphericalangle F$  ist, so ist  $\triangle AB_1C_1 \cong \triangle DEF$  ( $\text{Rz. III}$ ). Hieraus folgt  $\sphericalangle B_1 = \sphericalangle E$ , also  $\sphericalangle B = \sphericalangle E$  und  $B_1C_1 = EF$  und damit nach Satz 168 die weitere zur Ähnlichkeit erforderliche Proportion.

**Zusatz.** **Stimmen zwei Dreiecke überein in dem Verhältnis zweier Seiten und der Größe eines entsprechenden**

Gegenwinkels, während die beiden anderen Gegenwinkel sich in demselben Sinne von einem Rechten unterscheiden, so sind sie ähnlich.

**Lehrsatz XXII.** (Vierter Ähnlichkeitsatz.) **Stimmen zwei Dreiecke überein in den Verhältnissen zweier entsprechenden Seiten zu der dritten, so sind sie ähnlich.**

Vor. Es sei  $DE : EF = AB : BC$  und  $DF : EF = AC : BC$ .

Beh. Es ist  $\triangle DEF \sim \triangle ABC$ .

Entw. des Bew. Es ist noch zu zeigen, daß  $\sphericalangle E = \sphericalangle B$  und  $\sphericalangle F = \sphericalangle C$  ist. Die Lage der Winkel schließt auch hier einen unmittelbaren Vergleich aus, und demnach muß zunächst ein Winkel hergestellt werden, der gleich einem der Winkel  $E$  oder  $B$  ist, und bewiesen werden, daß er auch gleich dem anderen ist. Nun gestattet die Vor.  $DE : DF = AB : AC$  wieder die Herstellung eines Winkels  $B_1$  von der Größe  $B$  und zugleich eines Winkels  $C_1$  von der Größe  $C$ , und demnach hat man nachzuweisen, daß  $\sphericalangle B_1 = \sphericalangle E$  und  $\sphericalangle C_1 = \sphericalangle F$  ist. Nach Wink 6 ist hierzu die Kongruenz der Dreiecke  $AB_1C_1$  und  $DEF$  erforderlich, deren Beweis sich auf Kz. IV stützen muß. Man hat demnach aus den weiteren Teilen der Vor. abzuleiten, daß  $B_1C_1 = EF$  ist. Die Anwendung der Sätze 168 ( $B_1C_1 \parallel BC$ !) und 162 führt nun schnell zum Ziele.

**Wink 12.** Um zu beweisen, daß zwei Winkel gleich oder vier Strecken proportional sind, kann man zu zeigen suchen, daß sie als entsprechende Stücke in zwei ähnlichen Dreiecken liegen.

## 82. Übungsbeispiele und Aufgaben.

### a) Sätze über ähnliche Dreiecke.

**Satz 190.** In ähnlichen Dreiecken ist das Verhältnis zweier entsprechenden Linien gleich dem Verhältnis zweier entsprechenden Seiten.

Nach Wink 12 zu verfahren.

**Zusatz.** In ähnlichen Dreiecken sind die von zwei entsprechenden Linienpaaren gebildeten Winkel gleich.

Nach Wink 12 zu verfahren.

**Satz 191.** Die Seitensummen ähnlicher Dreiecke verhalten sich wie zwei entsprechende Seiten.

Nach Satz 163, auf dessen Benutzung die Behauptung hinweist.

**Satz 192.** Sind die entsprechenden Seiten zweier Dreiecke parallel, so sind die Dreiecke ähnlich.

Mit Benutzung des Satzes 20 auf Lehrs. XIX zurückzuführen.

**Satz 193.** Sind je zwei entsprechende Seiten zweier Dreiecke parallel, so schneiden sich die Verbindungslinien der entsprechenden Ecken in einem Punkte.

Zum Beweise sind die Sätze 168 und 169 zu benutzen.

**Erklärung.** Sind je zwei Seiten zweier Dreiecke parallel, so heißen die beiden Dreiecke ähnlichliegend. Die Verbindungslinien der entsprechenden Ecken werden Ähnlichkeitsstrahlen und ihr Schnittpunkt Ähnlichkeitspunkt genannt.

**Zusatz.** Bei gleicher Richtung der Parallelen ist der Ähnlichkeitspunkt ein äußerer, bei entgegengesetzter Richtung ein innerer.

**Satz 194.** Sind zwei ähnliche Dreiecke ähnlichliegend, so sind zwei entsprechende Linien in denselben parallel und verhalten sich wie zwei entsprechende Seiten.

Das Verfahren nach Wink 12 führt auf die Benutzung des Satzes 190.

**Satz 195.** Stehen die Seiten zweier Dreiecke senkrecht auf einander, so sind die Dreiecke ähnlich.

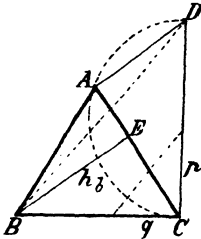
Aus Satz 12 ergeben sich die Bedingungen des Lehrf. XIX.

b) Aufgaben.

**Aufgabe 132.** Ein Dreieck zu zeichnen aus

$a, b : hb = p : q$  und 1.  $ha$ . 2.  $c$ . 3.  $ma$ . 4.  $\alpha$ . 5.  $\beta$  oder  $\gamma$ .

**Auflösung.** Von den drei Forderungen der Aufgabe sind die erste und dritte in bekannter Weise zu befriedigen; es handelt sich also nur noch darum, die zweite Bestimmung auszuführen. Über die Lage von  $hb$  weiß man weiter nichts, als daß  $hb \perp b$  ist und mit  $a$  zugleich in einem rechtwinkligen Dreieck  $BCE$  vorkommt; dies weist aber darauf hin, daß man, um das Verhältnis  $b : hb$  aufzusuchen,  $b$  als entsprechende Kathete eines rechtwinkl. Dreiecks darzustellen hat, das dem Dreieck  $BCE$  ähnlich ist. Da der Spitze,  $b$  anliegende Winkel des neuen Dreiecks gleich  $\sphericalangle CBE$  sein muß, so muß seine Hypotenuse  $CD$  in dem (bekannten) Punkte  $C$  auf  $BC$  senkrecht stehen. Es ist dann  $hb : b = a : CD$ , also  $q : p = a : CD$  und damit  $CD$  herstellbar. Kennt man aber  $CD$ , so liefert der Halbkreis über  $CD$  ( $CD \perp BC$ ) einen zweiten geometr. Ort für  $A$ .

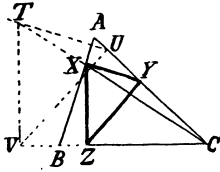


**Aufgabe 133.** Einem gegebenen Dreieck einzuschreiben

1. ein Quadrat,
2. ein Rechteck, dessen Seiten ein gegebenes Verhältnis haben,
3. ein gleichseitiges Dreieck,
4. ein gleichschenkl. rechtwinkl. Dreieck, dessen Hypotenuse senkrecht auf einer Seite des ersteren steht,
5. ein gleichschenkl. rechtwinkl. Dreieck, dessen Hypotenuse zu einer Seite des ersteren parallel ist,
6. ein Dreieck, dessen Seiten senkrecht auf den Seiten des ersteren stehen,
7. ein rechtwinkl. Dreieck, dessen Hypotenuse parallel zu einer Seite des ersteren ist, während der Scheitelpunkt des rechten Winkels mit einem auf dieser Seite gegebenen Punkte zusammenfällt.

**Auflösung.** Da die gesuchten Ecken auf den Seiten des Dreiecks liegen sollen, so ist jede von ihnen bekannt, sobald man die Richtung ihrer Ver-

bindungsline mit der gegenüber liegenden Ecke des gegebenen Dreiecks kennt. Verbindet man aber z. B.  $C$  mit dem auf  $AB$  liegenden Punkte  $X$  und stellt



das Verhältnis  $XY : YZ$  bei einem beliebigen Punkte  $T$  der Geraden  $CX$  her, indem man  $TU \parallel XY$  und  $UV \parallel XZ$  zieht, so ist  $\triangle TUV \sim \triangle XYZ$  (Lehrs. XX), also  $C$  der Ähnlichkeitspunkt (Satz 193) und  $CA$  sowie  $CB$  Ähnlichkeitsstrahlen. Kann man daher ein Dreieck  $TUV$  herstellen, das dieselben Eigenschaften besitzt, wie das gesuchte Dreieck und dessen Ecken  $U$  auf  $AC$  und  $V$  auf  $BC$  liegen, so

ist  $CT$  der dritte Ähnlichkeitsstrahl und schneidet  $AB$  in  $X$ . Ist aber  $X$  gefunden, so liefern die Parallelen durch  $X$  zu  $TU$ ,  $TV$  und  $UV$  in den Fällen 1) und 2) und die Parallelen zu  $TU$  und  $TV$  in den Fällen 3—6 die noch fehlenden Ecken auf den anderen Seiten. Bei der letzten Aufgabe fällt  $X$  mit dem auf  $AB$  gegebenen Punkte  $P$  zusammen. Der Weg zur Herstellung des Dreiecks  $TUV$  darf als bekannt angesehen werden.

Anmerkung. Das bei dieser Aufgabe angewandte Verfahren, zuerst ein Dreieck herzustellen, das dem gesuchten Dreieck ähnlich ist, und dann das letztere selbst zu zeichnen, kann überall zur Verwendung kommen, wo die Bedingungen der Aufgabe nach Ausschcheidung einer Forderung, in der Regel einer Längenangabe, noch hinreichen, um eine der gesuchten Figur ähnliche Figur zu bestimmen. Dasselbe wird als das Ähnlichkeitsverfahren bezeichnet.

Aufgabe 134. Ein Dreieck zu zeichnen aus

1.  $a : h_a = p : q$ ,  $\alpha$  und  $m_a$  ( $m_b, w_a, w_b, h_b, r$  oder  $q$ ).
2.  $a : h_a = p : q$ ,  $a : b = r : s$  und  $m_a$  ( " " " " " " " " ).
3.  $(a \pm b) : c = p : q$ ,  $\alpha$  und  $m_a$  ( " " " " " " " " ).

Auflösung. In allen diesen Fällen liefert das Ähnlichkeitsverfahren, wenn für  $a$ , bez. für  $a \pm b$  eine beliebige Länge angenommen wird, ein dem gesuchten ähnliches Dreieck. Wird dann in demselben die Linie gezeichnet, die dem ausgeschiedenen dritten Bestimmungsstücke entspricht, und der Satz 190 angewandt, so erweist sich die wirkliche Länge von  $a$ , bez. von  $a \pm b$  als die 4. Proportionale zu drei bekannten Strecken von gegebener Reihenfolge.

### §3. Anwendungen auf ein rechtwinkliges Dreieck.

Satz 196. Stimmen zwei rechtwinkl. Dreiecke in der Größe eines spitzen Winkels überein, so sind sie ähnlich.

Satz 197. Die zur Hypotenuse eines rechtwinkl. Dreiecks gehörige Höhe zerlegt das Dreieck in zwei unter einander und dem ganzen Dreieck ähnliche Teile.

Folgerung 1. Jede Kathete ist die mittlere Proportionale zu der Hypotenuse und ihrer Projektion auf dieselbe.

Folgerung 2. Die zur Hypotenuse gehörige Höhe ist die mittlere Proportionale zu den Abschnitten der Hypotenuse.

Folgerung 3. Jede Sehne eines Kreises ist die mittlere Proportionale zu einem Durchmesser, der durch einen ihrer Endpunkte geht, und ihrer Projektion auf denselben.

Folgerung 4. Jedes von einem Kreispunkte auf einen Durchmesser gefällte Lot ist die mittlere Proportionale zu den Abschnitten, in welche der Durchmesser zerlegt wird.

Diese Folgerungen führen zu einer einfachen Auflösung der Aufgabe 135 (Grund-Aufgabe). Zu zwei gegebenen Strecken die mittlere Proportionale zu zeichnen.

Auflösung. Ist  $x$  die mittlere Proportionale zu  $a$  und  $b$ , also  $a : x = x : b$ , so kann  $x$  entweder angesehen werden als Kathete eines rechtwinkl. Dreiecks, dessen Hypotenuse gleich  $a$  und dessen erster Hypotenusenabschnitt gleich  $b$  ist, oder als Höhe, die in dem gemeinschaftlichen Punkte der an einander gelegten Strecken  $a$  und  $b$  auf der Hypotenuse  $a + b$  errichtet wird.

Für die Aufgabe 118: Zu zwei gegebenen Strecken die dritte Proportionale zu zeichnen, ergibt sich ferner die

Auflösung. Ist  $x$  die dritte Proportionale zu  $a$  und  $b$ , also  $a : b = b : x$ , so kann  $x$  angesehen werden entweder als Projektion einer Kathete von der Länge  $b$  auf die Hypotenuse  $a$  oder als zweiter Hypotenusenabschnitt eines rechtwinkl. Dreiecks, in welchem der erste Hypotenusenabschnitt die Länge  $a$  und die nach dessen Endpunkte führende Hypotenusenhöhe die Länge  $b$  hat.

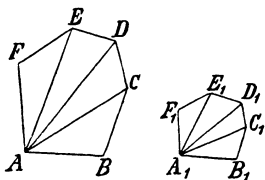
Anmerkung. Die erste Ausführung der Aufgabe ist nur für  $a > b$  möglich; die zweite ist immer durchführbar. S. Aufg. 118.

### 84. Anwendungen auf ähnliche Vielecke.

Satz 198. Stimmen 1. zwei Rechtecke in dem Verhältnis zweier anstoßenden Seiten, 2. zwei Rhomben in der Größe eines Winkels, und 3. zwei Parallelogramme in dem Verhältnis zweier Seiten und dem von diesen eingeschlossenen Winkel überein, so sind sie ähnlich.

Satz 199. Lassen sich zwei Vielecke von gleicher Seitenzahl durch Diagonalen von einer Ecke aus in der Reihe nach ähnliche Dreiecke zerlegen, so sind sie ähnlich.

Entw. des Bew. Es soll zunächst bewiesen werden, daß die Winkel der beiden Vielecke der Reihe nach einander gleich sind. Nach Wink 12 ist dazu erforderlich, daß sie, bez. ihre Teile als entsprechende Stücke in den ähnlichen Dreiecken erkannt werden.



Aus  $\triangle ABC \sim \triangle A_1 B_1 C_1$  und  $\triangle ACD \sim \triangle A_1 C_1 D_1$  folgt aber, daß  $A_1 C_1$  der Diagonale  $AC$ , also  $\sphericalangle B_1$  dem Winkel  $B$  entspricht. Aus  $\triangle ACD \sim \triangle A_1 C_1 D_1$  und  $\triangle ADE \sim \triangle A_1 D_1 E_1$  ergibt sich ferner, daß die Ecke  $C_1$  der Ecke  $C$  und somit  $A_1$  der Ecke  $A$ ,  $D_1$  der Ecke  $D$  u. s. w. entspricht; daraus folgt aber nach G. IV die

Gleichheit aller entsprechenden Winkel.

Es soll ferner bewiesen werden, daß die Verhältnisse zweier entsprechenden Seiten gleich sind. Nachdem die Zuordnung festgestellt ist, ergibt sich sofort  $AB : A_1 B_1 = BC : B_1 C_1$ . Da aber  $AB : A_1 B_1 = AC : A_1 C_1$  und  $AC : A_1 C_1 = CD : C_1 D_1$  ist, so ist auch  $AB : A_1 B_1 = CD : C_1 D_1$ , u. s. w.

**Satz 200.** Ähnliche Vielecke werden durch die Diagonalen von entsprechenden Ecken aus in der Reihe nach ähnliche Dreiecke zerlegt.

Wiederholte Anwendung des Lehrsatzes XX führt zum Beweise.

**Satz 201.** Die Seitensummen ähnlicher Vielecke verhalten sich wie zwei entsprechende Seiten.

Die Anwendung des Satzes 163 führt zum Beweise.

**Satz 202.** Bei regelmäßigen Vielecken von derselben Seitenzahl verhalten sich die Halbmesser der ein- und umgeschriebenen Kreise wie zwei Seiten.

Der Wink 12 weist auf die Verwendung des Lehrsatzes XIX hin.

**Folgerung.** Die Seitensummen regelmäßiger Vielecke von derselben Seitenzahl verhalten sich wie die Halbmesser der ein- und umgeschriebenen Kreise.

**Zusatz.** Die Längen zweier Kreise verhalten sich wie ihre Halbmesser.

**Satz 203.** Wird einem Kreise ein regelmäßiges Vieleck eingeschrieben und das regelmäßige Vieleck von derselben Seitenzahl umgeschrieben, so verhält sich die Seitensumme des letzteren zu der Seitensumme des ersten wie der Halbmesser zu dem Abstand des Mittelpunktes von einer Seite des eingeschriebenen Vielecks.

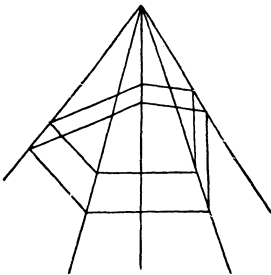
Das Verfahren nach Wink 12 liefert den Nachweis, daß das Verhältnis des Halbmessers zu dem Abstand durch das Verhältnis zweier Seitenhälften ersetzt werden kann. Auch aus der Folgerung, Satz 202 läßt sich der Satz 203 ableiten, weil der Halbmesser und der Abstand die Halbmesser der den Vielecken eingeschriebenen Kreise sind.

**Erklärung.** Werden zwei ähnliche Vielecke so gezeichnet, daß je zwei entsprechende Seiten parallel sind, so sagt man, sie seien ähnlich-liegend.

**Satz 204.** Die Verbindungslinien der entsprechenden Ecken zweier ähnlichliegenden ähnlichen Vielecke schneiden sich in einem Punkte, welcher Ähnlichkeitspunkt genannt wird.

Wie bei Satz 193 ist der Bew. mit Benutzung der beiden Sätze 168 und 169 leicht durchführbar.

**Anmerkung.** Der Satz 204 ermächtigt zu einer bequemen Ausführung der Aufgabe: Ein Vieleck zu zeichnen, das einem gegebenen Vieleck ähnlich ist. Man nimmt einen beliebigen Punkt als Ähnlichkeitspunkt an, zieht die Ähnlichkeitsstrahlen und schneidet dieselben durch Parallelen zu den Seiten des gegebenen Vielecks derart, daß der Ausgangspunkt jeder folgenden Parallelen mit dem Endpunkte der vorhergehenden zusammenfällt.

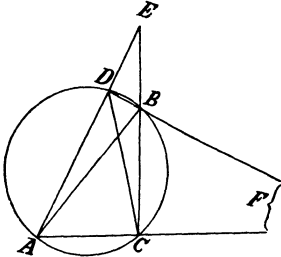


20. Kapitel.

**Proportionale Linien beim Kreise.**

**§5. Linien und Punkte bei einem Kreise.**

Liegen vier Punkte  $A, B, C$  und  $D$  auf einem Kreise so, daß die Verbindungslinien  $AD$  und  $BC$  sich außerhalb des Kreises schneiden, so schneiden sich  $AB$  und  $CD$  innerhalb desselben und bilden mit den beiden Sehnenpaaren  $AD$  und  $BC$  sowie  $AC$  und  $DB$  zwei Dreiecke, die in der Größe aller Winkel übereinstimmen (Lehrs. XIII), also nach Lehrsatz XIX ähnlich sind. Es haben daher zwei in den beiden ähnlichen Dreiecken entsprechend liegende, von den Schnittpunkten ausgehende Abschnitte der Sehnen das gleiche Verhältnis.

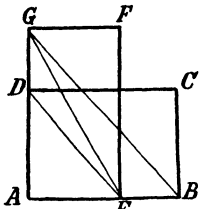


**Satz 205 (Hilfssatz).** Bilden vier Strecken eine Proportion, so ist das Rechteck aus den äußeren Gliedern gleich dem Rechteck aus den beiden inneren.

Vor. Es sei  $a : b = c : d$ .

Beh. Es ist  $a \cdot d = b \cdot c$ .

Entw. des Bew. Sind  $ABCD$  und  $ADEFG$  die Rechtecke aus  $a$  und  $d$  und aus  $b$  und  $c$ , so soll bewiesen werden, daß  $ABCD = ADEFG$  ist. Da ein Vergleich der ganzen Rechtecke nicht durchführbar ist, so kann man es versuchen, ihre durch die Diagonalen  $BD$  und  $EG$  hergestellten Hälften mit einander zu vergleichen. Wählt man diejenigen, die das Stück  $ADE$  gemeinschaftlich besitzen, so muß gezeigt werden, daß die Reststücke  $DEB$  und  $DEG$  gleich sind. Hierzu ist aber die Parallelität der Geraden  $DE$  und  $BG$  erforderlich, die nach Satz 167 aus der Vor. abgeleitet werden kann.



Zwischen den Abschnitten der Sehnen besteht hiernach der

**Lehrsatz XXIII.** Der Schnittpunkt zweier Sehnen eines Kreises teilt dieselben so, daß die Rechtecke aus ihren Abschnitten gleich sind.

Vergl. hiermit den Satz 158.

Fallen von den vier Punkten zwei zusammen, so geht die zu ihnen gehörige Sekante in eine Tangente über und ihre beiden Abschnitte werden gleich. Daraus folgt:

Folgerung 1. Gehen eine Tangente und eine Sekante von



einem Punkte aus, so ist die Tangente die mittlere Proportionale zu den von dem Ausgangspunkte aus gerechneten Abschnitten der Sekante.

Anmerkung. Hiernach entsteht die mittlere Proportionale zu  $a$  und  $b$ , wenn man von dem Ausgangspunkte der Strecke  $a$  an den zu dem Durchmesser  $a - b$  gehörigen Kreis eine Tangente zieht.

Wird eine beliebige dritte Sehne (Sekante) durch den Schnittpunkt der beiden ersten gelegt, so ist auch das Rechteck aus den Abschnitten dieser Sehne (Sekante) gleich jedem der Rechtecke aus den Abschnitten der ersten. Daraus folgt:

Folgerung 2. Die Größe des Rechtecks aus den Abschnitten einer Sehne eines Kreises ist unabhängig von der Richtung der Sehne und wird durch den Teilpunkt allein bestimmt.

Erklärung. Die Größe des Rechtecks aus den Abschnitten einer Sehne wird Potenz des Teilpunktes für den Kreis genannt.

Nach dieser Erklärung gewinnt die Folgerung 2 den Wortlaut:

Folgerung 2a. Jeder Punkt innerhalb oder außerhalb eines Kreises besitzt eine konstante Potenz für den Kreis.

Zusatz. Die Potenz eines äußeren Teilpunktes ist das Quadrat über der zu ihm gehörigen Tangente, und die Potenz eines inneren Teilpunktes ist das Quadrat über der Hälfte derjenigen Sehne, die auf seiner Verbindungslinie mit dem Mittelpunkte senkrecht steht. (S. Satz 100.)

Die Umkehrung des Lehrsatzes XXIII lautet:

Satz 206. Werden zwei Strecken durch ihren Schnittpunkt so geteilt, daß die Rechtecke aus ihren Abschnitten gleich sind; so liegen ihre vier Endpunkte auf einem Kreise. Dieser Satz kann nur indirekt mit Berufung auf Lehrf. XXIII (s. Satz 159) bewiesen werden. Dasselbe gilt von der Umkehrung der Folgerung 1, Lehrf. XXIII, die den Wortlaut annimmt:

Folgerung. Teilt eine Strecke in einem ihrer Endpunkte eine zweite Strecke äußerlich so, daß sie die mittlere Proportionale zu den Abschnitten derselben ist, so berührt sie in ihrem zweiten Endpunkte den Kreis, der durch diesen und die beiden Endpunkte der anderen Strecke gelegt wird.

Geht die Sekante durch den Mittelpunkt, so bildet der Berührungsradius mit der Sekante und der Tangente ein rechtwinkl. Dreieck, und demnach ist

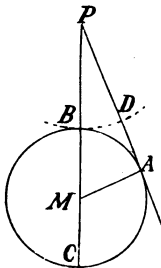
$$(PB + r)^2 - r^2 = PA^2$$

$$\text{oder } PB^2 + 2r \cdot PB = PA^2.$$

Wird nun  $P$  so gewählt, daß  $PA = 2r$  ist, so folgt hieraus:

$$PB^2 + PB \cdot PA = PA^2$$

$$\text{oder } PB^2 = PA (PA - PB).$$



Trägt man daher  $PB$  in  $PD$  auf  $PA$  ab, so daß  $PA - PB = AD$  ist, so folgt hieraus:  $PD^2 = PA \cdot AD$  oder  $PA : PD = PD : AD$ , d. h.

**Satz 207.** Hat eine Tangente die Länge des Durchmessers, so ist der kleinere Abschnitt der von ihrem Ausgangspunkte aus gezogenen Mittelpunktssekante der größere Teil der stetig (nach dem goldenen Schnitt) getheilten Tangente.

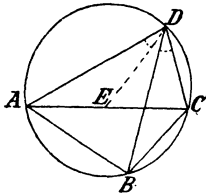
Auf diesen Satz gründet sich die Ausführung der Aufgabe 136. Eine Strecke  $AB$  stetig zu teilen.

Man errichtet in  $B$  das Lot auf  $AB$ , mißt auf demselben  $MB = \frac{1}{2}AB$  ab, beschreibe den Kreis  $M$ ,  $MB$ , verbindet  $M$  mit  $A$  und trägt das außerhalb des Kreises liegende Stück von  $AM$  von  $A$  aus auf  $AB$  ab.

### 86. Übungsbeispiele.

#### a) Sehnenviereck und eingeschriebene Dreiecke.

Vier Punkte  $A, B, C$  und  $D$  eines Kreises bestimmen ein Sehnenviereck, und die Diagonalen  $AC$  und  $BD$  zerlegen dasselbe in je zwei Dreiecke, von denen immer die beiden, die auf derselben Sehne stehen, diejenigen Winkel gleich haben, die der Sehne gegenüber liegen. Demnach erhält man zwei ähnliche Dreiecke, wenn man eins von ihnen unverändert läßt und von dem anderen ein Stück abschneidet, das mit dem ersten noch in der Größe eines zweiten Winkels übereinstimmt. Für die beiden Paare von Dreiecken über  $AD$  und  $DC$  ist hierzu erforderlich, daß der Winkel  $BDC$  in  $D$  an  $AD$  angelegt wird, weil dann nicht nur

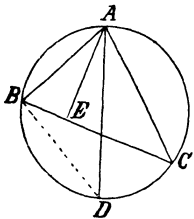


$\sphericalangle ADE = \sphericalangle BDC$ , sondern auch  $\sphericalangle EDC = \sphericalangle ADB$  ist. Aus  $\triangle ADE \sim \triangle BDC$  folgt aber:  $AD : BD = AE : BC$  oder  $AD \cdot BC = BD \cdot AE$ , und aus  $\triangle DEC \sim \triangle DAB$  folgt:  $CD : BD = CE : AB$  oder  $AB \cdot CD = BD \cdot CE$ ; somit ist

$$AB \cdot CD + AD \cdot BC = BD(AE + CE) = AC \cdot BD, \text{ d. h.}$$

**Satz 208.** (Satz des Ptolemäus.) In jedem Sehnenviereck ist das Rechteck aus den Diagonalen gleich der Summe der Rechtecke aus den gegenüber liegenden Seiten.

Liegt der vierte Punkt  $D$  so, daß  $AD$  ein Durchmesser ist, so ist das eine der über  $AB$  stehenden Dreiecke rechtwinklig, und demnach muß die Linie, welche von dem anderen ein dem ersten ähnliches abschneiden soll, senkrecht auf  $AC$  oder  $BC$  stehen. Zieht man aber  $AE \perp BC$ , so daß  $\triangle AEC \sim \triangle ABD$  ist, so folgt daraus:



$$AB : AE = AD : AC \text{ oder } AB \cdot AC = AD \cdot AE.$$

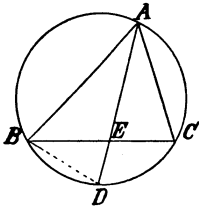
Da  $AE$  die zu  $BC$  gehörige Höhe und  $AD$  der Durchmesser des dem Dreieck  $ABC$  umgeschriebenen Kreises ist, so führt diese Gleichheit zu

**Satz 209.** In jedem Dreieck ist das Rechteck aus zwei Seiten gleich dem Rechteck aus der zu der dritten Seite gehörigen Höhe und dem Durchmesser des umgeschriebenen Kreises.

Folgerung. Für den Inhalt  $J$  eines Dreiecks ergibt sich hiernach:  

$$J = \frac{a \cdot h_a}{2} = \frac{a}{2} \cdot \frac{bc}{2r} = \frac{abc}{4r}.$$

Steigt weiter  $D$  so, daß die Sehne  $AD$  den Winkel  $BAC$  halbiert,



so ist nach Lehrf. XIX  $\triangle AEC \sim \triangle ABD$ ,

also  $AC \cdot AD = AE \cdot AB$ ,

oder  $AD \cdot AE = AB \cdot AC$ ,

und somit  $(AE + DE) AE = AB \cdot AC$

oder  $AE^2 = AB \cdot AC - AE \cdot DE.$

Da aber  $AE \cdot DE = BE \cdot CE$  ist (Lehrsatz XXIII), so ergibt sich  $AE^2 = AB \cdot AC - BE \cdot CE$ , d. h.

**Satz 210.** In jedem Dreieck ist das Quadrat über einer Winkelhalbierungslinie gleich dem Rechteck aus den beiden den Winkel einschließenden Seiten, vermindert um das Rechteck aus den Abschnitten der zugehörigen Seite.

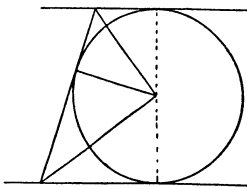
Bilden schließlich die Punkte  $A, B$  und  $C$  ein gleichseitiges Dreieck, so sind in der Gleichheit (s. Fig. zu Satz 209)

$AD \cdot BC = AB \cdot CD + AC \cdot BD$  die Faktoren  $AB, AC$  und  $BC$  einander gleich und können daher durch Division entfernt werden. Es ist demnach, wo auch  $D$  auf dem Bogen  $BC$  liegen mag,  $AD = BD + CD$ , d. h.

**Satz 211.** Wird ein Punkt des Kreises, der einem gleichseitigen Dreieck umgeschrieben ist, mit den Ecken des Dreiecks verbunden, so ist eine dieser Verbindungslinien gleich der Summe der beiden anderen.

#### b) Drei Tangenten.

Werden zwei parallele Tangenten eines Kreises durch eine dritte

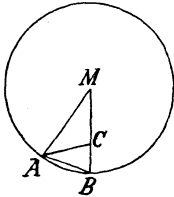


Tangente geschnitten und die Schnittpunkte mit dem Mittelpunkte verbunden, so halbieren die Verbindungslinien die Winkel der Tangenten, und da diese supplementär sind (Lehrf. VI), so sind ihre Hälften zusammen gleich  $R$ . Die Verbindungslinien stehen daher senkrecht auf einander, und der Berührungsradius der dritten Tangente

erweist sich als Hypotenusenhöhe eines rechtwinkl. Dreiecks. Die Folgerung 2, Satz 197 führt demnach zu dem

**Satz 212.** Zwei parallele Tangenten eines Kreises begrenzen auf einer dritten Tangente mit dem Berührungspunkte derselben zwei Abschnitte, zu denen der Halbmesser die mittlere Proportionale ist.

c) Das regelmäßige 10-Eck.



Ist  $AB$  die Seite eines regelmäßigen 10-Ecks und  $M$  der Mittelpunkt des umgeschriebenen Kreises, so ist  $\sphericalangle AMB = \frac{360^\circ}{10} = 36^\circ$ , also jeder Winkel an der Grundlinie  $AB$  gleich  $72^\circ$  und damit doppelt so groß wie  $\sphericalangle AMB$ . Halbirt man daher einen dieser Winkel, etwa  $\sphericalangle A$ , so erhält man wiederum ein gleichschenkeliges Dreieck  $CAM$  und zugleich ein zweites gleichschenkeliges Dreieck  $ABC$ , das dem Dreieck  $MAB$  ähnlich ist. (Lehrf. XIX.) Daraus folgt:

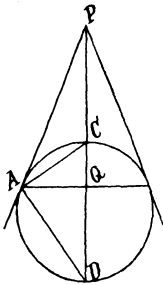
$MA : AB = AB : BC$  oder  $MB : AC = AC : BC$  oder schließlich  $MB : MC = MC : BC$ , und damit der

**Satz 213.** Die Seite des einem Kreise eingeschriebenen regelmäßigen 10-Ecks ist gleich dem größeren Abschnitt des stetig getheilten Halbmessers.

Damit ist der Weg zur Herstellung eines regelmäßigen 10-Ecks und infolgedessen eines Winkels von  $36^\circ$  gefunden. (S. Aufg. 136.) Gleichzeitig wird dadurch die Ausführung der Aufgaben ermöglicht: Ein regelmäßiges 5-Eck, 20-Eck, 40-Eck u. s. w.; ein regelmäßiges 15-Eck, 30-Eck u. s. w. oder allgemein, ein regelmäßiges  $n$ -Eck zu zeichnen, für welches  $n = 2^\alpha - 1 \cdot 3 \cdot 5$  und  $\alpha$  eine positive ganze Zahl ist.

d) Harmonische Theilungen. Pol und Polare.

Gehen von einem Punkte  $P$  aus zwei Tangenten an einen Kreis, so steht die Durchmessersekante  $PD$  in  $Q$  senkrecht auf der Berührungsechne. Verbindet man nun die beiden auf dem Durchmesser liegenden Punkte  $C$  und  $D$  des Kreises mit dem Berührungspunkte  $A$ , so stehen die Strahlen  $AD$  und  $AC$  senkrecht auf einander (Halbkreis!), und da  $\sphericalangle PAC = \sphericalangle D = R - \sphericalangle DAQ$  ist, so folgt daraus:  $\sphericalangle PAC = \sphericalangle CAQ$ . Der Strahl  $AC$  halbiert daher den Winkel der Strahlen  $AP$  und  $AQ$  und somit auch dessen Nebenwinkel. Es ist deshalb



nach Satz 170:  $PC : CQ = PA : AQ$   
 und nach dem Zuf. zu Satz 170:  $PD : DQ = PA : AQ$ ,  
 also nach G. III:  $PC : CQ = PD : DQ$   
 oder  $PC : PD = QC : QD$ , d. h.

**Satz 214.** Der Ausgangspunkt zweier Tangenten eines Kreises und die Berührungsehne teilen den Durchmesser harmonisch, dessen Verlängerung durch den Schnittpunkt der Tangenten geht.

Erklärung. Zwei Punkte, welche einen Durchmesser harmonisch teilen, werden Pole des Kreises genannt. Die Gerade, welche in einem der beiden Pole auf dem Durchmesser senkrecht steht, heißt Polare des anderen.

Zusatz 1. Zu jedem Punkte innerhalb oder außerhalb des Kreises gehört nur eine Polare und zu jeder Polare nur ein Pol, der ihr zugeordnet ist.

Zusatz 2. Die Verbindungslinien eines Kreispunktes mit den Endpunkten und Polen eines Durchmessers sind vier harmonische Strahlen.

Zusatz 3. Die Polare des Mittelpunktes liegt im Unendlichen.

Zusatz 4. Ist die Polare ein Durchmesser, so liegt der zugeordnete Punkt im Unendlichen.

Folgerung 1. Das Rechteck aus den Entfernungen zweier zu einander gehörigen Pole vom Mittelpunkte des Kreises ist gleich dem Quadrate des Halbmessers.

Folgt aus Zusatz 3 zu der Erklärung 3 in Nr. 76 b.

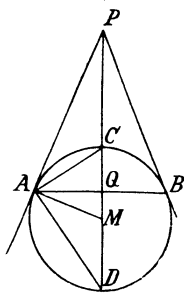
Folgerung 2. Durch zwei Paare von Polen auf verschiedenen Durchmessern läßt sich stets ein Kreis legen.

Folgerung 3. Die Entfernungen eines Kreispunktes von zwei zu einander gehörigen Polen haben stets das gleiche Verhältnis.

Folgt aus Satz 189 und 170.

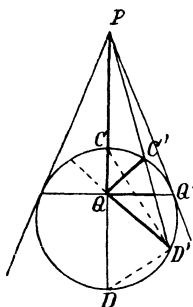
Folgerung 4. Die Polare eines auf der Verlängerung eines Durchmessers liegenden Poles ist die Berührungsehne der beiden von dem Pole an den Kreis gezogenen Tangenten.

Entw. des Bew. Ist  $AB$  die Polare des auf dem Durchmesser  $CD$  liegenden Punktes  $P$ , so soll bewiesen werden, daß  $PA$  eine Tangente, also  $\sphericalangle PAM = R$  ist. (Satz 105.) Dies ist aus der Vor.



abzuleiten, daß die Strahlen  $AC$  und  $AD$  senkrecht auf einander stehen (Halbkreis!), daß  $P$  und  $Q$  zugeordnete harmonische Punkte der Strecke  $CD$  sind, daß also  $AC$  den Winkel  $PAQ$  halbiert (Satz 182) und daß  $AQ \perp PD$  ist. Der erste Teil dieser Vor. liefert  $\sphericalangle CAD = R$ , also  $\sphericalangle CAM = R - \sphericalangle MAD = R - \sphericalangle MDA$  und  $\sphericalangle PAM = \sphericalangle PAC + \sphericalangle CAM = \sphericalangle PAC + R - \sphericalangle MDA$ . Infolge des zweiten Teiles ist  $\sphericalangle PAC = \sphericalangle CAQ$ , und da nach dem dritten Teile  $\sphericalangle CAQ = R - \sphericalangle ACQ = \sphericalangle MDA$  (erster Teil!) ist, so folgt  $\sphericalangle PAM = \sphericalangle MDA + R - \sphericalangle MDA = R$ .

**Satz 215.** Jede durch einen Pol gehende Sehne wird durch den Pol und die Polare harmonisch geteilt.



Ist  $C'D'$  eine durch  $P$  gehende Sehne, so sind  $D'P$ ,  $D'C$ ,  $D'Q$  und  $D'D$  vier harmonische Strahlen, und da  $D'D \perp D'C$  ist, so halbiert  $D'C$  den Winkel  $PD'Q$ . Hieraus kann die nach Satz 170 erforderliche Beziehung zwischen den Winkeln der von  $Q$  nach  $P$ ,  $C'$ ,  $Q'$  und  $D'$  gehenden Strahlen leicht abgeleitet werden. Die Schlüsse wiederholen sich in derselben Reihenfolge, wenn  $C'D'$  durch  $Q$  geht.

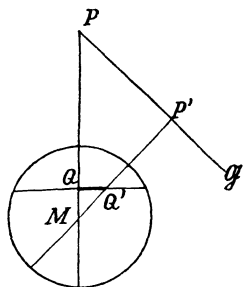
Die Umkehrung des Satzes 215 lautet:

**Satz 216.** Teilen zwei Punkte eine Sehne harmonisch, so liegt jeder von ihnen auf der Polare des anderen.

Beim Bew. wiederholen sich die Schlüsse des vorhergehenden Beweises in umgekehrter Reihenfolge.

Die Abhängigkeit zwischen Pol und Polare findet weiter ihren Ausdruck in den Sätzen:

**Satz 217.** Liegt ein Pol auf einer Geraden, so geht seine Polare durch den Pol dieser Geraden.



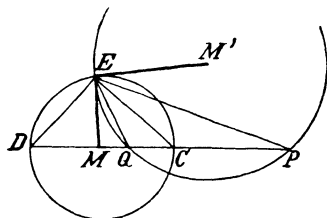
Wird der dem Punkte  $P$  zugeordnete Pol  $Q$  mit dem Pole  $Q'$  der Geraden  $G$  verbunden, so sind  $P$ ,  $Q$ ,  $Q'$ ,  $P'$  die Ecken eines Sehnenvierecks (Folgerung 1, Erklärung der Polare), also  $\sphericalangle P' + \sphericalangle PQQ' = 2R$ . Da aber  $\sphericalangle P' = R$ , also auch  $\sphericalangle PQQ' = R$  ist, so steht  $QQ'$  senkrecht auf  $PQ$ , d. h. die Polare von  $P$  geht durch den Pol der Geraden  $PP'$  ( $G$ ).

Folgerung. Bewegt sich ein Punkt auf einer Geraden, so dreht sich seine Polare um den Pol dieser Geraden.

**Satz 218.** Geht eine Gerade durch einen Punkt, so liegt ihr Pol auf der Polare dieses Punktes.

Folgerung. Dreht sich eine Gerade um einen Punkt, so bewegt sich ihr Pol auf der Polare dieses Punktes.

Wird durch die Pole  $P$  und  $Q$  eines Durchmessers  $CD$  ein Kreis gelegt und einer der Schnittpunkte der beiden Kreise ( $E$ ) mit den vier harmonischen Punkten verbunden, so bildet der Radius  $ME$  mit dem Strahle  $EQ$  einen Winkel  $MEQ$ , der gleich  $\sphericalangle MEC - \sphericalangle QEC$  oder  $\sphericalangle MCE - \sphericalangle QEC$  ist. Da aber  $\sphericalangle CED = R$  ist und somit nach Satz 182 der Winkel  $PEQ$  halbiert wird, also  $\sphericalangle QEC$  durch  $\sphericalangle PEC$  ersetzt werden kann, und  $\sphericalangle MCE - \sphericalangle PEC = \sphericalangle P$  ist (Lehrsatz V), so folgt:  $\sphericalangle MEQ =$



$\sphericalangle P$ . Nun steht der Winkel  $P$  auf dem Bogen  $EQ$  des zweiten Kreises, und demnach folgt aus der Gleichheit  $\sphericalangle MEQ = \sphericalangle P$ , daß  $ME$  eine Tangente an den zweiten Kreis ist, also auf  $M'E$  senkrecht steht.

Sagt man daher, daß zwei Kreise sich rechtwinklig schneiden, wenn ihre nach den Schnittpunkten führenden Radien senkrecht auf einander stehen, so ergibt sich hieraus der

**Satz 219.** Jeder Kreis, der durch zwei Pole eines gegebenen Kreises geht, schneidet denselben rechtwinklig.

Umkehrung dieses Satzes:

**Satz 220.** Schneiden sich zwei Kreise rechtwinklig, so wird jeder Durchmesser des einen Kreises durch den anderen Kreis harmonisch geteilt.

Nach der Vor. (s. Figur des Satzes 219) ist der Winkel  $MEQ = \sphericalangle P$ , und da wieder  $\sphericalangle MEQ = \sphericalangle MCE - \sphericalangle QEC$ ,  $\sphericalangle P$  aber nach Satz V gleich  $\sphericalangle MCE - \sphericalangle PEC$  ist, so folgt:  $\sphericalangle MCE - \sphericalangle QEC = \sphericalangle MCE - \sphericalangle PEC$ , also  $\sphericalangle PEC = \sphericalangle QEC$ . Hieraus ergibt sich die Behauptung mit Benutzung des Satzes 170.

## 87. Linien und Punkte bei mehreren Kreisen.

### a) Die Potenzlinie zweier Kreise.

Ist  $Q$  ein Punkt, von dem aus an zwei Kreise  $M_1, r_1$  und  $M_2, r_2$  zwei Tangenten von der Länge  $l$  gezogen werden können (Aufgabe 93), besitzt also  $Q$  für beide Kreise die Potenz  $l^2$ , so ist

$$QM_1^2 - r_1^2 = QM_2^2 - r_2^2 (= l^2).$$

Steht nun  $QP$  senkrecht auf der Mittelpunktslinie  $MM_1$ , so daß

$$PM_1^2 = QM_1^2 - PQ^2 \text{ und } PM_2^2 = QM_2^2 - PQ^2$$

und folglich

$$PM_1^2 - r_1^2 = QM_1^2 - PQ^2 - r_1^2 = l^2 - PQ^2,$$

$$PM_2^2 - r_2^2 = QM_2^2 - PQ^2 - r_2^2 = l^2 - PQ^2$$

ist, so ergibt sich  $PM_1^2 - r_1^2 = PM_2^2 - r_2^2$ , d. h. auch die von  $P$  an die beiden Kreise gezogenen Tangenten sind

gleich, oder  $P$  besitzt für beide Kreise die gleiche Potenz.

Ist jetzt  $R$  ein beliebiger Punkt des Lotes  $PQ$ , so folgt aus der Gleichheit  $PM_1^2 - r_1^2 = PM_2^2 - r_2^2$  durch Addition von  $RP^2$ :

$$PM_1^2 + RP^2 - r_1^2 = PM_2^2 + RP^2 - r_2^2$$

$$\text{oder} \quad RM_1^2 - r_1^2 = RM_2^2 - r_2^2,$$

d. h. die von  $R$  an die beiden Kreise gezogenen Tangenten sind ebenfalls einander gleich, oder der Punkt  $Q$  hat gleichfalls für beide Kreise die gleiche Potenz. Daraus folgt:

**Satz 221.** Hat ein Punkt für zwei Kreise die gleiche Potenz, so ist das von ihm auf die Mittelpunktslinie gefällte Lot der geometrische Ort für die Punkte, welche für beide Kreise die gleiche Potenz besitzen.

Erklärung. Der geometr. Ort der Punkte, welche für zwei Kreise die gleiche Potenz besitzen, heißt Potenzlinie der Kreise.

Folgerung 1. Für die Punkte der Potenzlinie außerhalb der Kreise sind die Tangenten gleich.

Folgerung 2. Liegen Punkte der Potenzlinie innerhalb der beiden Kreise, so sind die kleinsten durch sie gelegten Sehnen der Kreise einander gleich. (S. Zusatz zu Folgerung 2a, Lehrsatz XXIII.)

Folgerung 3. Die Potenzlinie zweier sich schneidenden Kreise ist die Verlängerung ihrer gemeinschaftlichen Sehne.

Folgerung 4. Die Potenzlinie zweier sich berührenden Kreise ist ihre gemeinschaftliche Tangente.

Folgerung 5. Die Potenzlinie zweier ganz aus einander liegenden Kreise schneidet die Mittelpunktslinie zwischen den beiden Kreisen.

Folgerung 6. Die Potenzlinie zweier Kreise, von denen der eine innerhalb des anderen liegt, schneidet die Verlängerung der Mittelpunktslinie außerhalb der Kreise auf der Seite, auf welcher der Mittelpunkt des kleineren Kreises liegt.

Anmerkung. Der Beweis der Folgerungen 5 und 6 ist ein indirekter. Es wird dabei die Unterscheidung benutzt, daß eine Potenz als  $\left. \begin{array}{l} \text{positiv} \\ \text{negativ} \end{array} \right\}$  gilt, wenn der Punkt  $\left. \begin{array}{l} \text{außerhalb} \\ \text{innerhalb} \end{array} \right\}$  des Kreises liegt. (Produkt zweier  $\left. \begin{array}{l} \text{gleich-} \\ \text{entgegengesetz-} \end{array} \right\}$  gerichteten Strecken!)

#### b) Der Potenzmittelpunkt dreier Kreise.

Kommt zu den beiden Kreisen noch ein dritter Kreis  $M_3, r_3$  hinzu, so bestimmt derselbe mit jedem der ersten eine Potenzlinie. Liegt nun  $M_3$  nicht auf  $M_1M_2$ , so schneiden sich zwei der Potenzlinien in einem Punkte  $O$ , für welchen die drei Tangenten an die drei Kreise nach G. III unter einander gleich sind, und demnach geht auch die dritte Potenzlinie durch  $O$  (Satz 221). Daraus folgt:

Satz 222. Liegen die Mittelpunkte dreier Kreise nicht auf einer Geraden, so schneiden sich ihre drei Potenzlinien in einem Punkte, dem Potenzmittelpunkte.

Zusatz 1. Schneidet jeder von drei Kreisen die beiden anderen, so treffen sich ihre gemeinschaftlichen Sehnen in einem Punkte.

Zusatz 2. Liegen die drei Mittelpunkte auf einer Geraden, so sind die drei Potenzlinien parallel.

Anmerkung. Der Satz 222 kann benutzt werden, um die Potenzlinie zweier Kreise zu zeichnen, die sich nicht schneiden. Man stellt einen dritten Kreis her, der die beiden ersten schneidet, und fällt von dem Schnittpunkte der gemeinschaftlichen Sehnen das Lot auf die Mittelpunktslinie der ersten Kreise.

Zusatz 3. Schneidet der dritte Kreis die beiden ersten rechtwinklig, so liegt sein Mittelpunkt auf ihrer Potenzlinie.

Die Radien des dritten Kreises, die zu den Schnittpunkten führen, sind Tangenten an die beiden ersten Kreise.



Folgerung. Die Mittelpunktslinie zweier Kreise, welche zwei andere Kreise rechtwinklig schneiden, ist die Potenzlinie derselben.

Schneiden sich die beiden ersten Kreise nicht, so ist für jeden Punkt  $X$  ihrer Potenzlinie die Strecke  $XP$  (s. Figur des Satzes 221) kleiner als die zu  $X$  gehörigen Tangenten, weil  $XP^2 = XM_1^2 - PM_1^2$  und das Quadrat der Tangente gleich  $XM_1^2 - r_1^2$ ,  $PM_1$  aber größer als  $r_1$  ist (Folgerung 5, Satz 221). Ein dritter Kreis, der die beiden ersten rechtwinklig schneidet, muß daher ihre Mittelpunktslinie treffen. Dasselbe gilt von einem beliebigen vierten Kreise, der die beiden ersten rechtwinklig schneidet, und da nach der vorhergehenden Folgerung die Mittelpunktslinie der beiden ersten Kreise die Potenzlinie der beiden letzten ist, so ist diese Mittelpunktslinie die gemeinschaftliche Sehne des dritten und vierten Kreises. Dies kann aber nur dann der Fall sein, wenn der vierte Kreis die Mittelpunktslinie in denselben Punkten schneidet, in denen sie der dritte trifft. Hieraus folgt:

Zusatz 3. Alle Kreise, welche zwei sich nicht schneidende Kreise rechtwinklig schneiden, gehen durch dieselben Punkte der Mittelpunktslinie der beiden Kreise.

c) Die Ähnlichkeitspunkte zweier Kreise.

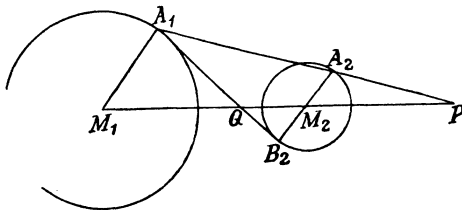
Zwei Kreise befinden sich stets in der Ähnlichkeitslage. Da ihre Mittelpunkte sich entsprechen, so geht ihre Mittelpunktslinie durch den Ähnlichkeitspunkt. Die Punkte des zweiten Kreises können den Punkten des ersten auf doppelte Weise zugeordnet werden, indem man die Endpunkte zweier auf derselben oder zweier auf verschiedenen Seiten der Mittelpunktslinie liegenden parallelen Radien einander zuordnet, und demnach sind für zwei Kreise, die nicht den Mittelpunkt gemeinsam haben, stets zwei Ähnlichkeitspunkte vorhanden, ein innerer und ein äußerer.

Satz 223. Die Verbindungslinie zweier parallelen Radien schneidet die Mittelpunktslinie zweier Kreise in dem äußeren } Ähnlichkeitspunkte, wenn die Radien auf { der-  
inneren } inneren } Seite der Mittelpunktslinie liegen.  
schieden }  
en }  
en }

Vor. Es sei  $M_1A_1 \parallel M_2A_2$  und  $M_1A_1 \parallel M_2B_2$ .

Beh.  $P$  und  $Q$  sind die beiden Ähnlichkeitspunkte.

Entw. des Bew. Ist  $P$  der Schnittpunkt der Geraden  $A_1A_2$  und  $M_1M_2$ , so soll bewiesen werden, daß die Verbindungslinie der Endpunkte



zweier beliebigen gleichgerichteten Radien ebenfalls durch  $P$  geht. Nach Satz 169 ist aber dazu erforderlich, daß das Verhältnis dieser Radien gleich  $PM_1 : PM_2$  ist, und daher muß aus der Vor. abgeleitet werden, daß  $PM_1 : PM_2 =$

$r_1 : r_2$  ist. In gleicher Weise zeigt sich, daß für den Schnittpunkt  $Q$  der Geraden  $A_1B_2$  und  $M_1M_2$  die Proportion  $QM_1 : QM_2 = r_1 : r_2$  aus der Vor. abgeleitet werden muß.

**Zusatz 1.** Die gemeinschaftlichen äußeren (inneren) Tangenten zweier Kreise gehen durch den äußeren (inneren) Ähnlichkeitspunkt.

**Zusatz 2.** (Umkehrung des ersten Zusatzes.) Berührt eine durch einen Ähnlichkeitspunkt zweier Kreise gehende Gerade einen der Kreise, so berührt sie auch den anderen.

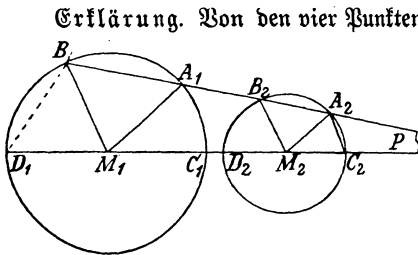
**Anmerkung.** Hieraus ergibt sich eine einfache Ausführung der Aufgabe, an zwei Kreise eine gemeinschaftliche Tangente zu ziehen.

**Zusatz 3.** Berühren sich zwei Kreise von außen (innen), so ist der Berührungspunkt der innere (äußere) Ähnlichkeitspunkt.

**Zusatz 4.** Die beiden Ähnlichkeitspunkte teilen die Mittelpunktslinie harmonisch.

**Zusatz 5.** Sind die Radien der beiden Kreise gleichgroß, so liegt der innere Ähnlichkeitspunkt in der Mitte der Mittelpunktslinie und der äußere im Unendlichen.

**d) Inverse Punkte. Berührungskreise zweier Kreise.**



**Erklärung.** Von den vier Punkten, in denen ein Ähnlichkeitsstrahl die beiden Kreise schneidet, entsprechen sich  $A_1$  und  $A_2$ , sowie  $B_1$  und  $B_2$ . Aber auch die Punkte  $A_1$  und  $B_2$ , sowie  $A_2$  und  $B_1$  gehören insofern zu einander, als jeder den anderen bestimmt. Sie erhalten daher einen besonderen Namen und werden **inverse Punkte** genannt.

**Zusatz.** Die Punkte  $C_1$  und  $D_2$ , sowie  $D_1$  und  $C_2$  auf der Mittelpunktslinie sind inverse Punkte.

Werden zwei Paare von inversen Punkten, etwa  $A_2$  und  $C_2$ , sowie  $B_1$  und  $D_1$  mit einander verbunden, so entsteht ein Viereck  $B_1A_2C_2D_1$ , zwischen dessen Winkeln sich eine wichtige Beziehung ableiten läßt. Es ist nämlich

$$\begin{aligned} \sphericalangle D_1 &= \sphericalangle D_1B_1M_1 = \sphericalangle D_1B_1A_2 - \sphericalangle M_1B_1A_2 \\ &= \sphericalangle D_1B_1A_2 - \sphericalangle M_1B_2A_2 = \sphericalangle D_1B_1A_2 - \sphericalangle M_2A_2B_2 \\ &= \sphericalangle D_1B_1A_2 - \sphericalangle B_1A_2C_2 + \sphericalangle M_2A_2C_2 \\ &= \sphericalangle D_1B_1A_2 - \sphericalangle B_1A_2C_2 + \sphericalangle C_2, \end{aligned}$$

also  $\sphericalangle D_1 + \sphericalangle B_1A_2C_2 = \sphericalangle C_2 + \sphericalangle D_1B_1A_2 = 2 \text{ R.}$   $B_1A_2C_2D_1$  ist daher ein Sehnenviereck, welches auch die Richtung von  $PA_1$  sein mag, und daher ist stets nach **Lehrsatz XXIII**

$$1. PD_1 \cdot PC_2 = PB_1 \cdot PA_2.$$

$$\begin{aligned} \text{Weiter ist } PD_1 \cdot PC_2 &= (PM_1 + r_1)(PM_2 - r_2) \\ &= PM_1 \cdot PM_2 + r_1 \cdot PM_2 - r_2 \cdot PM_1 - r_1 \cdot r_2 \\ &= PM_1 \cdot PM_2 - r_1 \cdot PM_2 + r_2 \cdot PM_1 - r_1 \cdot r_2 \\ &= (PM_1 - r_1)(PM_2 + r_2), \end{aligned}$$

also (weil aus  $PM_1 : PM_2 = r_1 : r_2$  die Gleichheit  $r_1 \cdot PM_2 = r_2 \cdot PM_1$  folgt), und somit

$$2. PD_1 \cdot PC_2 = PC_1 \cdot PD_2.$$

Sind schließlich  $t_1$  und  $t_2$  die Tangenten von  $P$  an die beiden Kreise, also  $PA_1 \cdot PB_1 = t_1^2$  und  $PA_2 \cdot PB_2 = t_2^2$ , so ergibt sich mit Benutzung der Proportion  $PA_1 : PA_2 = r_1 : r_2$  die Gleichheit

$$PA_2 \cdot PB_1 = t_1^2 \cdot \frac{r_2}{r_1},$$

$$\text{bez. } PA_1 \cdot PB_2 = t_2^2 \cdot \frac{r_1}{r_2},$$

und da  $t_1^2 : t_2^2 = r_1^2 : r_2^2$ , also  $t_1^2 \cdot \frac{r_2}{r_1} = t_2^2 \cdot \frac{r_1}{r_2}$  ist,

so folgt:

$$3. PA_2 \cdot PB_1 = PA_1 \cdot PB_2, \text{ und}$$

damit: 4.  $PA_2 \cdot PB_1 = PA_1 \cdot PB_2 = PD_1 \cdot PC_2 = PC_1 \cdot PD_2$ , d. h.

**Satz 224.** Das Rechteck aus den Entfernungen eines Ähnlichkeitspunktes von zwei zu einander gehörigen inversen Punkten ist unabhängig von der Richtung des Ähnlichkeitsstrahles, auf dem sie liegen, und gleich dem Rechteck aus den Entfernungen des Ähnlichkeitspunktes von zwei auf der Mittelpunktslinie liegenden inversen Punkten.

Anmerkung. Der Satz ist zunächst nur abgeleitet für die durch den äußeren Ähnlichkeitspunkt gehenden Strahlen; er gilt jedoch in der angegebenen allgemeinen Form. Es läßt sich ohne besondere Mühe nachweisen, daß die Gleichheit 1. auch besteht, wenn der Strahl durch den inneren Ähnlichkeitspunkt geht, indem man zeigt, daß über derselben Seite des durch die entsprechenden Verbindungslinien gebildeten Vierecks zwei gleiche Winkel stehen, und dann den Satz 104 anwendet.

Aus der Gleichheit 1. ergeben sich aber die weiteren Folgerungen:

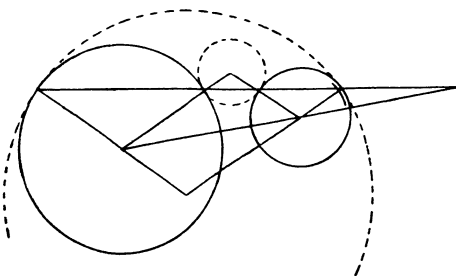
Folgerung 1. Zwei Paare von inversen, auf verschiedenen Strahlen desselben Ähnlichkeitspunktes liegenden Punkten sind stets die Ecken eines Sehnenvierecks. (Satz 206.)

Folgerung 2. Sehnen, welche zwei inverse Punktepaare mit einander verbinden, schneiden sich auf der Potenzlinie der beiden Kreise.

Nach Folgerung 1 sind die Produkte aus den Abschnitten der Sehnen gleich und gleich den Quadraten der von ihrem Schnittpunkte an die Kreise gelegten Tangenten, bez. gleich den Quadraten der halben kleinsten Sehnen, die durch ihren Schnittpunkt gehen. Satz 221.

Zusatz. Die zu inversen Punkten gehörigen Tangenten schneiden sich auf der Potenzlinie der beiden Kreise.

Nach diesem Zusatze sind die Tangenten in zwei inversen Punkten



die Schenkel eines gleichschenkligen Dreiecks, dessen Grundlinie auf dem Ähnlichkeitsstrahle liegt, und daher bilden die Verlängerungen ihrer Berührungsradien gleichfalls über derselben Grundlinie ein gleichschenkliges Dreieck. Wird demnach um die Spitze des letzteren mit seinem Schenkel

ein Kreis beschrieben, so berührt derselbe die beiden Kreise und zwar beide von innen oder beide von außen, wenn der Strahl durch den äußeren Ähnlichkeitspunkt geht (diesen Fall stellt die Figur dar); dagegen berührt er den einen von innen und den anderen von außen, wenn der Strahl durch den inneren Ähnlichkeitspunkt geht. Demnach besteht der

**Satz 225.** Zwei inverse Punkte sind stets die Berührungspunkte, in denen ein dritter Kreis die beiden ersten berührt.

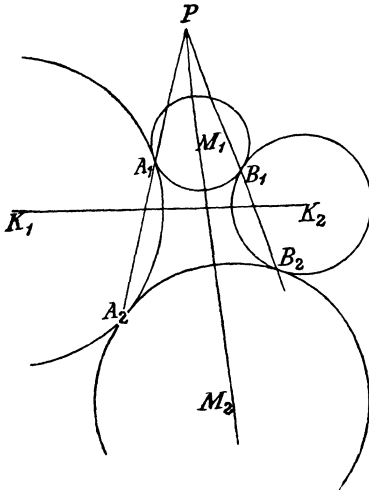
Der Satz kann umgekehrt werden.

**Satz 226.** Berührt ein Kreis zwei andere Kreise, so sind die Berührungspunkte inverse Punkte derselben.

Entw. des Bew. (Fig. des Satzes 225.) Wird die Verbindungslinie der Berührungspunkte gezogen, so schneidet dieselbe den zweiten Punkt, dessen Radius zu dem Radius des ersten Kreises, der nach dem Berührungspunkte geht, parallel sein muß, wenn die Verbindungslinie durch einen der Ähnlichkeitspunkte gehen soll. Die hierzu erforderliche Gleichheit der Gl. W. (oder W. W.) ist aber einfach ableitbar, wenn beachtet wird, daß die Mittelpunktslinie zweier sich berührenden Kreise durch den Berührungspunkt geht.

**Zusatz.** Die Verbindungslinie der Berührungspunkte geht durch den  $\left. \begin{array}{l} \text{äußeren} \\ \text{inneren} \end{array} \right\}$  Ähnlichkeitspunkt, wenn die beiden Berührungen gleichartig  $\left. \begin{array}{l} \\ \text{ungleichartig} \end{array} \right\}$  sind.

Bei beiden Arten von Berührungen schneiden sich die gemeinschaftlichen Tangenten in einem Punkte der Potenzlinie der beiden ersten Kreise, und da der Schnittpunkt der Tangenten der Pol der Berührungsehne ist (Folgerung 4, Satz 214), der Ähnlichkeitsstrahl, auf dem die Berührungspunkte liegen, also nach Satz 217 durch den Pol der Potenzlinie der ersten Kreise für den dritten Kreis geht, so ergibt sich der



**Satz 227.** Berührt ein Kreis zwei andere Kreise, so liegt der Pol ihrer Potenzlinie für den berührenden Kreis mit den beiden Berührungspunkten auf einer Geraden.

Werden zwei Kreise  $K_1$  und  $K_2$  gezeichnet, von denen jeder die Kreise  $M_1$  und  $M_2$  gleichartig berührt, und sind  $A_1, A_2, B_1$  und  $B_2$  die Berührungspunkte, so gehen

die Geraden  $A_1A_2$  und  $B_1B_2$  durch den äußeren Ähnlichkeitspunkt  $P$  der Kreise  $M_1$  und  $M_2$ . Nach den Sätzen 226 und 224 ist daher  $PA_1 \cdot PA_2 = PB_1 \cdot PB_2$ , und demnach liegt  $P$  auf der Potenzlinie der Kreise  $K_1$  und  $K_2$  (Satz 221). Berühren dagegen die beiden Kreise  $K_1$  und  $K_2$  die Kreise  $M_1$  und  $M_2$  ungleichartig, so gehen  $A_1A_2$  und  $B_1B_2$  durch den inneren Ähnlichkeitspunkt  $Q$ , und da hiernach wiederum  $QA_1 \cdot QA_2 = QB_1 \cdot QB_2$  ist, so liegt  $Q$  auf der Potenzlinie der Kreise  $K_1$  und  $K_2$ . Daraus folgt:

**Satz 228.** Werden zwei Kreise von zwei anderen gleichartig (ungleichartig) berührt, so liegt der äußere (innere) Ähnlichkeitspunkt des ersten Paares auf der Potenzlinie des anderen.

e) Die Ähnlichkeitsachsen dreier Kreise.

Wird außer den beiden Kreisen  $M_1$  und  $M_2$  noch ein dritter mit dem Mittelpunkte  $M_3$  von  $K_1$  und  $K_2$  berührt, so können die folgenden vier Fälle eintreten:

1. Die Kreise  $K_1$  und  $K_2$  berühren die drei Kreise gleichartig.
2. Die Kreise  $K_1$  und  $K_2$  berühren die Kreise  $M_1$  und  $M_2$  gleichartig und  $M_3$  anders als diese.
3. Die Kreise  $K_1$  und  $K_2$  berühren die Kreise  $M_1$  und  $M_3$  gleichartig und  $M_2$  anders als diese.
4. Die Kreise  $K_1$  und  $K_2$  berühren die Kreise  $M_2$  und  $M_3$  gleichartig und  $M_1$  anders als diese.

Ist nun  $P_3$  der äußere u.  $Q_3$  der innere Ähnlichkeitspunkt der Kreise  $M_1$  u.  $M_2$ ,  
 " "  $P_2$  " " "  $Q_2$  " " " " "  $M_1$  "  $M_3$ ,  
 " "  $P_1$  " " "  $Q_1$  " " " " "  $M_2$  "  $M_3$ ,  
 " "  $R$  " " "  $S$  " " " " "  $K_1$  "  $K_2$ ,

so liegen nach Satz 228 zunächst

in dem Falle	1)	die drei Punkte	$P_1, P_2$ und	$P_3,$
" " "	2)	" " "	$P_3, Q_1$	" $Q_2,$
" " "	3)	" " "	$P_2, Q_3$	" $Q_1,$
" " "	4)	" " "	$P_1, Q_2$	" $Q_3$

gemeinschaftlich auf der Potenzlinie der Kreise  $K_1$  und  $K_2$ , also in einer geraden Linie; da aber die Lage der Ähnlichkeitspunkte nur von dem Verhältnis der Halbmesser abhängt und sich daher nicht ändert, wenn die drei Kreise  $M_1, M_2$  und  $M_3$  durch drei andere mit denselben Mittelpunkten ersetzt werden, deren Halbmesser in dem Verhältnis der ursprünglichen Halbmesser stehen, und da somit die Kreise  $M_1, M_2$  und  $M_3$  stets durch andere ersetzt werden können, für welche die Fälle 1)–4) möglich sind, so ergibt sich der

**Satz 229.** (Satz des Monge.) Von den sechs Ähnlichkeitspunkten dreier Kreise liegt jeder äußere mit den beiden anderen äußeren, sowie mit den beiden nicht zu ihm gehörigen inneren in einer geraden Linie.

**Erklärung.** Die vier Geraden, auf denen die sechs Ähnlichkeitspunkte liegen, werden Ähnlichkeitsachsen genannt.

**Zusatz.** Jede Ähnlichkeitsachse ist die Potenzlinie zweier Kreise, welche die drei Kreise berühren, zu denen sie gehört.

**Anmerkung.** Ein zweiter Beweis dieses interessanten Satzes ergibt sich auf folgendem Wege: Geht eine Gerade durch einen Ähnlichkeitspunkt zweier Kreise, so verhalten sich ihre Abstände von den Mittelpunkten wie die Entfernungen des Ähnlichkeitspunktes von denselben und damit wie die Halbmesser (Satz 168); und umgekehrt: Verhalten sich die Abstände einer Geraden von den Mittelpunkten zweier Kreise wie die Halbmesser, so geht die Gerade durch einen Ähnlichkeitspunkt der beiden Kreise (Satz 169). Demnach verhalten sich die Abstände der Geraden  $P_1P_2$

von den Mittelpunkten  $M_2$  und  $M_3$  wie  $r_2 : r_3$  und  
 " " "  $M_1$  und  $M_3$  wie  $r_1 : r_3$ , also  
 " " "  $M_1$  und  $M_2$  wie  $r_1 : r_2$ , d. h.

$P_1P_2$  geht auch durch  $P_3$ . Ganz in derselben Weise kann gezeigt werden, daß  $P_1Q_2$  durch  $Q_3$ ,  $P_2Q_3$  durch  $Q_1$  und  $P_3Q_1$  durch  $Q_2$  geht. Dieser Beweis hat den Vorzug der größeren Einfachheit, ist aber weniger lehrreich als der in der Ableitung des Monge'schen Satzes enthaltene Beweis.

Da die beiden Kreise  $K_1$  und  $K_2$  durch jeden der drei Kreise  $M_1$ ,  $M_2$  und  $M_3$  in den vier Fällen gleichzeitig entweder gleichartig oder ungleichartig berührt werden, so liegt ferner nach Satz 228 stets entweder  $R$  oder  $S$  auf den drei Potenzlinien der drei Kreise und ist daher ihr Potenzmittelpunkt (Satz 222). Hieraus folgt:

**Satz 230.** Der Potenzmittelpunkt dreier Kreise ist einer der Ähnlichkeitspunkte zweier Kreise, welche die drei ersten berühren.

**Folgerung 1.** Die zu jedem der drei Kreise gehörigen Berührungspunkte liegen mit dem Potenzmittelpunkte in einer Geraden. (Nach Satz 226).

**Folgerung 2.** Der Pol der Potenzlinie der berührenden Kreise für jeden der drei Kreise  $M_1$ ,  $M_2$  und  $M_3$  liegt mit den zugehörigen Berührungspunkten (Satz 227), also nach Folgerung 1 auch mit diesen und dem Potenzmittelpunkte, auf einer Geraden.

**Folgerung 3.** Verbindet man den Pol einer Ähnlichkeitsachse für einen der drei Kreise mit dem Potenzmittelpunkte, so schneidet die Verbindungslinie den zugehörigen Kreis in zwei Berührungspunkten zweier die drei Kreise berührenden Kreise. (Nach Folgerung 2).

Hierauf gründet sich für die Apollonius'sche Aufgabe,

Einen Kreis zu beschreiben, der drei gegebene Kreise berührt,

die folgende vollständige Ausführung:

Man zeichnet den Potenzmittelpunkt, die 4 Ähnlichkeitsachsen und deren 12 Pole für die gegebenen drei Kreise und verbindet jeden der Pole mit dem Potenzmittelpunkte. Die 12 Verbindungslinien schneiden im allgemeinen die

zugehörigen Kreise in 24 Punkten, den Berührungspunkten von 8 Berührungskreisen. Da der Potenzmittelpunkt stets einer der Ähnlichkeitspunkte (Satz 230) und jede Ähnlichkeitsachse die Potenzlinie (Zusatz zu Satz 229) zweier Berührungskreise ist, so sind die 4 Lote von dem Potenzmittelpunkte auf die 4 Ähnlichkeitsachsen die Mittelpunktslinien je zweier Berührungskreise und zwar im Falle 1) das Lot auf  $P_1P_2P_3$ , im Falle 2) das Lot auf  $P_3Q_1Q_2$ , im Falle 3. das Lot auf  $P_2Q_3Q_1$  und im Falle 4) das Lot auf  $P_1Q_2Q_3$ . Die Mittelpunkte der 8 Berührungskreise liegen demnach auf den 4 Loten, und da sie auch den Verlängerungen der Berührungsradien angehören, so sind sie nun leicht bestimmbar.

Anmerkung. Die Aufgabe umfaßt alle anderen Fälle der Berührungsaufgaben (s. Nr. 88), weil ein Punkt als Kreis mit dem Halbmesser 0 und eine Gerade als Kreis mit dem Halbmesser  $\infty$  angesehen werden kann. Die Potenzlinien und Ähnlichkeitspunkte nehmen besondere Lagen ein, aus denen sich eine Vereinfachung der Hauptaufgabe für die besonderen Fälle ergibt.

In dem folgenden Abschnitt soll der umgekehrte Weg betreten und die Lösung der Hauptaufgabe durch die Lösung der besonderen Aufgaben vorbereitet werden.

## 88. Die Apollonius'schen Berührungsaufgaben.

Die allgemeine Apollonius'sche Aufgabe: Einen Kreis zu zeichnen, der von drei gegebenen Stücken, Punkten oder Geraden oder Kreisen, die beiden letzteren berührt und durch die ersteren geht, umfaßt als besondere Fälle die folgenden 10 Aufgaben:

Einen Kreis zu zeichnen, der 1) durch 3 gegebene Punkte geht; 2) durch 2 gegebene Punkte geht und eine gegebene Gerade, bez. 3) einen gegebenen Kreis berührt; 4) durch einen gegebenen Punkt geht und 2 gegebene Geraden, bez. 5) eine gegebene Gerade und einen gegebenen Kreis, oder 6) 2 gegebene Kreise berührt; 7) 3 gegebene Geraden berührt; 8) 2 gegebene Geraden und einen gegebenen Kreis berührt; 9) eine gegebene Gerade und 2 gegebene Kreise, und 10) 3 gegebene Kreise berührt.

Von diesen sind die Fälle 1) (Aufg. 61, eine Lösung) und 7) (s. Satz 110 u. 111, 4 Lösungen) bereits besprochen und ohne Benutzung proportionaler Strecken durchgeführt worden. Für die anderen Fälle ist die Auflösung noch zu entwickeln.

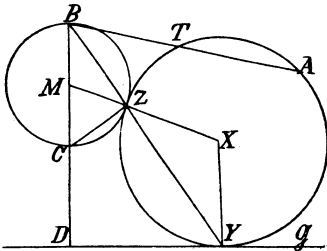
Fall 2. Aufgabe 137. Einen Kreis zu zeichnen, der durch zwei gegebene Punkte geht und eine gegebene Gerade berührt.

Auflösung. Da die Strecke  $AB$  eine Sehne des Kreises sein soll, so muß sein Mittelpunkt zunächst auf dem Mittellote von  $AB$  liegen. Die weitere Bestimmung, daß der Kreis die Gerade  $G$  berühren soll, würde einen zweiten geometr. Ort für den Mittelpunkt in einem auf  $G$  errichteten Lote (Ort 7) liefern, wenn der Berührungspunkt bekannt wäre. Beide Forderungen im Verein lassen aber  $AB$  als Sehne und  $G$  als Tangente eines Kreises erscheinen und weisen damit auf die Verwendung der Folgerung 1, Lehrf. XXIII hin, welche die Länge der Tangente als mittlere Proportionale zu zwei ge-





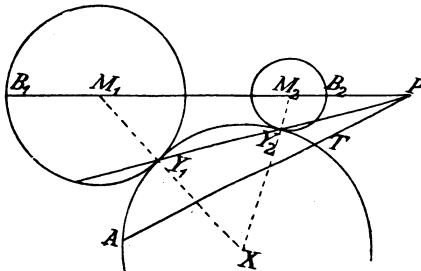
ist, so muß man die Forderungen zu vereinen suchen. Von den beiden Berührungspunkten liegt  $Z$  auf der Mittelpunktslinie, und demnach sind die Endradien der durch  $Y$  und  $Z$  gehenden Doppelsehne  $YZB$  parallel, d. h. der Punkt  $B$  liegt auf dem von  $M$  auf  $\mathcal{G}$  gefällten Lote und darf als bekannt gelten. Ebenso ist dadurch bekannt geworden, daß  $Z$  auf dem Halbkreise über  $BC$  liegt. Nutzt man diesen Umstand aus, so gelangt man zu zwei ähnlichen Dreiecken  $BZC$  und  $BDY$  und damit zu der Proportion  $BY:BC = BD:BZ$ , aus der die Gleichheit  $BY \cdot BZ = BC \cdot BD$  sich



ergiebt. Diese sagt aber aus, daß die Potenz des gesuchten Kreises für den Punkt  $B$  gleich  $BC \cdot BD$  und folglich durch  $M$ ,  $r$  und  $\mathcal{G}$  bestimmt sei. Wird jetzt die dritte Bestimmung hinzugenommen, daß  $A$  ein Punkt des Kreises sein soll, so weiß man, daß auf  $BA$  ein zweiter Punkt  $T$  desselben liegt, der mit  $D$ ,  $C$  und  $A$  einem Kreise angehört, also leicht hergestellt werden kann. Damit ist die Aufgabe auf eine der Aufgaben 137 oder 138 zurückgeführt. 4 Lösungen sind im allgemeinen möglich.

Fall 6. Aufgabe 141. Einen Kreis zu zeichnen, der durch einen gegebenen Punkt geht und zwei gegebene Kreise berührt.

Auflösung. Werden hier zunächst die beiden letzten Bestimmungen



untersucht, so ergibt sich der Hinweis auf den Satz 226, nach welchem die Berührungspunkte  $Y_1$  und  $Y_2$  inverse Punkte sind. Für inverse Punkte gilt aber der Satz 224, und demnach ist  $PY_1 \cdot PY_2 = PB_1 \cdot PB_2$ , d. h. die Potenz des Ähnlichkeitspunktes  $P$  der gegebenen Kreise für den gesuchten Kreis ist bekannt und gleich  $PB_1 \cdot PB_2$ . Wird jetzt die dritte

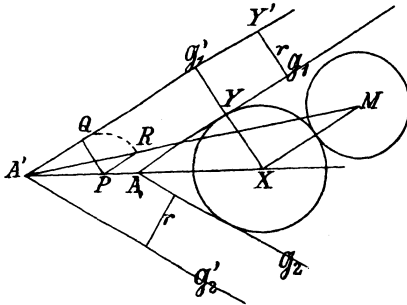
Bestimmung hinzugenommen, daß der Kreis durch  $A$  gehen soll, so weiß man, daß auf  $PA$  ein Punkt  $T$  des Kreises liegen muß, für den  $PA \cdot PT = PB_1 \cdot PB_2$  ist, der also mit  $B_1$ ,  $B_2$  und  $A$  auf einem Kreise liegt. Damit ist die Aufgabe auf die Aufgabe 138 zurückgeführt.

Bei ungleichartiger Berührung geht  $Y_1Y_2$  durch den inneren Ähnlichkeitspunkt  $Q$ ; es liegt dann  $T$  auf  $QA$ , und  $B_2$  ist der zweite Endpunkt des zum Kreise  $M_2$  gehörigen Durchmessers. Es sind für jede Art der Berührung im allgemeinen zwei Lösungen möglich.

Fall 8. Aufgabe 142. Einen Kreis zu zeichnen, der zwei gegebene Geraden und einen gegebenen Kreis berührt.

Auflösung. Die Halbierungslinie des Winkels  $A$  der Geraden  $\mathcal{G}_1$  und  $\mathcal{G}_2$  ist der erste geometr. Ort für den gesuchten Mittelpunkt. Die dritte Bestimmung würde einen zweiten Ort für denselben liefern, wenn die Richtung des zu  $M$  gehörigen Berührungsradius' (Mittelpunktslinie!) bekannt wäre.

Diese Richtung kann aber ähnlich wie in der Auflösung der Aufgabe 139 gefunden werden. Es unterscheiden sich zwar die Abstände  $XY$  und  $XM$  um  $r$



und können sich daher nicht ersehen; aber gerade die Erkenntnis dieses Umstandes weist darauf hin, die Gerade  $G_1$  parallel zu sich selbst um  $r$  zu verschieben, weil dann der Abstand des Punktes  $X$  von der neuen Geraden  $G'_1$  gleich  $XM$  ist und die Übertragung des Verhältnisses der Abstände an einen beliebigen Punkt  $P$  der Halbirungslinie keine Schwierigkeit bietet. Die Verbindungslinie  $MR$  geht aber nicht durch  $A$ , sondern durch den

Punkt  $A'$  der Geraden  $G'_1$  und  $AX$ . Die Aufgabe kommt daher auf die Aufgabe 139 zurück, wenn man  $G_1$  und  $G_2$  um  $r$  parallel zu sich selbst verschiebt und den Kreis zwingt, die neuen Geraden zu berühren und durch den Punkt  $M$  zu gehen. Sein Mittelpunkt ist dann der Mittelpunkt des gesuchten Kreises.

Anmerkung. Die Geraden  $G'_1$  und  $G'_2$  müssen so gezogen werden, daß  $M$  zwischen ihnen liegt. Bei günstiger Lage von  $M$  und hinreichender Größe von  $r$  kann dies aber 4-mal eintreten, und demnach sind in einem sehr günstigen Falle 8 Lösungen vorhanden.

Fall 9. Aufgabe 143. Einen Kreis zu beschreiben, der eine gegebene Gerade und zwei gegebene Kreise berührt.

Auflösung. Da der Kreis bestimmt ist, wenn man seinen Mittelpunkt kennt, und die Forderungen der Aufgabe keinen Anhalt für die Ausführung bieten, so liegt der Gedanke nahe, durch eine Veränderung der Bedingungen, die ohne Einfluß auf die Lage des Mittelpunktes bleibt, die Aufgabe so umzugestalten, daß sie mit einer der bereits besprochenen Aufgaben übereinstimmt. Zu diesem Zwecke ist nur erforderlich, daß man den Hilfskreis zwingt, durch einen der Mittelpunkte, etwa  $M_2$ , zu gehen, und dementsprechend  $G$  um  $r_2$  parallel zu sich selber verschiebt und um  $M_1$  mit  $r_1 - r_2$  einen Kreis zeichnet, der berührt werden soll. Der Mittelpunkt  $X$  wird dann durch die Ausführung der Aufgabe 140 gefunden. Im allgemeinen sind 8 Lösungen möglich.

Fall 10. Aufgabe 144. Einen Kreis zu zeichnen, der drei gegebene Kreise berührt.

Die Auflösung schließt sich eng an die vorhergehende an. Man ersetzt die Kreise  $M_2$ ,  $r_2$  und  $M_3$ ,  $r_3$  durch  $M_2$ ,  $r_2 - r_1$  bez.  $M_3$ ,  $r_3 - r_1$  und zeichnet nach Aufgabe 141 den Kreis, der durch  $M_1$  geht und die neuen Kreise berührt. Sein Mittelpunkt ist der gesuchte Mittelpunkt.

## VI. Abschnitt.

### Proportionale Flächen.

#### 89. Proportionen zwischen Flächen und Strecken.

Erklärung. Das Verhältnis zweier Flächen ist die Zahl, welche angiebt, wie oft die eine in der anderen enthalten ist.

Anmerkung. Die Möglichkeit für die Vergleichung des Inhalts geradliniger Figuren erhellt daraus, daß zwei geradlinige Figuren stets in Rechtecke verwandelt werden können, die in der Größe einer Seite übereinstimmen.

Sind in zwei Rechtecken  $ABCD$  und  $A_1B_1C_1D_1$  die Seiten  $AB$  und  $A_1B_1$  gleich und  $AD$  und  $A_1D_1$  von einander verschieden, so kann das Verhältnis  $AD : A_1D_1$  ein rationales oder ein irrationales sein. Geht im ersten Falle  $l$  in  $AD$   $p$ -mal und in  $A_1D_1$   $q$ -mal auf, und legt man durch die Teilpunkte die Parallelen zu  $AB$ , bez. zu  $A_1B_1$ , so wird das erste Rechteck in  $p$  und das zweite in  $q$  unter einander gleiche Streifen zerlegt, und demnach ist das Verhältnis der Rechtecke gleich  $\frac{p}{q}$ , d. h. dasselbe wie das Verhältnis der Seiten  $AD$  und  $A_1D_1$ .

Zerlegt man im zweiten Falle  $AD$  in  $p$  gleiche Teile und bleibt, wenn deren Länge  $l$  auf  $A_1D_1$   $q$ -mal abgetragen wird, ein Rest  $r$ , der kleiner ist als  $l$ , so teilen die durch die Teilpunkte zu den Seiten  $AB$  und  $A_1B_1$  gelegten Parallelen das erste Rechteck in  $p$  gleiche Streifen und das zweite in  $q$  Teile, die zu den Streifen des ersten Rechtecks kongruent sind, und ein Reststück, das jedenfalls kleiner als einer dieser Streifen ist. Das Verhältnis der beiden Rechtecke liegt daher ebenso wie das Verhältnis  $AD : A_1D_1$  zwischen  $\frac{p}{q}$  und  $\frac{p}{q+1}$  und unterscheidet sich von  $\frac{p}{q}$  um höchstens  $\frac{1}{q(q+1)}$ . Da aber diese Differenz beliebig klein gemacht werden kann, so dürfen die beiden Verhältnisse auch dann als gleich gelten, wenn  $AD$  und  $A_1D_1$  inkommensurabel sind. Daraus folgt:

**Lehrsatz XXIV.** Stimmen zwei Rechtecke in der Größe einer Seite überein, so verhalten sie sich wie die anstoßenden Seiten.

Jedes Parallelogramm ist aber gleich einem Rechteck, dessen Seiten gleich einer seiner Seiten und der zu dieser gehörigen Höhe sind, und demnach ergibt sich:

Folgerung 1. Parallelogramme mit gleichen  $\left. \begin{array}{l} \text{Grundlinien} \\ \text{Höhen} \end{array} \right\}$  verhalten sich wie die zugehörigen  $\left. \begin{array}{l} \text{Höhen.} \\ \text{Grundlinien.} \end{array} \right\}$

Jedes Dreieck ist ferner die Hälfte eines Parallelogramms, das mit ihm gleiche Grundlinie und Höhe hat; daraus folgt:

Folgerung 2. Dreiecke mit gleichen  $\left. \begin{array}{l} \text{Grundlinien} \\ \text{Höhen} \end{array} \right\}$  verhalten sich wie die zugehörigen  $\left. \begin{array}{l} \text{Höhen.} \\ \text{Grundlinien.} \end{array} \right\}$

Ein Trapez schließlich ist gleich einem Parallelogramm, das mit ihm gleiche Höhe und als zugehörige Grundlinie seine Mittellinie hat; es ergibt sich daher aus Folgerung 1:

Folgerung 3. Trapeze mit gleichen  $\left. \begin{array}{l} \text{Mittellinien} \\ \text{Höhen} \end{array} \right\}$  verhalten sich wie ihre  $\left. \begin{array}{l} \text{Höhen.} \\ \text{Mittellinien.} \end{array} \right\}$

Der Lehrsatz XXIV führt zur Bestimmung des Inhalts eines Rechtecks, auch wenn die Seiten desselben irrational sind. Sind  $R_1$  und  $R_2$  zwei Rechtecke mit den Seiten  $a_1$  und  $b_1$ , bez.  $a_2$  und  $b_2$  und stellt man ein drittes Rechteck  $R_3$  aus  $a_1$  und  $b_2$  her, so ist

$$R_1 : R_3 = b_1 : b_2, \text{ also } R_3 = R_1 \cdot \frac{b_2}{b_1},$$

$$R_2 : R_3 = a_2 : a_1, \text{ also } R_3 = R_2 \cdot \frac{a_1}{a_2},$$

und somit  $R_1 \cdot \frac{b_2}{b_1} = R_2 \cdot \frac{a_1}{a_2}$  oder  $R_1 \cdot a_2 \cdot b_2 = R_2 \cdot a_1 \cdot b_1$ .

Ist aber  $R_2$  das Quadrat der Längeneinheit, also  $a_2 \cdot b_2 = R_2 = 1$ , so ergibt sich der

**Satz 231.** Der Inhalt eines Rechtecks ist gleich dem Produkte aus zwei anstoßenden Seiten, auch wenn die Maßzahlen derselben irrational sind.

Folgerung. Zwei Rechtecke verhalten sich wie die Produkte aus zwei anstoßenden Seiten.

### 90. Proportionale Flächen.

Besitzen zwei Parallelogramme gleiche Winkel, so sind ihre Seiten proportional zu den nicht zu ihnen gehörigen Höhen (Lehrsatz XIX), und demnach sind die Rechtecke aus zwei anstoßenden Seiten der Parallelogramme proportional zu den Rechtecken aus einer Seite und der zu ihr gehörigen Höhe. Die letzteren sind aber gleich den Parallelogrammen, und daher besteht der

**Satz 232.** Zwei Parallelogramme mit einem gleichen Winkel verhalten sich wie die Rechtecke aus zwei anstoßenden Seiten.

Zwei Dreiecke mit einem gleichen Winkel können aber zu Parallelogrammen ergänzt werden, welche mit ihnen diese Winkel und ihre einschließenden Seiten gemein haben, und daher führt der Satz 232 zu der

Folgerung. Zwei Dreiecke mit einem gleichen Winkel verhalten sich wie die Rechtecke aus den Seiten, die diese Winkel einschließen.

Anmerkung. Diese Folgerung kann auch aus Folgerung 2, Lehrsatz XXIV abgeleitet werden, wenn man ein drittes Dreieck zu Hilfe nimmt, das mit den beiden Dreiecken denselben Winkel und mit jedem von ihnen eine der einschließenden Seiten gleich hat.

Sind zwei Rechtecke  $R_1$  und  $R_2$  mit den Seiten  $a_1$  und  $b_1$ , bez.  $a_2$  und  $b_2$  einander ähnlich, so daß

$$a_1 : a_2 = b_1 : b_2, \text{ also } b_2 = \frac{a_2 b_1}{a_1},$$

so geht die Proportion  $R_1 : R_2 = a_1 b_1 : a_2 b_2$  über in

$$R_1 : R_2 = a_1 b_1 : a_2 \cdot \frac{a_2 b_1}{a_1} \text{ oder } R_1 : R_2 = a_1^2 : a_2^2 \text{ und damit auch} \\ = b_1^2 : b_2^2, \text{ d. h.}$$

**Satz 233.** Ähnliche Rechtecke verhalten sich wie die Quadrate zweier entsprechenden Seiten.

Zwei ähnliche Parallelogramme können aber stets in zwei ähnliche Rechtecke umgewandelt werden (Lehrsatz XIX), und demnach ergibt sich aus Satz 233:

Folgerung 1. Ähnliche Parallelogramme verhalten sich wie die Quadrate zweier entsprechenden Seiten oder Höhen.

Hieraus ergibt sich weiter:

Folgerung 2. Ähnliche Dreiecke verhalten sich wie die Quadrate zweier entsprechenden Seiten oder Höhen oder entsprechenden Linien (Mittellinien, Winkelhalbierungslinien u. s. w.) und ferner durch Anwendung des Satzes 163:

Folgerung 3. Ähnliche Vielecke verhalten sich wie die Quadrate zweier entsprechenden Seiten, Diagonalen oder entsprechend gezogenen Linien.

Zusatz 1. Regelmäßige Vielecke von derselben Seitenzahl verhalten sich wie die Quadrate der Halbmesser der ein- und umgeschriebenen Kreise.

Zusatz 2. Die Inhalte zweier Kreise verhalten sich wie die Quadrate ihrer Halbmesser.

Nach Zusatz 1. Der Kreis gilt als regelmäßiges Vieleck mit unbegrenzt-großer Seitenzahl.

### 91. Übungsbeispiele.

1. Wird über der Höhe  $h$  eines gleichseitigen Dreiecks ein gleichseitiges Dreieck gezeichnet, so verhalten sich die beiden Dreiecke wie die Quadrate zweier entsprechenden Seiten, also wie  $a^2 : h^2$ . Da aber  $h^2 = \frac{3}{4} a^2$ , also  $a^2 : h^2 = 4 : 3$  ist, so folgt:

**Satz 234.** Zwei gleichseitige Dreiecke, von denen das zweite die Höhe des ersten zur Seite hat, stehen in dem Verhältnis  $4 : 3$ .

2. Stehen drei ähnliche Vielecke  $P$ ,  $Q$  und  $R$  so auf den Seiten eines rechtwinkligen Dreiecks, daß die Dreiecksseiten sich entsprechen, so bestehen nach Folgerung 3, Satz 233 die Proportionen

$$P : Q = BC^2 : AB^2, P : R = BC^2 : AC^2 \text{ und } Q : R = AB^2 : AC^2.$$

Aus der letzten folgt aber nach Satz 160, 4:

$$(Q + R) : (AB^2 + AC^2) = Q : AB^2$$

und demnach mit Benutzung der ersten

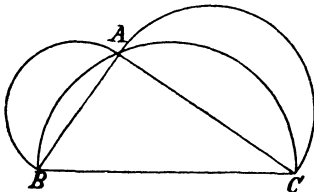
$$P^2 : BC^2 = (Q + R) : (AB^2 + AC^2)$$

$$\text{oder } P : (Q + R) = BC^2 : (AB^2 + AC^2).$$

Da aber  $BC^2 = AB^2 + AC^2$ , also  $BC^2 : (AB^2 + AC^2) = 1$  ist, so folgt:

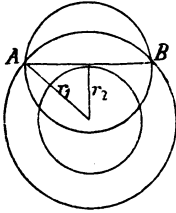
**Satz 235.** Stehen drei ähnliche Vielecke so auf den Seiten eines rechtwinkligen Dreiecks, daß die Dreiecksseiten sich entsprechen, so ist das Vieleck über der Hypotenuse gleich der Summe der Vielecke über den beiden Katheten.

3. Sind die drei ähnlichen Vielecke Halbkreise und steht der Halbkreis über der Hypotenuse  $BC$  nach innen, so begrenzt er mit den beiden anderen zwei mondformige Figuren, und da der Halbkreis über  $BC$  gleich der Summe der Halbkreise über  $AB$  und  $AC$  ist (Satz 235), so müssen die nicht gemeinschaftlichen Stücke, d. h. das Dreieck  $ABC$  und die Summe der beiden Mondchen (Lunulae Hippocratis) einander gleich sein. Dies führt zu



**Satz 236.** Die Halbkreise über den Katheten eines rechtwinkligen Dreiecks begrenzen mit dem Halbkreise über der Hypotenuse, der nach innen errichtet wird, zwei mond-förmige Figuren, deren Summe gleich dem Dreieck ist.

4. Besitzen zwei Kreise denselben Mittelpunkt und wird eine Tangente an den kleineren gezogen, die in dem größeren die Sehne  $AB$  bildet, so bestehen für die Inhalte  $J_1$  und  $J_2$  der beiden Kreise und den Inhalt  $J$  des Kreises, der  $AB$  zum Durchmesser hat, die Proportionen (Zusatz 2, Satz 233):



$$J : \left(\frac{1}{2} AB\right)^2 = J_1 : r_1^2$$

$$J : \left(\frac{1}{2} AB\right)^2 = J_2 : r_2^2$$

Aus

$$J_1 : J_2 = r_1^2 : r_2^2$$

folgt nun:  $(J_1 - J_2) : (r_1^2 - r_2^2) = J_1 : r_1^2$ ,

und somit ist  $(J_1 - J_2) : (r_1^2 - r_2^2) = J : \left(\frac{1}{2} AB\right)^2$

oder  $J : (J_1 - J_2) = \left(\frac{1}{2} AB\right)^2 : (r_1^2 - r_2^2)$ .

Da aber  $\left(\frac{1}{2} AB\right)^2 = r_1^2 - r_2^2$  ist, so folgt:  $J = J_1 - J_2$ , d. h.

**Satz 237.** Der von zwei Kreisen mit demselben Mittelpunkte gebildete Kreisring ist gleich dem Kreise, der die Sehne zum Durchmesser hat, die durch den größeren Kreis auf einer an den kleineren Kreis gelegten Tangente begrenzt wird.

Anmerkung. Aus diesem Satze läßt sich eine einfache Lösung herleiten für die Aufgabe: Einen Kreis zu zeichnen, der gleich der Differenz zweier gegebener Kreise ist.

## 92. Aufgaben.

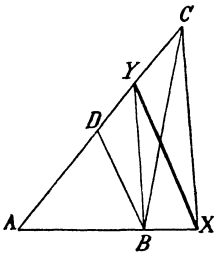
### a) Verwandlungsaufgaben.

Wiederhole die Aufgaben 105<sup>a</sup>, 106, 107 u. 108 und verwende zur Lösung die Herstellung der vierten, bez. dritten oder mittleren Proportionalen.

Aufgabe 145. Ein Dreieck mit Beibehaltung eines Winkels zu verwandeln in

1. ein gleichschenkliges, in welchem der Winkel an der Spitze liegt;
2. ein gleichschenkliges, in welchem der Winkel an der Grundlinie liegt;
3. in ein Dreieck, in welchem ein zweiter Winkel gleich  $\varphi$  ist;
4. in ein Dreieck, in welchem die einschließenden Seiten ein gegebenes Verhältnis haben.

Auflösung. Die erste Forderung (verwandeln!) verlangt die Gleichheit der Dreiecke  $AXY$  und  $ABC$ . Da die Dreiecke aber das Stück  $ABY$  gemeinsam haben, so müssen die Reststücke  $BYX$  und  $BYC$  einander gleich sein, und daraus folgt, daß  $CX \parallel BY$ , also  $AB : AX = AY : AC$  sein muß. Die zweite Forderung bestimmt die Gestalt des Dreiecks und damit die Richtung von  $XY$ . Stellt man aber diese Richtung bei einem bekannten Punkte, etwa  $B$ , dadurch her, daß man  $BD \parallel XY$  zieht, so kann zunächst der Punkt  $D$  als bekannt gelten und dann die zweite Forderung die Form annehmen:  $AB : AX$



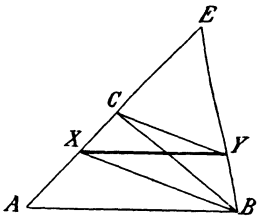
=  $AD:AY$ . Beide Forderungen vereint liefern daher für den Punkt  $Y$  auf  $AC$  die Bestimmungsgleichung  $AD:AY = AY:AC$ , welche zur Herstellung des Punktes  $Y$  anleitet. (Aufg. 135.) Ist aber  $Y$  gefunden, so schneidet die durch  $Y$  zu  $BD$  gezogene Parallele  $AB$  in dem gesuchten Punkte  $X$ .

**Aufgabe 146.** Ein gegebenes Dreieck in ein gleichseitiges zu verwandeln.

**Auflösung.** Durch Verwandlung des Dreiecks in ein anderes, dessen Winkel bei  $A$   $60^\circ$  beträgt, wird die Aufgabe auf die vorhergehende (1. oder 2.) zurückgeführt.

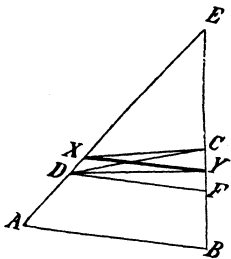
**Aufgabe 147.** Ein gegebenes Dreieck mit Beibehaltung eines Winkels und einer anliegenden Seite in ein Trapez zu verwandeln, in welchem die Seite eine der Grundlinien ist und der zweite an ihr liegende Winkel eine gegebene Größe hat.

**Auflösung.** Die verlangte Gleichheit der Figuren liefert die Bestimmung  $BX \parallel CY$ , oder wenn  $E$  der Schnittpunkt der Seite  $AC$  mit dem zweiten Schenkel des in  $B$  angelegten Winkels  $\varphi$  ist,  $EC:EX = EY:EB$ . Die zweite Forderung (Trapez!)  $XY \parallel AB$  führt zu der Proportion  $EY:EB = EX:EA$ , und folglich im Verein mit der ersten zu der Bestimmungsgleichung  $EC:EX = EX:EA$ .



**Aufgabe 148.** Ein gegebenes Viereck mit Beibehaltung einer Seite und der beiden anliegenden Winkel in ein Trapez zu verwandeln.

**Auflösung.** Bleiben  $AB$ ,  $\sphericalangle A$  und  $\sphericalangle B$  unverändert, so liefert die erste Bestimmung  $CX \parallel DY$ , oder wenn  $E$  der Schnittpunkt der Seiten  $AD$  und  $BC$  ist,  $EC:EY = EX:ED$ . Die Seite  $XY$  soll ferner parallel zu  $AB$  sein, also auch (um das Verhältnis  $EX:ED$  noch einmal herzustellen) zu der Parallelen, welche durch  $D$  zu  $AB$  gezogen werden kann. Trifft dieselbe  $BC$  in  $F$ , so führt die zweite Forderung zu der Proportion  $EX:ED = EY:EF$  und in Verbindung mit der ersten zu der Bestimmungsgleichung  $EC:EY = EY:EF$ , deren Ausführung den Punkt  $Y$  liefert.



**Aufgabe 149.** Ein Parallelogramm in ein anderes zu verwandeln, das einem gegebenen Parallelogramm ähnlich ist.

**Auflösung.** Von den drei Bestimmungen der Aufgabe ist diejenige, die sich auf die Winkel bezieht, leicht durchführbar, und die beiden anderen (Inhaltsgleichheit und Proportionalität der Seiten) leiten auf die Aufgabe 145, 4. zurück.

**Aufgabe 150.** Ein gegebenes Vieleck in ein anderes zu verwandeln, das einem zweiten gegebenen Vieleck ähnlich ist.

**Auflösung.** Es sei  $P$  das erste Vieleck und  $P'$  das zweite. Da die Winkel des letzteren und die Verhältnisse entsprechender Seiten bei dem ersten



hergestellt werden sollen, so ist die Verwandlung durch Anlegen bekannter Winkel und Zeichnung von vierten Proportionalen zu drei gegebenen Strecken durchführbar, sobald man die Größe  $x$  der Seite kennt, die dem ersten Viereck angehört und der Seite  $a$  des zweiten entspricht. Für diese Seite  $x$  besteht aber die Bestimmung  $P : P' = x^2 : a^2$  (Folgerung 3, Satz 233), und da man  $P$  und  $P'$  in Quadrate verwandeln kann, deren Seiten  $p$  und  $p'$  als bekannt gelten dürfen, so geht dieselbe über in  $p^2 : p'^2 = x^2 : a^2$ , welche  $x$  als vierte Proportionale zu den Strecken  $p'$ ,  $p$  und  $a$  darstellt.

### b) Teilung von Strecken.

Aufgabe 151. Eine gegebene Strecke so zu teilen, daß das Rechteck aus den Abschnitten gleich einem gegebenen Quadrat ist.

Auflösung. Die Bestimmung für den Teilpunkt  $X$ ,  $XA \cdot XB = l^2$  oder  $XA : l = l : XB$ , erinnert bei der inneren Teilung an die Folgerung 2, Satz 197, nach welcher  $AB$  die Hypotenuse und  $l$  die zu ihr gehörige Höhe eines rechtwinkl. Dreiecks sein muß. Die Zeichnung liefert zwei Lagen des Punktes  $X$ , bei denen die Strecken  $AX$  und  $BX$  ihre Größen vertauschen. Bei der äußeren Teilung, die für  $l > \frac{1}{2} AB$  eintreten muß, ist diese Deutung der Gleichung  $XA : l = l : XB$  nicht zulässig. Sieht man aber  $XA$  und  $XB$  als Sekantenabschnitte an, so ist  $l$  die Länge der von  $X$  an den Kreis, der  $AB$  als Sehne hat, gelegten Tangente. Man kann daher die Größe des Abschnitts  $BX$  bestimmen, wenn man irgend einen Kreis durch  $A$  und  $B$  legt, an denselben eine Tangente von der Länge  $l$  zieht und durch ihren Endpunkt eine Sekante zeichnet, deren zugehörige Sehne gleich  $AB$  ist. Die Zeichnung wird am einfachsten, wenn  $AB$  zum Durchmesser genommen wird.

Aufgabe 152. Eine gegebene Strecke so zu teilen, daß die Summe der Quadrate der beiden Abschnitte gleich einem gegebenen Quadrat ist.

Auflösung. Die Bestimmung für den Teilpunkt  $X$ ,  $XA^2 + XB^2 = l^2$ , läßt  $AX$  und  $BX$  als Katheten eines rechtwinkl. Dreiecks erscheinen, dessen Hypotenuse gleich  $l$  ist. Wird daher in  $X$  das Lot  $XZ$  von der Länge  $BX$  errichtet, so liegt  $Z$  auf dem Kreise  $A, l$  und dem zweiten Schenkel des in  $B$  an  $BA$  bei der inneren und an die Verlängerung von  $AB$  bei der äußeren Teilung angelegten Winkels  $45^\circ$ . (Das Dreieck  $ZXB$  ist rechtwinkl. und gleichschenkl.)

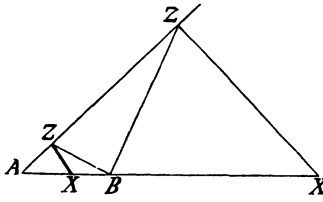
Aufgabe 153. Eine gegebene Strecke so zu teilen, daß die Differenz aus den Quadraten der beiden Abschnitte gleich einem gegebenen Quadrat ist.

Auflösung. Die Bestimmung für den Teilpunkt  $X$ ,  $XA^2 - XB^2 = l^2$ , weist zwar wieder auf den Pythagoreischen Lehrsatz hin, allein die weitere Verfolgung dieses Gedankens führt nicht zum Ziele. Da aber  $XA^2 - XB^2 = (XA + XB)(XA - XB)$  und bei der inneren Teilung  $XA + XB = AB$ , bei der äußeren dagegen  $XA - XB = AB$  ist, so führt die Bestimmung für  $X$  zu der Gleichung  $AB \cdot (XA \mp XB) = l^2$  oder  $AB : l = l : (XA \mp AB)$ , nach welcher  $XA \mp AB$  gezeichnet werden kann. Kennt man aber diese Strecke,

so ergibt sich  $X$  durch Herstellung des arithmetischen Mittels aus derselben und der gegebenen Strecke  $AB$ .

**Aufgabe 154.** Eine gegebene Strecke so zu teilen, daß das Quadrat des einen Abschnitts doppelt so groß ist wie das Quadrat des anderen.

**Auflösung.** Die Bestimmung für den Teilpunkt  $X$ ,  $XA^2 = 2 \cdot XB^2$  oder  $XA^2 = XB^2 + XB^2$ , läßt  $XA$  als Hypotenuse eines rechtwinkl. gleichschenkl. Dreiecks erscheinen, dessen Katheten gleich  $XB$  sind. Wird dies Dreieck gezeichnet, indem man in  $A$  an  $AX$  und in  $X$  an  $XA$  den Winkel  $45^\circ$  anlegt, und wird seine dritte Ecke  $Z$  mit  $B$  verbunden, so erweist sich  $BZ$  als Grundlinie eines gleichschenkl. Dreiecks  $BXZ$ , dessen Winkel an der Spitze gleich  $135^\circ$  bei der inneren und gleich  $45^\circ$  bei der äußeren Teilung, dessen Winkel an der Grundlinie also gleich  $22\frac{1}{2}^\circ$ , bez. gleich  $67\frac{1}{2}^\circ$  ist.  $Z$  liegt daher



auf dem zweiten Schenkel des in  $A$  an  $AB$  angelegten Winkels  $45^\circ$  und auf dem zweiten Schenkel des in  $B$  an  $BA$  angelegten Winkels  $22\frac{1}{2}^\circ$ , bez.  $112\frac{1}{2}^\circ$ .

c) Teilung von Flächen.

**Aufgabe 155.** Ein gegebenes Dreieck durch eine Ecklinie nach einem gegebenen Verhältnis zu teilen.

Nach Folgerung 2, Lehrf. XXIV.

**Aufgabe 156.** Ein gegebenes Dreieck von einem auf einer Seite gegebenen Punkte aus nach einem gegebenen Verhältnis zu teilen.

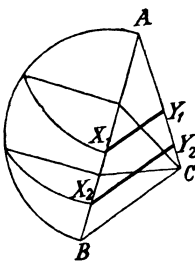
**Auflösung.** Liegt  $P$  auf  $AB$  und teilt die Ecklinie  $CD$  das Dreieck nach dem gegebenen Verhältnis (Aufgabe 155), so hat man das Dreieck  $ADC$  mit Beibehaltung des Winkels  $A$  so zu verwandeln, daß  $P$  eine seiner Ecken wird. (Aufgabe 106.)

**Aufgabe 157.** Ein gegebenes Dreieck durch eine Parallele zu einer gegebenen Geraden nach einem gegebenen Verhältnis zu teilen.

**Auflösung.** Teilt die Ecklinie  $CD$  das Dreieck  $ABC$  nach dem gegebenen Verhältnis (Aufgabe 155), so hat man das Dreieck  $ADC$  mit Beibehaltung des Winkels  $A$  so zu verwandeln, daß seine dritte Seite parallel zu der gegebenen Geraden  $g$ , daß also der zweite an  $AX$  liegende Winkel gleich dem Winkel zwischen  $g$  und  $AB$  wird. Zieht man daher durch die (bekannte) Ecke  $C$  die Parallele  $CE$  zu  $g$ , so erhält man für  $X$  (s. Aufgabe 145, 3) die Bestimmungsgleichung  $AD : AX = AX : AE$ .

**Aufgabe 158.** Ein gegebenes Dreieck durch Parallelen zu einer Seite in drei gleiche Teile zu teilen.

**Auflösung.** Sind  $X_1$  und  $X_2$  die auf  $AB$  liegenden Punkte der gesuchten Parallelen, so daß



$\triangle AX_1Y_1 = \frac{1}{3} \triangle ABC$  und  $\triangle AX_2Y_2 = \frac{2}{3} \triangle ABC$  ist, und beachtet man, daß (Parallelen!) die Dreiecke  $ABC$ ,  $AX_1Y_1$  und  $AX_2Y_2$  ähnlich sind, also die Proportionen  
 $\triangle AX_1Y_1 : \triangle ABC = AX_1^2 : AB^2$   
 und  $\triangle AX_2Y_2 : \triangle ABC = AX_2^2 : AB^2$   
 bestehen, so gehen die beiden Bestimmungen über in  
 $AX_1^2 = \frac{1}{3} AB^2$  und  $AX_2^2 = \frac{2}{3} AB^2$   
 oder  $AX_1 = AB \cdot \frac{1}{\sqrt{3}}$  und  $AX_2 = AB \cdot \frac{\sqrt{2}}{\sqrt{3}}$ .

Die Ausführung derselben wird am einfachsten im Anschluß an Folgerung 1, Satz 197 vollzogen.

**Aufgabe 159.** Ein gegebenes Dreieck durch eine Parallele zu einer Seite stetig zu teilen.

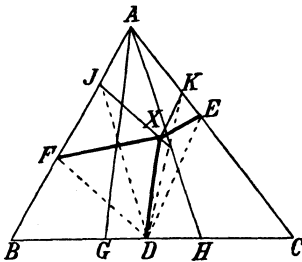
**Auflösung.** Teilt die Ecklinie  $CD$  das Dreieck  $ABC$  stetig, so daß  $\triangle ABC : \triangle ACD = \triangle ACD : \triangle BCD$  ist (Aufg. 155 u. Aufg. 136), so hat man das Dreieck  $ACD$  mit Beibehaltung des Winkels  $A$  in ein anderes zu verwandeln, dessen dritte Seite parallel zu  $BC$  ist, und erhält daher (s. Aufg. 145, 3) für  $X$  die Bestimmungsgleichung  $AD : AX = AX : AB$ .

**Aufgabe 160.** Ein gegebenes Trapez nach einem gegebenen Verhältnis so zu teilen, daß die Teilungslinie

1. durch eine bestimmte Ecke geht; (Satz 139 und Aufg. 155);
2. senkrecht auf den Grundlinien steht;
3. parallel zu einem Schenkel ist;
4. parallel zu einer Diagonale ist; (Aufg. 145, 3);
5. parallel zu den Grundlinien ist; (Aufg. 106 und Aufg. 147).

**Aufgabe 161.** Innerhalb eines Dreiecks einen Punkt zu bestimmen, dessen Verbindungslinien mit drei auf den Seiten gegebenen Punkten das Dreieck in drei gleiche Teile teilen.

**Auflösung.** Ist  $X$  der gesuchte Punkt und teilen die Ecklinien  $AG$  und  $AH$  das Dreieck in drei gleiche Teile, so soll zunächst  $XFBD = \triangle ABG$

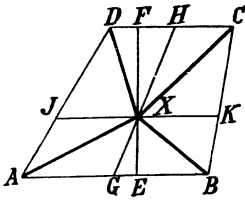


sein. Daraus kann nur dann eine Bestimmung für die Lage von  $X$  abgeleitet werden, wenn das Dreieck  $ABG$  mit Benutzung des Punktes  $D$  (zweite Forderung!) in das Dreieck  $BDJ$  verwandelt wird. Geschieht dies, so ist  $\triangle DFJ = \triangle DFX$ , also  $JX \parallel DF$ . Ferner soll  $XDCE = \triangle AHC$  sein. Verwandelt man aber auch das Dreieck  $AHC$  mit Benutzung des Punktes  $D$  in das Dreieck  $CDK$ , so folgt hieraus, daß  $\triangle DEX = \triangle DEK$ , also  $KX \parallel DE$  sein muß.

Die Bestimmungen der Aufgabe liefern daher für  $X$  zwei herstellbare geometr. Orter.

**Aufgabe 162.** Innerhalb eines Trapezes einen Punkt zu bestimmen, dessen Verbindungslinien mit den Ecken das Trapez in 4 Dreiecke zerlegen, von denen je zwei gegenüberliegende gleich sind.

**Auflösung.** Beginnt man, um die Eigenschaft des Trapezes zu benutzen, mit der Forderung  $\triangle XAB = \triangle XCD$  und zieht mit dem Lote



$EXF$  die Höhen der beiden Dreiecke, so folgt aus dieser Forderung:

$$AB \cdot XE = CD \cdot XF$$

oder

$$AB : CD = XF : XE.$$

Nun ist  $XE + XF = EF$ . Bildet man daher die Proportion  $(AB + CD) : (XE + XF) = AB : XF$ , so erweist sich  $XF$  als vierte Proportionale zu  $(AB + CD)$ ,  $EF$  und  $AB$ . Die durch  $X$  zu  $AB$  gehende Parallele  $JK$  ist

daher durch die erste Forderung bestimmt.  $JK$  teilt aber  $AD$  und  $BC$  so, daß  $AJ : JD = BK : KC$  ist. Vereinigt man daher die zweite Forderung,  $\triangle XAD = \triangle XBC$ , mit der ersten, so zeigt sich, daß (Folgerung 2, Lehrf. XXIV) das Dreieck  $XAJ$  gleich dem Dreieck  $XBK$ , also nach Addition der beiden gleichen Dreiecke  $XGA$  und  $XGB$  ( $AG = BG$ !) das Trapez  $AGXJ$  gleich dem Trapez  $BGXX$  sein muß. Hierzu ist bei der vorhandenen Gleichheit der Höhen erforderlich, daß  $AG + JX = BG + XK$  und somit  $JX = XK$  ist (Satz 139). Nun wird aber die Parallele  $JK$  durch die Verbindungslinie  $GH$  der Grundlinienmitten halbiert, und demnach muß  $X$  auf  $GH$  liegen. Damit sind für  $X$  zwei geometr. Örter bestimmt.

## VII. Abschnitt.

### Kreisberechnung.

#### 93. Berechnung eines Kreisbogens.

Da die Maßzahlen für einen Mittelpunktswinkel und den zu ihm gehörigen Kreisbogen dieselben sind, so ist der zu dem Mittelpunktswinkel  $\varphi^\circ$  gehörige Bogen gleich  $\varphi$  Bogengrad. Der Bogengrad ist aber der 360. Teil des Kreises, auf dem er liegt; wird daher die (vorläufig noch unbekannt) Länge eines Kreises mit  $k$  und der zum Mittelpunktswinkel  $\varphi^\circ$  gehörige Bogen mit  $\text{arc. } \varphi$  (arcus = Bogen!) bezeichnet, so folgt hieraus für zwei Kreise mit den Längen  $k$  und  $k'$

$$\text{arc. } \varphi = \frac{k}{360} \varphi \text{ und } \text{arc}' . \varphi = \frac{k'}{360} \varphi,$$

und somit verhalten sich die beiden Bogen wie  $k$  zu  $k'$ .

Da aber  $k : k' = r : r'$  ist, so ergibt sich:

**Satz 238.** Die zu gleichen Mittelpunktswinkeln zweier Kreise gehörigen Bogen verhalten sich wie die Halbmesser der beiden Kreise.

Wird nun die Größe des Kreises, der die Längeneinheit zum Halbmesser hat, durch die Zahl  $2\pi$  bezeichnet, so folgt aus  $k : k' = r : r'$  die Proportion  $k : 2\pi = r : 1$ ;  
es ist daher  $k = 2\pi r$

$$\text{und } \text{arc } \varphi = \frac{2\pi r}{360} \cdot \varphi = \pi r \cdot \frac{\varphi}{180}.$$

Die Größe eines Kreisbogens, der zu dem Mittelpunktswinkel  $\varphi$  gehört, ist also berechenbar, sobald man die Zahl  $\pi$  kennt.

#### 94. Berechnung eines Kreisabschnitts und Kreisabschnitts.

**Erklärung.** Zwei Radien teilen die Kreisfläche in zwei Abschnitte, welche Kreisabschnitte (Sektoren) genannt werden, und eine Sehne zerlegt die Kreisfläche in zwei Teile, welche Kreisabschnitte (Segmente) heißen.

**Zusatz 1.** Zu jedem Mittelpunktswinkel gehört nur ein Kreisabschnitt und nur ein Kreisabschnitt.

**Zusatz 2.** Zu jedem Kreisabschnitt oder Kreisabschnitt gehört nur ein Mittelpunktswinkel.

**Zusatz 3.** Zu jedem Kreisabschnitt gehört nur ein Kreisabschnitt, und umgekehrt.

**Zusatz 4.** Die Differenz aus einem Kreisabschnitt und dem zugehörigen Kreisabschnitt ist das gleichschenkl. Dreieck, das von der zugehörigen Sehne und den Begrenzungsradien gebildet wird.

Die Kreisabschnitte eines Kreises, die je einem Bogengrad entsprechen, sind unter einander kongruent, also gleichgroß und gleich dem 360. Teile der Kreisfläche. Wird daher die letztere mit  $K$  bezeichnet, so ergibt sich hieraus für den zu dem Mittelpunktswinkel  $\varphi$  gehörigen Kreisabschnitt  $S_\varphi$ :

$$S_\varphi = \frac{K}{360} \cdot \varphi = K \cdot \frac{\varphi}{360},$$

und bei einem zweiten Kreise mit der Fläche  $K'$ :

$$S'_\varphi = K' \cdot \frac{\varphi}{360},$$

so daß  $S_\varphi : S'_\varphi = K : K'$  ist. Da aber  $K : K' = r^2 = r'^2$ , so folgt:

**Satz 239.** Die zu gleichen Mittelpunktswinkeln zweier Kreise gehörigen Kreisabschnitte verhalten sich wie die Quadrate der Halbmesser der beiden Kreise.

**Zusatz.** Der Satz 239 gilt auch für Kreisabschnitte.

Nun ist der Inhalt  $K$  einer Kreisfläche gleich dem halben Produkte aus ihrem Umfang und dem Halbmesser (Satz 141) und somit

$$K = \frac{1}{2} kr = \pi r^2;$$

es ist daher  $S_\varphi = \pi r^2 \cdot \frac{\varphi}{360}$ .

Die Größe des zugehörigen Kreisabschnitts ist berechenbar, wenn der Inhalt des zugehörigen gleichschenkl. Dreiecks berechnet werden kann. Ist der letztere gleich  $J$ , so ist der Kreisabschnitt gleich  $S_\varphi - J$ .

## 95. Berechnung von Sehnen eines Kreises mit dem Halbmesser 1.

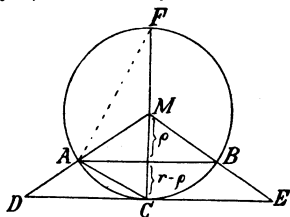
a) Seiten der ein- und umgeschriebenen regelmäßigen Vielecke.

Aus der Ähnlichkeit der beiden zu gleichen Mittelpunktswinkeln zweier Kreise gehörigen gleichschenkl. Dreiecke folgt

**Satz 240.** Die zu gleichen Mittelpunktswinkeln zweier Kreise gehörigen Sehnen verhalten sich wie die beiden Halbmesser.

Die Länge einer Sehne kann also berechnet werden, sobald man die Größe der Sehne kennt, die ihr in dem Kreise mit dem Halbmesser 1 entspricht.

Wird zu einer Sehne  $AB$  der Abstand  $\rho$  vom Mittelpunkte gezeichnet und durch den Schnittpunkt  $C$  des Lotes mit dem Kreise die Tangente gezogen, welche von den Begrenzungsradien in  $D$  und  $E$  getroffen wird, so entstehen zwei ähnliche Dreiecke  $MAB$  und  $MDE$ . Daraus folgt für das Verhältnis des Tangentenabschnitts  $b$  ( $DE$ ) zu der Sehne  $a$  ( $AB$ ):



$$b : a = r : \rho,$$

$$\text{also } b = a \cdot \frac{r}{\rho}.$$

Nun ist aber  $\rho = \sqrt{r^2 - \frac{1}{4} a^2}$ , und demnach ergibt sich  $b = \frac{a \cdot r}{\sqrt{r^2 - \frac{1}{4} a^2}}$ .

Zieht man ferner  $AC$  und beachtet, daß nach Folgerung 3, Satz 197 die Sehne  $AC$  die mittlere Proportionale zu dem Durchmesser  $CF$  und ihrer Projektion  $r - \rho$  auf denselben ist, so erhält man für  $AC$  ( $a'$ ):

$$a' = \sqrt{2r(r - \rho)} = \sqrt{2r(r - \sqrt{r^2 - \frac{1}{4} a^2})}.$$

Liegt die Sehne  $AB$  in einem Kreise mit dem Halbmesser 1 und werden zur schärferen Unterscheidung  $a$  mit  $a_n$ ,  $b$  mit  $b_n$  und dann  $a'$  mit  $a_{2n}$  bezeichnet, so ergeben sich die Formeln:

$$1. b_n = \frac{a_n}{\sqrt{1 - \frac{1}{4} a_n^2}},$$

$$2. a_{2n} = \sqrt{2(1 - \sqrt{1 - \frac{1}{4} a_n^2})}.$$

Diese ermöglichen die Berechnung der Seiten des regelmäßigen umgeschriebenen  $n$ -Ecks und eingeschriebenen  $2n$ -Ecks, sobald die Seite des regelmäßigen eingeschriebenen  $n$ -Ecks bekannt ist.

b) Die Seiten der regelmäßigen  $n$ -Ecke, wo  $n = 2^\alpha$  und  $\alpha$  eine ganze Zahl und  $\alpha \geq 2$  ist.

1. In einem regelmäßigen eingeschriebenen 4-Eck (Quadrat) bildet  $\rho_4$  mit dem Radius und der Seitenhälfte ein gleichschenkl. rechtwinkl. Dreieck, und daher ist

$$1^2 (r^2) = \rho_4^2 + \left(\frac{a_4}{2}\right)^2 = 2 \cdot \left(\frac{a_4}{2}\right)^2 = \frac{a_4^2}{2} \text{ und somit } a_4 = \sqrt{2}. \text{ Die}$$

Formeln 1 und 2 liefern dann  $b_4 = 2$  und  $a_8 = \sqrt{2 - \sqrt{2}}$ .

2. Für das regelmäßige 8-Eck ergeben sich die Werte:

$$a_8 = \sqrt{2 - \sqrt{2}}, \quad b_8 = 2(\sqrt{2} - 1), \quad a_{16} = \sqrt{2 - \sqrt{2 + \sqrt{2}}}.$$

3. Für das regelmäßige 16-Eck folgt weiter:

$$a_{16} = \sqrt{2 - \sqrt{2 + \sqrt{2}}}, \quad b_{16} = 2(\sqrt{4 + 2\sqrt{2}} - \sqrt{2} - 1),$$

$$a_{32} = \sqrt{2 - \sqrt{2 + \sqrt{2 + \sqrt{2}}}}.$$

c) Die  $n$ -Ecke, wo  $n = 2^\alpha \cdot 3$  und  $\alpha$  gleich 0 oder eine ganze Zahl ist.

1. Bei einem regelmäßigen Dreieck ist die Höhe  $h$  gleich  $\sqrt{a_3^2 - \frac{1}{4}a_3^2}$  oder  $\frac{\alpha_3}{2} \sqrt{3}$ , und da  $h = r + \varrho_3 = 1 + \varrho_3$  und  $\varrho_3$ , der untere Abschnitt der Mittellinie, die hier mit der Höhe zusammenfällt, gleich  $\frac{1}{2}r$ , also gleich  $\frac{1}{2}$  ist, so folgt  $\frac{\alpha_3}{2} = \frac{\alpha_3}{2} \cdot \sqrt{3}$  und somit  $a_3 = \sqrt{3}$ . Die Formeln 1 und 2 liefern nun  $b_3 = 2 \sqrt{3}$  und  $a_6 = 1$ .

Anmerkung. Diese Größe für  $a_6$  ergibt sich auch daraus, daß der zu  $a_6$  gehörige Mittelpunktswinkel  $60^\circ$  beträgt.

2. Für die regelmäßigen 6-Ecke ergibt sich demnach:

$$a_6 = 1, b_6 = \frac{2}{3} \sqrt{3}, a_{12} = \sqrt{2 - \sqrt{3}}.$$

3. Für die regelmäßigen 12-Ecke folgt weiter:

$$a_{12} = \sqrt{2 - \sqrt{3}}, b_{12} = 2(2 - \sqrt{3}), a_{24} = \sqrt{2 - \sqrt{2 + \sqrt{3}}}.$$

d) Die Seiten der regelmäßigen 10-Ecke und 5-Ecke.

1. Die Seite  $a_{10}$  ist nach Satz 213 der größere Abschnitt des stetig geteilten Halbmessers, und demnach besteht die Gleichung

$$1 : a_{10} = a_{10} : 1 - a_{10},$$

aus der sich

$$a_{10} = \frac{1}{2}(-1 + \sqrt{5})$$

ergibt. Die Formeln 1 und 2 liefern dann

$$b_{10} = \frac{2}{5} \sqrt{25 - 10\sqrt{5}}, a_{20} = \frac{1}{2} \sqrt{8 - 2\sqrt{10 + 2\sqrt{5}}}.$$

2. Aus der nach Formel 2 bestehenden Gleichung

$$a_{10} = \sqrt{2(1 - \sqrt{1 - \frac{1}{4}a_5^2})}$$

folgt zunächst:

$$a_5 = \sqrt{4a_{10}^2 - a_{10}^4}.$$

Ersetzt man aber  $a_{10}$  durch  $\frac{1}{2}(-1 + \sqrt{5})$ , so ergibt sich:

$$a_5 = \frac{1}{2} \sqrt{10 - 2\sqrt{5}}$$

und die Formel 1 liefert dann  $b_5 = 2 \sqrt{5 - 2\sqrt{5}}$ .

Anmerkung 1. Ist der Halbmesser nicht 1, sondern  $r$ , so sind alle diese Ausdrücke mit  $r$  zu multiplizieren. (Satz 240.)

Anmerkung 2. Die Berechnung der Seiten für das 15-Eck (Ptolemäischer Satz!), 30-Eck u. s. w. liefert Ausdrücke, die sich wenig für eine Ausrechnung eignen. Man wendet deshalb besser wiederholt die Formeln 1 und 2 an und benutzt die Logarithmentafel schon zur Bestimmung von  $a_{15}$ .

Anmerkung 3. Da auch die Ausdrücke für  $a_9, b_9, a_{18}$  u. s. w.,  $a_{12}, b_{12}, a_{24}$  u. s. w. sich wenig zu einer logarithmischen Ausführung eignen, so empfiehlt es sich, das folgende Verfahren einzuschlagen: Aus der bekannten Seite  $a_n$  berechnet man  $\varrho_n = \sqrt{1 - \frac{1}{4}a_n^2} = \sqrt{\left(1 + \frac{a_n}{2}\right)\left(1 - \frac{a_n}{2}\right)}$  und



benutzt den Wert von  $\rho_n$ , um  $b_n = \frac{a_n}{\rho^n}$  und  $a_{2n} = \sqrt{2(1 - \rho^n)}$  auf logarithmischem Wege zu bestimmen. Alsdann berechnet man  $\rho_{2n} = \sqrt{1 + \frac{a_{2n}}{2}} \left(1 - \frac{a_{2n}}{2}\right)$  und mit Benutzung der hieraus sich ergebenden Zahl die Werte von  $b_{2n}$  und  $a_{4n}$ , u. s. w.

### 96. Berechnung der Zahl $\pi$ .

Nach Satz 121 liegt der Wert der Zahl  $2\pi$  (die Größe des Kreises mit dem Halbmesser 1) stets zwischen den Seitensummen eines ein- und umgeschriebenen regelmäßigen Vielecks und weicht von beiden nach Satz 119 und Satz 120 um so weniger ab, je größer die Anzahl ihrer Ecken wird. Geht man daher von einer bekannten Seite eines regelmäßigen eingeschriebenen Vielecks aus, berechnet die Seite des umgeschriebenen Vielecks mit derselben Seitenzahl und bildet bei beiden Vielecken die Seitensummen  $u_n$  und  $U_n$ , so liegt zunächst  $2\pi$  zwischen  $u_n$  und  $U_n$ . Wird dann  $a_{2n}$  und hieraus  $b_{2n}$  berechnet und werden wieder die Seitensummen  $u_{2n}$ , bez.  $U_{2n}$  gebildet, so liegt  $2\pi$  auch zwischen diesen Summen, aber näher bei  $u_{2n}$  und  $U_{2n}$  als bei  $u_n$  und  $U_n$ . Je größer daher durch fortgesetzte Verdoppelung der Seitenzahl die Anzahl der Ecken wird, um so weniger wird sich  $2\pi$  von jeder der beiden Seitensummen unterscheiden. Der Wert der irrationalen Zahl  $\pi$  kann demnach mit einem beliebigen Grade von Genauigkeit berechnet werden.

Geht man von  $a_6 = 1$  aus, so erhält man die folgenden Werte:

Für $n =$	wird $\frac{1}{2} u_n =$	und $\frac{1}{2} U_n =$
6	3	3,464 1016
12	3,105 8285	3,215 3903
24	3,132 6286	3,159 6599
48	3,139 3502	3,146 0862
96	3,141 0320	3,142 7146
192	3,141 4525	3,141 8731
384	3,141 5576	3,141 6628
768	3,141 5839	3,141 6102
1536	3,141 5909	3,141 5970

Somit ist nahezu  $\pi = 3,14159$ . Noch genauer ist der Wert  $\pi = 3,141 592 65$ , den  $\frac{u}{2}$  und  $\frac{U}{2}$  erreichen, wenn  $n = 98 304^*)$  wird. Für weniger genaue Rechnungen genügen die Werte  $\pi = \frac{22}{7}$  oder  $\pi = \frac{355}{113}$ .

Anmerkung. Nach Ludolph van Ceulen, der  $\pi$  auf 32 Stellen genau berechnet hat, wird  $\pi$  die Ludolph'sche Zahl genannt. Sie wurde zuerst von Archimedes genauer bestimmt. Mit den Hilfsmitteln der höheren Mathematik läßt sich auf weit kürzerem Wege eine Genauigkeit von mehreren hundert Stellen erzielen.

\*) Nach Heis, Planimetrie. 5. Aufl., S. 173.

## Anhang I.

### Zusammenstellung der Winke.

Wink 1. Um zu beweisen, daß eine Gerade senkrecht auf einer anderen steht, muß man zeigen, daß sie mit derselben rechte Winkel bildet, d. h. daß sie mit ihr gleiche Nebenwinkel herstellt.

Wink 2. Um zu beweisen, daß zwei Geraden parallel sind, muß man zeigen, daß sie mit einer dritten Geraden gleiche Gl. W. oder gleiche W. W. oder supplementare Erg. W. bilden.

Wink 3. Um zu beweisen, daß zwei Winkel  $\left\{ \begin{array}{l} \text{gleich} \\ \text{supplementar} \end{array} \right\}$  sind, kann man zu zeigen suchen, daß sie als  $\left\{ \begin{array}{l} \text{Gl. W. oder W. W.} \\ \text{Erg. W.} \end{array} \right\}$  an parallelen Geraden liegen.

Wink 4. Um zu beweisen, daß ein Winkel  $\alpha$  größer ist als ein zweiter Winkel  $\beta$ , kann man zu zeigen suchen, daß  $\alpha$  oder ein ihm gleicher Winkel Außenwinkel eines Dreiecks ist, in welchem ihm  $\beta$  gegenüber liegt.

Wink 5. Um die Gleichheit zweier Winkel zu beweisen, kann man zu zeigen suchen, daß sie zwei Dreiecken angehören, in denen die Summen aus den beiden anderen Winkeln gleichgroß sind.

Wink 6. Um die Gleichheit zweier Winkel zu beweisen, kann man zu zeigen suchen, daß sie in kongruenten Dreiecken gleichen Seiten gegenüber liegen.

Wink 7. Um die Gleichheit zweier Seiten zu beweisen, kann man zu zeigen suchen, daß sie in kongruenten Dreiecken gleichen Winkeln gegenüber liegen.

Wink 8. Um zu beweisen, daß  $\left\{ \begin{array}{l} \text{ein Winkel} \\ \text{eine Seite} \end{array} \right\}$  größer ist als  $\left\{ \begin{array}{l} \text{ein} \\ \text{andere,} \end{array} \right\}$  kann man beide in ein Dreieck bringen und zu zeigen suchen, daß  $\left\{ \begin{array}{l} \text{er der größeren Seite} \\ \text{sie dem größeren Winkel} \end{array} \right\}$  gegenüber liegt.

Wink 9. Um die Gleichheit zweier Winkel zu beweisen, kann man zu zeigen suchen, daß sie als Umfangswinkel auf demselben oder gleichen Bogen eines Kreises oder auf gleichen Bogen zweier Kreise mit demselben Halbmesser stehen.

Wink 10. Um die Gleichheit zweier nicht-kongruenten Figuren nachzuweisen, kann man zu zeigen suchen, daß sie die Summen oder Differenzen aus kongruenten (gleichen) Stücken sind.

Wink 11. Um zu beweisen, daß vier Strecken proportional sind, kann man sie als entsprechende Abschnitte auf zwei sich schneidenden Geraden vom Schnittpunkte aus abtragen und zu zeigen suchen, daß die Verbindungslinien der entsprechenden Endpunkte parallel sind.

Wink 12. Um zu beweisen, daß zwei Winkel gleich oder vier Strecken proportional sind, kann man zu zeigen suchen, daß sie als entsprechende Stücke in zwei ähnlichen Dreiecken liegen.

## Anhang II.

### Anleitung zur Auflösung von Konstruktionsaufgaben.

Bei einer beliebigen Konstruktionsaufgabe müssen zuerst aus ihrem Wortlaut alle die Gedanken (Forderungen!) herausgelesen werden, die unbedingt benutzt sein müssen, wenn die Lösung gefunden sein soll. Die Bestimmungen einer Aufgabe können aber zweierlei Art sein:

1. Bei der ersten sind gewisse Stücke, wie Punkte, Strecken, Kreise u. s. w. der Lage nach und andere, wie Seiten, besondere Linien, Winkel, Inhalt, der Größe nach gegeben. Alle diese Angaben heißen **Stückbestimmungen**.

2. Zu der zweiten Art sind die Angaben zu zählen:  
 ein Punkt oder eine Seite soll auf einer gegebenen Geraden liegen,  
 eine Gerade soll auf einer gegebenen Geraden senkrecht stehen,  
 eine Gerade soll zu einer gegebenen Geraden parallel sein,  
 eine gegebene Strecke oder ein gegebener Winkel soll halbiert werden,  
 eine Figur soll ein Parallelogramm, Trapez, Kreis u. s. w. sein,  
 ein gegebener Kreis soll berührt werden,  
 das Verhältnis zweier Strecken (Seiten) oder Flächen soll eine gegebene Größe haben  
 u. s. w. Alle diese Forderungen mögen als **Wortbestimmungen** bezeichnet werden.

Sind die Angaben der Aufgabe nach diesen Gesichtspunkten geordnet, so tritt die Untersuchung ein, auf welchem Wege die gestellten Forderungen befriedigt werden können, wobei die Vorschrift beachtet werden muß, daß bei jeder neuen Forderung der Zusammenhang mit den vorhergehenden nicht außer acht gelassen werden darf. Der Einteilung der Angaben entsprechend ist die Untersuchung aber zunächst wieder in zwei Teile zu zerlegen, von denen der erste sich mit den **Stückbestimmungen (I)** und der andere sich mit den **Wortbestimmungen (II)** beschäftigt; den Zusammenhang zwischen diesen beiden und damit die Herstellung der Figur liefert jedoch erst eine dritte Untersuchung (III), welche einen verbindenden Gedanken zwischen den Gedanken bei I und

II aufsucht. Wenn es nun auch nicht selten vorkommt, daß die Verbindung auf verschiedenen Wegen möglich ist, so müssen doch stets auf dem eingeschlagenen Wege alle in I und II enthaltenen Gedanken berührt werden, ehe die Auflösung gefunden sein kann.

I. Stellt man bei einer beliebigen Figur derselben Art, wie sie gezeichnet werden soll, alle den gegebenen Stücken entsprechenden Stücke her und vergegenwärtigt sich ihre Bedeutung in dieser Figur, so läßt die Erinnerung an bekannte Sätze die wesentlichen Beziehungen erkennen, die bei der Ausführung der Aufgabe zu benutzen sind, und zeigt zugleich (geometrische Orter!), unter welchen Bedingungen die einzelnen Stückbestimmungen in der herzustellenden Figur erfüllt werden können.

II. Die Untersuchung II ruft dann die Erinnerung an die Erklärungen und Sätze wach, in denen die angegebenen Wortbestimmungen als Bestandteile vorkommen, und läßt dadurch die Bedingungen erkennen, die auf Grund der Wortbestimmungen bei der Lösung unbedingt erfüllt werden müssen.

III. Sind auf diese Weise alle Bedingungen bestimmt, so ermittelt die Untersuchung III unter wesentlicher Unterstützung durch die Anschauung einen verbindenden Gedanken zwischen denselben, indem sie die Forderungen mit einander zu vereinigen sucht, und zeigt dann schließlich einen Weg, der zu der Ausführung der Aufgabe führt. Bei der Darstellung dieses Weges müssen alle durch I und II ermittelten Bedingungen berücksichtigt werden, wenn auch ihre Reihenfolge zuweilen eine Abänderung erfährt.



## Verichtigungen.

---

Auf Seite 43 ist in der Fig. zu Rz. II der Buchstabe  $B$  bei  $E$  zu entfernen und  $AC$  an  $DF$  zu setzen.

Auf Seite 56 fehlen hinter Rz. III die Zusätze:

Zusatz 1. Stimmen zwei Dreiecke überein in der Größe zweier Seiten und eines entsprechenden Gegenwinkels derselben, und sind die beiden anderen Gegenwinkel in demselben Sinne von einem Rechten verschieden, so sind die Dreiecke kongruent.

Zusatz 2. Stimmen zwei Dreiecke überein in der Größe zweier Seiten und eines entsprechenden Gegenwinkels derselben, und sind die beiden anderen Gegenwinkel ungleich, so beträgt die Summe der letzteren  $2 R$ .

Auf Seite 67 fehlen in der ersten Fig. die Linien  $OA$ ,  $OB$ ,  $OC$  und  $OD$ .

Auf Seite 132 fehlen in der Fig. die Linien  $EF$ .

Auf Seite 135 fehlt in der 3. Fig. der Buchstabe  $C$  am Endpunkte der Strecke  $b$ .

Auf Seite 151 fehlt in der Figur die Linie  $DB$ .

Auf Seite 177 fehlt in der Fig. die Parallele  $G$  zu  $CE$ .

---